




**Геометрияда
тапсырмаларды
орындау –
ол ойлаудың, есте
сақтаудың жақсы
нәтиже беретін
мидың жаттығуы**



Сабақтың тақырыбы:



*Тең бүйірлі
үшбұрыш
тақырыбына
жаттығу жұмысы.*

Сабақ жоспары:

1. Ұйымдастыру кезеңі
2. «Менің Азиадам» олимпиада алауын жағу. (үй жұмысын тексеру)
- 3.«Сноубординг» жарысы.
- 4.«Бобслей» жарысы
- 5.«Фристайл» жарысы. (Сабақты бекіту);
- 6.Сабақты қорытындылау.

**«Менің Азиадам» олимпиада
алауын жағу. (үй жұмысын
тексеру)**

- 1. Үшбұрыштар теңдігінің I белгісі**
- 2. Үшбұрыштар теңдігінің II белгісі**
- 3. Үшбұрыштар теңдігінің III белгісі**



080211-1

«Сноубординг» жарысы.



Сноубординг – ағылшын сөзі қар мен тақтай деген мағынаны білдіреді. Бұл спорттық жарыс түрі тау шаңғысымен жылдамдықпен төмен сырғанау және кедергі акробатикалық қимылдар жасау арқылы сырғанау болып табылады. Бұл олимпиада ойыны 1998 жылдан бері өткізіліп келеді. Оның екі түрі бар : әйелдер мен ерлер арасындағы жарыс.

	Теорема 1	Кері теорема 3	Теорема 2
Берілгені (шарты)	$\Delta ABC;$ $AC = BC$	ΔABC $\angle B = \angle C$	$\Delta ABC;$ $AC = BC,$ СД биссектриса
Дәлелдеу керек	$\angle B = \angle C$	$AC = BC$	СД-медиана, биіктік

• «Бобслей» жарысы



Бобслей – қысқы олимпиадалық ойын түрі. Ол таудан төмен қарай мұзды жолмен шанамен сырғанау болып табылады. Бобслей ойыны Швейцарияда шыққан. 1888 жылы ағылшын турісі Уилсон Смит екі тақтайдан шана жасаған. Шанамен 5-6 адам сырғанайтын болған. Бұл ойын Австрияда 1908 жылдан, Германияда 1910 жылдан бері орындалып келеді.



1 топ

2 топ

3 топ

№11,14

№12,18

№13,17

«Фристайл» жарысы.



Фристайл – ағылшын тілінен аударғанда ерікті қимыл түрі деген мағынаны береді. Ол тау шаңғысы жылдамдықпен төмен қарай , кедір – бұдыр жерлермен , әртүрлі фигуралар жасап 2 метр трамплиннен сальто жасап сырғанау болып табылады. Бұл ойынның шығу уақытын көрсету қиын. 1971 жылдан бастап Нью-Хемпшире де жарыстар арасында қолдана бастаған. Бұл қысқы спорт түрінің алғашқы спортшысы альпинист доктор Фиртц Руэль болды.

№ 33






1. Тең бүйірлі үшбұрыш дегеніміз не?

2. Тең қабырғалы үшбұрыш дегеніміз не?

3. Әртүрлі қабырғалы үшбұрыш дегеніміз не?

4. Үшбұрыштың бұрыштарының шамасына байланысты түрлерін ата.









1.7
Пересечение с круговым движением



1.8
Светофорное регулирование



1.10
Выезд на набережную



1.11.1

Опасный поворот



1.11.2



1.13
Крутой спуск



1.14
Крутой подъем



1.12.2
Опасные повороты



1.5
Пересечение с трамвайной линией

VII Қысқы Азия ойындарының қорытындысы

8 Ақпан 2011 // Пікір жазу

ТАБЛО

№	Елдер	Алтын	Күміс	Қола	Барлығы
1.	Қазақстан	32	21	17	70
2.	Жапония	13	24	17	54
3.	Оңтүстік Корея	13	12	13	38
4.	Қытай	11	10	14	35
5.	Моңғолия	0	1	4	5
6.	Иран	0	1	2	3
7.	Қырғызстан	0	0	1	1



Үйге тапсырма

I топ: №23,34

II топ: №24,35

III топ: №25,36.



Сау болыңыздар!

