

# ПРИЗНАКИ РАВЕНСТВА ПРЯМОУГОЛЬНЫХ ТРЕУГОЛЬНИКОВ

Геометрия - 7

# 1. Выберите верное продолжение утверждения



Прямоугольные треугольники равны

1. По гипотенузе и катету
2. По гипотенузе и острому углу
3. По двум катетам
4. По двум гипотенузам

## 2. Укажите НЕВЕРНОЕ продолжение утверждения



Прямоугольные треугольники равны


1. По катету и противолежащему острому углу
2. По катету и прямому углу
3. По катету и гипотенузе
4. По трем катетам

3. Треугольники  $ABC$  и  $DEF$  – прямоугольные (углы  $A$  и  $D$  – прямые). Укажите верную запись признака равенства прямоугольных треугольников




1.  $AB=DE$ , углы  $A$ , углы  $B$  и  $E$  – равны
2.  $AC=DF$ , углы  $A$ , углы  $B$  и  $E$  – равны

4. Треугольники ABC и DEF – прямоугольные (углы A и D – прямые). Укажите верную запись 5 признака равенства прямоугольных треугольников




1. ACAC=AC=DFAC=DF, AC=DF,  
AB=DE
2. BCBC=BC=EFBC=EF, BC=EF,  
AC=DF
3. BC=EFBC=EF, углы BC=EF, углы СBC=EF, углы С и BC=EF, углы С и FBC=EF. углы С и F-равны



МОЛОДЕЦ !




МОЛОДЕЦ !



МОЛОДЕЦ !





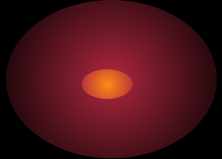
МОЛОДЕЦ !



МОЛОДЕЦ !




МОЛОДЕЦ !



МОЛОДЕЦ !


ВСПОМНИ ПРИЗНАКИ РАВЕНСТВА  
ПРЯМОУГОЛЬНЫХ ТРЕУГОЛЬНИКОВ  
И

ПОПРОБУЙ ЕЩЕ РАЗ !




ВСПОМНИ ПРИЗНАКИ РАВЕНСТВА  
ПРЯМОУГОЛЬНЫХ ТРЕУГОЛЬНИКОВ  
И

ПОПРОБУЙ ЕЩЕ РАЗ !




ВСПОМНИ ПРИЗНАКИ РАВЕНСТВА  
ПРЯМОУГОЛЬНЫХ ТРЕУГОЛЬНИКОВ  
И

ПОПРОБУЙ ЕЩЕ РАЗ !



ВСПОМНИ ПРИЗНАКИ РАВЕНСТВА  
ПРЯМОУГОЛЬНЫХ ТРЕУГОЛЬНИКОВ  
И


ПОПРОБУЙ ЕЩЕ РАЗ !






ВСПОМНИ ПРИЗНАКИ РАВЕНСТВА  
ПРЯМОУГОЛЬНЫХ ТРЕУГОЛЬНИКОВ  
И

ПОПРОБУЙ ЕЩЕ РАЗ !




ВСПОМНИ ПРИЗНАКИ РАВЕНСТВА  
ПРЯМОУГОЛЬНЫХ ТРЕУГОЛЬНИКОВ  
И

ПОПРОБУЙ ЕЩЕ РАЗ !




ВСПОМНИ ПРИЗНАКИ РАВЕНСТВА  
ПРЯМОУГОЛЬНЫХ ТРЕУГОЛЬНИКОВ  
И

ПОПРОБУЙ ЕЩЕ РАЗ !




ВСПОМНИ ПРИЗНАКИ РАВЕНСТВА  
ПРЯМОУГОЛЬНЫХ ТРЕУГОЛЬНИКОВ  
И

ПОПРОБУЙ ЕЩЕ РАЗ !



ВСПОМНИ ПРИЗНАКИ РАВЕНСТВА  
ПРЯМОУГОЛЬНЫХ ТРЕУГОЛЬНИКОВ  
И

ПОПРОБУЙ ЕЩЕ РАЗ !



БЛАГОДАРЮ ЗА РАБОТУ!

