

Решение треугольников.

Определение

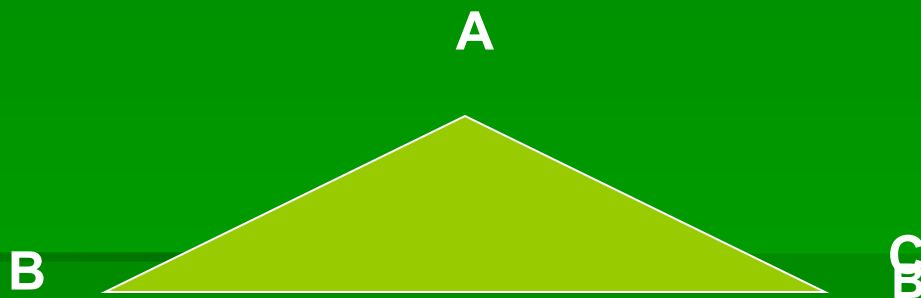
- Решить треугольник-это по трем элементам треугольника найти остальные три элемента.

НАЙДЕНЫ СЛЕДУЮЩИЕ ЗАДАЧИ

- ПОДВУМ УГЛАМ И СТОРОНЕ
- ПО ДВУМ СТОРОНАМ И УГЛУ
- ПО ТРЕМ СТОРОНАМ
- ПО ТРЕМ УГЛАМ ПО ТРЕМ УГЛАМ
ВЫХОД

Решение треугольника по стороне и прилежащим к ней углам


- Решите треугольник ABC, если угол A равен 30° , угол B равен 40° , $AB=16$.



**Нам потребуются теорема
синусов**

ТЕОРЕМА СИНУСОВ

- Стороны треугольника пропорциональны синусам противолежащих углов



- $AB/\sin C = AC/\sin B = BC/\sin A$

Решение треугольника по стороне и прилежащим к ней углам

$\triangle ABC$
A=30°
Дано:
B=40°
AB=16
Найти:
C=?

$$C = 180^\circ - (30^\circ + 40^\circ) = (180^\circ - 70^\circ) = 110^\circ$$

По теореме синусов

Решение:

$$AB / \sin C = BC / \sin A$$

$$\sin C = \sin 110^\circ = \sin(180^\circ - 70^\circ) =$$

$$= \sin 70^\circ \approx 0,9397$$

$$16 / 0,9397 = BC / 0,5$$

$$BC \approx 8,5$$

$$AB / \sin C = AC / \sin B$$

$$\sin B = \sin 40^\circ \approx 0,6428$$

$$16 / 0,9397 = AC / 0,6428$$

$$AC \approx 10,9$$

Ответ : AC ≈ 10,9

AC=?
BC=?

Реши сам

Дано:

△ ABC

BC=0,75

∠B=40°

∠C=25°

Найти:

AC=?

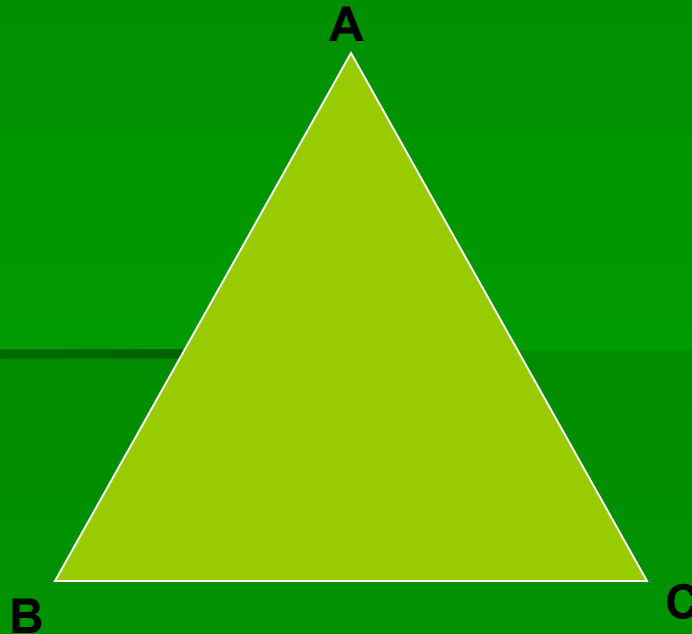
Ответ

41,2

ОБРАТНО

**Решение треугольника по двум сторонам и углу
между ними.**

**Решите треугольник , если $AB=6\text{см}$,
 $BC=8\text{см}$, $CA=10\text{см}$**




**Нам потребуется теорема
синусов и теорема косинусов**

Теорема косинусов

- Квадрат стороны треугольника равен сумме квадратов двух других сторон минус удвоенное произведение этих сторон на косинус угла между ними
Иногда ее называют обобщенной теоремой Пифагора.

ТЕОРЕМА СИНУСОВ

- Стороны треугольника пропорциональны синусам противолежащих углов



- $AB/\sin C = AC/\sin B = BC/\sin A$

Решение треугольника по двум сторонам и углу между ними.

■ Дано:

$$AC = 8 \text{ см}$$

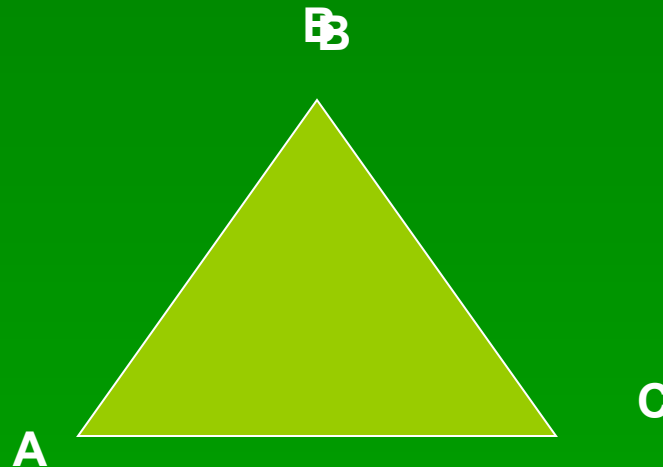
$$AB = 11 \text{ см}$$

$$\angle A = 60^\circ$$

НАЙТИ:

$$CB = ?, \angle C = ?$$

$$\angle B = ?,$$



Решение треугольника по двум сторонам и углу между ними.

Решение:

По теореме косинусов

$$BC^2 = AB^2 + AC^2 - 2AB \cdot AC \cdot \cos 60 =$$

$$BC^2 = 121 + 64 - 176 \cdot 0,5$$

$$BC^2 = 121 + 64 - 80$$

$$BC^2 = 97$$

$$BC \approx 9,8 \text{ см}$$

По теореме синусов

$$AB / \sin C = BC / \sin A$$

$$\sin A \approx 0,866$$

$$11 / \sin C = 9,8 / 0,866$$

$$\sin C = 11 \cdot 0,866 / 9,8$$

$$\sin C = 0,972$$

$$C \approx 76$$

$$B = 180 - (76 + 60) = 44$$

Ответ: $BC \approx 9,8 \text{ см}$ $\angle C \approx 76$ $B \approx 44$

Реши сам

Дано:

$\triangle ABM$

$AB=5$

$AM=8$

$\angle BAM=60^\circ$

Найти:

$BM=?$

$\sin \angle ABM=?$

Ответ

$$BM=7\text{ см}$$

$$\sin \angle ABM=4\sqrt{3}/7$$

обратно

По трём сторонам

Дано:

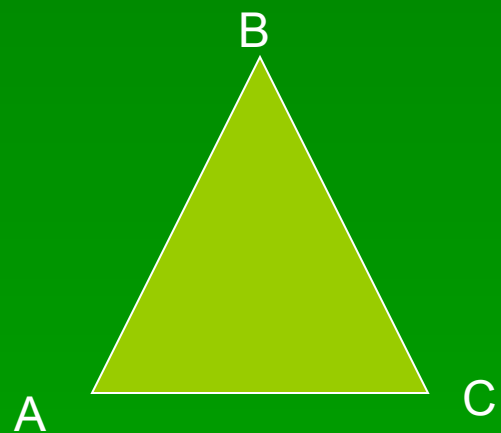
$$AB=6\text{см}$$

$$BC=8\text{см}$$

$$CA=10\text{см}$$

Найти:

$\angle A, \angle B, \angle C$



**Нам потребуется теорема синусов
и теорема косинусов**

ТЕОРЕМА СИНУСОВ

- Стороны треугольника пропорциональны синусам противолежащих углов



- $AB/\sin C = AC/\sin B = BC/\sin A$

Теорема косинусов

- Квадрат стороны треугольника равен сумме квадратов двух других сторон минус удвоенное произведение этих сторон на косинус угла между ними
Иногда ее называют обобщенной теоремой Пифагора.

ПО ТРЕМ СТОРОНАМ

Дано:

$$AB=6\text{см}$$

$$BC=8\text{см}$$

$$CA=10\text{см}$$

Решение:

По теореме косинусов

$$AB^2=BC^2+CA^2-2*BC*CA*\cos C$$

$$\cos C=(BC^2+CA^2-AB^2)/(2BC*CA)$$

$$\cos C=128/(2*80)=0,8$$

$$C\approx 36^\circ$$

По теореме синусов

$$AB/\sin C=AC/\sin B$$

$$6/0,5878=10/\sin B$$

$$\sin B=5,878/6\approx 0,9796\approx 78$$

$$B\approx 78^\circ$$

$$A=180^\circ-(78^\circ+36^\circ)=66^\circ$$

Реши сам


Стороны треугольника равны 9 см , $5\sqrt{2}\text{ см}$ и $\sqrt{41}\text{ см}$. Найдите величину угла, противолежащего стороне, равной $\sqrt{41}$

Ответ :

45°

обратно

КОНЕЦ



По трём углам

????????????????????????????????????????????????????????
????????????????????????????????????????????????????????
?

обратно