

# Доклад на тему: «Вневписанная окружность»

---

Номинация: математика

Выполнили:

Коляда Валентина

Афони́на Екатерина

ученицы 9м класса

гимназии № 22

научный руководитель

учитель высшей категории

Плеснявых Елена Аслановна

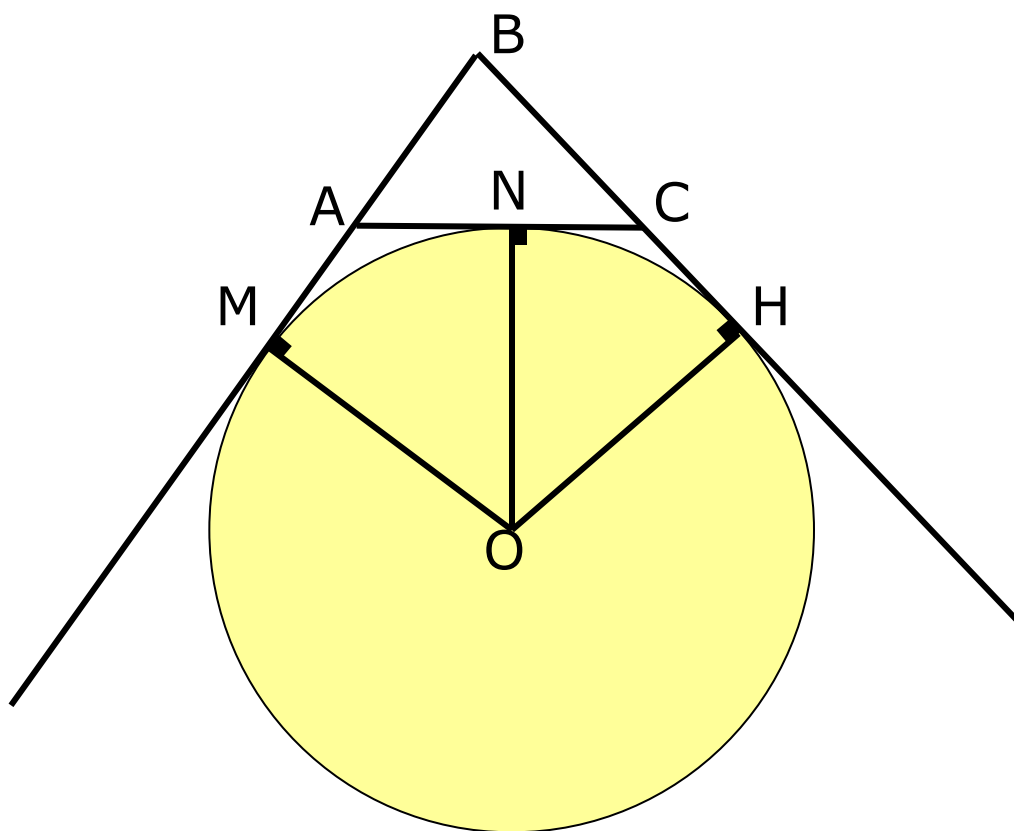
# Содержание

---

- Введение.
- Основная часть
  - Глава 1. Определение внеписанной окружности.  
Центр внеписанной окружности.  
Касательная к внеписанной окружности.
  - Глава 2. Формулы для вычисления радиусов внеписанных окружностей.
    - § 1. Соотношение между радиусом внеписанной окружности и периметром треугольника
    - § 2. Соотношение между радиусом внеписанной окружности, площадью и периметром треугольника
  - Глава 3. Некоторые соотношения с радиусами внеписанных окружностей.
    - § 1. Выражение суммы радиусов внеписанных окружностей через радиус вписанной окружности и радиус описанной окружности
    - § 2. Выражение суммы величин, обратных радиусам внеписанных окружностей, через величину обратную радиусу вписанных окружностей.
    - § 3. Выражение суммы всех попарных произведений радиусов внеписанных окружностей через квадрат полупериметра треугольника.
    - § 4. Выражение произведения радиусов внеписанных окружностей через произведение радиуса вписанной окружности и квадрат полупериметра треугольника.
    - § 5. Выражение высоты треугольника через радиусы внеписанных окружностей.
- Заключение.
- Библиография.

Глава 1. Окружность называется **вневписанной** в треугольник, если она касается одной из сторон треугольника и продолжений двух других сторон

---



Центр вневписанной окружности в треугольник есть точка пересечения биссектрисы внутреннего угла треугольника, противоположного той стороне треугольника, которой окружность касается, и биссектрис двух внешних углов треугольника (1)

---

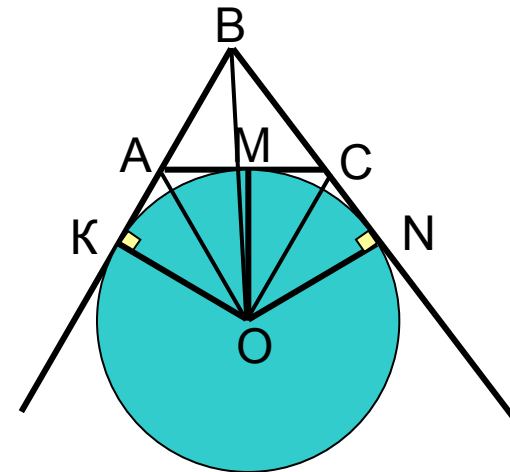
Дано:

$\triangle ABC$

Окр.  $(O; r)$

$M, N, K$  – точки касания

Доказать (1)



Решение:

Т. к. окружность касается сторон угла  $CAK$ , то центр окружности  $O$  равноудален от сторон этого угла, следовательно, он лежит на биссектрисе угла  $CAK$ . Аналогично, точка  $O$  лежит на биссектрисе угла  $ACN$ . Т. к. окружность касается прямых  $BA$  и  $BC$ , то она вписана в угол  $ABC$ , а значит её центр лежит на биссектрисе угла  $ABC$ . Ч.т. д.

# Расстояние от вершины угла треугольника до точек касания невписанной окружности со сторонами этого угла равны полупериметру данного треугольника

$$AB_1 = AC_1 = p$$

Дано:

$\triangle ABC$

Невписанная окр.  $(O_a; r_a)$

Доказать, что

$$AB_1 = AC_1 = p$$

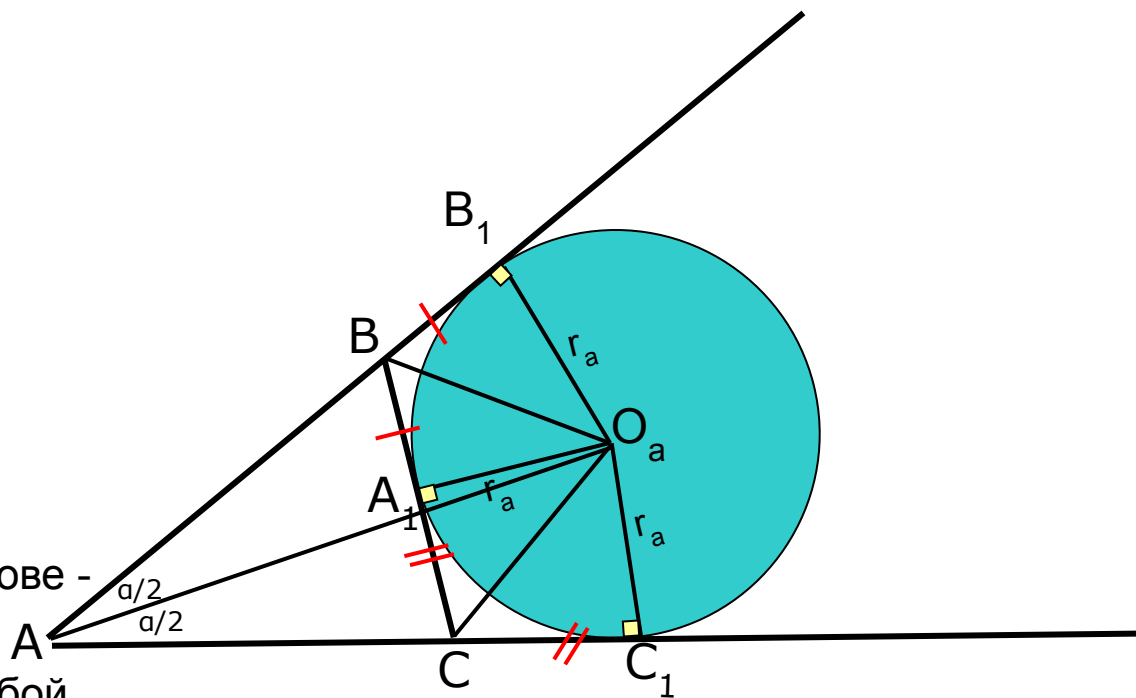
Доказательство:

Т.к.  $O_a$  - центр невписанной окружности. Касательные, проведенные к окружности из одной точки, равны между собой, поэтому  $BB_1 = BA_1$ ,  $CA_1 = CC_1$ ,  $AB_1 = AC_1$ .

Значит,

$$2p = (AC + CA_1) + (AB + BA_1) = (AC + CC_1) + (AB + BB_1) = AC_1 + AB_1 = 2AC_1 = 2AB_1$$

т.е.  $AB_1 = AC_1 = p$ .



**Глава 2. § 1.** Радиус невписанной окружности. Касающейся сторон данного внутреннего угла треугольника, равен произведению полупериметра треугольника на тангенс половины этого угла, т. е.

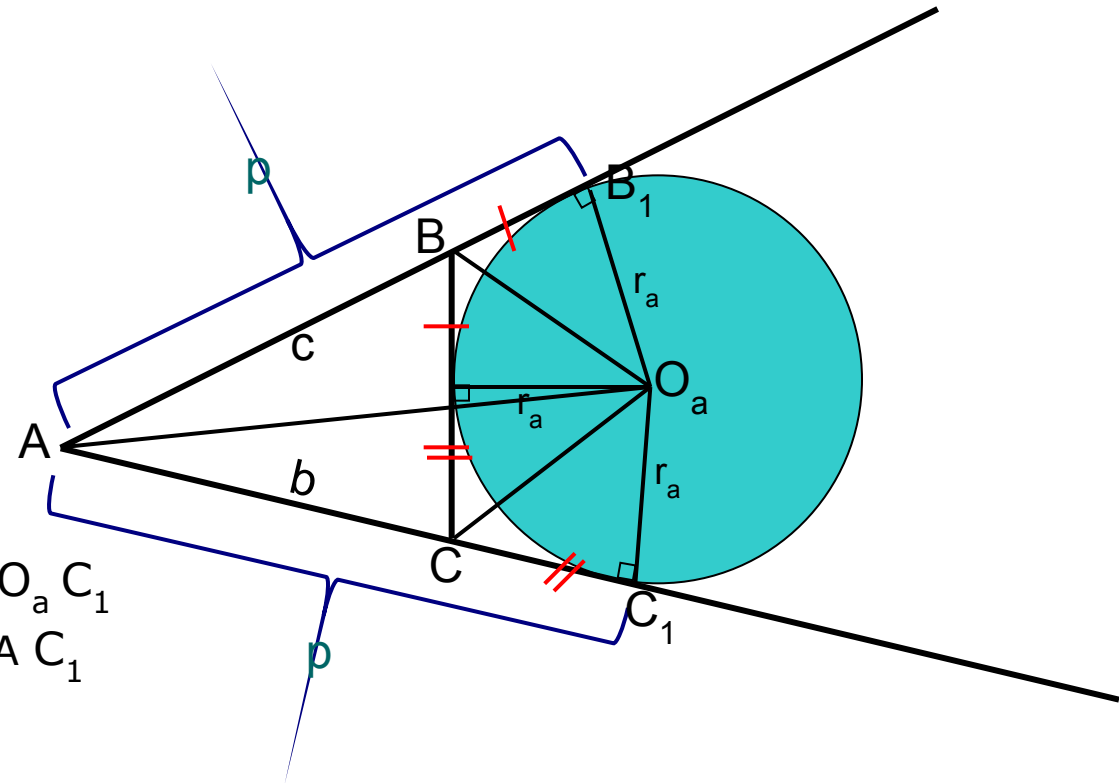
$$r_a = \text{ptg} \frac{\alpha}{2}, r_b = \text{ptg} \frac{\beta}{2}, r_c = \text{ptg} \frac{\gamma}{2} \quad (2)$$

Дано:

$\triangle ABC$

Невписанная окр.  $(O_a; r_a)$

Доказать (2)



Решение:

В прямоугольном треугольнике  $A O_a C_1$

$r_a$  и  $p$  – длины катетов, угол  $O_a A C_1$  равен  $\frac{\alpha}{2}$ , поэтому  $r_a = \text{ptg} \frac{\alpha}{2}$ .

§ 2. Радиус вневписанной окружности, касающейся данной стороны треугольника, равен отношению площади треугольника к разности полупериметра и этой стороны. т.е.

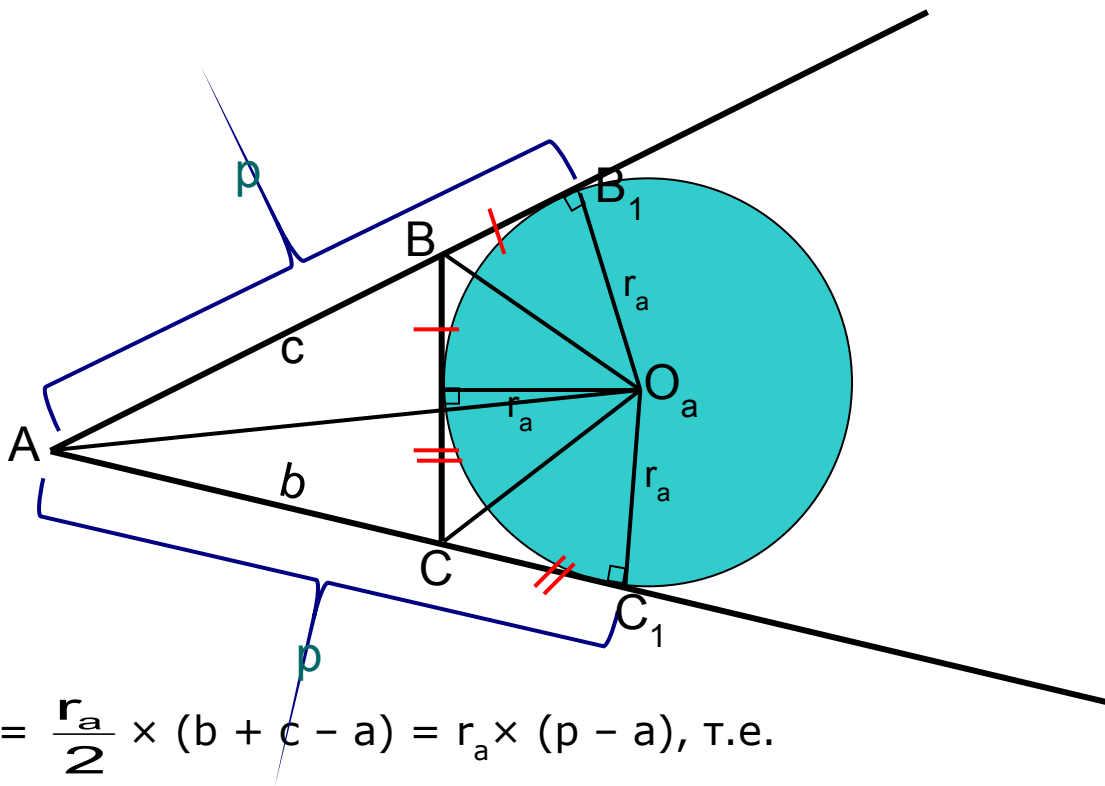
$$r_a = \frac{S}{p-a}, \quad r_b = \frac{S}{p-b}, \quad r_c = \frac{S}{p-c} \quad (3)$$

Дано:

$\triangle ABC$

Вневписанная окр.  $(O_a; r_a)$

Доказать (3)



Решение:

Имеем

$$S = S_{ABC} = S_{AO_aC} + S_{BO_aC} - S_{BO_aC} = \frac{r_a}{2} \times (b + c - a) = r_a \times (p - a), \text{ т.е.}$$

$$r_a = \frac{S}{p-a}$$

**Глава 3. § 1** Сумма радиусов вневписанных окружностей равна сумме радиуса вписанной окружности и удвоенного диаметра описанной окружности, т. е.

$$r_a + r_b + r_c = r + 4R$$

---

Доказательство:

Выразим все радиусы через стороны, площадь и полупериметр треугольника:

$$r = \frac{S}{p}, \quad R = \frac{abc}{4S}, \quad r_a = \frac{S}{p-a}, \quad r_b = \frac{S}{p-b}, \quad r_c = \frac{S}{p-c}$$

Значит,

$$\begin{aligned} r_a + r_b + r_c - r &= \frac{S}{p-a} + \frac{S}{p-b} + \frac{S}{p-c} - \frac{S}{p} = \\ &= S \frac{p(p-b)(p-c) + p(p-a)(p-c) + p(p-a)(p-b) - (p-a)(p-b)(p-c)}{p(p-a)(p-b)(p-c)} = \\ &= S \frac{abc}{S^2} = \frac{abc}{S} = 4R \end{aligned}$$



§ 2. Сумма величин, обратных радиусам невписанных окружностей, равна величине, обратной радиусу вписанной окружности, т. е.

$$\frac{1}{r_a} + \frac{1}{r_b} + \frac{1}{r_c} = \frac{1}{r}$$

---

Доказательство:

Используем выражения радиусов через стороны и площадь треугольника:

$$r = \frac{S}{p}, \quad R = \frac{abc}{4S}, \quad r_a = \frac{S}{p-a}, \quad r_b = \frac{S}{p-b}, \quad r_c = \frac{S}{p-c}$$

Значит,

$$\frac{1}{r_a} + \frac{1}{r_b} + \frac{1}{r_c} = \frac{p-a}{S} + \frac{p-b}{S} + \frac{p-c}{S} = \frac{3p-2p}{S} = \frac{p}{S} = \frac{1}{r}$$

§ 3. Сумма всех попарных произведений радиусов вневписанных окружностей равна квадрату полупериметра треугольника, т. е.

$$r_a r_b + r_b r_c + r_c r_a = p^2$$

---

Доказательство:

Воспользуемся формулами ранее доказанных радиусов через стороны и площадь треугольника:

$$r = \frac{S}{p}, \quad r_a = \frac{S}{p-a}, \quad r_b = \frac{S}{p-b}, \quad r_c = \frac{S}{p-c}$$

Подставим

$$\begin{aligned} r_a r_b + r_b r_c + r_c r_a &= \frac{S^2}{(p-a)(p-b)} + \frac{S^2}{(p-b)(p-c)} + \frac{S^2}{(p-c)(p-a)} = \\ &= S^2 \frac{(p-c) + (p-a) + (p-b)}{(p-a)(p-b)(p-c)} = S^2 \frac{3p-2p}{(p-a)(p-b)(p-c)} = S^2 \frac{p}{(p-a)(p-b)(p-c)} \end{aligned}$$

Из формулы Герона следует

$$(p-a)(p-b)(p-c) = \frac{S^2}{p}, \text{ поэтому}$$

$$r_a r_b + r_b r_c + r_c r_a = S^2 \frac{p}{S^2} = p^2$$

§ 4. Произведение всех трех радиусов вневписанных окружностей равно произведению радиуса вписанной окружности на квадрат полупериметра треугольника, т.е.

$$r_a r_b r_c = rp^2$$

---

Доказательство:

Из ранее доказанных формул для радиусов и формулы Герона

$$r_a = \frac{S}{p-a}, \quad r_b = \frac{S}{p-b}, \quad r_c = \frac{S}{p-c}, \quad S = \sqrt{p(p-a)(p-b)(p-c)}$$

Тогда

$$r_a r_b r_c = \frac{S^3}{(p-a)(p-b)(p-c)} = \frac{S^3 p}{S^2} = Sp = pr \times p = rp^2$$

**Следствие 1. Площадь треугольника равна отношению произведения всех трех радиусов вневписанных окружностей к полупериметру треугольника, т.е.**

$$S = \frac{r_a r_b r_c}{p}$$

---

Доказательство:

$$\text{Из } r_a r_b r_c = rp^2 = rp \times p = Sp.$$

$$\text{Следовательно } S = \frac{r_a r_b r_c}{p}$$

**Следствие 2.** Площадь треугольника равна квадратному корню из произведения всех трех радиусов внеписанных окружностей и радиуса вписанной окружности, т.е.

$$S = \sqrt{r_a r_b r_c r}$$

---

Доказательство:

Из следствия 1, что  $S = \frac{r_a r_b r_c}{p}$  и равенства  $S = pr$ ,

получаем, перемножая их почленно,

$$S^2 = \frac{r_a r_b r_c}{p} \times pr = r_a r_b r_c r \quad . \text{ Значит } S = \sqrt{r_a r_b r_c r}$$

§ 5. Величина, обратная высоте треугольника, опущенной на его данную сторону, равна полусумме величин, обратных радиусам вневписанных окружностей, касающихся двух других сторон треугольника, т.е.

$$\frac{1}{h_a} = \frac{1}{2} \left( \frac{1}{r_b} + \frac{1}{r_c} \right), \quad \frac{1}{h_b} = \frac{1}{2} \left( \frac{1}{r_c} + \frac{1}{r_a} \right), \quad \frac{1}{h_c} = \frac{1}{2} \left( \frac{1}{r_a} + \frac{1}{r_b} \right)$$

---

Доказательство:

Воспользуемся  
формулами

$$r_b = \frac{S}{p - b}, \quad r_c = \frac{S}{p - c}$$

Значит,

$$\frac{1}{r_b} + \frac{1}{r_c} = \frac{p - b}{S} + \frac{p - c}{S} = \frac{2p - b - c}{S} = \frac{a + b + c - b - c}{S} =$$

$$= \frac{a}{S} = \frac{a}{\frac{1}{2} a h_a} = \frac{2}{h_a}, \quad \frac{1}{h_a} = \frac{1}{2} \left( \frac{1}{r_b} + \frac{1}{r_c} \right)$$

# 3. Заключение.

---

Рассмотренные свойства позволили установить связь между радиусами вписанной и невписанной окружностями, между радиусами невписанной окружности и площадью треугольника, между радиусами невписанных окружностей и периметром треугольника. Данный материал выходит за рамки школьной программы и будет полезен учащимся увлеченным математикой.