


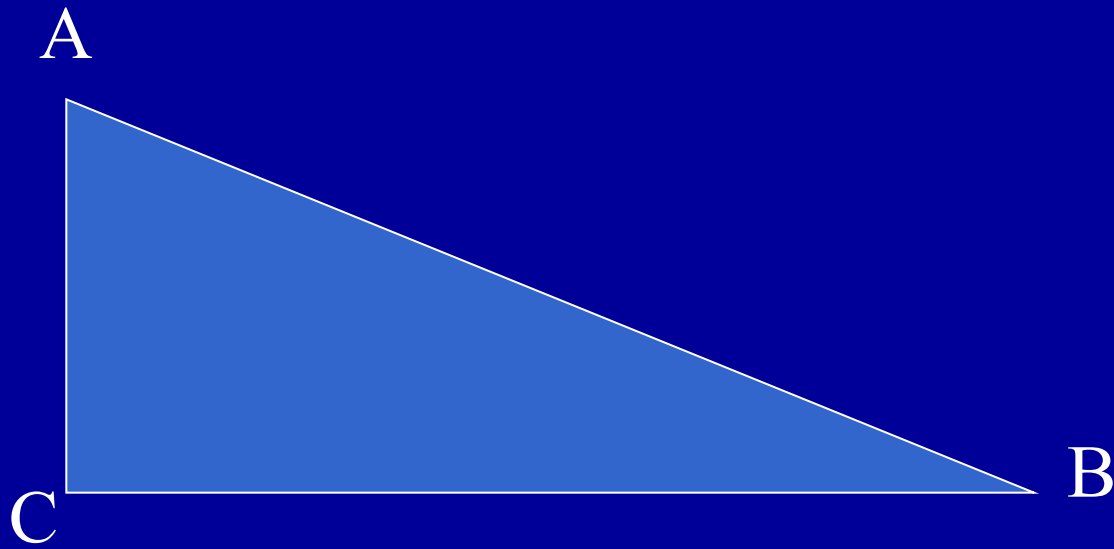
Тема:

Значение синуса, косинуса и
тангенса для углов 30° , 45° , 60°



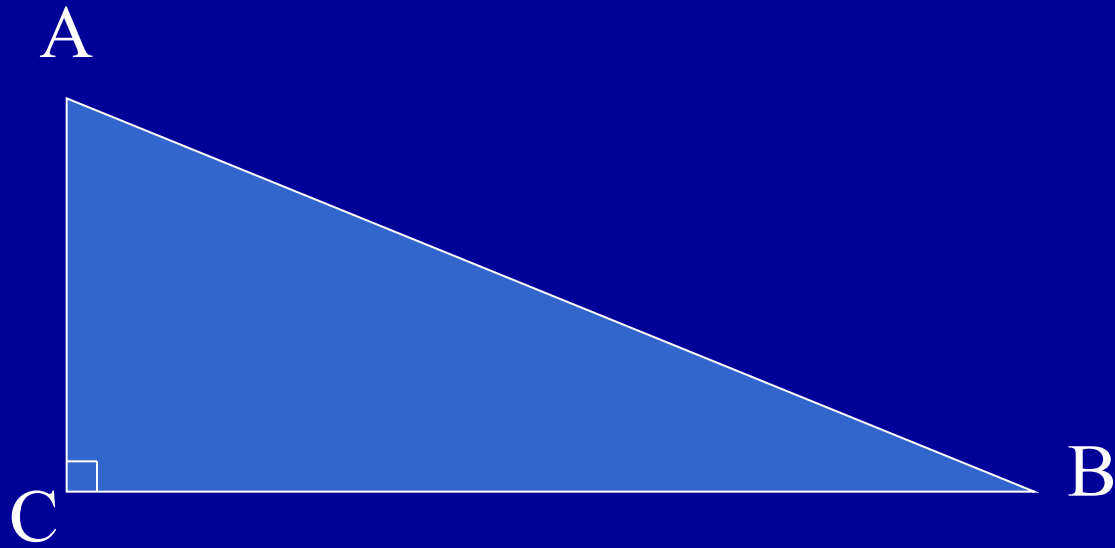
Теорема Пифагора

В прямоугольном треугольнике квадрат гипотенузы равен сумме квадратов катетов



$$AB^2 = AC^2 + BC^2$$


Синусом острого угла прямоугольного
треугольника называется...



$$\sin A = \frac{BC}{AB}$$

$$\sin B = \frac{AC}{AB}$$


Косинусом острого угла прямоугольного
треугольника называется...



$$\cos A = \frac{AC}{AB}$$

$$\cos B = \frac{BC}{AB}$$

Тангенсом острого угла прямоугольного
треугольника называется...



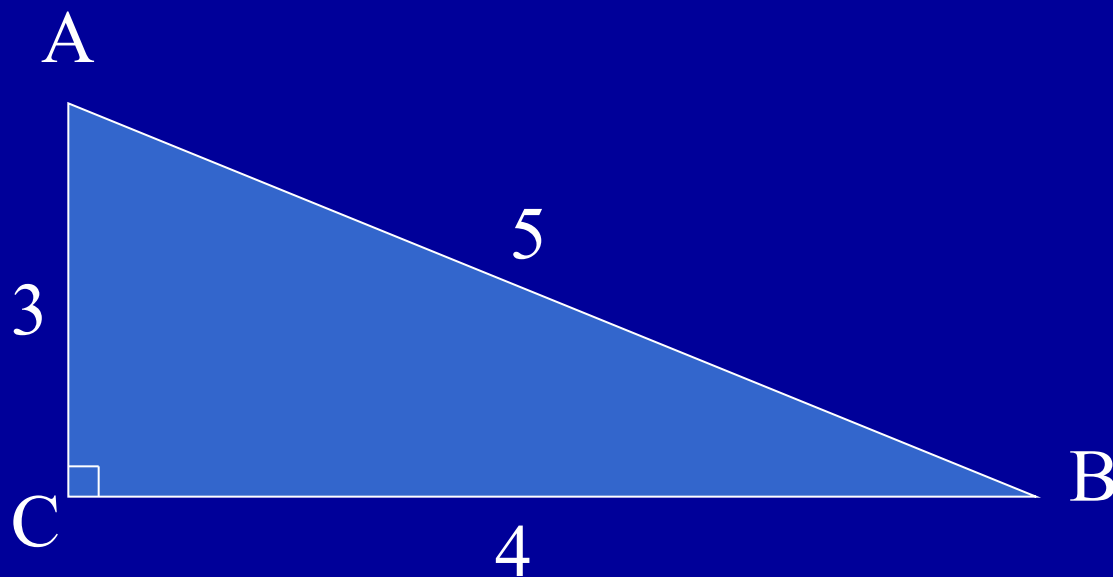
$$\operatorname{tg} A = \frac{BC}{AC}$$

$$\operatorname{tg} B = \frac{AC}{BC}$$

Основное тригонометрическое тождество

$$\sin^2 A + \cos^2 A = 1$$

Устный счет:



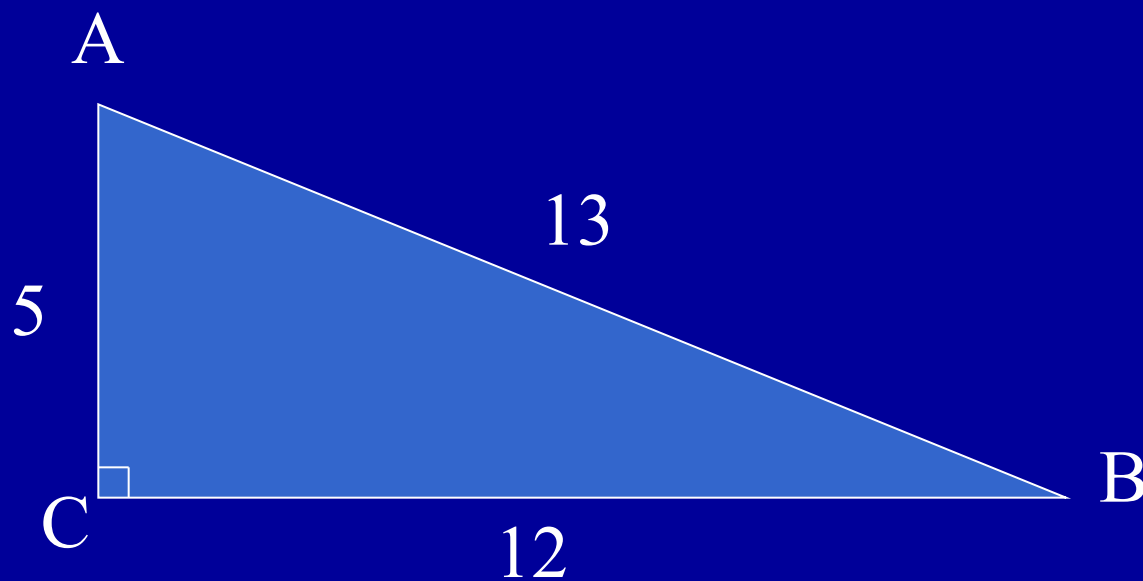
AC = ?

$$\sin A = \frac{4}{5}$$

$$\cos A = \frac{3}{5}$$

$$\operatorname{tg} A = \frac{4}{3}$$

Устный счет:



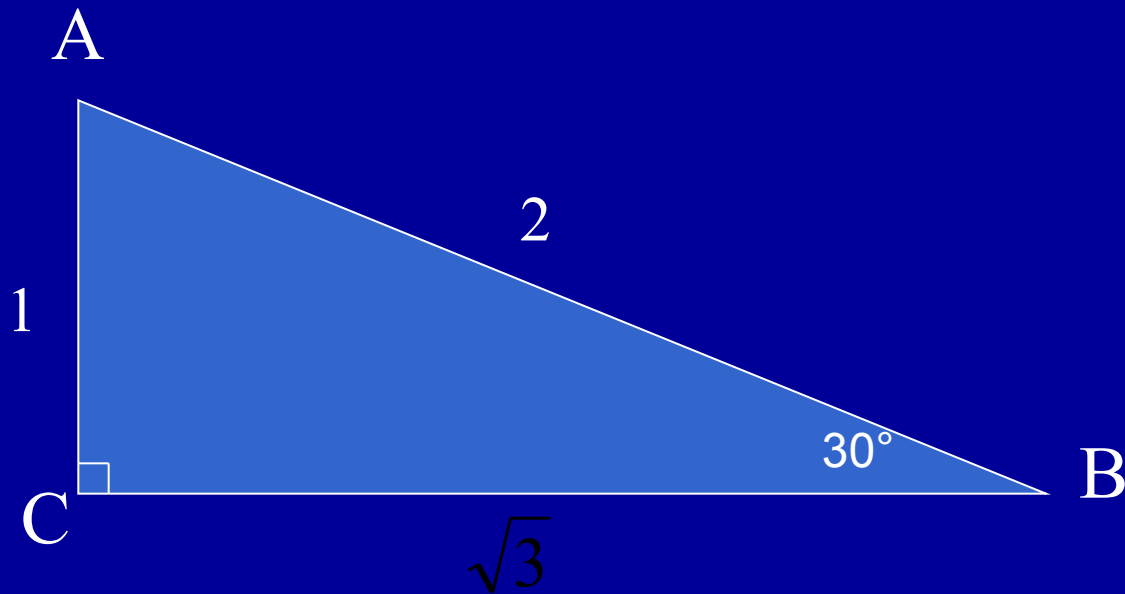
AB = ?

$$\sin B = \frac{5}{13}$$

$$\cos B = \frac{12}{13}$$

$$\operatorname{tg} B = \frac{5}{12}$$

Устный счет:



$$AC = ?$$

$$BC = ?$$

$$\sin 30^\circ = \frac{1}{2}$$

$$\cos 30^\circ = \frac{\sqrt{3}}{2}$$


$$\operatorname{tg} 30^\circ = \frac{\sqrt{3}}{3}$$

Устный счет:


Дано: $ABCD$ – трапеция, $MD = 18$ см,

$$\angle BAD = 30^\circ, \angle CDA = 45^\circ$$

Найти : BK и AB

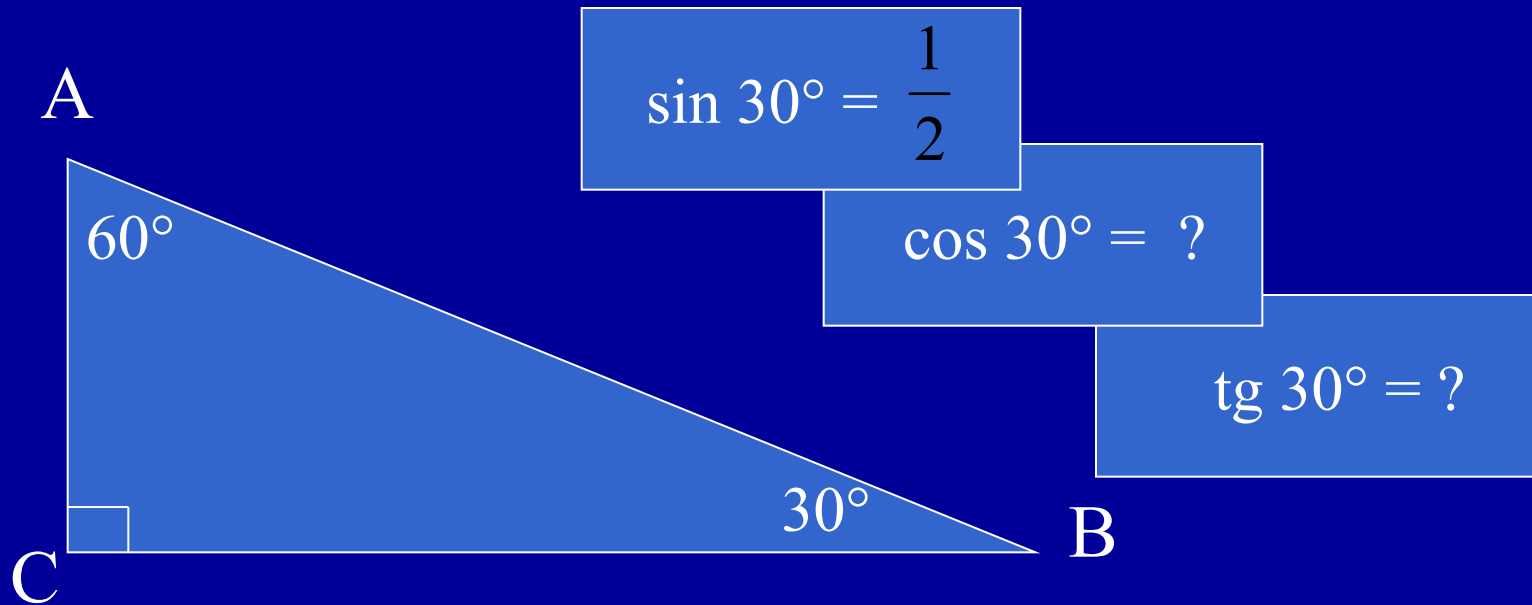


Ответ: $BK = 18$ см ; $AB = 36$ см.



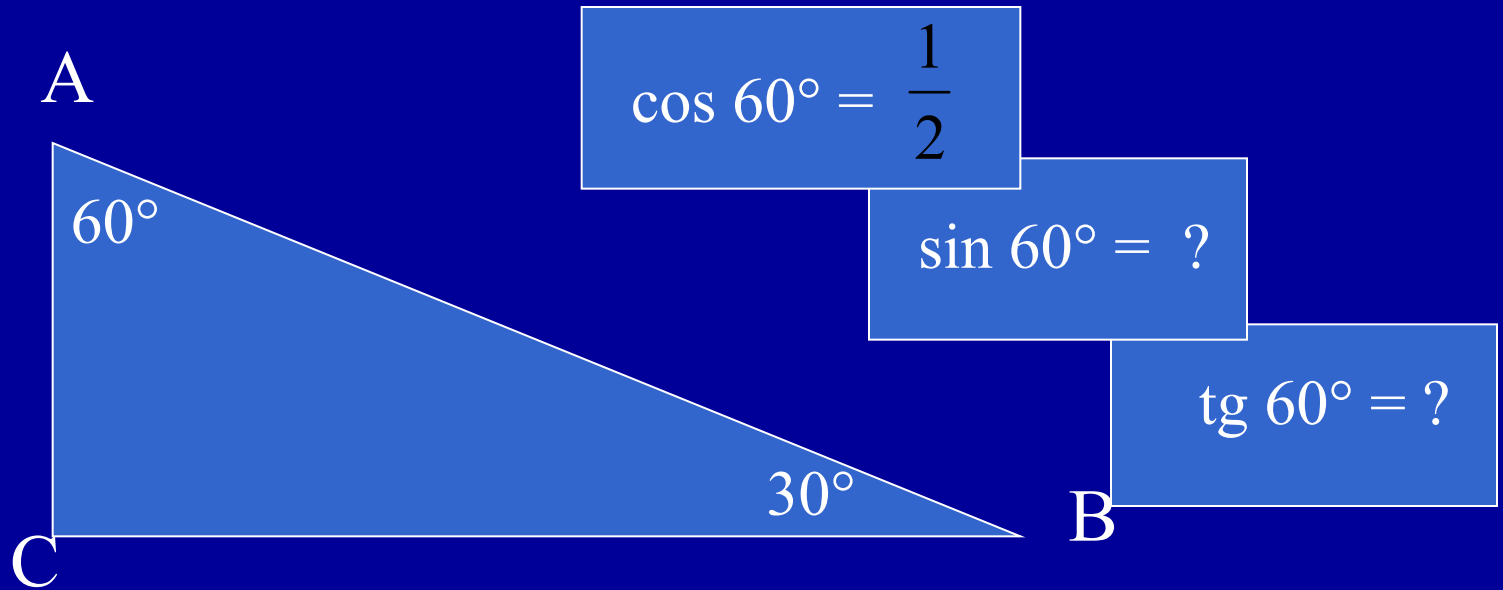
$$\sin 30^\circ = \frac{AC}{AB} = \frac{1}{2}$$

$$\cos 60^\circ = \frac{AC}{AB} = \frac{1}{2}$$



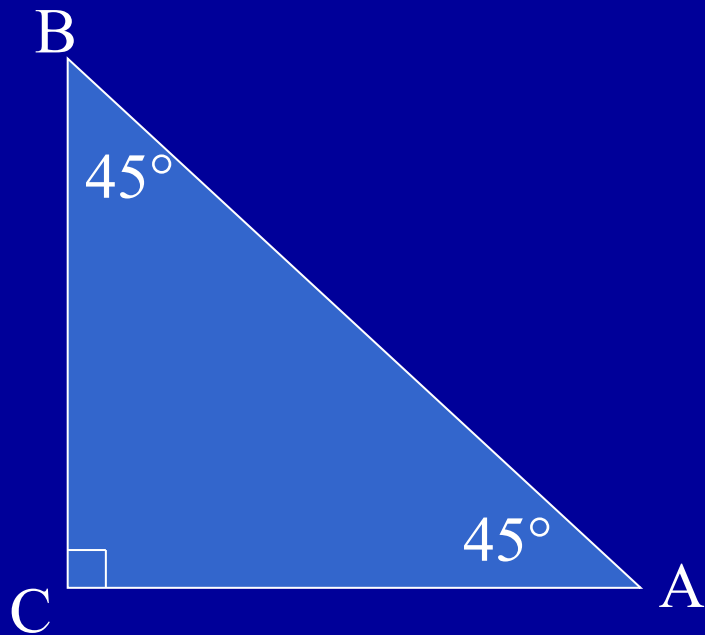
$$\cos 30^\circ = \sqrt{1 - \sin^2 30^\circ} = \sqrt{1 - \frac{1}{4}} = \frac{\sqrt{3}}{2}$$

$$\text{tg } 30^\circ = \frac{\sin 30^\circ}{\cos 30^\circ} = \frac{1}{\sqrt{3}} = \frac{\sqrt{3}}{3}$$



$$\sin 60^\circ = \sqrt{1 - \cos^2 60^\circ} = \sqrt{1 - \frac{1}{4}} = \frac{\sqrt{3}}{2}$$

$$\text{tg } 60^\circ = \frac{\sin 60^\circ}{\cos 60^\circ} = \sqrt{3}$$



$$AC = BC$$

$$AB^2 = AC^2 + BC^2 = 2AC^2$$

$$AC = BC = \frac{AB}{\sqrt{2}}$$

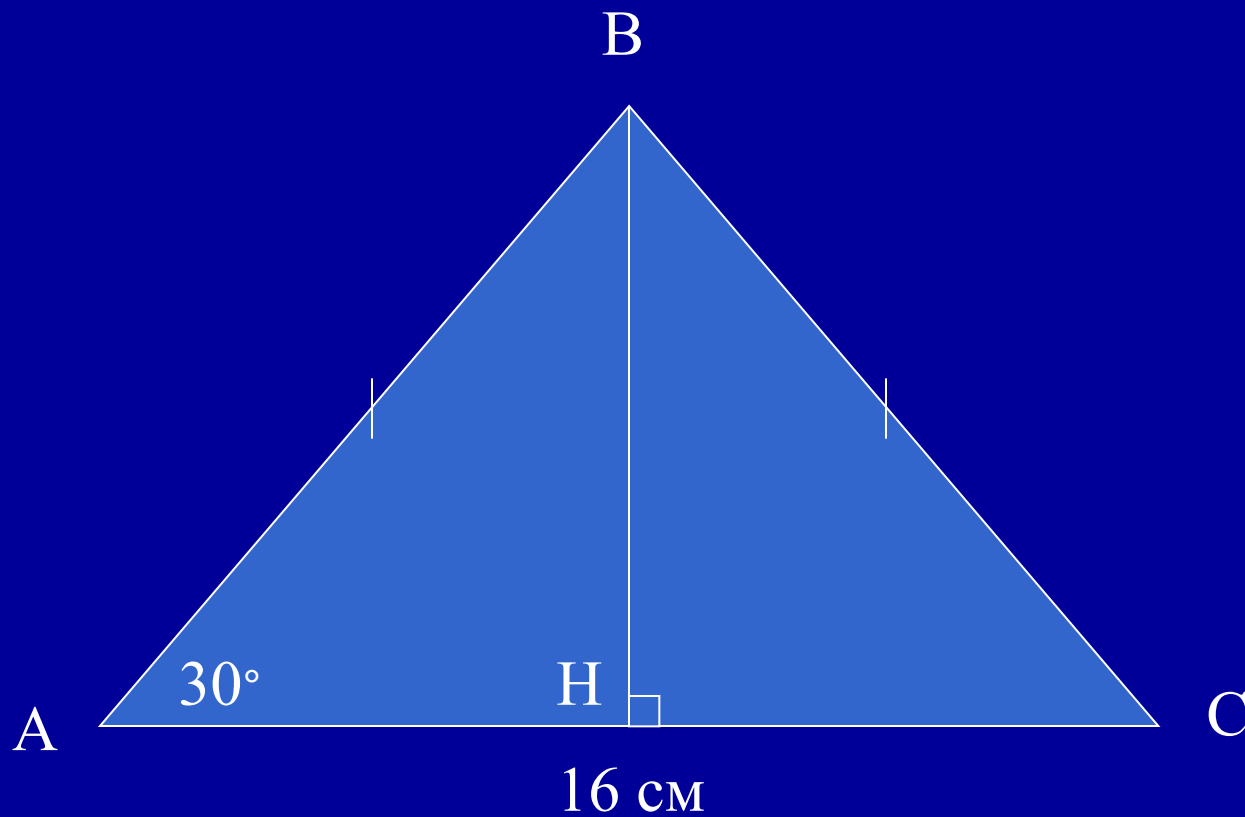
$$\sin 45^\circ = \sin A = \frac{BC}{AB} = \frac{1}{\sqrt{2}} = \frac{\sqrt{2}}{2}$$

$$\cos 45^\circ = \cos A = \frac{AC}{AB} = \frac{1}{\sqrt{2}} = \frac{\sqrt{2}}{2}$$

$$\operatorname{tg} 45^\circ = \frac{\sin 45^\circ}{\cos 45^\circ} = 1$$

	30°	45°	60°
sin	$\frac{1}{2}$	$\frac{\sqrt{2}}{2}$	$\frac{\sqrt{3}}{2}$
cos	$\frac{\sqrt{3}}{2}$	$\frac{\sqrt{2}}{2}$	$\frac{1}{2}$
tg	$\frac{\sqrt{3}}{3}$	1	$\sqrt{3}$

Задача №1.



Найти: AB .

Ответ: $\frac{16\sqrt{3}}{3} \text{ см.}$

- сегодня я узнал...
- было интересно...
- я понял, что...
- теперь я могу...
- я научился...
- у меня получилось ...
- я СМОГ...
- я попробую...
- мне захотелось...

Домашнее задание:

1. Повторить § 4 пункт 66, изучить материал пункта 67.
2. Выучить табличные значения для углов 30° , 45° , 60° .
3. Решить следующие задачи из учебника:
№601, №602.

Удачи!