



Уравнения химических реакций




Составьте схемы химических реакций


1. Сульфат натрия + хлорид бария \rightarrow хлорид натрия + сульфат бария
2. Азот + кислород \rightarrow оксид азота (V)
3. Алюминий + ... \rightarrow бромид алюминия (III)
4. ... + ... \rightarrow фосфид цинка (II)

Расставьте коэффициенты в схемах реакций. В каком уравнении сумма коэффициентов равна 7?

Типы химических реакций



Типы химических реакций



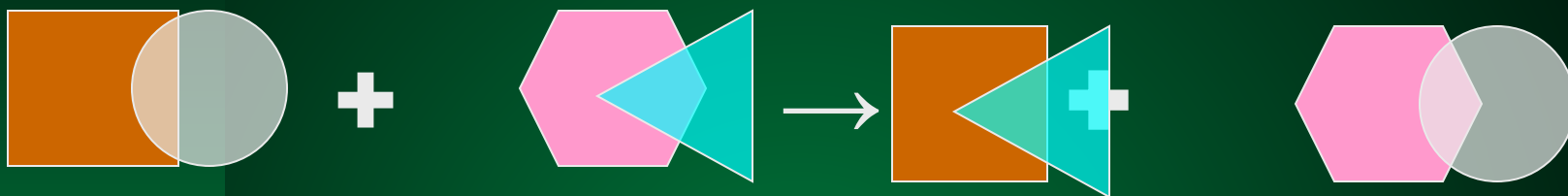
*Реакция
разложения*

Типы химических реакций



*Реакции
замещения*

Типы химических реакций



Реакция обмена



Типы химических реакций

