
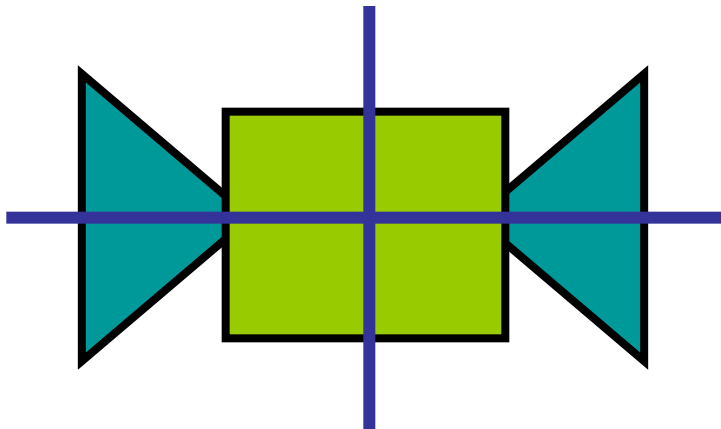
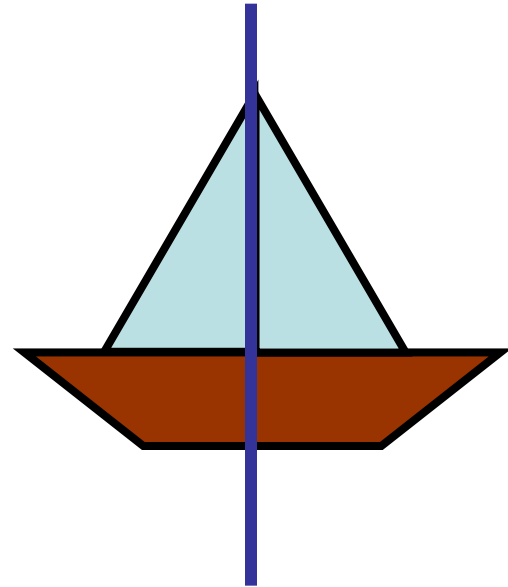

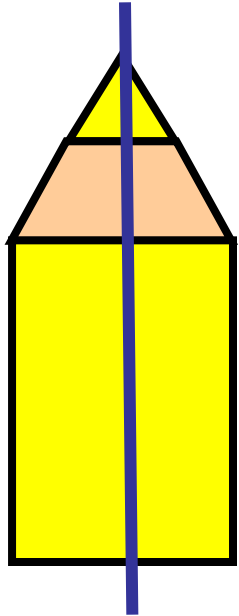



Симметрия фигур

Симметричные фигуры



57

Раскрась симметричные предметы.



58 Диктант по клеточкам с отражением.

The image shows a grid-based dictation exercise. It is divided into two columns, labeled 'А' and 'Б' at the bottom. Each column contains three shapes drawn on a grid. The shapes in column 'Б' are reflections of the shapes in column 'А' across a vertical line.

- Row 1:** Column 'А' has a black shape consisting of a horizontal line 3 units long, a vertical line 1 unit high on the left, and a horizontal line 1 unit long on the right. A black dot is at the top-left corner. Column 'Б' has a red shape that is a horizontal reflection of the first shape. A red dot is at the top-right corner.
- Row 2:** Column 'А' has a black shape consisting of a horizontal line 3 units long, a vertical line 2 units high on the right, a horizontal line 1 unit long on the left, a vertical line 1 unit high on the left, and a horizontal line 1 unit long on the right. A black dot is at the top-right corner. Column 'Б' has a green shape that is a horizontal reflection of the second shape. A green dot is at the top-left corner.
- Row 3:** Column 'А' has a black shape consisting of a horizontal line 3 units long, a vertical line 2 units high on the right, a horizontal line 1 unit long on the left, a vertical line 1 unit high on the left, and a horizontal line 1 unit long on the right. A black dot is at the top-right corner. Column 'Б' has a blue shape that is a horizontal reflection of the third shape. A blue dot is at the top-left corner.

59 Обведи красным карандашом буквы и цифры, которые не меняются при отражении в зеркале.

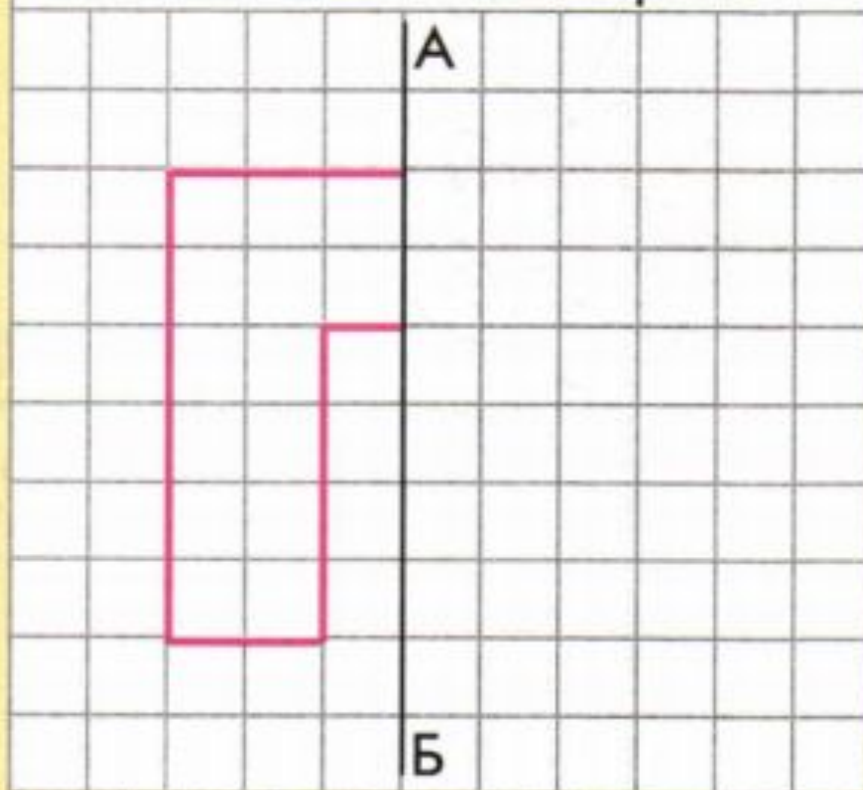
А	И	С	Щ	0
Б	К	Т	Ъ	1
В	Л	У	Ы	2
Г	М	Ф	Ь	3
Д	Н	Х	Э	4
Е	О	Ц	Ю	5
Ж	П	Ч	Я	6
З	Р	Ш		7
				8
				9

59 Обведи красным карандашом буквы и цифры, которые не меняются при отражении в зеркале.

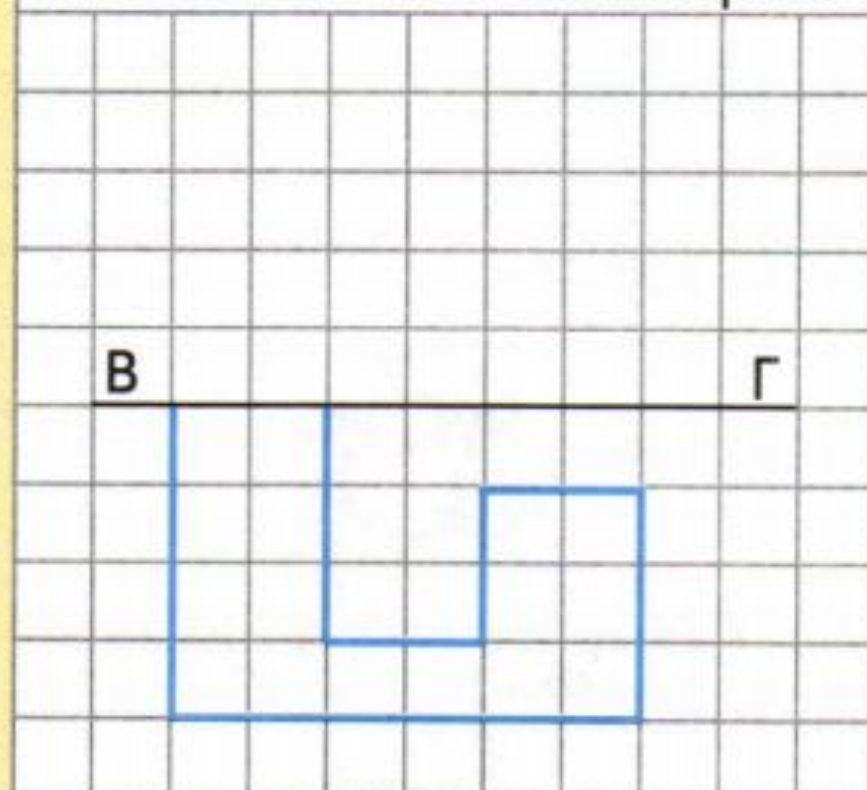
А	И	С	Щ	0
Б	К	Т	Ъ	1
В	Л	У	Ы	2
Г	М	Ф	Ь	3
Д	Н	Х	Э	4
Е	О	Ц	Ю	5
Ж	П	Ч	Я	6
З	Р	Ш		7
				8
				9

60 Нарисуй отражения фигур:

а) в зеркале $АБ$ – вертикальная ось симметрии.

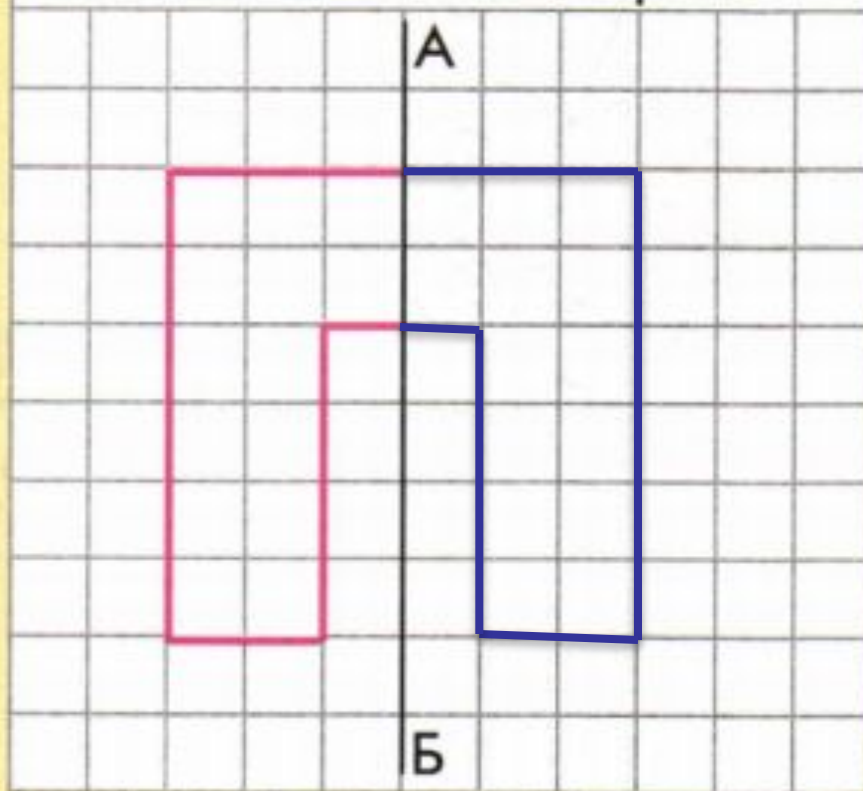


б) в зеркале $ВГ$ – горизонтальная ось симметрии.

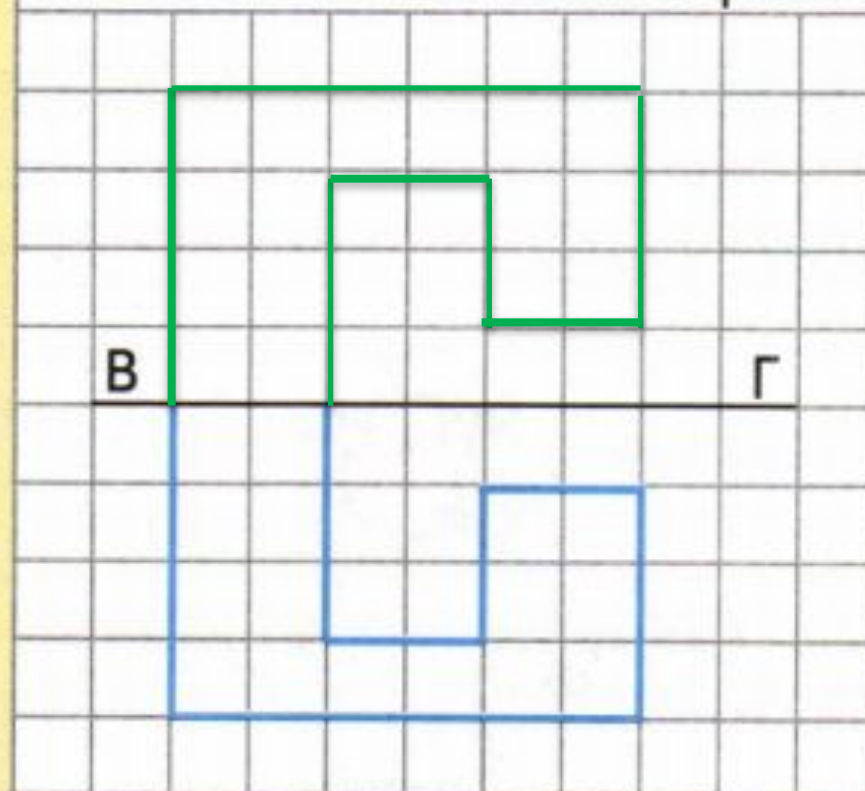


60 Нарисуй отражения фигур:

а) в зеркале $АБ$ – вертикальная ось симметрии.

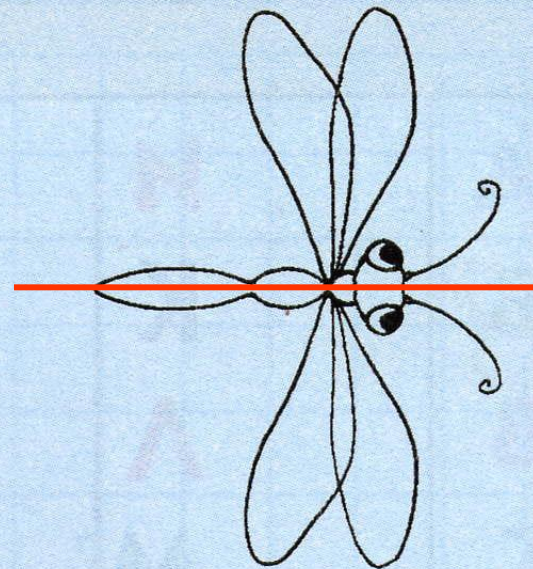
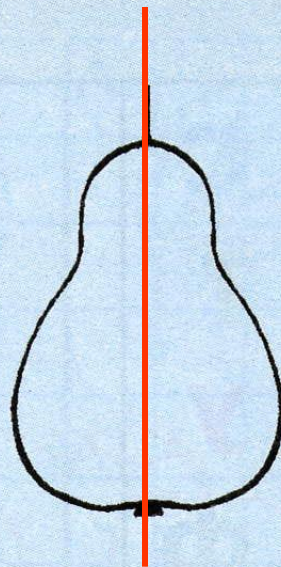
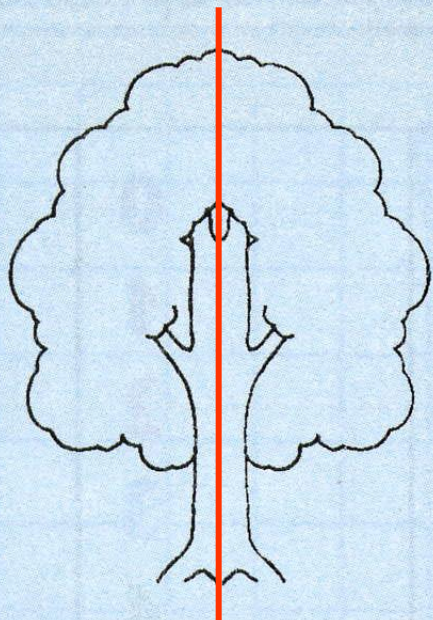


б) в зеркале $ВГ$ – горизонтальная ось симметрии.



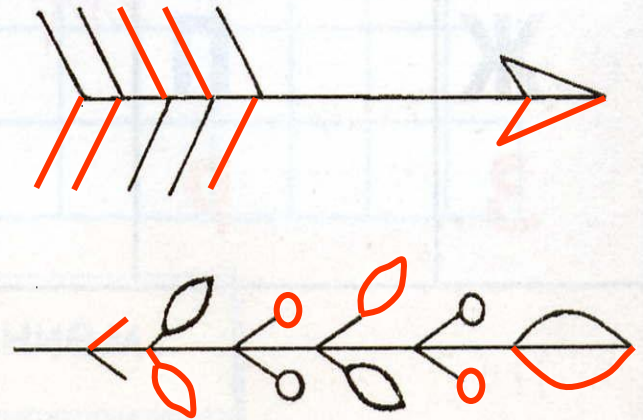

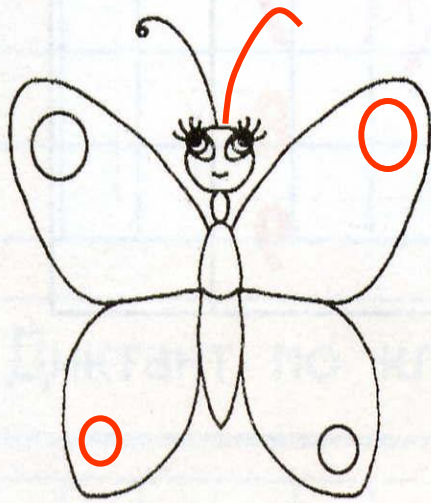
61

Проведи оси симметрии у предметов.



62

Дорисуй и раскрась рисунки, сделав их симметричными по форме и цвету.



Домашнее задание:

- С.34, № 63