



***Тәуелсіздік тұғырым***

**Сабақтың тақырыбы:**  
**«Тәуелсіздік тұғырым»**

*Суреттерді қалай сақтайды?*



Сақталған суретті қалай сақтауға болады?





Сатынған суреттің белгілі бір үзіндісін көшіру үшін қандай операцияны орындайды?



Суреттің орнын ауыстыру үшін не істейміз?



Салынған суреттің кішірейген көшірмесін алу үшін не істейміз?





Суретті жою үшін қандай әрекет жасаймыз?





*Бейнені білу және кескінді алу үшін ...*



*Бейнені созу, еңкейту үшін...*



*Бейнені үлкейтіп көру үшін...*



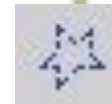


*Суреттің астына мәтін жазу үшін...*





**Paint графикалық редакторында қандай құралдарды таңдауға болады?**




# Бірінші бағанда оюлардың түрлері берілген екінші бағандағы олардың анықтамасын сәйкестендір

<b>1. Өсімдік тәріздес</b>	<b>Е6</b> Ер адам және әйел тұлғасынан немесе жартылай тұлғадан тұрады. Көбіне орыс тігістерінде пайдаланылады.
<b>2. Аң тәріздес</b>	<b>В4</b> Бұл оюға әр түрлі үйлесіммен тіке және қисық сызықтар қолданылады.
<b>3. Геометриялық</b>	<b>А2</b> Бұл ою тігу және тоқуда басты образ ретінде белгілі.Ертегідегідей ой қиялдар мен шындықты бейнелейді.
<b>4. Геральдикалық</b>	<b>А6</b> Бұл үшін символдық белгісі бар заттар қолданылады. Мыс:фирмалық белгілер,гербтар т.б
<b>5. Адам тұлғасы тәріздес</b>	<b>Е2</b> Египетте пайда болып ежелгі Грецияда кеңінен қолданылды.Мұндағы басты элементтер гүлдер,бұтақтар,жапырақтар

	1	2	3	4	5	6	7	8
А								
Б								
В								
Г								
Д								
Е								




**Екі бірдей фигураны тап.**





Дұрыс емес!!!



# Дұрыс!!!



Дұрыс емес!!!






Дұрыс емес!!!





# Дұрыс емес!!!



# Дұрыс!!!



# Үй тәрізді компьютер бейнесін сал.

