

2-кезең



“Ойлан, тап!”



1. Белгілі бір нәрсе (адам, жануар, зат, құбылыс т.б.) туралы таңбалар мен сигналдар түрінде ұсынылатын мәліметтер тобы.



2. XVI-XVII ғасырда пайда болған есептеуіш құрал

Логори
фм
сызғы
шы


Есепш
от

Арифм
омер


Паскал
ь
машин
асы

Кальку
лятор

3. Пернетақтаны неше бөлікке бөлеміз?



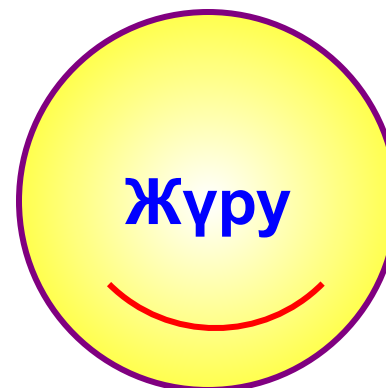
4. Paint графикалық редакторында неше құрал пайдалануға болады?



5. Сандардан жасалған құпия ...?



6. Берілгендердің қайсысы ақпарат түріне
жатпайды?



7. Шығару құрылғысы қайсысы?

Сканер


модем

МОНИТ
ор

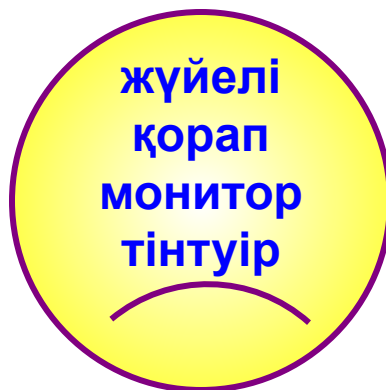
Принте
р

ксерок
с

8. Paint графикалық редакторы қай бағдарламаға жатады?



9. Компьютердің ең басты құрылғылары қайсысы?




*10. Төмендегі суретте бейнеленген құрылғыны тауып,
атқаратын қызметін сипаттаңдар.*





Сканер

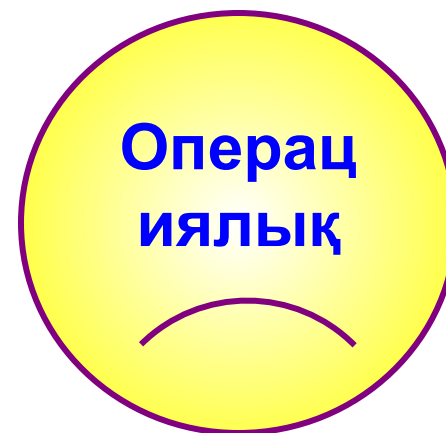
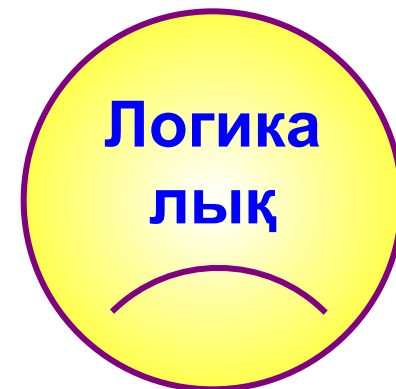
1. Суреттер мен жазулар арқылы берілетін ақпарат түрі?



2.Графикалық редакторды табыңыз?



3. Қайсысы пернетақта бөлігіне жатады?



4. Компьютер құрылғыларына қайсысы жатпайды?

пернет
ақта

тінтуір

Жүйелі
қорап

МОНИТ
ор

модем

5. “Ақпарат” сөзі қай тілдің informatio сөзінен шыққан?



6. Жалған тұжырымды айт.

Мен
дүкенге
бардым


Математ
ика
сабағынд
а
есеп
шығарды
қ

Мен
мектепте
оқимын



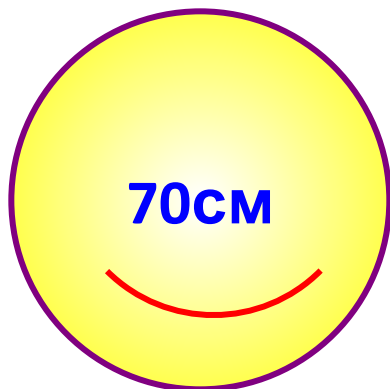
Жылдың
төрт
мезгілі
бар

Сағат
24:00-де
күн
шығып
түр



7. Принтердің неше түрі бар?



8. Көз бен компьютердің ара қашықтығы қанша болу керек?



9. Бір рет жазылатын диск атауы қайсысы?



10. Төмендегі суретте бейнеленген құрылғыны тауып, атқаратын қызметін сипаттаңдар.



Принтер

www.ZHARAR.com

3-кезең

**“Кім
жылдам?”**

1. Ақпаратты шығару құрылғысы.

(Принтер)

2. Дыбыс шығаратын құрылғы.

(Колонка)

3. Ақпараттық процестерді зерттейтін ғылым не деп аталады?

(Информатика)

4. Компьютер жанына қойылатын өсімдік.



(Кактус)

5. Сурет салуға арналған редактор.

(Paint)

6. Төртбұрышты әйнек,
Тұнып тұрған әлек

(монитор)



7. Ұзынтұра Жалқаубек
Тұрмай ылғи жатады
Қозғала қалса артынан
Ешбір белгі қалмайды

(бос орын)

8. Мектеп ауласында 18 шырша өсіп тұр. Тағы да 4
емен және 2 шырша отырғызылды. Мектеп
ауласында барлығы неше шырша бар?

(20)

9. Төртеуі 4 сағат шахмат ойынын ойнады.
Әрқайсысы қанша сағат шахмат ойнады?

(4сағат)

