


Как человек воспринимает сообщения



Выполнила: Алдошина А.

Какие устройства компьютера знаете?



Как человек воспринимает



ЯЗЫК



НОС



УШИ

Человек воспринимает информацию с
помощью пяти органов чувств



ГЛАЗА




КОЖА



Собери ответ из букв

Орган ОСЯЗАНИЯ - это



Ж

Н

Х

А

К

У

Л

С

О

Г

Я

Ы

А

З

З

МОЛОДЕЦ

ЗАПОМНИ!



**Кожа -это орган
ОСЯЗАНИЯ**



Орган **ОСЯЗАНИЯ** - это

К **О** **Ж** **А**

С помощью кожи мы различаем на
ощупь твердые, мягкие, острые,
тупые, горячие или холодные
предметы.



Собери ответ из букв
Орган ЗРЕНИЯ - это



Ж

Н

Х

А

К

У

Г

Л

С


Я

О

Ы

З

А





Молодец!



ЗАПОМНИ!

**Глаза - это орган
ЗРЕНИЯ**



Орган зрения - это



Г

Л

А


З

А

Мы видим окружающий мир с помощью зрения.

Благодаря зрению мы получаем сведения о форме, размере, цвете, количестве, о поведении объектов.

Зрение даёт больше информации, чем другие органы чувств.



Собери ответ из букв
Орган СЛУХА - это



Ж

Н

Х

А

К

У

Г

Л

С


Я

О

Ы

З

А





Молодец!



ЗАПОМНИ!

**Уши - это органы
слуха**



Органы слуха - это

У Ш И



С помощью слуха мы различаем
звУки.



Собери ответ из букв

Орган ВКУСА - это



Ж

Н

Х

А

К

У

Г

Л

С


О

Я

Ы

А


З



Молодец!

ЗАПОМНИ!

Язык -это орган ВКУСА





Орган ВКУСА - это

Я

З

Ы

К

Люди ощущают вкус во время приема пищи.
С помощью органа вкуса **мы различаем**
горькое и сладкое, кислое и соленое.



Собери ответ из букв

Орган **ОБОНЯНИЯ** - это



Ж

Н

Х

А

К

У

Л

С

Г


Я

О

Ы

З

А





Молодец!

ЗАПОМНИ!



**НОС -это орган
обоняния**



С помощью какого органа чувств, изображенного на рисунке, вы получаете информацию?




С помощью какого органа чувств, изображенного на рисунке Вы получаете информацию?



**С помощью какого органа чувств,
изображенного на рисунке Вы получаете
информацию?**



С помощью какого органа чувств, изображенного на рисунке Вы получаете информацию?



С помощью какого органа чувств, изображенного на рисунке Вы получаете информацию?



**Домашнее
задание**
Читать стр. 63-64.

Нарисовать органы восприятия информации человеком

Тетрадь стр. 25, №6
стр.26, №3

По всем возникающим вопросам обращаться на
электронный адрес учителя:
anastasiya.aldos@mail.ru



ТЫ СЕГОДНЯ МОЛОДЕЦ!!!

