

# Выберите верный вариант ответа

Исполнимые файлы, содержащие готовые к исполнению программы имеют расширение:

- txt
- doc
- com
- bmp



# Выберите верный вариант ответа

Текстовые документы имеют расширение:

- exe
- doc
- jpg
- wav



# Выберите верный вариант ответа

Графические файлы, содержащие изображения имеют расширение:

- bmp
- mid
- wav
- txt



# Выберите верный вариант ответа

Звуковые файлы, содержащие голоса и музыку имеют расширение:

- com
- doc
- bmp
- mid



# Выберите верный вариант ответа

Переведите число 39 из 10 системы счисления в 2 систему счисления

- 100111
- 101101
- 100101
- 110111



# Выберите верный вариант ответа

Переведите число 11110 из 2 системы счисления в 10 систему счисления

- 25
- 30
- 35
- 40



# Выберите верный вариант ответа

Переведите число 135 из 10 системы счисления в 2 систему счисления

- 10111111
- 10011111
- 10001111
- 10000111



# Выберите верный вариант ответа

Переведите число 1010010 из 2 системы счисления в 10 систему счисления

- 62
- 72
- 82
- 92





# Выберите верный вариант ответа

Каким десятичным кодом кодовой таблицы Windows закодировано слово «МАРС»?

- 204 192 208 209
- 192 204 208 209
- 209 204 192 208
- 208 192 204 209



# Выберите верный вариант ответа

С помощью кодовой таблицы Windows декодируйте слово. Двоичный код:  
1100101011001101110010001100001111000000.

- Ручка
- Книга
- Пенал
- Ластик



# Выберите верный вариант ответа

Каким двоичным кодом кодовой таблицы Windows закодировано слово «УЧЕБА»?

- 11010111.11000101.11000001.11000000.11010011
- 11000001.11000000.11010011.11010111.11000001
- 11010011.11010111.11000000.11010011.11010111
- 11010011.11010111.11000101.11000001.11000000



# Выберите верный вариант ответа

С помощью кодовой таблицы Windows декодируйте слово. Десятичный код: 195 208 192 212 200 202 192.

- Дневник
- Тетрадь
- Графика
- Ножницы



# Выберите верный вариант ответа

Наименьшая единица измерения информации —  
это:

- Символ
- Бит
- Байт
- Килобайт



# Выберите верный вариант ответа

Сколько битов содержится в одном байте?

- 1024
- 9
- 3
- 108



# Выберите верный вариант ответа

Сколько байтов в слове бит?

- 8
- 2
- 3
- 24



# Выберите верный вариант ответа

В какой строке единицы измерения информации представлены по возрастанию?

- Гигабайт, мегабайт, килобайт, байт, бит
- Бит, байт, мегабайт, килобайт, гигабайт
- Байт, бит, килобайт, мегабайт, гигабайт
- Бит, байт, килобайт, мегабайт, гигабайт





# Определите вид данного суждения. Выберите верный вариант ответа

Некоторые дети не любят ходить в школу

- Общеутвердительное
- Общеотрицательное
- Частноутвердительное
- Частноотрицательное



# Определите вид данного суждения. Выберите верный вариант ответа

Некоторые ученики занимаются спортом

- Общеутвердительное
- Общеотрицательное
- Частноутвердительное
- Частноотрицательное



Определите вид данного суждения.  
Выберите верный вариант ответа


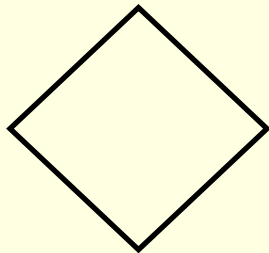

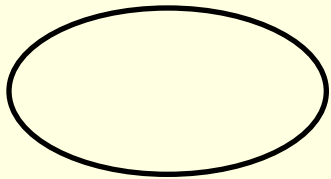
Ни один урок в школе не должен пройти зря

- Общеутвердительное
- Общеотрицательное
- Частноутвердительное
- Частноотрицательное Ча  
рицательное




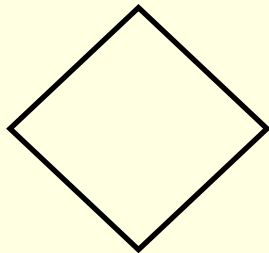

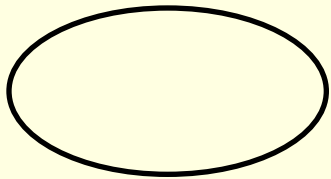
# Выберите верный вариант ответа

Какая из геометрических фигур обозначает принятие решения?




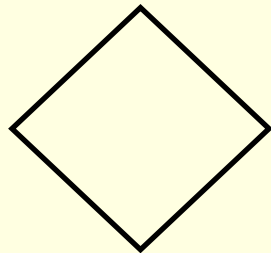

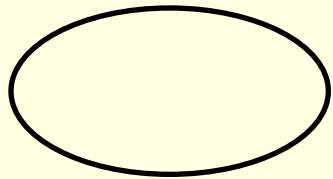
# Выберите верный вариант ответа

Какая из геометрических фигур обозначает ввод или вывод данных?




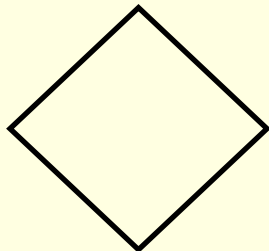

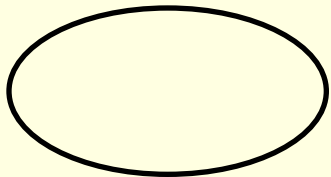
# Выберите верный вариант ответа

Какая из геометрических фигур обозначает выполнение действия?



# Выберите верный вариант ответа

Какая из геометрических фигур обозначает начало или конец?



# Выберите неверный вариант ответа

Формой записи алгоритма являются:

- Графическая
- Словесная
- Линейная
- Таблица





# Выберите неверный вариант ответа

Типы алгоритмов:

- Линейный
- С ветвлением
- С повторением
- Программа





Подумай еще!





умница!

