

ВЕСЁЛАЯ ИНФОРМАТИКА

ДЛЯ 5-6 КЛАССОВ



ЖЮРИ

5

5



1 конкурс



«ПРИВЕТСТВИЕ»

Название команды,
эмблема,
капитан



2 конкурс

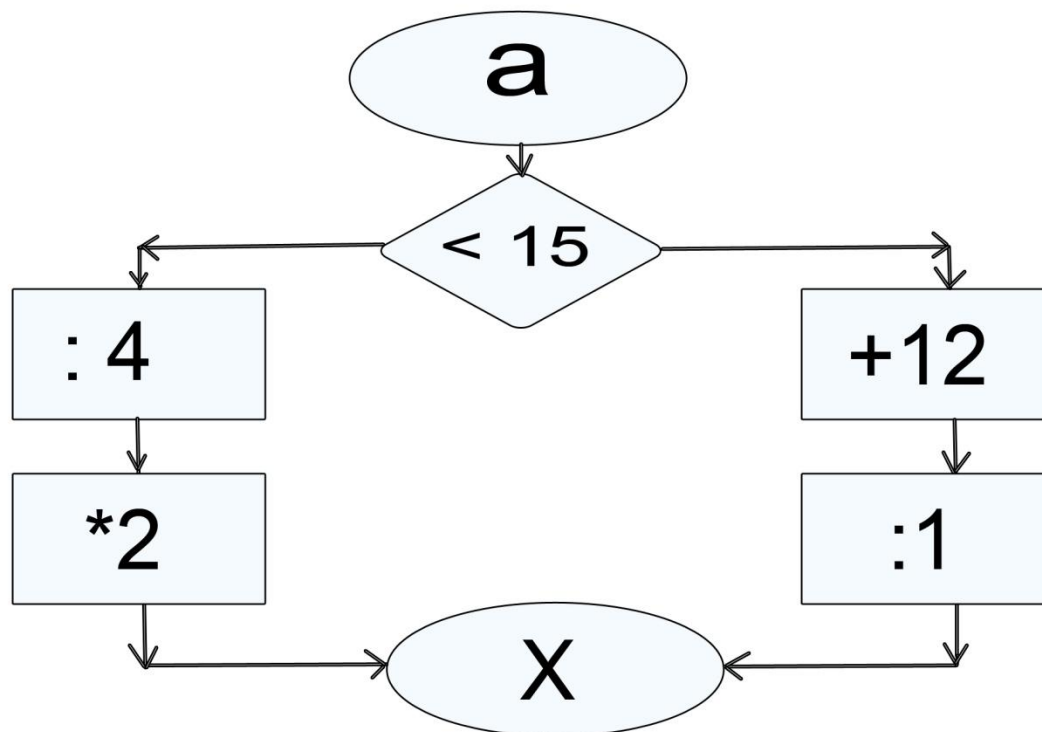
«БЛОК-СХЕМА»



Задание 1:

По блок-схеме вычислите, чему равен X , если $a = 20$; 12 ; 4 .

Ответы написать на бланках ответов.



Задание 2. Составь блок-схему алгоритма для решения задачи.

Красная Шапочка гуляла по лесу и собирала цветочки. Она сорвала 5 колокольчиков, 6 незабудок и 4 василька. Вдруг сзади кто-то захихикал. Красная Шапочка оглянулась и увидела Серого Волка.

- Милая Красная Шапочка, поделись со мной цветами: *если* у тебя *больше* 7 цветочков, дай мне 5, а *иначе* подари хотя бы 3.

Сколько цветов осталось в букете у Красной Шапочки?



3 конкурс

«МИМИКА

И

ЖЕСТЫ»




4 конкурс

«КРОССВОРД»



конкурс
**«ДЛЯ ЗРИТЕЛЕЙ
И БОЛЕЛЬЩИКОВ»**



5 конкурс

«КОДИРОВАНИЕ»



ПОДВЕДЕНИЕ ИТОГОВ

