

Настрой на урок

Проверь, дружок,


Готов ли ты начать урок?

Всё ль на месте, всё ль в порядке

Книжка, ручка и тетрадка?

Проверили? Садитесь!

С усердием трудитесь!







Проверка домашнег о задания

Задание
Стр. 76
№ Д9







Зимние забавы



Подснежники



Капель



Пляж



**Тема
урока:
Порядок
записей в
таблице**

Важная информация



Данные, записанные в одну строку таблицы, называются *записью*.

Каждая запись рассказывает об одном объекте.



Таблица 1

Хвойные деревья (названия упорядочены по алфавиту)

Название	Высота, м	Начало цветения	Длина шишки, см	Длина хвоинки, см
Ель обыкновенная	70	апрель	16	3
Кедр ливанский	40	сентябрь	4	3
Лиственница японская	40	апрель	3	3
Пихта белая	50	апрель	10	3
Пихта гигантская	100	апрель	8	6
Секвойя вечнозелёная	120	февраль	2	2
Сосна гималайская	50	апрель	25	20
Сосна лесная	30	апрель	8	8

Таблица 2

*
Хвойные деревья
(записи упорядочены по убыванию чисел
в столбце «Высота»)

Название	Высота, м	Начало цветения	Длина шишки, см	Длина хвоинки, см
Секвойя вечнозелёная	120	февраль	2	2
Пихта гигантская	100	апрель	8	6
Ель обыкновенная	70	апрель	16	3
Пихта белая	50	апрель	10	3
Сосна гималайская	50	апрель	25	20
Кедр ливанский	40	сентябрь	4	3
Лиственница японская	40	апрель	3	3
Сосна лесная	30	апрель	8	8

Задание №49


Найдите в таблицах «Хвойные деревья» (с. 46-47) ответы на вопросы и запишите их в тетрадь.

- Какое дерево самое низкое?
- Какой длины шишка у самого высокого дерева?
- У какого дерева самая длинная шишка?
- У какого дерева самые длинные хвоинки?


Задание №50

Миша сделал из глины бусины и раскрасил их. Информацию о бусинах он записал в таблицу.

Бусины



		Количество, штук
Круглая	Красная	1
Квадратная	Зелёная	2
Треугольная	Синяя	6



а. Запишите названия столбцов таблицы.

б. Как упорядочены записи?

Записи упорядочены по _____ числа бусин.

с. Нарисуй для Маши бусы. Используй все имеющиеся бусины.

Физкультминутка для глаз





DWW

DWW

DWW

DWW

DWW

Задание на карточках



Самые маленькие животные

Пчелиная колибри

(в натуральную
величину)



Бразильский узкорот

(увеличено в 3 раза)



Ласка

(уменьшено в 3 раза)



Карликовый геккон

(увеличено в 3 раза)

Работа на КОМПЬЮТЕР





**Подведени
е итогов
урока**

Рефлексия «Светофор»




**было трудно,
не понятно**

**было понятно, но не
всё, затрудняетесь**

**было всё понятно
и интересно**

Домашнее задание



Стр. 49
№52

