

ПРЕЗЕНТАЦИЯ СОСТАВЛЕНА НА ОСНОВЕ ПРОГРАММЫ КУРСА  
"ЮНЫМ УМНИКАМ И УМНИЦАМ. РАЗВИТИЕ ПОЗНАВАТЕЛЬНЫХ СПОСОБНОСТЕЙ".  
(АВТОР О.А.ХОЛОДОВА, ЛАУРЕАТ КОНКУРСА "ГРАНТ МОСКВЫ", УЧИТЕЛЬ ВЫСШЕЙ  
КАТЕГОРИИ ПРОГИМНАЗИИ № 1758 СВАО Г. МОСКВЫ)

***ПРЕЗЕНТАЦИЯ ДЛЯ 2 КЛАССА, ЗАНЯТИЕ 19***

13.01.2016 г.

# ЗАНЯТИЕ 19

Стр. 1




# Разминка




1. За тобою он плетется, хоть на месте остается. Что это? **След.**
2. Через речку лег, пробежать помог. Что это? **Мост.**
3. То над нами вверх ногами? **Муха.**
4. На что похожа половина яблока? **На вторую половину.**
5. По чему часто ходят и никогда не ездят? **По лестнице.**
6. Назови кислую ягоду, которая растет на болоте? **Клюква.**
7. Говорят, что эта птица приносит детей. Кто это? **Аист.**
8. Сколько в одном часе минут? **60.**
9. Сколько минут надо варить крутое яйцо – две, три, пять? **Нисколько, уже сварено.**
10. Какие буквы не употребляются в начале русских слов? **ы, ъ, ь.**

# Тренировка внимания

1. Запомните увиденные изображения и зарисуйте как можно точнее.





4




3

2



1



10

2. Посмотри на геометрические фигуры, а затем ответь на вопросы:

а) Какие геометрические фигуры были изображены? \_\_\_\_\_




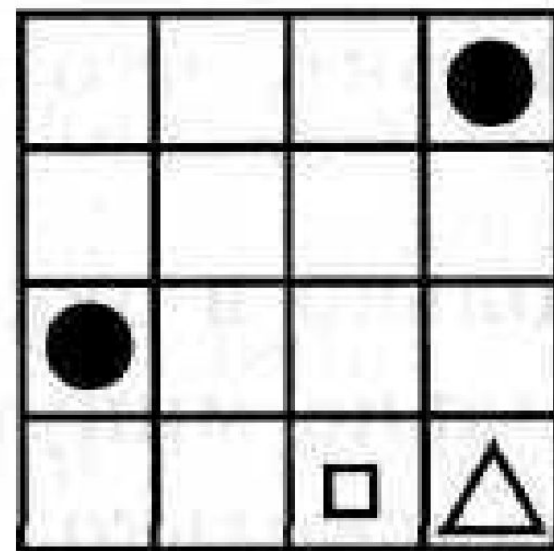
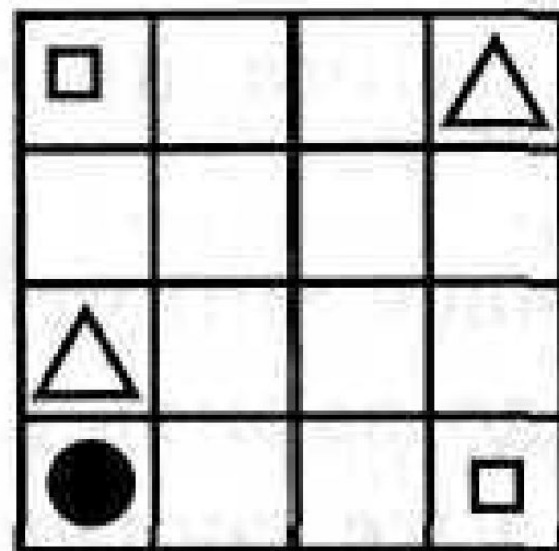
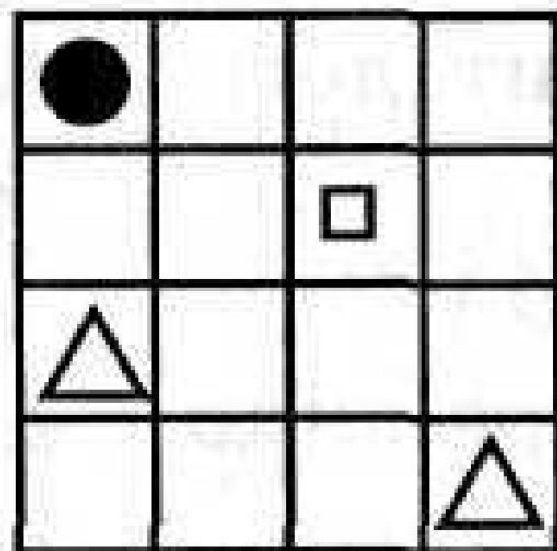
б) Сколько одинаковых геометрических фигур? \_\_\_\_\_

в) Какая фигура была третьей сначала? \_\_\_\_\_

г) Какое число было написано в прямоугольнике? \_\_\_\_\_

д) Чему равна сумма всех чисел? \_\_\_\_\_

4. Посмотри на карточки на доске. Запомни расположение фигур. Нарисуй их по памяти в пустых квадратах.




# Логически-поисковые задания

5. Врач прописал Буратино три таблетки и велел принимать их по одной через каждые 20 минут.

На какое время Буратино хватит этих таблеток?

---



6. Закончи предложения, соединяя с подходящим по смыслу антонимом.

Солнце яркое, а луна...

Улица широкая, а переулок...

Булочка мягкая, а хлеб...

Газета свежая, а журнал...

Доктор Айболит добрый, Баба Яга...

Сажа чёрная, а снег...

Смех громкий, а шёпот...

Чай горячий, а мороженое...

Пруд мелкий, а озеро...

Фрукты дорогие, а овощи...

Клубника крупная, а земляника...

Великан огромный, а Дюймовочка...

Карабас Барабас толстый, а Дуремар...

дешёвые

мелкая

маленькая

худой

злая

старый

чёрствый

узкий


тусклая

белый

тихий

холодное

глубокое





9. Миша, Игорь, Боря и Вася занимались спортом: один – плаванием, другой – бегом, третий – прыжками, четвёртый – коньками. Кто каким видом спорта занимался, если Вася не катался на коньках, Боря не плавал и не катался на коньках, а Миша бегал?

---

---

---

---

---





**МОЛОДЦЫ!**

Д/з



Стр. 3, №8.

• *Mydas heros* Perty •



**Самая крупная муха в мире**  
***Mydas heros*** обитает в Южной  
Америке.

Длина ее тела – 5,5 см, а размах  
крыльев достигает 10 см.



