

«А.Байтұрсыннов атындағы орта мектебі» ММ-сі

Информатика пәні мұғалімі:
Милахатова Айгерім

Сабақтың тақырыбы:

"Сынып көшбасшысы"

интеллектуалды

ойын сабағы

Сабақтың мақсаты:

- Оқушылардың информатика пәніне қызығушылығын арттыру;
- ой-өрісін және танымдық қабілеттерін дамыту;
- шығармашылыққа баулу;
- өз ойын еркін жеткізе білу;
- өткенді шапшаң еске түсіру дағдыларын қалыптастыру.

I тур

"Бәйге"

II тур

«Тіл-өнер»

III тур

"Жеті жұмбақ"

IV тур

"Дода-Көкпар"

V тур

"Жорға"



I – тур. «БӘЙГЕ»

Берілген түрлі анықтамалардың шешімін шапшаң жауап берген оқушылар 10 ұпайға ие болады.

1. **Адам мен компьютер арасындағы қарым-қатынас.**
2. **Аты бар бірқатар байттар тізбегі.**
3. **Ақпараттық процестерді жүзеге асыратын негізгі құрал.**
4. **ЭЕМ-мен жұмыс жасау кезінде экраннан қандай қашықтықта отыру керек?**
5. **Арифметикалық амалдарды есептейтін 1694 жылы Лейбниц ойлап тапқан машина.**
6. **Қағаздағы кескінді экранға шығаратын құрылғы.**
7. **Компьютердің «миы» ең басты бөлігі.**
8. **Принтердің неше түрі бар?**
9. **Графикалық редактор.**
10. **Мәтіндік редактор.**
11. **Компакт-диск оқу құрылғысы.**
12. **Дүниежүзілік компьютерлік желі.**
13. **Компьютер ауруы.**
14. **Windows деген не?**
15. **F1 пернесінің қызметі.**
16. **Компьютердің атасы.**



II тур «Тіл-өнер»

Сендерге жұмбақталып жасырын сөз оқылады. Сол сөзді тауып, қазақ, орыс, ағылшын тілінде айтқан оқушыға 20 ұпай, ал екі тілде айтса 10 ұпай беріледі.

1. Ақпараттың қайнар көзі
2. Фонограф бағдарламасы қандай мәліметтерді өңдейді?
3. «Ас- адамның арқауы», ал компьютердің асы...
4. Программадағы немесе мәтіндегі кемшілік
5. Жіпке ілдім мен өзін,
Кіп-кішкентай күн көзін.
6. Қоршаған орта және онда жүріп жатқан процестер туралы мәліметтер
7. Компьютермен жұмыс жасауды жеңілдететін қосымша құрылғы
8. Экранда жақтаулармен шектелген төртбұрышты аймақ.
9. Сәлем ненің патшасы.
10. Кітап ненің бұлағы.



III тур «Жеті жұмбақ»

20

20

20

30

30

30

40

40


40



Тексеру




20(сол жақта)-сандардың аталу және жазылу әдісі.



Тексеру




*20(ортада)-Гректөрдiң есептеу
құралы.*



Тексеру




20(оң жақта)-келесі жолға өту пернесі.



Тексеру




*30(сол жақта)- Кеңестер Одағында алғаш
ЭЕМ жасаған ғалым*



Тексеру




*30(ортада)- Ең алғашқы программа
жасаған әйел ғалым*




Тексеру




*30(оң жақта)- Интернетке қосылу
құрылғысы.*



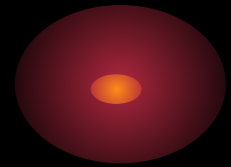
Тексеру




*40(сол жақта)- Логарифм сызғышын
кім жасап шығарды?*



Тексеру




*40(ортада)- Терезені басқару
батырмалары қай жолда орналасқан?*



Тексеру


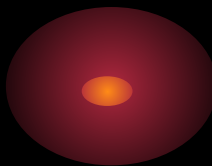


40(оң жақта)- Берілген терезедегі орындауға болатын командалар тізбегі не деп аталады?


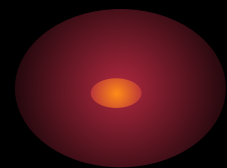




Санау жүйесі




Абак






Enter


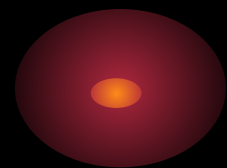






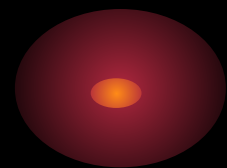

С.А. Лебедев




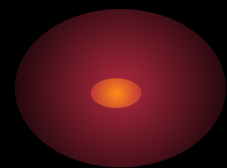
Ада Лавлейс



Моддем


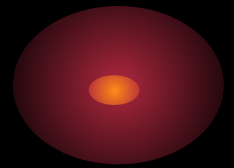


Д. Робертсон


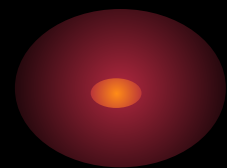




Тақырып жолы

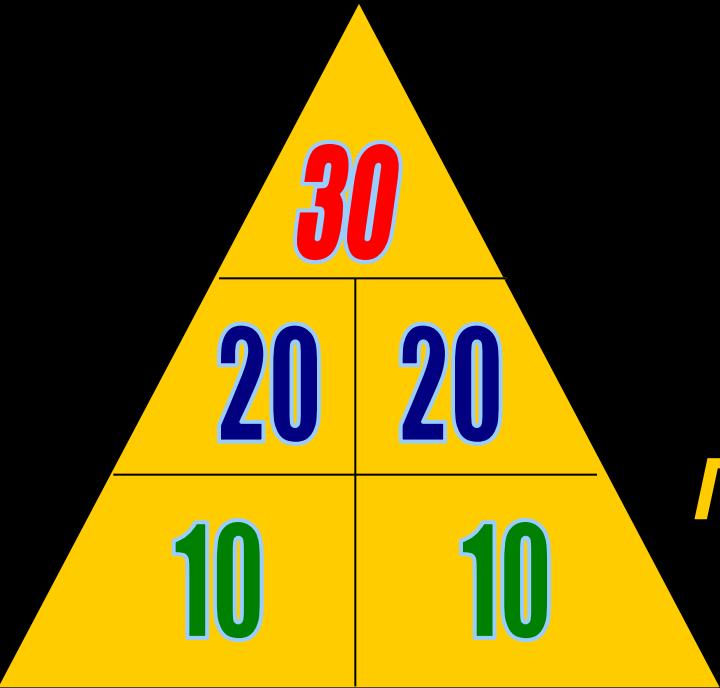


Меню




IV тур «Дода-Көкпар»

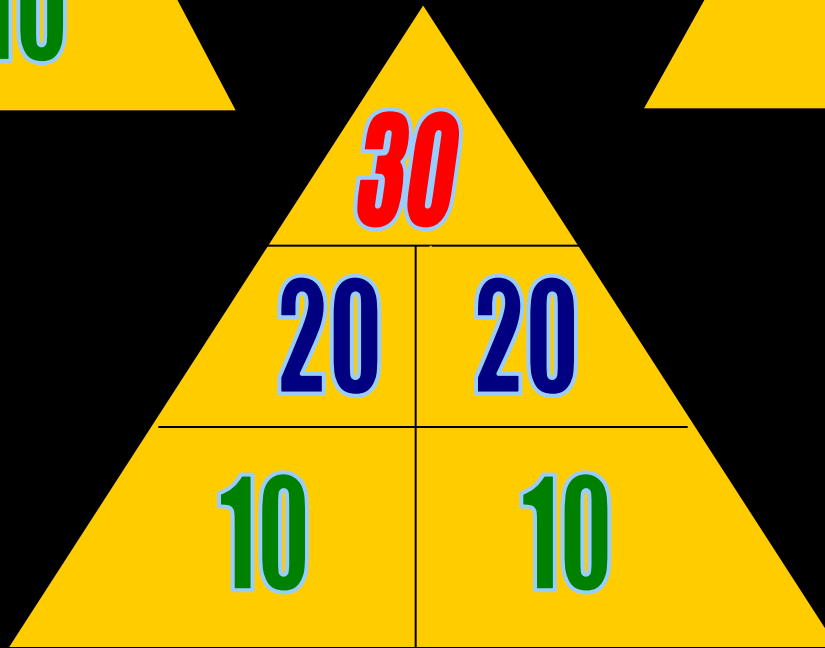
Математика

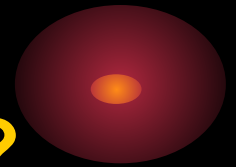


Информатика



Геометрия





30- 80 санының 15% -і қанша?

1) 6

2) 12

3) 8





20-(сол жақ)- «0» саны римдік санау жүйесінде нешені білдіреді?

1) 500

2) 50

3) 1000





**20-(оң жақ)- Анасы 50 жаста, ал қызы
28 жаста.**

**Бұдан неше жыл бұрын қызы
анасынан екі есе жас еді.**

1) 5 жыл 2) 6 жыл 3) 4 жыл

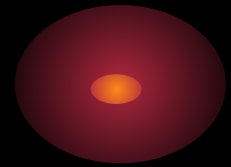




10-(сол жақ)- $y=k/x$ функциясының графигі
не деп аталады?

1) парабола 2) гиперболоа 3) кубпарабола





**10-(оң жақ)- 0,75 дм қанша
сантиметр болады?**

- 1) 0,075см 2) 75 см 3) 7,5 см**





30- Компьютердің қандай құрылғысы адам денсаулығына зиянды?

1) Монитор 2) пернетақта 3) процессор





20-(сол жақ)-«Бит» сөзінде неше бит бар?

1) 3 бит

2) 24 бит

3) 8 бит





**20-(оң жақ)-Microsoft фирмасын құрған кім?
1) Ф.Нейман 2)Пол Аллен 3) Билл Гейтс**





10-(сол жақ)- винчестенр деген не?

1) Қатты диск 2)Иілгіш диск 3)Компакт-диск





10-(оң жақ)- Нақты бір файлды көрсететін белгіше?

1) Файл 2) таңбаша (ярлык) 3) қапшық (папка)





**30- Сыбайлас бұрыштардың бірі екіншісінен
екі есе үлкен.**

Осы бұрыштар неге тең?

1) 400° , 800° 2) 600° , 1200° 3) 900° , 1800°





20-(сол жақ)- Кубтың қанша қыры бар?

1) 8

2) 4

3) 12





**20-(оң жақ)- Координаталар жүйесін
алғаш енгізген ғалым?**

Р.Декарт 2) Пифагор 3) Виет





**10-(сол жақ)- Тең қабырғалы үшбұрыштың
бір қабырғасы 8 см,
оның периметрі неге тең?
1) 16 см 2) 24 см 3) 32 см**






**10-(оң жақ)- Шаршының бір қабырғасы 3 см,
оның ауданы неге тең?**

1) 12 см² 2) 9 см² 3) 6 см²



V тур «Жорға»

1. Терезе нешеге бөлінеді?
2. Бағыттауыш пернелерді ата.
3. II буын машиналарын неден тұрады?
4. Компьютер құрылғылары нешеге бөлінеді?
5. Функционалдық пернелер нешеу?
6. Дыбыс шығару құрылғысы.
7. Ақпараттың ең кіші өлшем бірлігі.
8. Жыпылықтап тұратын тік сызықша.
9. Енгізу құрылғысы.
10. Монитор қандай құрылғы?
11. Графиктік редактор.
12. Бас әріптер режиміне көшу пернесі.
13. Жад нешеге бөлінеді?
14. III буын машиналары неден тұрады?
15. Калькулятордың неше түрі бар?
16. Пернетақтада қанша перне бар?



АНАГРАММА

Берілген әріптерден сөз
құрап анықтама беріңіз.

НИМОТОР

АНАГРАММА



Берілген әріптерден сөз
құрап анықтама беріңіз.

ТАКСИЕД

АНАГРАММА

Берілген әріптерден сөз
құрап анықтама беріңіз.

ПЬЮРОМТЕК

АНАГРАММА

Берілген әріптерден сөз
құрап анықтама беріңіз.

РУЖРОС

АНАГРАММА

Берілген әріптерден сөз
құрап анықтама беріңіз.

ДЖОЙСКИТ

АНАГРАММА

Берілген әріптерден сөз
құрап анықтама беріңіз.

Ф О Н Р О М И К

АНАГРАММА

Берілген әріптерден сөз
құрап анықтама беріңіз.

ТУНІТІР

АНАГРАММА



ЛАЙФ

Назарларыңызға
рахмет!

Спасибо
за внимание!!!

