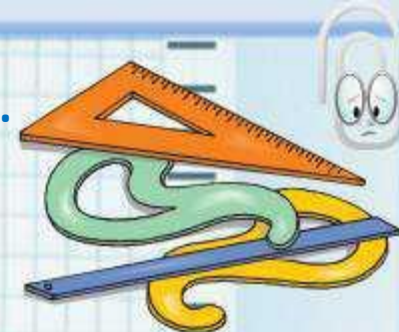


Подготовила: учитель информатики Самусенко Е.С.



---

ТЕМА УРОКА:  
**ТАБЛИЦА ДЛЯ МЕШКА**  
(ПО ДВУМ ПРИЗНАКАМ)


---



МОУ СОШ №11, г. Электросталь, 2016 год



Д



Сосчитаем, сколько  
каких квадратных  
бусин в мешке Д.  
Заполним таблицу  
для квадратных  
бусин этого мешка:

	КВАДРАТНАЯ
СИНИЙ	1
КРАСНЫЙ	1
ЗЕЛЁНЫЙ	2
ЖЁЛТЫЙ	1

Сосчитаем, сколько  
каких треугольных  
бусин в мешке Д.  
Заполним таблицу  
для треугольных  
бусин этого мешка:

	ТРЕУГОЛЬНАЯ
СИНИЙ	1
КРАСНЫЙ	2
ЗЕЛЁНЫЙ	0
ЖЁЛТЫЙ	2

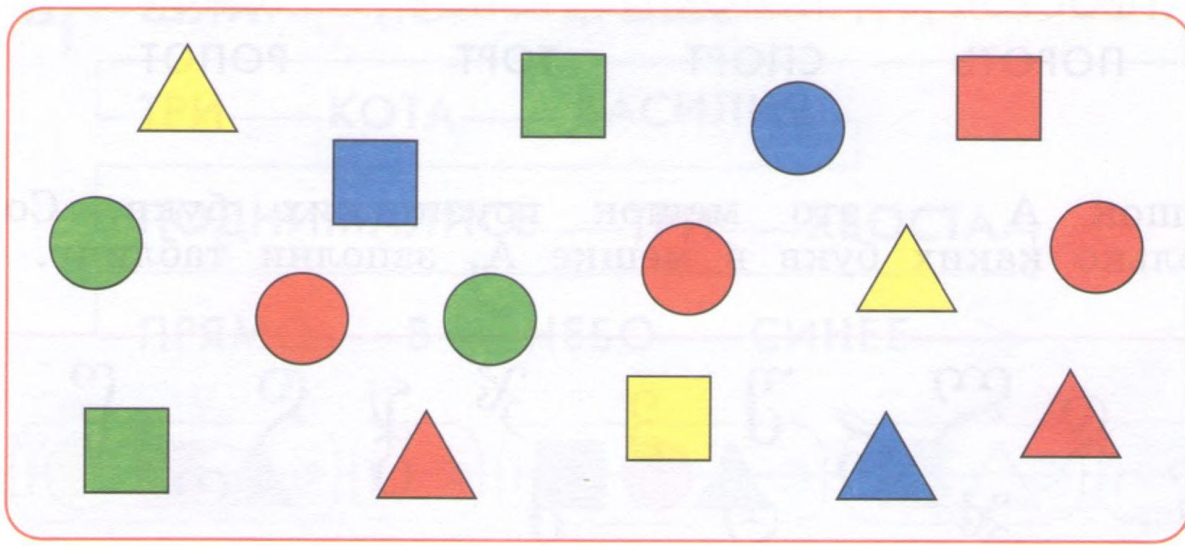
Сосчитаем, сколько  
каких круглых бусин  
в мешке Д.  
Заполним таблицу  
для круглых бусин  
этого мешка:

	КРУГЛАЯ
СИНИЙ	1
КРАСНЫЙ	3
ЗЕЛЁНЫЙ	2
ЖЁЛТЫЙ	0





Д



Соединим теперь все три таблицы в одну:

	КВАДРАТНАЯ	ТРЕУГОЛЬНАЯ	КРУГЛАЯ
СИНИЙ	1	1	1
КРАСНЫЙ	1	2	3
ЗЕЛЁНЫЙ	2	0	2
ЖЁЛТЫЙ	1	2	0

Мы получили таблицу для мешка Д, которая распределяет бусины мешка Д одновременно по двум признакам: по цвету и по форме.

14

Заполни таблицу для мешка G.

G





Таблица для мешка G:

ЦВЕТ / ФИГУРКА	КРАСНЫЙ	ЗЕЛЁНЫЙ	ЖЁЛТЫЙ
ЯБЛОКО	7	3	8
ГРУША	5	7	5





Заполни все эти таблицы для мешка К.



<b>15</b>	<b>7</b>	<b>4</b>

<b>8</b>	<b>10</b>	<b>8</b>

<b>8</b>	<b>11</b>	<b>7</b>	<b>0</b>

<b>4</b>	<b>8</b>	<b>5</b>	<b>9</b>

Глаза \ Нос				
	<b>6</b>	<b>6</b>	<b>3</b>	<b>0</b>
	<b>2</b>	<b>3</b>	<b>2</b>	<b>0</b>
	<b>0</b>	<b>2</b>	<b>2</b>	<b>0</b>

Брови \ Рот				
	<b>3</b>	<b>2</b>	<b>2</b>	<b>1</b>
	<b>0</b>	<b>2</b>	<b>3</b>	<b>5</b>
	<b>1</b>	<b>4</b>	<b>0</b>	<b>3</b>

16

Сосчитай, сколько областей в картинке, заполни окно в о



Ответ: в этой картинке <sup>7</sup>  областей.

Это экологический знак, который используется для обозначения того, что товар или его упаковка могут быть переработаны для вторичного использования.

1	6
2	7
3	8
4	9
5	

17

Напиши в окнах слова так, чтобы для этой картинки были истинны все утверждения.

Дедка тянет из земли - **РЕПКУ**

Следующая после бабки - **ВНУЧКА**

Предыдущая перед мышкой - **КОШКА**

Мелшой тянет - **МЫШКА**

Вторая перед Жучкой - **БАБКА**

Вторая перед Жучкой - **МЫШКА**

Жучка тянет репку раньше - **КОШКИ**

Жучка тянет репку раньше - **ВСЕХ**

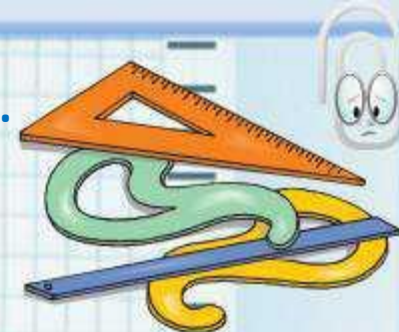
-

Мышка тянет репку позже -





Подготовила: учитель информатики Самусенко Е.С.



**СПАСИБО  
ЗА ВНИМАНИЕ!**



МОУ СОШ №11, г. Электросталь, 2016 год

