

«Білгір болсан, озып көр» Іскерлік ойын





I кезең

«Білімді сынап көр»

(Тест 15 сұрақ)



III кезең

«Венгр сөзжұмбағы»
Кестеде берілген сөздерді
тауып, сөздерді үш тілде айту
керек.

<i>А</i>	<i>Қ</i>	<i>Т</i>	<i>І</i>	<i>Н</i>	<i>К</i>	<i>А</i>	<i>М</i>	<i>Е</i>	<i>Р</i>
<i>К</i>	<i>П</i>	<i>Е</i>	<i>Т</i>	<i>Т</i>	<i>У</i>	<i>А</i>	<i>Р</i>	<i>Ж</i>	<i>А</i>
<i>Ө</i>	<i>А</i>	<i>Р</i>	<i>Е</i>	<i>З</i>	<i>К</i>	<i>І</i>	<i>Т</i>	<i>Е</i>	<i>Б</i>
<i>Ш</i>	<i>Р</i>	<i>А</i>	<i>Т</i>	<i>Е</i>	<i>Д</i>	<i>И</i>	<i>А</i>	<i>Л</i>	<i>А</i>
<i>І</i>	<i>Е</i>	<i>Т</i>		<i>Л</i>	<i>Е</i>	<i>С</i>	<i>П</i>	<i>І</i>	<i>Т</i>
<i>Р</i>	<i>М</i>		<i>Н</i>	<i>О</i>	<i>Ф</i>	<i>К</i>		<i>Р</i>	<i>Ы</i>
<i>И</i>	<i>Н</i>	<i>Т</i>	<i>Е</i>	<i>Р</i>	<i>Н</i>	<i>Е</i>	<i>Т</i>	<i>М</i>	<i>А</i>



Ақпарат – Информация - Information
Көшірме – Копия - Copy
Терезе – Окно - Windows
Телефон – Теле дыбыс - Telephone
Тінтуір – Мышка - Mouse
Кітап – Книга - Book
Диск – Диск - Disk
Желі – Сеть - Net
Батырма – Кнопка - Button
Камера – Бейне бақылағыш – Camera
Интернет- Интернет- Internet





III кезең

Кім жылдам?



**Б, Д, М әріптерінен
басталатын
информатикалық
терминдерді жазу
керек**

Сәйкестендір:

- | | |
|----------------------|---|
| 1. Пернетақта ----- | Түрлі ақпараттарды экранға шығару құрылғысы |
| 2. Тышқан ----- | Ақпаратты енгізуге арналған құрылғы |
| 3. Жүйелі блок ----- | Түрлі ақпаратты баспа бетіне шығару құрылғысы |
| 4. Монитор ----- | Компьютердің жұмысын басқаруға арналған құрылғы |
| 5. Принтер ----- | Ақпаратты өңдеуге арналған құрылғы |

«Адасқан әріптер» Бұл сайыста оқушыларға әріп орындары ауысып кеткен сөздер беріледі. Әріптерді орындарына қою арқылы компьютер құрылғыларының аттары мен информатика пәніне қатысты термин сөздер шығару керек.

Сөздер -- жауаптары

Ретьюмопк

Демом

Лайф


Ротином

Нирперт

Красен

Шытқан

Тиврсутиан

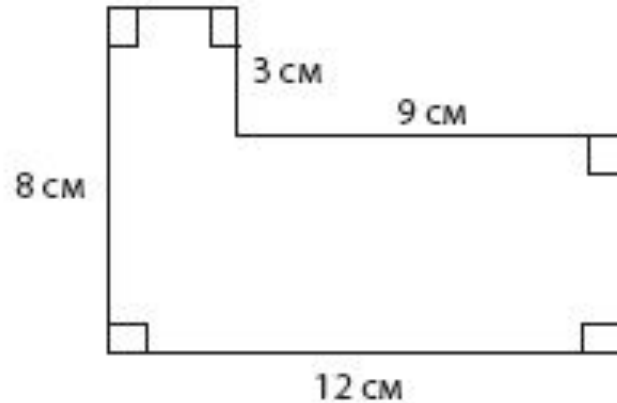


2, 5, 11, 23, ...

Жоғарыда берілген тізбек 2 санынан басталады. Төмендегі ережелердің қайсысын қолдана отырып, осы тізбектің әрбір келесі мүшесін табуға болады?

- Ⓐ Тізбектегі алдыңғы мүшеге 1-ді қосып, одан кейін 2-ге көбейту керек.
- Ⓑ Алдыңғы мүшені 2-ге көбейтіп, одан кейін 1-ді қосу керек.
- Ⓒ Алдыңғы мүшені 3-ке көбейтіп, одан кейін 1-ді азайту керек.
- Ⓓ Алдыңғы мүшеден 1-ді азайтып, одан кейін 3-ке көбейту керек.





Суретте бейнеленген фигураның ауданы шаршы сантиметрмен алғанда неге тең болады?

- (A) 66
- (B) 69
- (C) 81
- (D) 96



Жетпей тұрған санды көрсетіңіз (бос орын арқылы:
ең алдымен жоғарыдағысын, содан кейін
төмендегісін) –

<i>16</i>	<i>15</i>	<i>17</i>	<i>14</i>	<u> </u>	<i>18</i>
<i>32</i>	<i>33</i>	<i>31</i>	<i>34</i>	<u> </u>	<i>30</i>





IV кезен
Логикалық
сұрақтар

1-ден 99-ға дейінгі барлық сандар қатарынан жазылған. 5 цифры қанша рет кездеседі? **20 рет**

Бір айда бес жексенбі бола ала ма? **я**

Бір жанұяда бес ұл бар. Олардың әрқайсысының қарындасы бар. Сол жанұяда қанша бала бар? **6 бала.**

Үш тауық үш күнде үш жұмыртқа салады. 12 тауық 12 күнде қанша жұмыртқа салады? **48 жұмыртқа.**

Үш метрлік 60 бөренені жарты метрлік шөкелерге арамен бөлу керек. Қанша рет аралап кесу керек? **300 рет кесу керек.**

Үйдің 6-шы қабатына дейінгі басқыштың ұзындығы 2-ші қабатқа дейінгі басқыштың ұзындығынан неше есе ұзын? **5 есе**



$$1+1+1+1+1$$

$$1+1+1+1+1$$

$$1+1*0+1=?$$

$$4+11+3+11+1=30$$

36 санына байланысты. Мына сұрақтарға тез жауап беріңдер.

- ❖ 36 дан үлкен сандарды ата? $37,38$
- ❖ 36 –дан кіші сандарды ата? $35,34$
- ❖ Екі тең қосылғыштың қосындысы түрінде жаз? $18+18$
- ❖ Үш тең қосылғыштың түрінде жаз? $12+12+12$
- ❖ Екі тең емес көбейткіштердің көбейтіндісі түрінде жаз? $4*9$
- ❖ Екі тең көбейткіштердің көбейтіндісі түрінде жаз? $6*6$
- ❖ Үш тең емес көбейткіштің көбейтіндісі түрінде жаз? $2*6*3$



Ү кезең Суретшілер әлемі

Информатика

Менің үйім


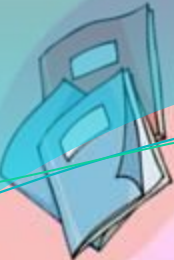

Өсімдік

Теңіз

Жәндік

Жануар





**Білімді, ұшқыр ойлы
ойыншыларымыз, білім
сайысында кездескенше**

САУ БОЛЫҢЫЗДАР

Назар аударғандарыңызға рахмет!

