

Одинаково или
нет?

Понятия
«равно»,
«не равно»




Ступенька № 1




Ступенька № 2




- 1 Раскрась подсолнухи. Сосчитай, сколько лепестков у каждого цветка, и нарисуй у каждого подсолнуха столько семечек, сколько у него лепестков.




Оцени работу соседа по парте



Нет ни одной ошибки



Допущены 1-2 ошибки ¹



Допущено больше 2 ошибок


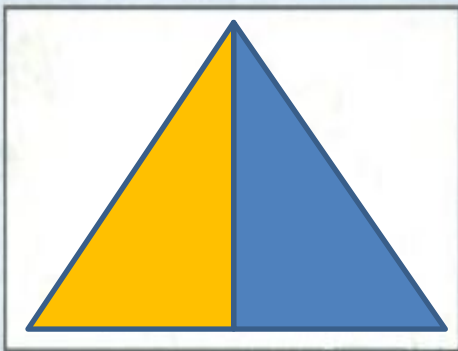


Ступенька № 3



3

Сосчитай треугольники, рядом нарисуй столько же кругов.



На зарядку




становись!

Ступенька № 4

7 а) Дорисуй чашки так, чтобы их стало поровну на всех полках.

* б) Раскрась нарисованные чашки.

в) Какая чашка лишняя в первом ряду?



Ступенька № 5


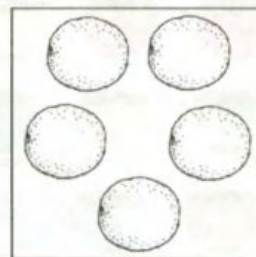



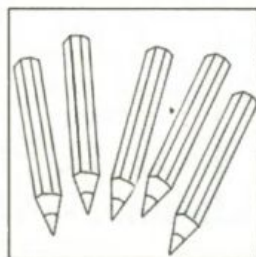
У Вовы 3 конфеты, а у Зины не столько же.
Сколько конфет может быть у Зины?





Исследовательская работа

а) Найди пары рисунков с одинаковым количеством предметов, раскрась их одним цветом и соедини линией того же цвета.



б) Дай общее название предметам в первом ряду. Какой рисунок лишний во втором ряду? Дай общее название предметам во втором ряду.

Подведем итоги



Я доволен своей
работой



Я работал неплохо



Мне было трудно



Безнайка и его друзья

Молодцы!