

Электронная тетрадь по информатике для 2 класса

**Автор: Шутёмова В.В.,
учитель начальных классов
МОУ «Шляпниковская СОШ»**

Содержание

1. Клоун-жонглёр

2. Составь слова

3. Удалите лишнее слово

4. Назови одним словом

5. Выбери слово

6. Вставь слово

7. Граф

8. Понятия

9. Множества

10. Алгоритм

11. Высказывания

12. В гостях у приведений

13. Координаты

14. Игра «Записка»

15. Игра на внимание

16. Смысловые пары

17. Закономерность

18. Кодирование



1



4



6



3



5



7



8



2



9



10



1. Уберите в каждом слове одну согласную так, чтобы получилось новое слово:



2. Вставьте в каждом слове одну букву так, чтобы получилось новое слово:



**В каждой строчке удалите
лишнее слово**




Как назвать это ОДНИМ СЛОВОМ



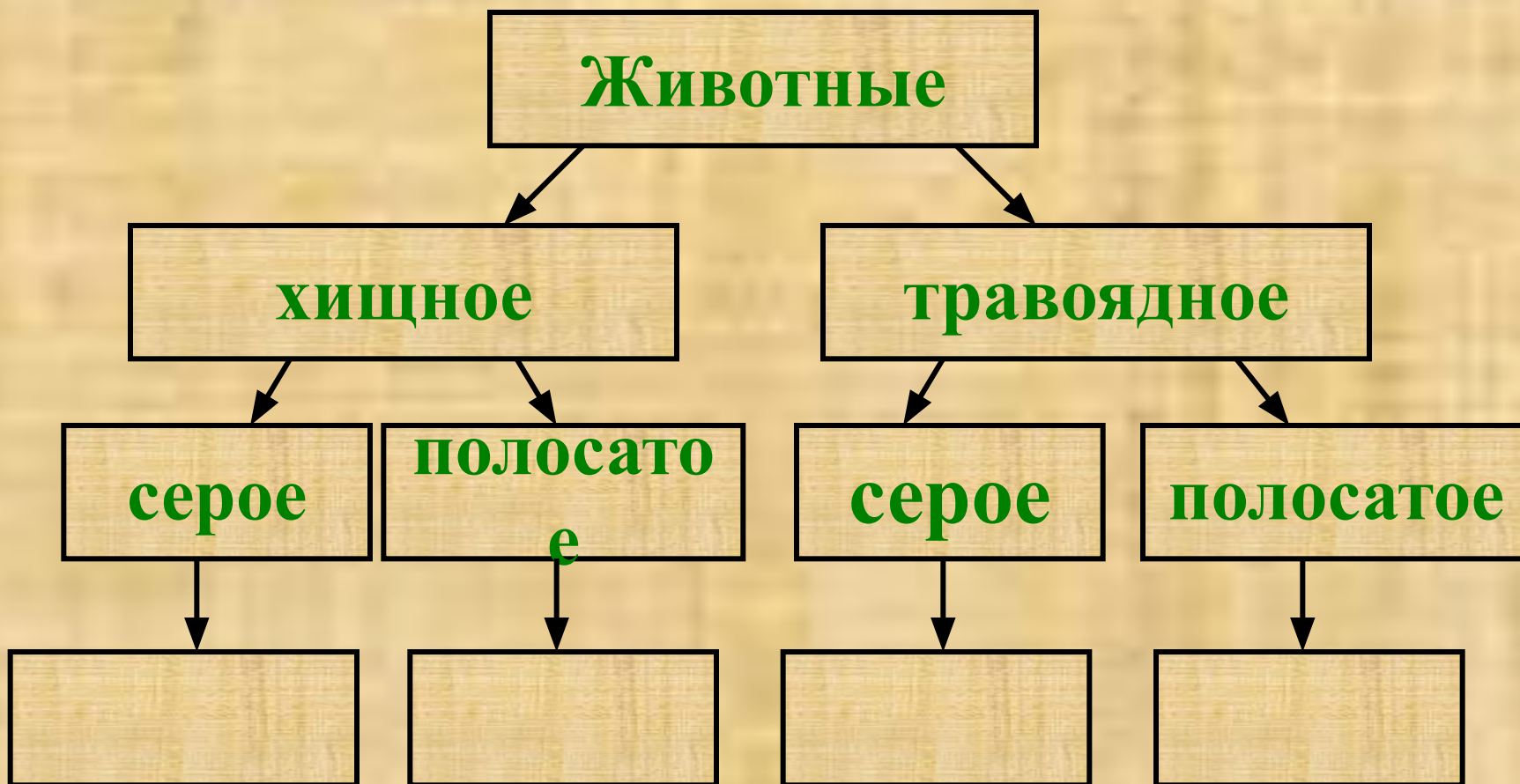
Оставь только то слово, которое можно вставить вместо точек







Установите, какая существует связь между словами первой пары, и во второй паре вместо знака вопроса вставьте слово, подходящее по смыслу.



**Заполните граф –
подумайте и запиши
слова в пустые рамочки**



Заполни таблицу

Понятия-	это...	у которого есть...	который может...
			
			
			
			



Назови каждое множество, а затем все множества одним словом



Расставь команды алгоритма «Посади дерево» в правильном порядке

Посади саженец в ямку

Засыпь ямку

Поставь лопату и лейку на место

Выкопай ямку


Возьми лейку и полей саженец

Возьми лопату и саженец

Посади саженец в ямку



**Определите, высказывания истинные они или ложные.
Поставьте «+», если высказывание истинно, «-» - ложно.**



Жили – были три приведения: УУУ, ААА, БРР. В какое время года каждое из приведений любило пугать людей, прячась на ветках деревьев и оставаясь невидимыми, если перед пуганьем УУУ обливаётся жёлтой краской, ААА – белой, а БРР обливаётся зелёной краской.



Впиши ответы:





БРР

УУУ

ААА



Запиши адрес героев

5					
4					
3					
2					
1					
	1	2	3	4	5



Мартышка написала записку. Что здесь написано?

4 2 3 0 9 4 9 1 3 5 9 6 3 1
8 6 4 10 7 0



С	$4 + 2 - 1$	
И	$10 - 1 - 1$	
Р	$2 + 2 - 2$	
Н	$5 + 6 - 10$	
Ы	$3 + 3 + 1$	

У	$9 + 1 - 6$	
Л	$4 + 7 - 1$	
К	$4 + 3 - 1$	
	$1 + 5 + 3$	
А	$8 - 3 - 2$	
!	$10 - 7 - 3$	



**Постарайтесь без ошибок ответить на вопросы:
Сколько лепестков у цветка?**

**Какие небесные светила изображены на
картинке?**

Какой предмет изображен под номером 3?

В какую сторону дует

Есть ли ручка на двери

Сколько стрелок на циф

Есть ли в чашке во

В какую сторону едет м



**Проанализируйте следующие смысловые пары и впишите
вместо пропусков необходимые слова.**

Курица – цыпленок, лошадь - ...

Заяц – капуста, ... - -желудь

Небо – птица, вода - ...

Человек – врач, ... - ветеринар

Михаил – крокодил, ... -воробей

Человек – губы, ... - хобот

Лариска – крыса, Алиса - ...

Музыка – ноты, слова - ...

Платье – портной, туфли - ...

... - сердце, машина – мотор



**Найдите закономерность
и продолжите ряд:**

1, 2, 3, 4, 5, 6, ...

а, б, в, г, д, е, ...

1, 2, 4, 8, 16, ...

1, 2, 3, 4, 5, 6, 7, 8, 9, 1, 0, 1, 1, ...

о, д, т, ч, п, ш, ...



В этой таблице спрятаны обрывки записок Зайца (А2, Г6, Г1, А6, В3, Б1, Г4, Б4); Волка (А3, Г2, Б3, Г5, Б2, Б6, В2, В6); и записки для тебя (В5, А1, Г3, А4, В1).

Восстанови эти записки .

	1	2	3	4	5	6
А	М ол	Гл а	Од и	ц. У	яж а	яз а
Б	-е	шо	яц х	ог и	юу т	ад в
В	РА !	ал у	йц а	ца ф	Т ы -	чш е
Г	ед л	нз а	оде	го н	ор о	вн о

Записки зайца

Записки волка

Записки для тебя

