

Компьютерное информационное моделирование

Модель

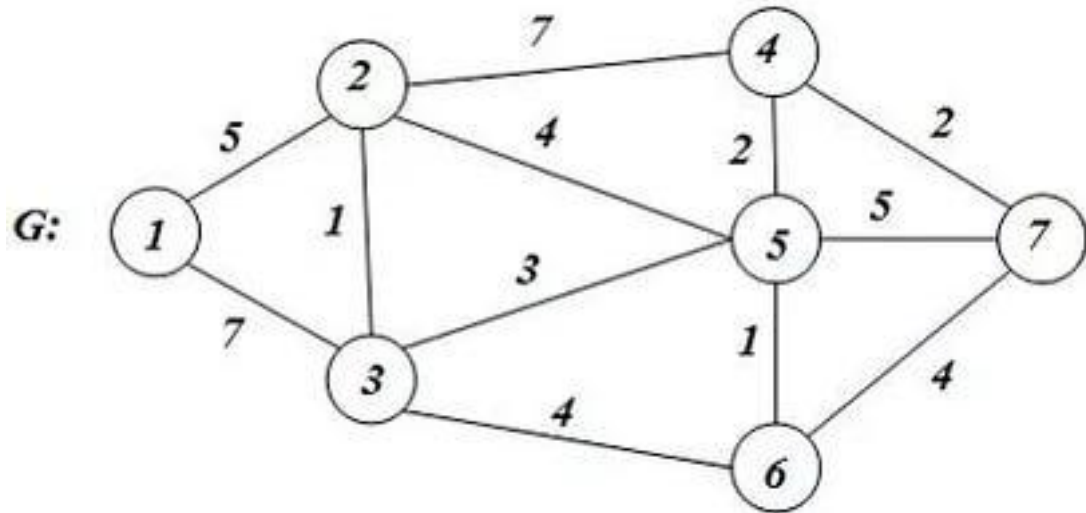
Материальная

Информационная

Этапы моделирования



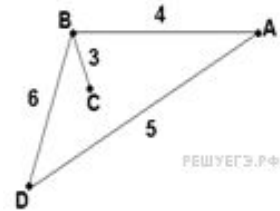
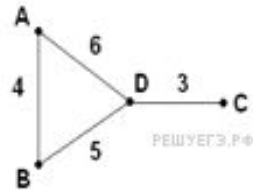
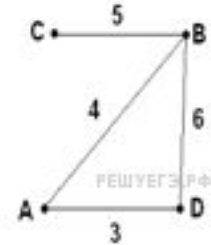
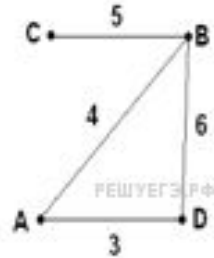
Структура данных



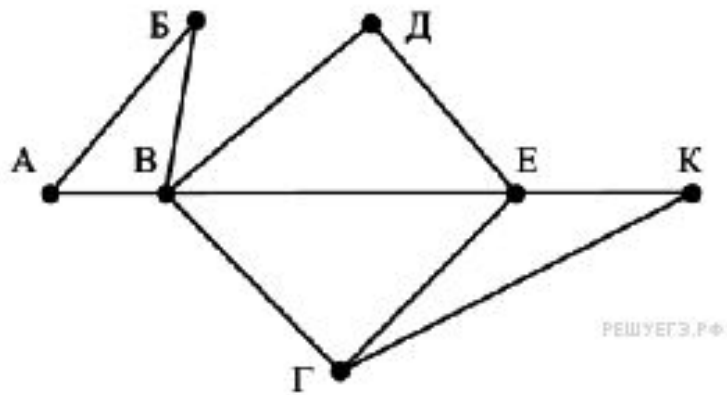
ПЕРВОЕ И ВТОРОЕ ЗАДАНИЕ

В таблице приведена стоимость перевозок между соседними железнодорожными станциями. Укажите схему, соответствующую таблице.

	A	B	C	D
A		4		5
B	4		3	6
C		3		
D	5	6		



ТРЕТЬЕ ЗАДАНИЕ



	П1	П2	П3	П4	П5	П6	П7
П1		45		10			
П2	45			40		55	
П3					15	60	
П4	10	40				20	35
П5			15			55	
П6		55	60	20	55		45
П7				35		45	

ЧЕТВЕРТОЕ ЗАДАНИЕ

	A	B	C	D	E
A		4	3		7
B	4			2	
C	3			6	
D		2	6		1
E	7			1	

	A	B	C	D	E
A		2	5		6
B	2			3	
C	5				
D		3			1
E	6			1	

	A	B	C	D	E
A			2	2	6
B				2	
C	2			2	
D	2	2	2		
E	6				

	A	B	C	D	E
A		5	2		6
B	5			5	
C	2			2	
D		5	2		3
E	6			3	

ПЯТОЕ ЗАДАНИЕ

	A	B	C	D	E	F
A		4				
B	4		6	3	6	
C		6			4	
D		3			2	
E		6	4	2		5
F					5	