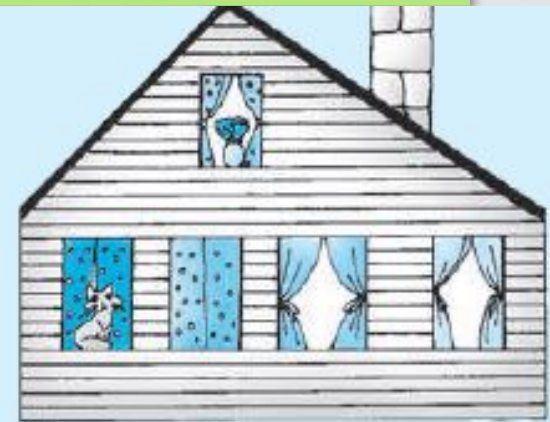










12

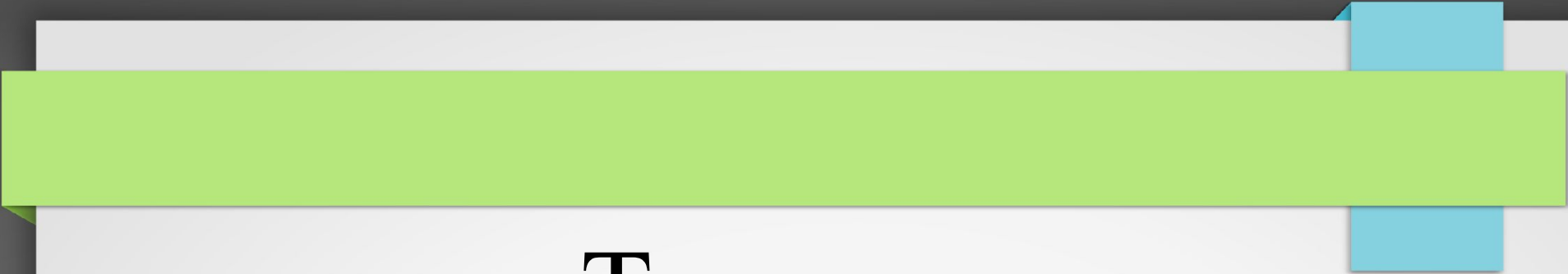
• Нарисуй квадрат и круг в прямоугольнике. Впиши в фигуры номера слов из списка. Дорисуй фигуры в последней строке таблицы и закрась часть прямоугольника.



1. Море
2. Берег
3. Остров
4. Волна
5. Шторм
6. Камень
7. Океан
8. Пляж

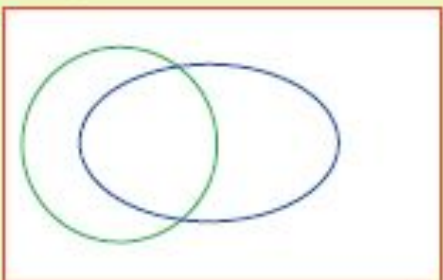


Множества:	
	- слов из 5 букв
	- слов с буквой «О»
	- слов из 5 букв И с буквой «О»



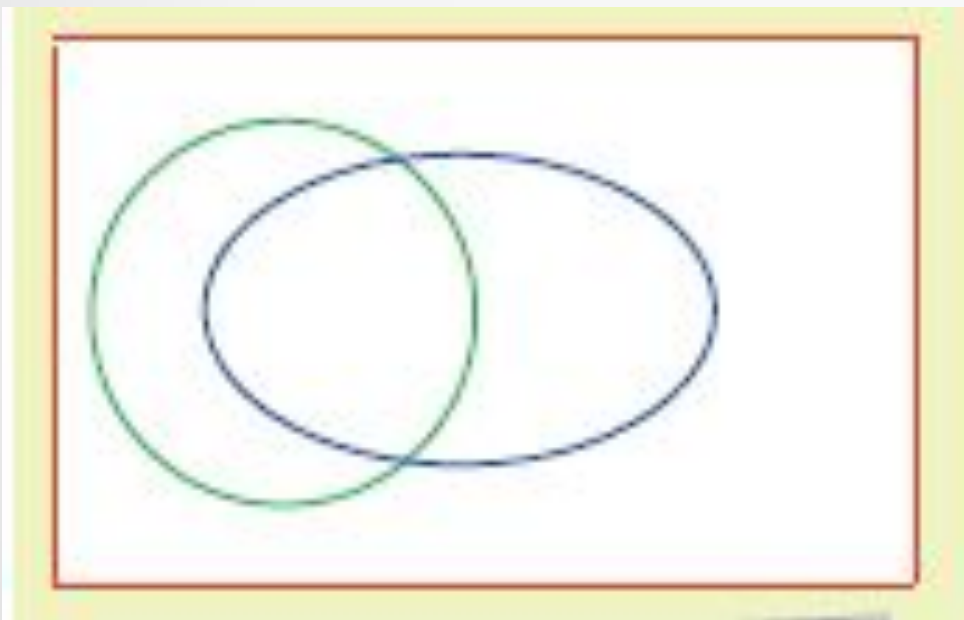
Тема урока:
«ПЕРЕСЕЧЕНИЕ И
ОБЪЕДИНЕНИЕ
МНОЖЕСТВ»

- 13 • Впиши в фигуры номера рисунков. Сколько тарелок в каждом множестве? (Запиши ответы в клетках таблицы.)



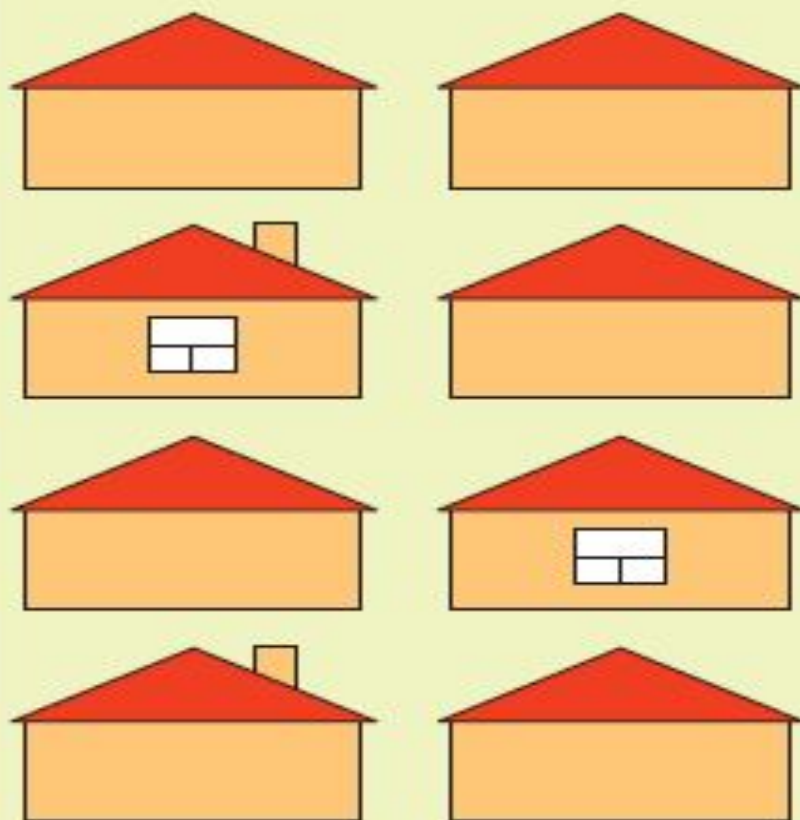
Множества:

	- тарелок на рисунке	<input type="checkbox"/>
	- тарелок с яблоками	<input type="checkbox"/>
	- тарелок с грушами	<input type="checkbox"/>
	- тарелок с яблоками И грушами	<input type="checkbox"/>
	- тарелок, на которых есть фрукты (яблоки ИЛИ груши)	<input type="checkbox"/>
	- тарелок, на которых НЕТ фруктов	<input type="checkbox"/>



Множества:		
	- тарелок на рисунке	<input type="checkbox"/>
	- тарелок с яблоками	<input type="checkbox"/>
	- тарелок с грушами	<input type="checkbox"/>
	- тарелок с яблоками И грушами	<input type="checkbox"/>
	- тарелок, на которых есть фрукты (яблоки ИЛИ груши)	<input type="checkbox"/>
	- тарелок, на которых НЕТ фруктов	<input type="checkbox"/>

- 14 • Закрась в таблице части фигур. Посмотри в таблице, сколько домиков должно быть в каждом множестве. Дорисуй окошки и трубы. Впиши числа в пустые клетки таблицы.



Множества:		
<input type="checkbox"/>	– домиков на рисунке	<input type="text" value="8"/>
<input type="checkbox"/>	– домиков с трубой	<input type="text" value="4"/>
<input type="checkbox"/>	– домиков с окном	<input type="text" value="4"/>
<input type="checkbox"/>	– домиков с трубой И с окном	<input type="text"/>
<input type="checkbox"/>	– домиков с окном ИЛИ с трубой	<input type="text"/>
<input type="checkbox"/>	– домиков с окном, но без трубы	<input type="text"/>
<input type="checkbox"/>	– домиков без окна и без трубы	<input type="text" value="2"/>



Физминутка

15

• Придумай и впиши пропущенные названия множеств.



– множество тюльпанов



– множество _____



– множество тюльпанов



– множество _____



– множество тюльпанов



– множество _____





**Домашнее задание:
с. 10, упр. 16, упр.17**

Рефлексия содержания учебного материала

Сегодня на уроке я:

- научился...
- было интересно...
- было трудно...
- мои ощущения...
- этот урок дал мне для жизни...
- больше всего понравились задания...



