

Контрольная работа №3

Королёва Ирина Николаевна
учитель начальных классов
МКОУ СОШ №2
г.Нефтекумск

Подпиши работу!

Контрольная работа

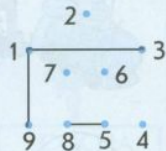


Класс _____
 Фамилия _____
 Имя _____



ВАРИАНТ 1

1 Соедини по порядку точки.



2 Расставь пропущенные цифры.



3 Раскрась буквы.



4 а) Вычеркни лишний предмет.



б) Подчеркни то, что осталось.

ЦВЕТЫ ДЕРЕВЬЯ КУСТЫ

Контрольная работа

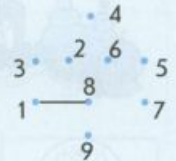


Класс _____
 Фамилия _____
 Имя _____




ВАРИАНТ 2

1 Соедини по порядку точки.



2 Расставь пропущенные цифры.



3 Раскрась буквы.



4 а) Вычеркни лишний предмет.

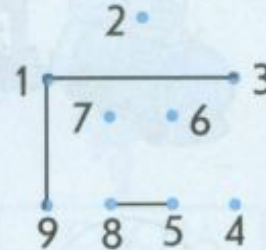


б) Подчеркни то, что осталось.

ЦВЕТЫ ДЕРЕВЬЯ КУСТЫ

1 вариант

1 Соедини по порядку точки.

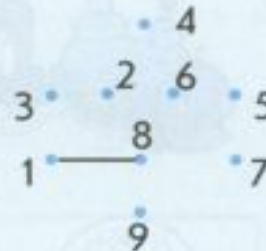


2 Расставь пропущенные цифры.

9 7 6 4 1 0

2 вариант

1 Соедини по порядку точки.



2 Расставь пропущенные цифры.

9 8 6 5 2 0



1 вариант

3 Раскрась буквы.



4 а) Вычеркни лишний предмет.



б) Подчеркни то, что осталось.

ЦВЕТЫ ДЕРЕВЬЯ КУСТЫ

2 вариант

3 Раскрась буквы.



4 а) Вычеркни лишний предмет.



б) Подчеркни то, что осталось.

ЦВЕТЫ ДЕРЕВЬЯ КУСТЫ

физминут ка















Молодц
ы!




1 вариант

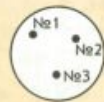
5 Сравни множества по числу фигур. Поставь знак $>$, $<$ или $=$.



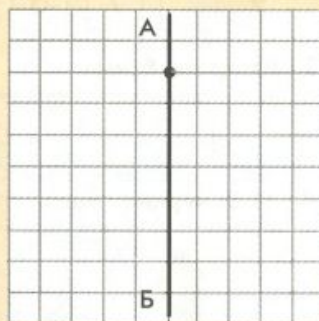
6 Нарисуй по картинке схему.



Животные



Вагоны



7 а) Диктант по клеточкам.
б) Нарисуй отражение.

8 Что означают цифры?

2	4	5	6	1	3
П	А	Л	Ь	Т	О


5	4	2	3	1	6

2 вариант

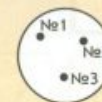
5 Сравни множества по числу фигур. Поставь знак $>$, $<$ или $=$.



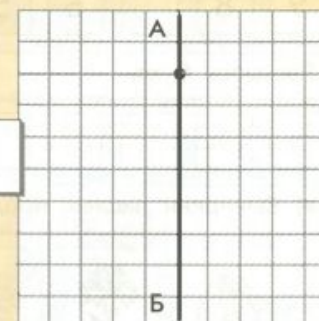
6 Нарисуй по картинке схему.



Животные



Вагоны



7 а) Диктант по клеточкам.
б) Нарисуй отражение.

8 Что означают цифры?

5	4	2	3	1	6
Л	А	П	О	Т	Ь

2	4	5	6	1	3

1 вариант

5 Сравни множества по числу фигур. Поставь знак $>$, $<$ или $=$.

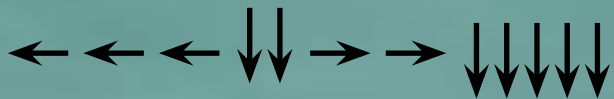


2 вариант

5 Сравни множества по числу фигур. Поставь знак $>$, $<$ или $=$.




Диктант



1 вариант

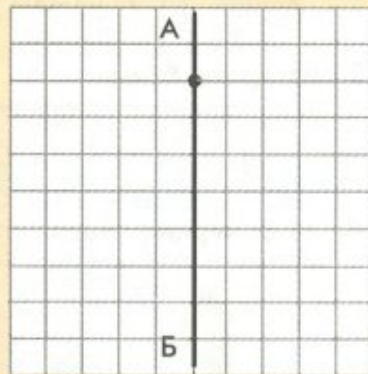
6 Нарисуй по картинке схему.



Животные




Вагоны



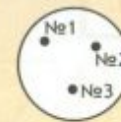
7 а) Диктант по клеточкам.
б) Нарисуй отражение.

2 вариант

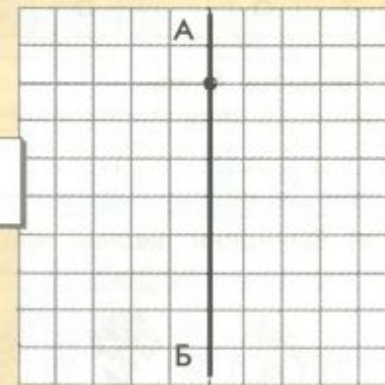
6 Нарисуй по картинке схему.



Животные



Вагоны



7 а) Диктант по клеточкам.
б) Нарисуй отражение.

1 вариант

8 Что означают цифры?

2	4	5	6	1	3
П	А	Л	Ь	Т	О

5	4	2	3	1	6

2 вариант

8 Что означают цифры?

5	4	2	3	1	6
Л	А	П	О	Т	Ь

2	4	5	6	1	3

ИСТОЧНИК

И

<http://www.liveinternet.ru/users/3166127/post167749172>

<http://animashki.kak2z.org/category.php?cat=30&pn=7>

<http://www.welldes.com/gif-animacija/nasekomye.html>

<http://www.liveinternet.ru/users/4683208/post221607694/>