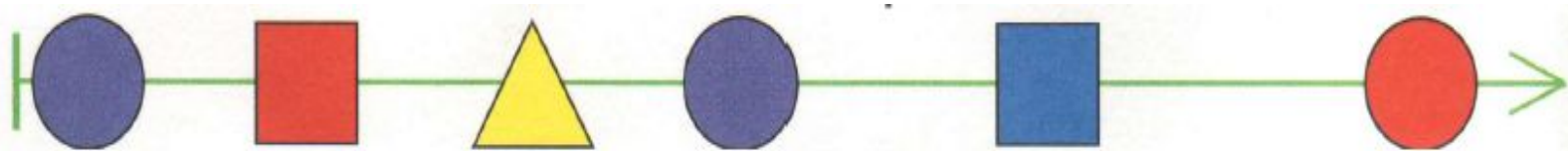


Проверочный тест
Длина цепочки
Информатика. 3 класс
Тест 1



Вопрос № 1

Чему равна длина цепочки?



A

B

C

6

5

7

Вопрос № 2

Определите длину цепочки **К-О-Р-О-В-А**

A	B	C	D
4	5	6	7

Вопрос № 3

Определите длину цепочки Ф



А	В	С
0	1	2

Вопрос № 4

Длина какого слова больше 8

A	БОТВИНЬЯ
B	РЕВУНЬЯ
C	БЕГУНЬЯ
D	ПОПРЫГУНЬЯ

Вопрос № 5

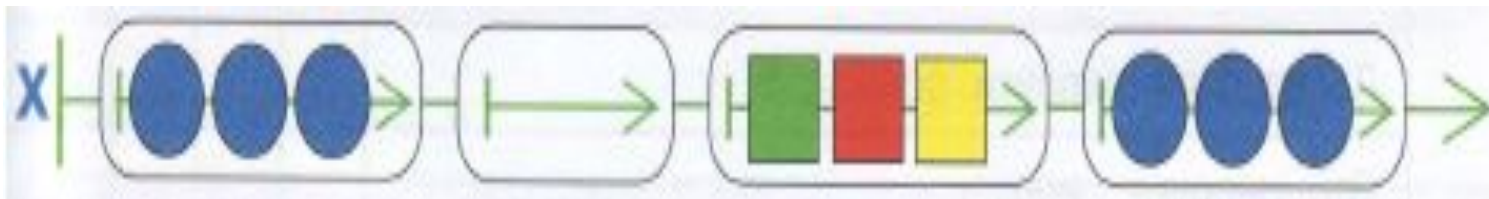
Найди длину цепочки



A	B	C
5	6	7

Вопрос № 6

Чему равна длина цепочки X



A

9

B

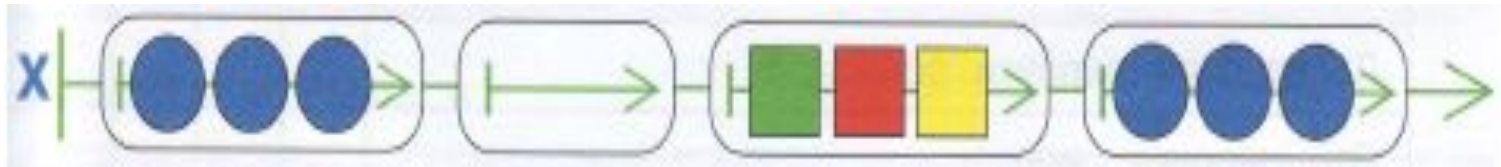
4

C

5

Вопрос № 7

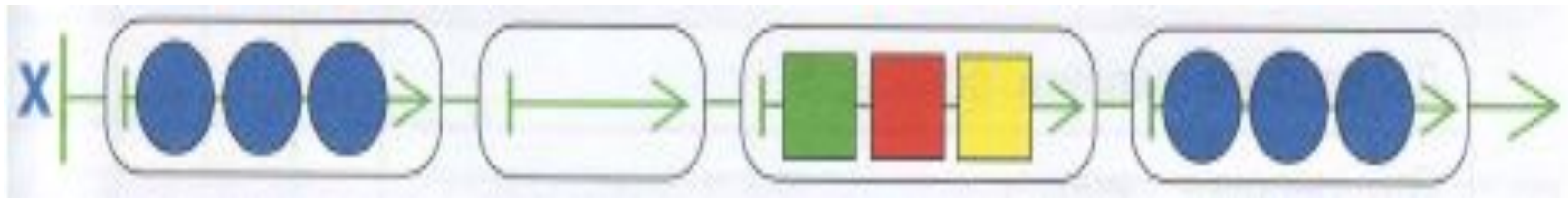
Чему равна длина третьей бусины цепочки
X?



A	B	C	D
3	4	5	0

Вопрос № 8

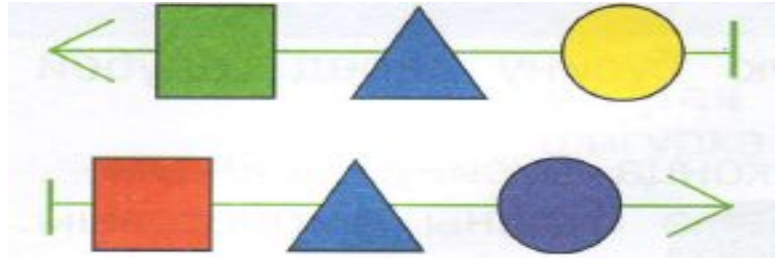
Чему равна длина второй бусины цепочки X?



A	B	C
0	1	3

Вопрос № 9

Каждая бусина этой цепочки – это слово



А	В	С
И	Л	Н



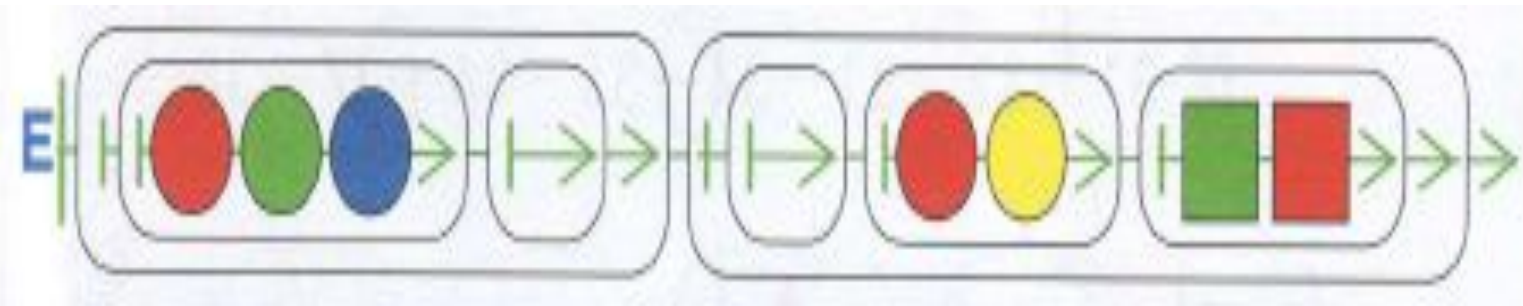
Вопрос № 10

Мешок Z это мешок букв
слова.....

A	B	C	D
ПОТОК	ТОПОТ	ТОПОР	ПОРТ

Вопрос № 11

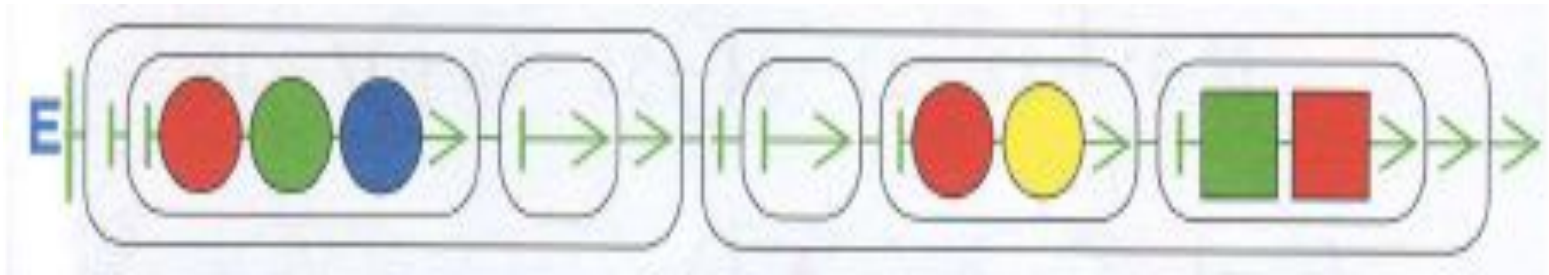
Чему равна длина второй бусины цепочки E?



A	B	C
3	4	5

Вопрос № 12

Чему равна длина первой бусины цепочки E?



A

2

B

3

C

5

Вопрос № 13

Чему равна длина цепочки E?



A	B	C
2	3	5

Вопрос № 14

Завтра будет пятница, значит, сегодня.....

А

Среда

В

Четверг

С

Вторник

Вопрос № 15

Сегодня понедельник , значит , позавчера
было

А

Воскресенье

В

Суббота

С

Пятница

КОНЕЦ