

Логика на уроках информатики.



Содержание

Задание № :

• 1 • 2 • 3 • 4 • 5


• 6 • 7 • 8 • 9 • 10

• 11 • 12 • 13 • 14 • 15

• 16 • 17 • 18 • 19 • 20

• 21 • 22 • 23 • 24 • 25





Сколько в доме этажей?
Какова длина ушей?
Сколько ног у многоножек?
И какой размер сапожек?
Где живет Барбос знакомый?
Точный адрес? Номер дома?
Чтоб ответы получить,
Надо цифры повторить.



Задание № 1

Какие из данных цифр меньше 6?

Сколько всего чисел ?

Сколько разных цифр ?


Прочитай в порядке возрастания.

Прочитай в порядке убывания.



Задание № 2

Четыре спелых груши
На веточке качалось,
Две груши снял Павлуша,
А сколько груш осталось?



Задание № 3

Сидели песни пели
Под деревом медведи


Найди количество листьев
различными способами.

В руках у них по
ветке.




Задание №4


Четыре девочки из детского сада Аня, Варя, Галя и Зина играли с апельсинами. Напиши, каким из апельсинов играла каждая девочка, если апельсин Вари не самый маленький, но он меньше, чем у Ани и Зины. А апельсин Ани не меньше, чем у Зины.




1



2



3




4



Задание №5

Сколько яблок ты видишь на картинке.



Задание №6

Выпиши только те примеры, ответ которых равен 5.

$1+4$

$4+3$

$2+3$

$5-5$

$6-2$

$6-1$

$0+5$

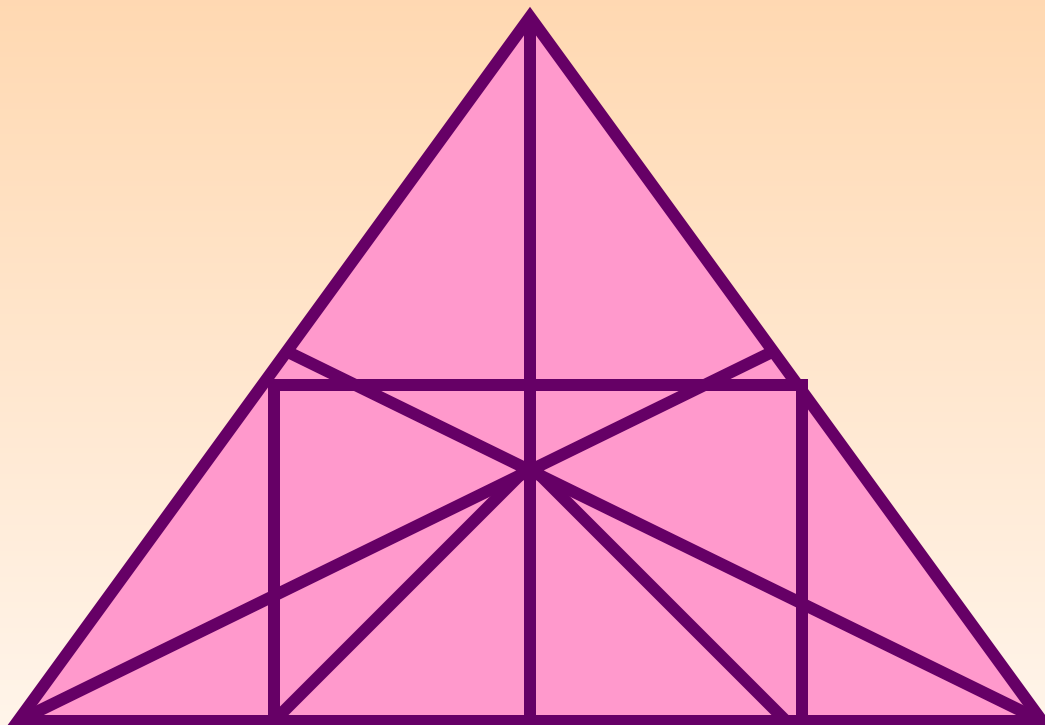
$3+3$

$8-3$




Задание № 7

Сосчитай сколько здесь
треугольников.





Задание № 8

Запиши разные случаи
состава числа 8.




Задание № 9

Принесла зайчиха мать,
Деткам яблоки опять.
Вот проблема, как же быть?
Яблоки нам разделить.



Задание № 10

Напиши 3 множества.



Задание № 11

Сидели песни пели,
На веточках синички.
К ним в гости прилетели,
Знакомые синички.

- Сколько синичек стало вместе?
- Сколько прилетело?
- На сколько больше прилетело?



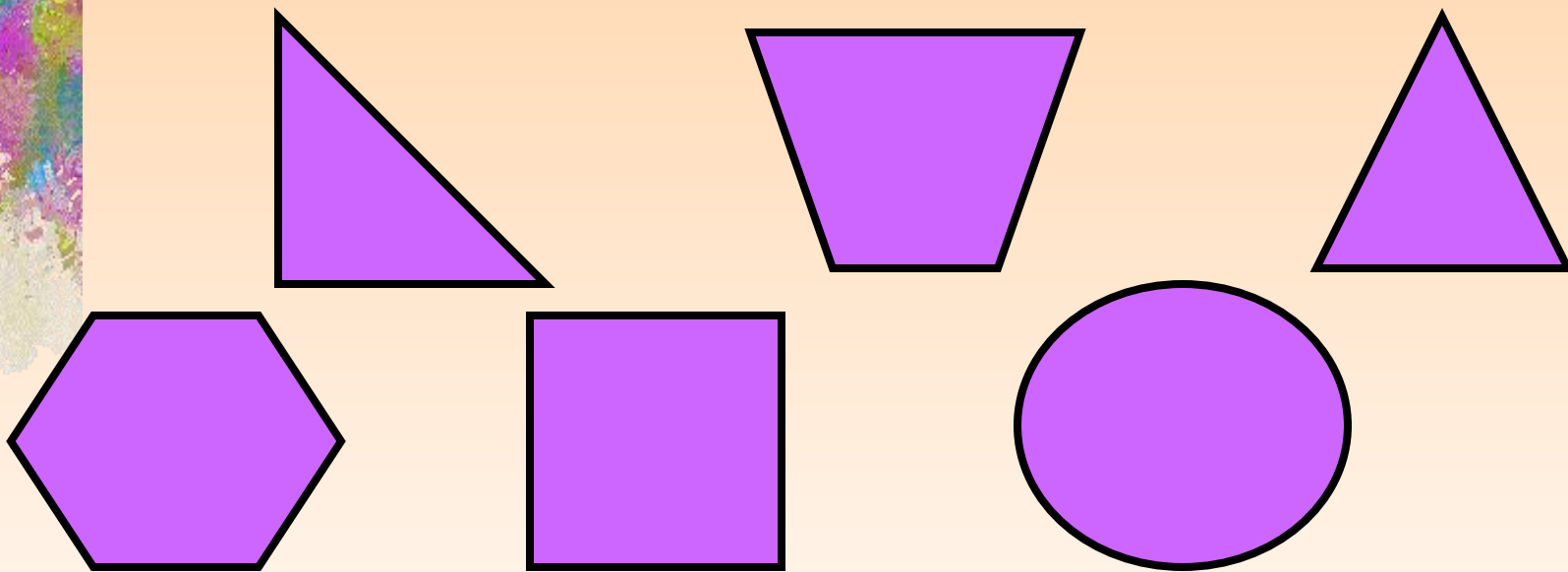
Задание № 12

- Какое животное нарисовано третьим, если считать от дерева?
- Каким по счету будет птица, если считать от дерева?
- А если считать слева?




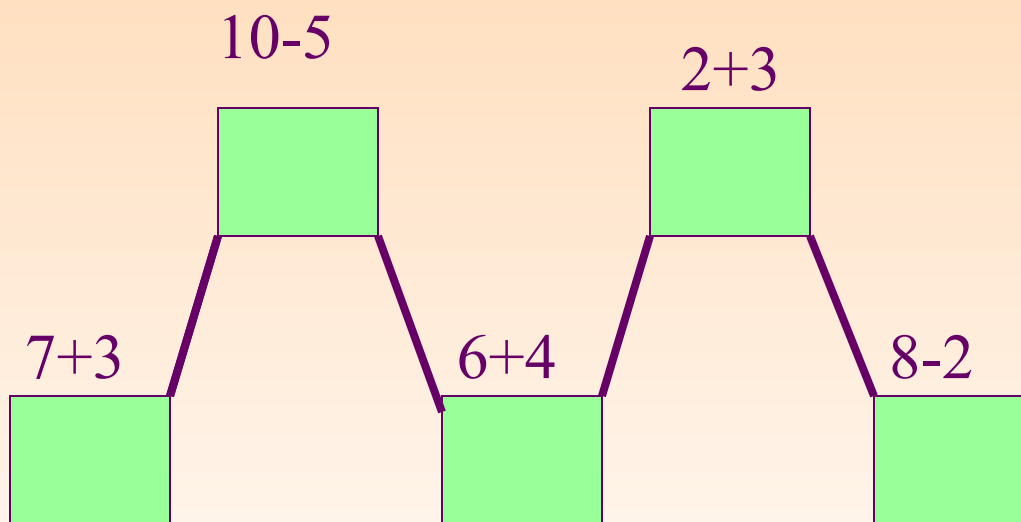
Задание № 13

Найди на рисунке четырех угольник.



Задание № 14

Реши примеры и помоги зайки добраться до яблока.



Задание № 15

Расставь в пустые клетки числа от 0 до 8 так, чтобы в каждом столбике и в каждой строке сумма слагаемых была равна 12.


3		
	4	6
	0	



Задание № 16

Разгадай ребус.

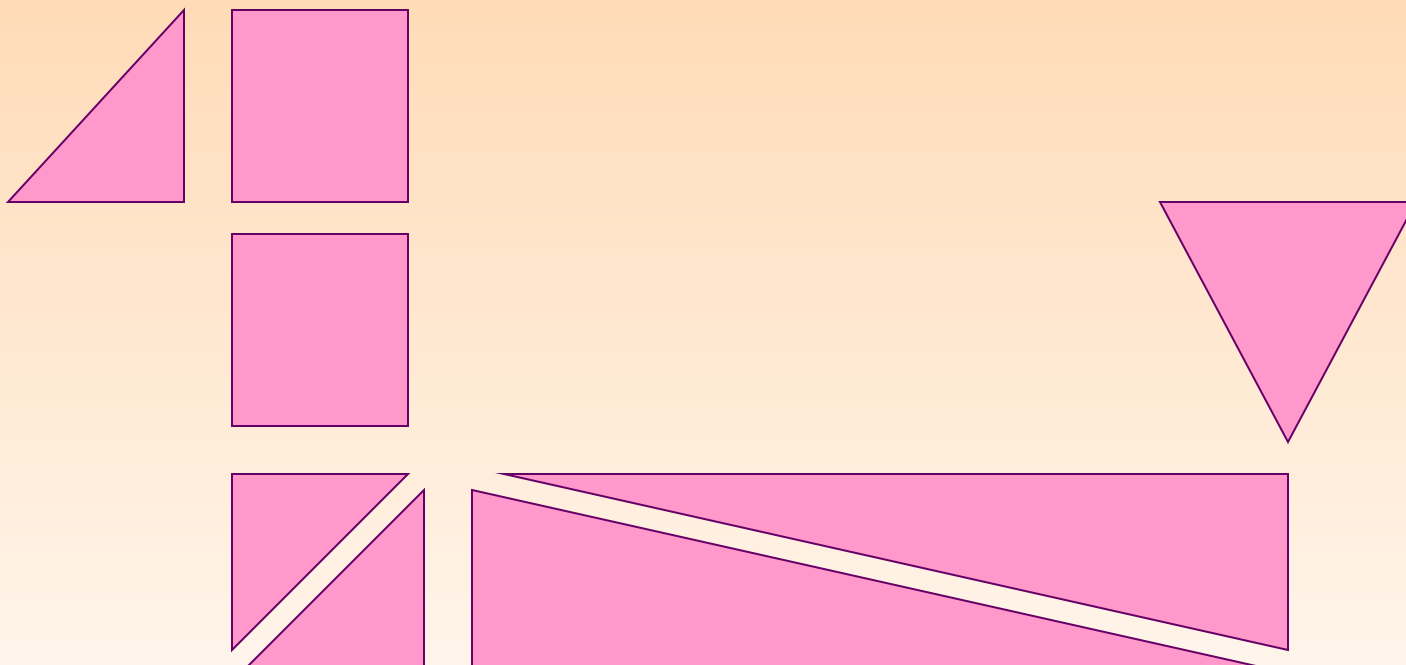
40 А



Задание № 17

Сколько квадратов ты видишь?

Сколько треугольников?



Задание № 18

Разгадай ребус.

7Я



Задание № 19

Найдите общий вес животных.




2кг



75кг



25кг



Задание № 20

26 очков.

Чтобы 26 очков набрать,
По лабиринту пробежать.
Тебе придется!
Так беги!
Пока! Счастливого пути!

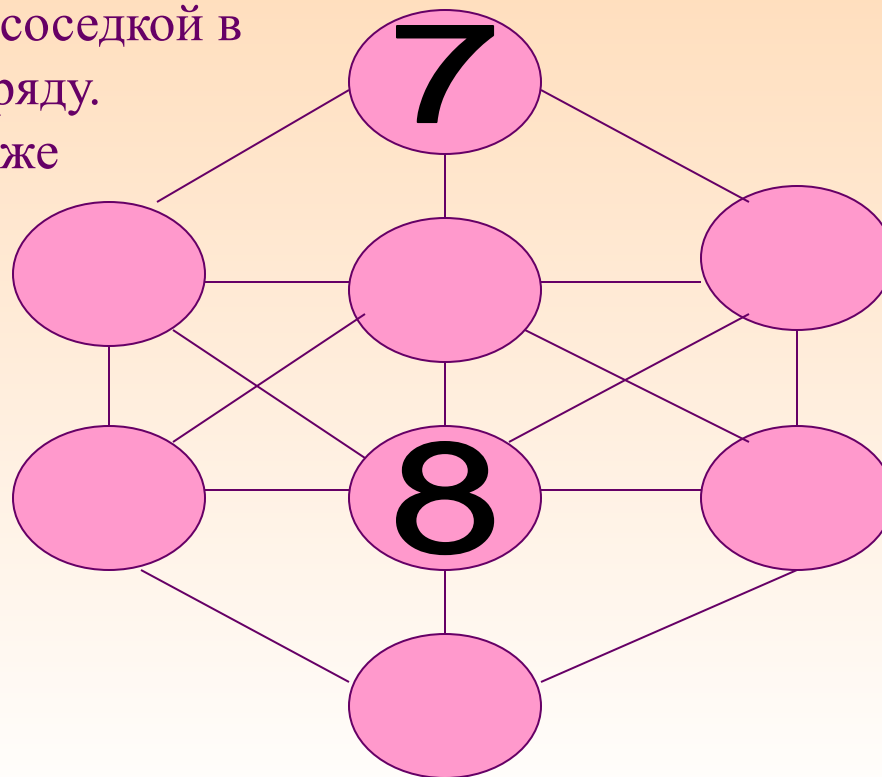
→	1		5
	4		2
5	1	10	
	1		3
8		6	
	2		



Задание № 21

В игре участвуют цифры 1,2,3,4,5,6,7,8. Разместите их в кружочках так, чтобы ни одну из цифр нельзя было соединить прямой линией - от кружка- с ее соседкой в порядковом ряду.

Две цифры уже поставлены на места.



Цифры поссорились.

Случай странный! Случай редкий!

Со своей стоять соседкой.

Не желает ни одна!

Труд нелегкий! Труд немалый!

Сделай так, чтоб на листке.

Цифра каждая стояла.

От соседок вдалеке!



Задание № 22


Четыре зайчика.

Вот симпатичные зайчики:
Какого как зовут, скажи.
От Пита слева Лизы нет,
От Лизы справа Миши нет,
Мак рядом с Лизой. Справа...
Пит
Мне эту предложил задачу,
Ее решил я в пять минут...
А ты? Зайчата ждут ответа.




Задание № 23

Кошка весит 3 кг. Это на 2 кг меньше, чем весит собака.
Сколько весит собака?




Задание № 24

Плавали утки: одна впереди, одна позади, и две посередине.
Сколько всего уток плавали?



Задание № 25

3 одинаковых карася тяжелее, чем 4 одинаковых окуня.
Что тяжелее: 4 карася или 5 окуней?



Лист ответов

1) 1.2.3.4.5.

6

6

2) 2 груши

3) $3*6=18$

$$3+3+3+3+3+3=18$$

4) Аня-3

Варя-2

Галя-4

Зина-1

5) 13

6) $1+4: 2+3:6-1:0+5:8-3:$

7) 32

8) $4+4:7+1:5+3:6+2:3+5:2+6:1+7:$

9) $5/6=5(\text{ост. } 1)$

10) птицы, фрукты, животные.

11) 10 $10-6=4$

6

12) заяка, 4 птица, слева 1

13) 2

14) 10-5-10-5-6

15) 381

246

705

16) сорока

17) 2 квадрата

6 треугольников.

18) семья

19) 120 кг.

20) 1-5-2-10-1-1-6

21) 3 1 4

5 6

2

22) Лиза, Мак, Пит, Миша

23) 5 кг.

24) 4 утки

25) 4 карася тяжелее