

ИНФОРМАТИКА

4

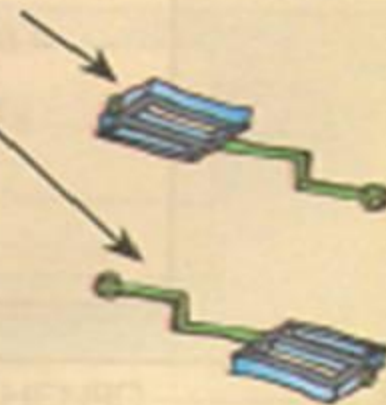
ИНФОРМАТИКА
В ИГРАХ И ЗАДАЧАХ

часть 1

Состав предметов и их действия

Разработала учитель информатики
МБОУ «СОШ № 10» г. Новомосковска
Тульской области
Поспеловой Галины Васильевны

РАЗДЕЛ 2



Презентация к уроку информатики в 4 классе
по программе А.В.Горячева
(II четверть)

Массив объектов на схеме состава

Цели урока:

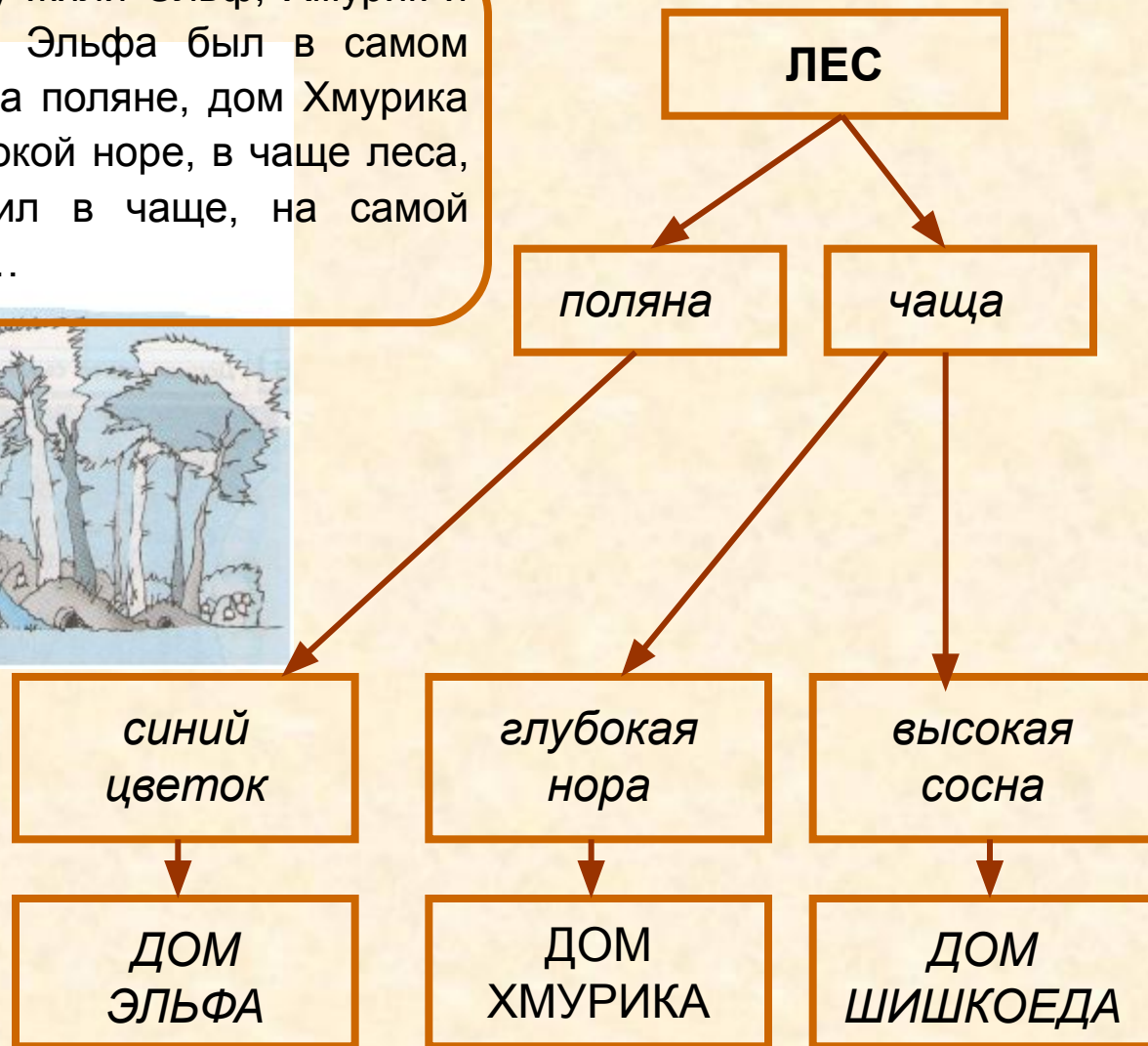
- уметь заполнять схему состава объекта;
- иметь представить массив объектов на схеме состава;
- уметь записывать адрес элемента массива в составе объекта.

Проверка домашнего задания

7

Впиши пропущенные слова на схеме состава.

« В одном лесу жили Эльф, Хмурик и Шишкоед. Дом Эльфа был в самом синем цветке на поляне, дом Хмурика – в самой глубокой норе, в чаще леса, а Шишкоед жил в чаще, на самой высокой сосне... »



7

Запиши адреса всех героев сказки.

« В одном лесу жили Эльф, Хмурик и Шишкоед. Дом Эльфа был в самом синем цветке на поляне, дом Хмурика – в самой глубокой норе, в чаще леса, а Шишкоед жил в чаще, на самой высокой сосне...



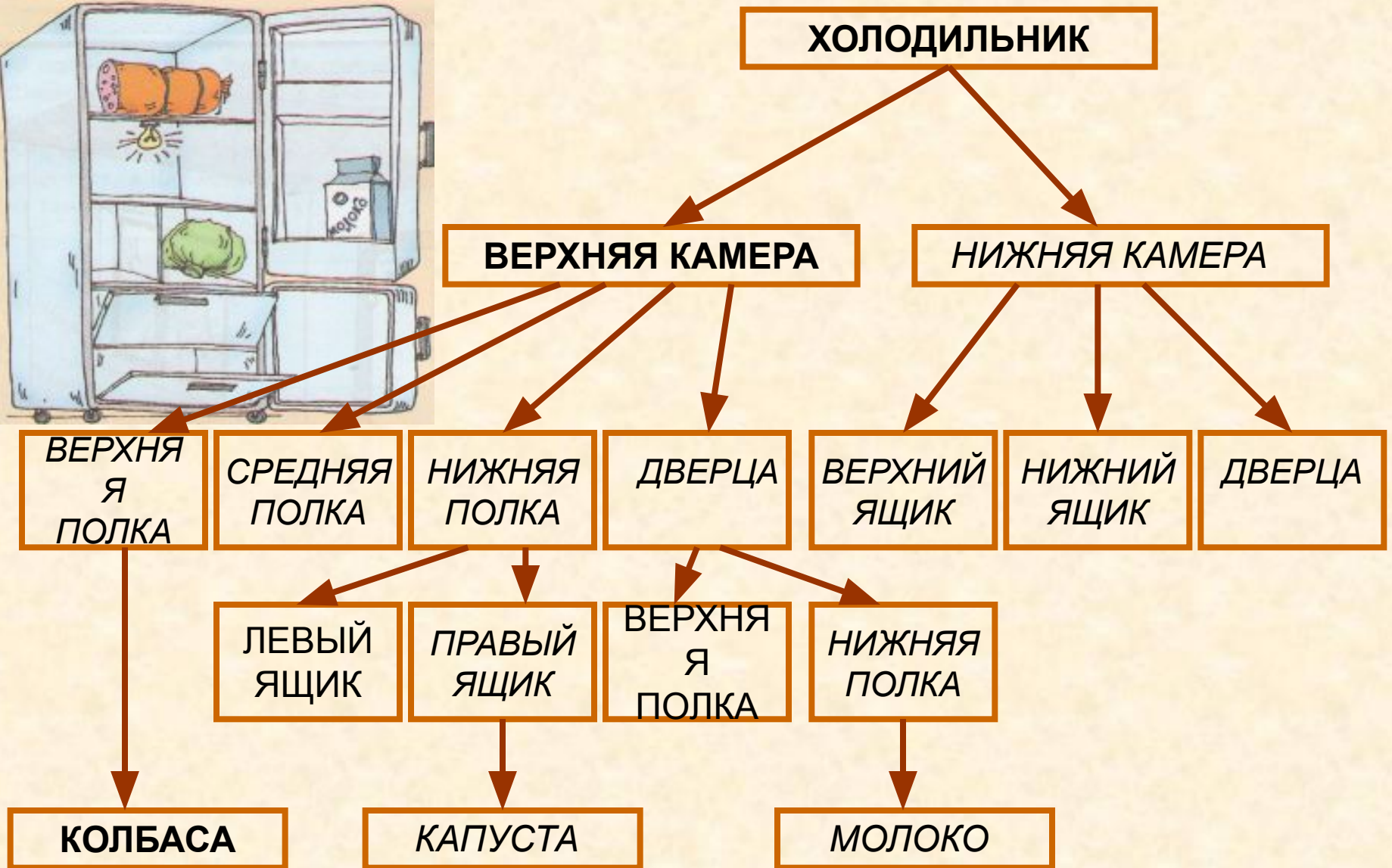

Адрес Эльфа: ЛЕС, поляна, синий цветок, ДОМ ЭЛЬФА

Адрес Хмурика: ЛЕС, чаща, глубокая нора, ДОМ ХМУРИКА

Адрес Шишкоеда: ЛЕС, чаща, высокая сосна, ДОМ ШИШКОЕДА


9

Запиши схему состава холодильника.



9

Допиши адреса продуктов.



Адрес колбасы: ХОЛОДИЛЬНИК, ВЕРХНЯЯ КАМЕРА,
ВЕРХНЯЯ ПОЛКА, КОЛБАСА

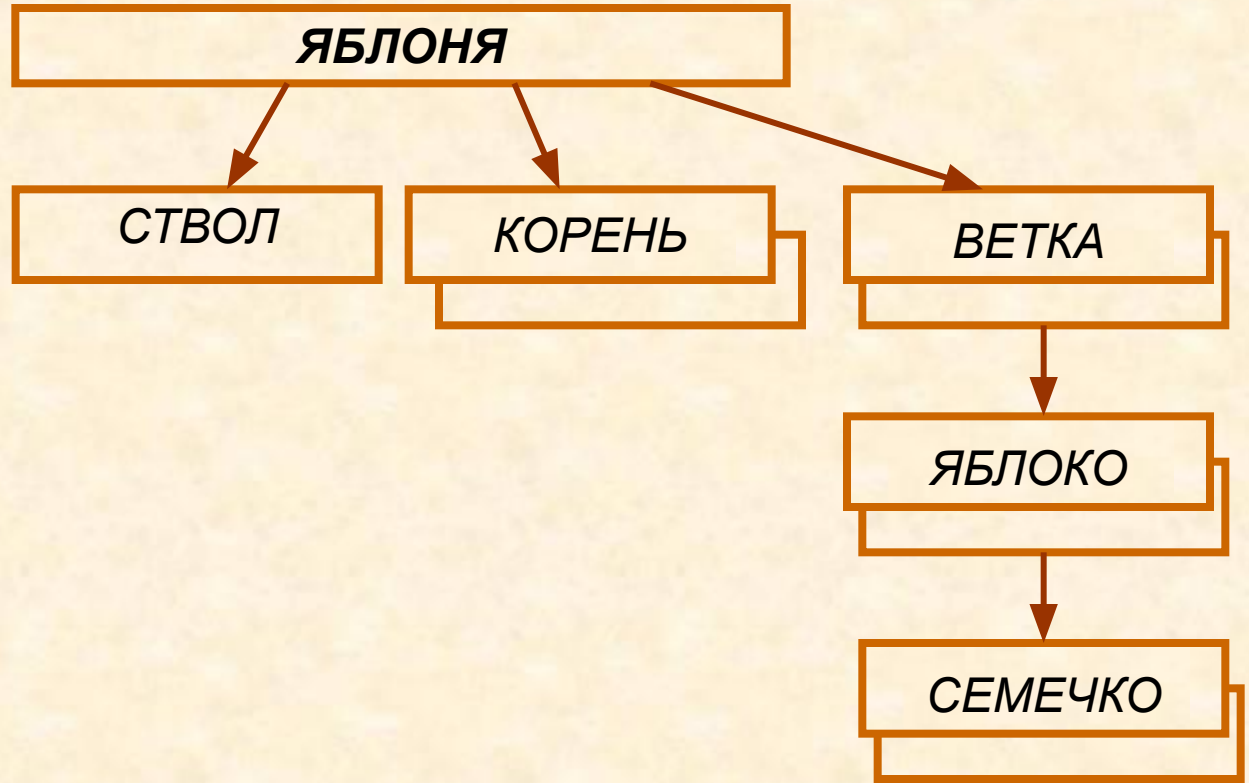

Адрес капусты: ХОЛОДИЛЬНИК, ВЕРХНЯЯ КАМЕРА,
НИЖНЯЯ ПОЛКА, ПРАВЫЙ ЯЩИК, КАПУСТА

Адрес молока: ХОЛОДИЛЬНИК, ВЕРХНЯЯ КАМЕРА,
ДВЕРЦА, НИЖНЯЯ ПОЛКА, МОЛОКО

*Веток много,
ствол один*

10

Запиши схему состава яблони. Допиши адрес семечка в красном яблоке.



Адрес семечка: ЯБЛОНЯ,

нижняя правая ветка, красное яблоко,

семечко

Чем помогут номера?

12

Заполни схему состава Зелёной улицы. Допиши адрес Дана, если известно, что он живёт во втором подъезде на пятом этаже.



УЛИЦА ЗЕЛЁНАЯ

ДОРОГА

ТРОТУАР

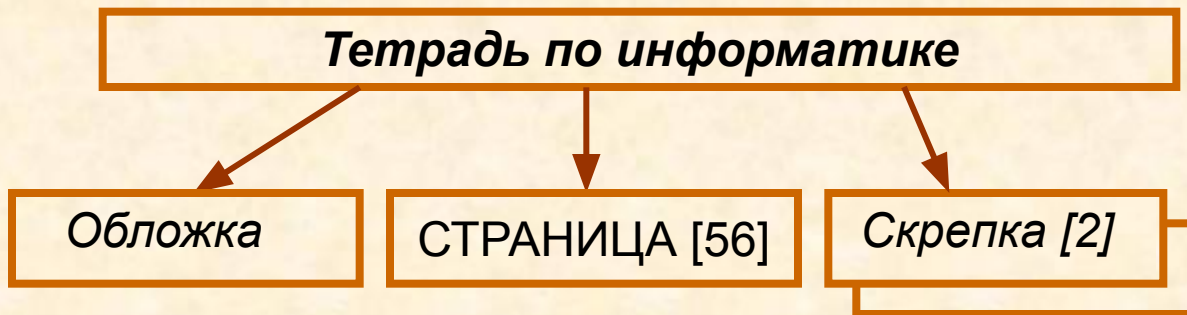

ДЕРЕВО

ДОМ

Адрес Дана: улица Зелёная, ДОМ 7, квартира 20.

13

Заполни схему состава тетради по информатике. Найди в этой тетради колесо по адресу и допиши адрес Шишкоеда.



Адрес колеса: ТЕТРАДЬ ПО ИНФОРМАТИКЕ, СТРАНИЦА [32], НИЖНИЙ РИСУНОК, СРЕДНЕЕ КОЛЕСО.

Адрес Шишкоеда: ТЕТРАДЬ ПО ИНФОРМАТИКЕ, Страница [34],

Рисунок,

Самая высокая сосна

ШИШКОЕД

Домашнее задание

№ 11, 14, 15 (стр. 37)

Источники

1. Информатика в играх и задачах. 4 класс: Методические рекомендации для учителя. – авт.- сост. А. В.. Горячев, К. И. Горина. - М.: Баласс, 2009. – 128 с.
2. Информатика в играх и задачах. 4-й класс. Учебник в 2-х частях, часть 1. - М.:Баласс, 2010, 64с.



Презентацию подготовила

Поспелова Г.В.

**Учитель информатики МОУ
«СОШ № 20»**

г. Новомосковск

Тульская область, 2011 г.

Желаю всем приятного просмотра!!!