


С
НАСТУПИВШИ
М
НОВЫМ
ГОДОМ!





,



Каждая буква этого слова

заменена номером в алфавите

12, 16, 16, 18, 5, 10, 15, 1, 20

КОординат

А, Б, В, Г, Д, Е, Ё, Ж, З, И,
Й, К, Л, М, Н, О, П, Р, С, Т, ...

Метод

А Б В Г Д Е Ж З И К

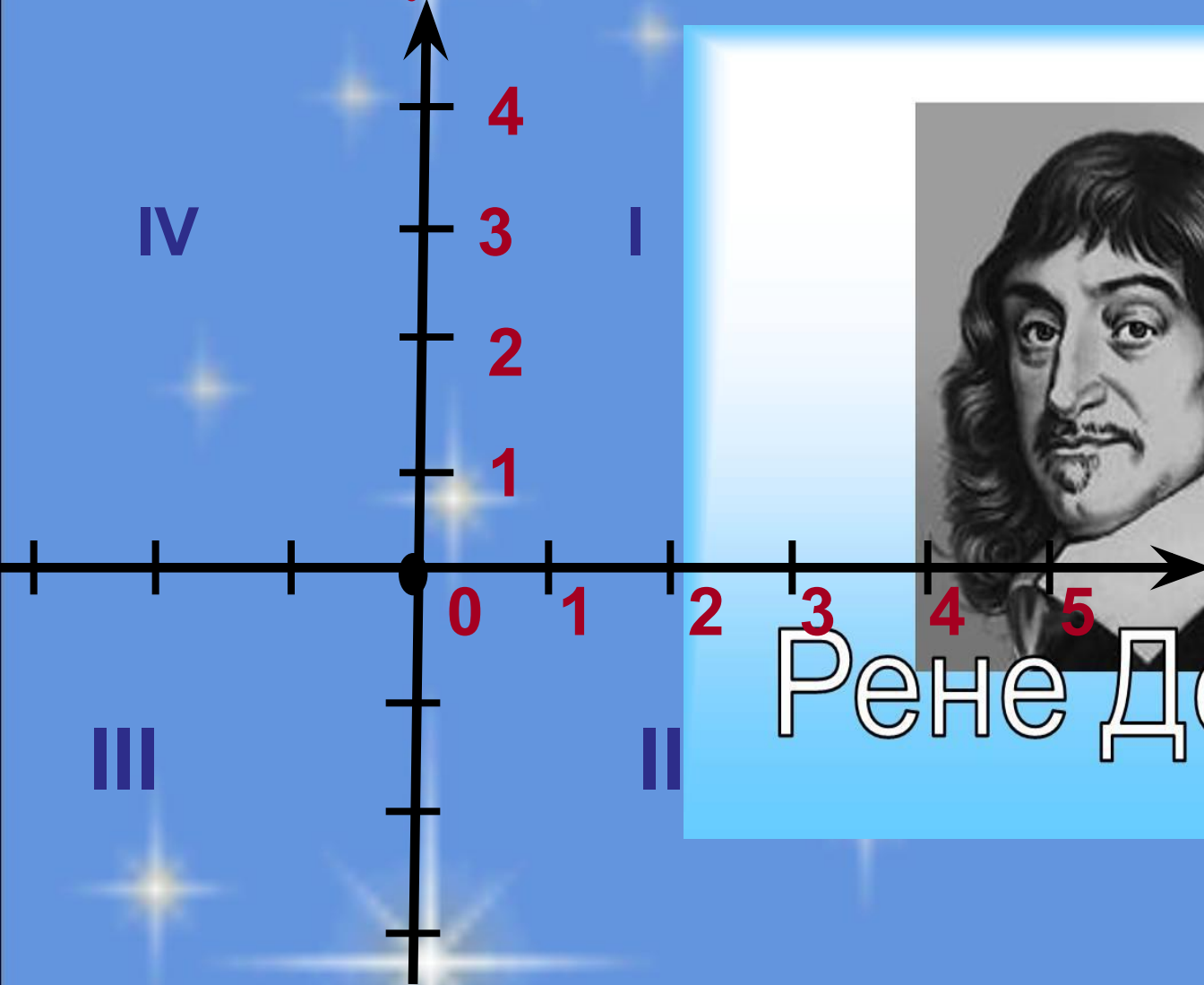
1	X	X	.		.	X	X	X	X
2
3			.						
4									
5									
6									
7									
8									

А Б В Г Д Е Ж З И К

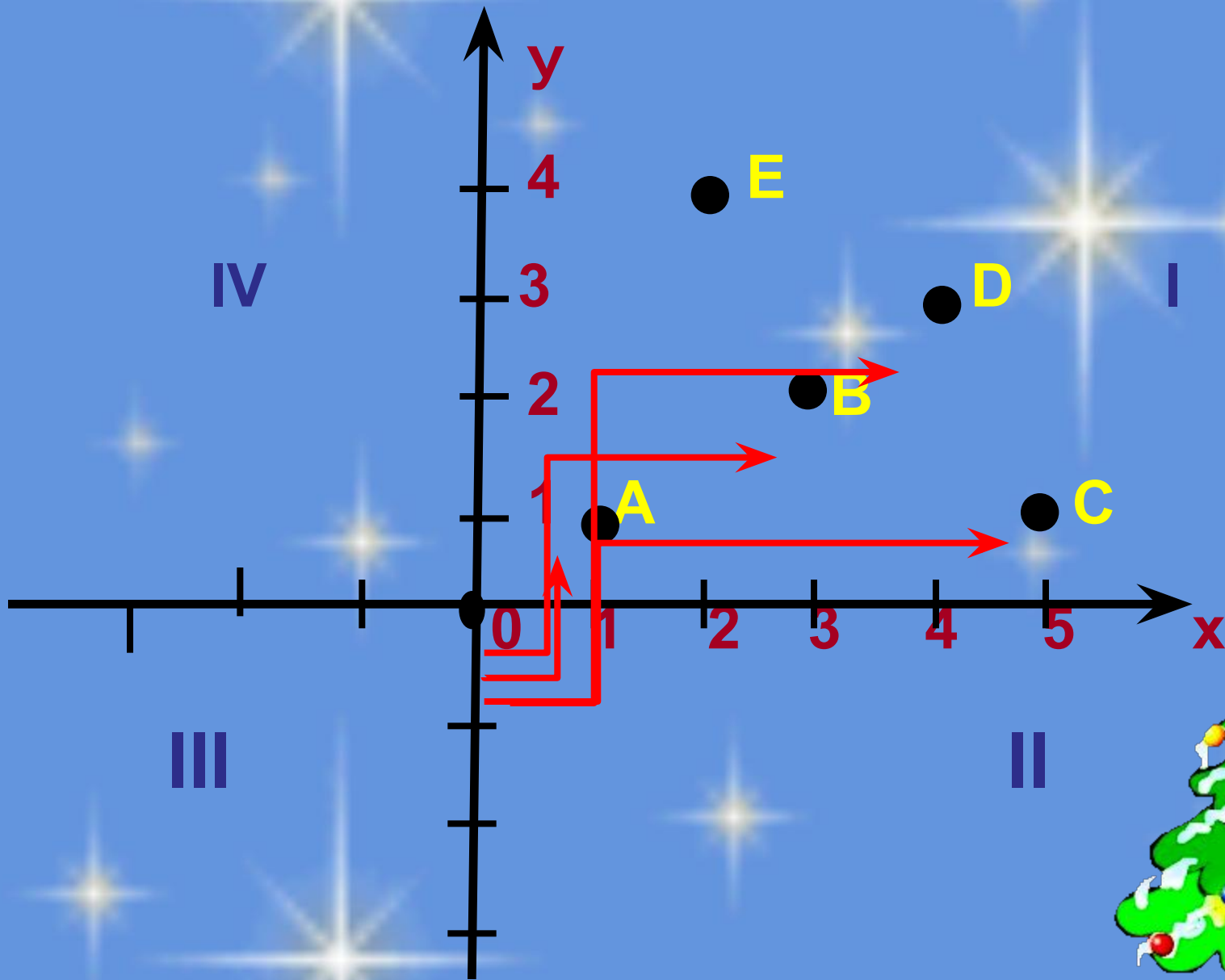
1										
2										
3			.							
4			
5			.	X	X	.	X	X	X	X
6		
7										
8									.	
9										
10										



Декартова система координат



Рене Декарт



Построить точки на плоскости :

$A(2,1)$ $B(2,3)$ $C(5,3)$ $D(5,1)$ -
соединить их по порядку

Дорисуйте получившуюся фигуру
по своему усмотрению и
запишите координаты любых
четырёх точек дорисованной
фигуры

Домашняя работа
§1.8 читать
задание 6 на стр. 34 выполнить