

# ИНФОРМАТИКА

4

ИНФОРМАТИКА  
В ИГРАХ И ЗАДАЧАХ

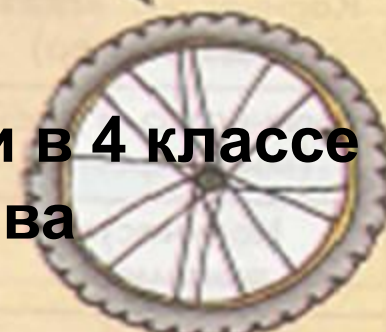
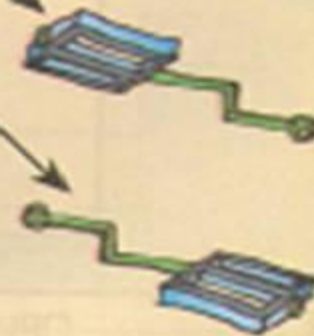
часть 1



Состав предметов и их действия

Разработала учитель информатики  
МБОУ «СОШ № 10» г. Новомосковска  
Тульской области  
Поспеловой Галины Васильевны

## РАЗДЕЛ 2



Презентация к уроку информатики в 4 классе  
по программе А.В.Горячева  
(II четверть)

# *Подготовка к контрольной работе*

## *Цели урока:*

- закрепить представление о многоуровневой схеме состава, о записи адреса составной части предмета, о массиве объектов;

*Проверка  
домашнего  
задания*

18

Впиши на схеме состава действия, которые можно выполнять с кокосовым орехом и его частями.



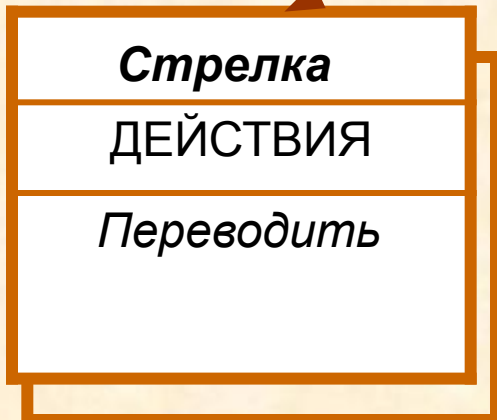
ШИРИНА  
ЦВЕТ  
ЕСТЬ ЛИ ТРУБА  
ВЫСОТА



21

Впиши на схеме состава действия, которые можно выполнить с будильником и его частями.

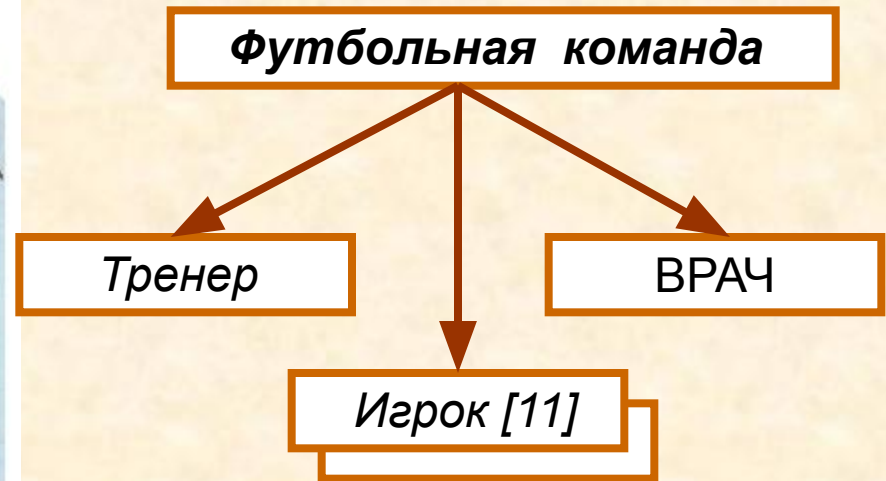

Включать-выключать  
Вытирать пыль  
Переводить  
Заводить



*Схема состава  
и действия*

22

Заполни схему состава футбольной команды. Запиши адрес игрока, забившего гол.



Адрес игрока:

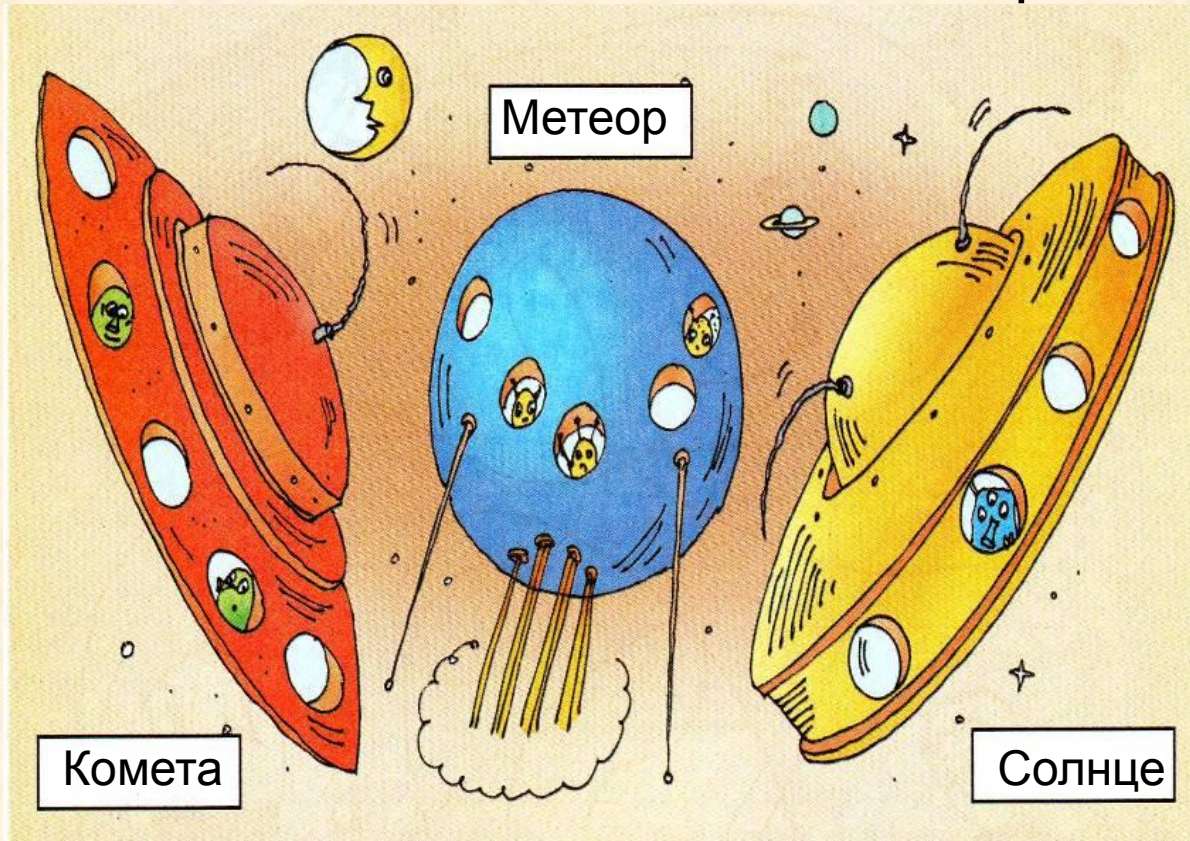
Футбольная команда,

Игрок [3]



23

Дай единичные имена космическим кораблям.  
Опиши в таблице общие свойства кораблей.



### Космический корабль

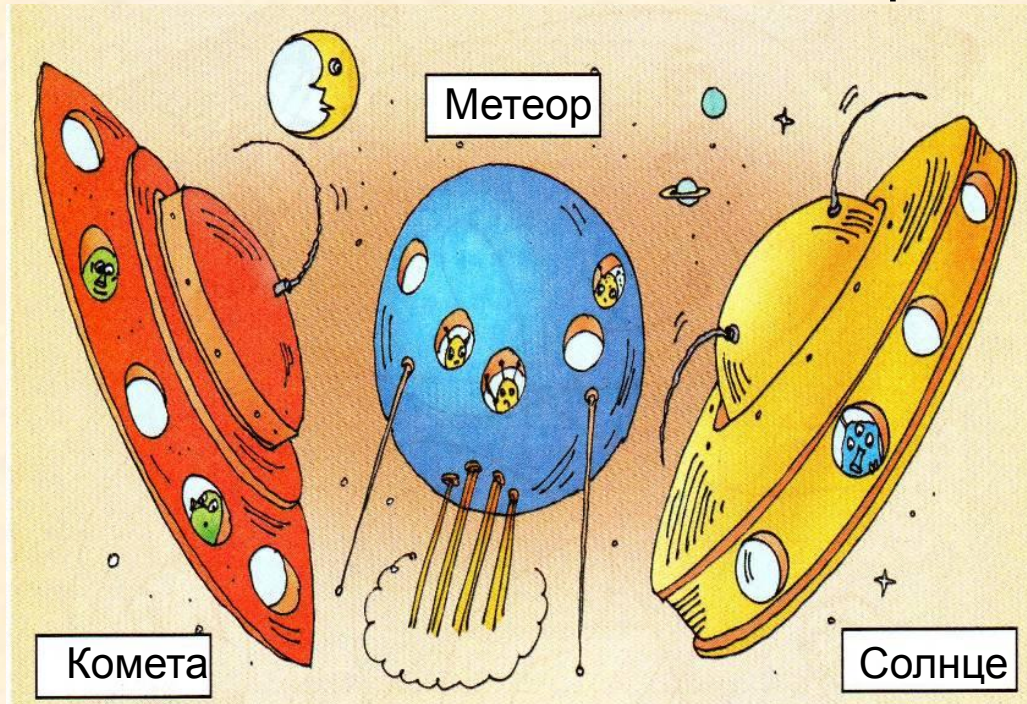
#### СОСТАВ

Корпус, иллюминатор, антенна

#### ДЕЙСТВИЯ

Взлетать, совершать посадку,  
перевозить, летать

Опиши в таблице отличительные признаки кораблей.



ПРИЗНАКИ	<i>Комета</i>	<i>Метеор</i>	<i>Солнце</i>
<i>Форма</i>	<i>тарелка</i>	<i>шар</i>	<i>тарелка</i>
<i>Цвет</i>	<i>красный</i>	<i>синий</i>	<i>жёлтый</i>
<i>Количество антенн</i>	1	2	2
<i>Количество иллюминаторов</i>	5	5	4
<i>Количество существ</i>	2	3	1

26

Вставь в отрывке пропущенные буквы и запиши их адреса.


«Минут через пять наступил  
рассвет. На этот раз сразу три  
со\_\_нца~~л~~ с трёх сторон  
выкатились на небо. Вокруг  
зажужжали пч~~ё~~лы и  
застрекотали кузнечики».

Адрес буквы **.л** : предложение (**.2**),  
слово (**.6**),  
буква (3).

Адрес буквы **.ё** : предложение (3)  
слово (3)  
буква (3)

28

Проставь на рисунке все необходимые номера, запиши адрес самой большой репки.



Адрес репки: Огород, Грядка (2), Овощ (6)

28

Заполни схему состава огорода.



Огород

Сарай

Лопата [2]

Грядка [3]

Овоц [12]

# *Домашнее задание*

**№ 24, 25, 27 (стр. 45)**

# *Источники*

1. Информатика в играх и задачах. 4 класс: Методические рекомендации для учителя. – авт.- сост. А. В.. Горячев, К. И. Горина. - М.: Баласс, 2009. – 128 с.
2. Информатика в играх и задачах. 4-й класс. Учебник в 2-х частях, часть 1. - М.:Баласс, 2010, 64с.



**Презентацию подготовила**

**Поспелова Г.В.**

**Учитель информатики МОУ  
«СОШ № 20»**

**г. Новомосковск**

**Тульская область, 2011 г.**

**Желаю всем приятного просмотра!!!**