



Аналогия

(На что похоже?)




Информатика в играх и задачах. 3 класс
Урок 29

Задание №2

Что общего у каждой пары предметов?

Линиями соедини рисунки с правильными ответами.



СОСТАВ

ДЕЙСТВИЯ

ПРИЗНАКИ



Задание №3

Расставь человечков по подсказкам сверху: пронумеруй человечков на каждом рисунке



Задание №3

Расставь человечков по подсказкам сверху: пронумеруй человечков на каждом рисунке

ПО КОЛИЧЕСТВУ
БУКВ

ФЕВРАЛЬ

ИЮНЬ

ЯНВАРЬ

МАЙ



Задание №3

Расставь человечков по подсказкам сверху: пронумеруй человечков на каждом рисунке



ПО ПОРЯДКУ
МЕСЯЦЕВ

ФЕВРАЛЬ

ИЮНЬ

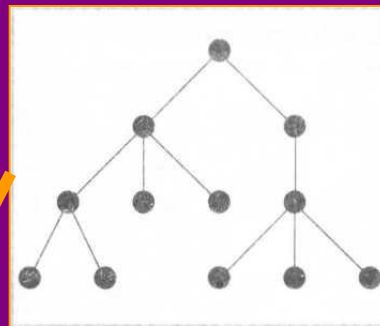

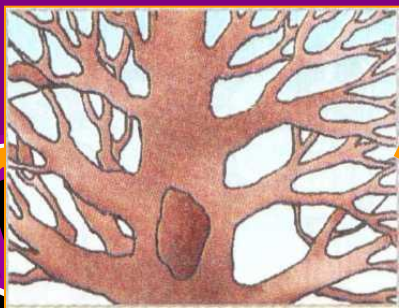

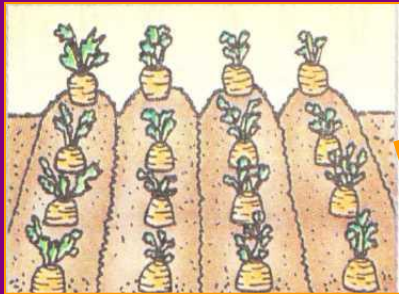
ЯНВАРЬ

МАЙ



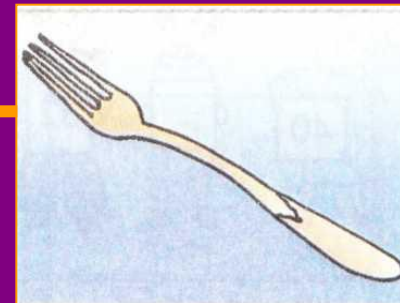



Задание №4

Соедини линиями похожие рисунки



11	12	13	14
21	22	23	24
31	32	33	34
41	42	43	44



Домашнее задание
№1, с.30-31

