

Рассе­ляем мно­же­ства



Королёва Ирина Николаевна
учитель начальных классов
МКОУ СОШ №2
г.Нефтекумск

Цветы с колючками



Множеств

Месяцы в	12	○
году		
Времён	4	
года		
Парт во 2 ряду	5	

Пустое множество

Множество летающих крокодилов













РАССЕЛЯЕМ МНОЖЕСТВА


1

Раскрась фигуры в таблице в четыре цвета, чтобы все множества были обозначены по-разному.

Нарисуй обозначения множеств на этажах пирамиды. (Число в кружочке означает число элементов множества, которое можно «поселить» на этаже пирамиды.)

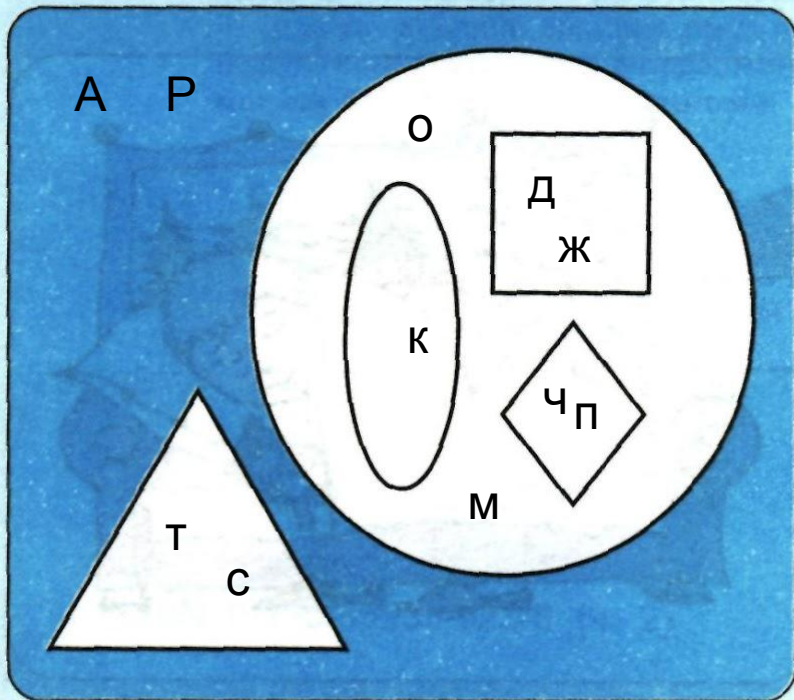
Множества:

-  – братьев в сказке «Кот в сапогах»
-  – «Бременских музыкантов»
-  – граней кубика
-  – клеток на шахматном поле
-  – планет Солнечной системы
-  – естественных спутников Земли
-  – океанов на Земле
-  – полюсов Земли
-  – двузначных чисел, в которых есть цифра 0
-  – чисел, которые делятся на 0
-  – гласных букв в русском языке
-  – гласных звуков в русском языке



2

Найди и расположи элементы множеств в фигурах на рисунке: впиши первую букву каждого слова из списка.



Множества:

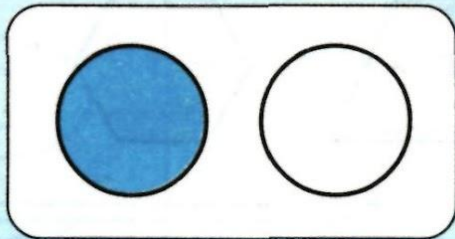

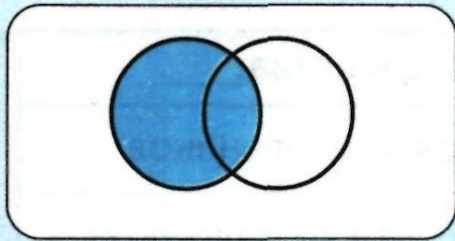
- — животных
- — зверей
- ◌ — рыб
- ◇ — птиц
- △ — растений

Чайка
 Дельфин
 Осьминог
 Айсберг
 Пингвин
 Жираф
 Сосна
 Река
 Тюльпан
 Муравей
 Камбала

2

3


Проведи стрелку от каждого рисунка к паре множеств.



Множество зверей
Множество животных


Множество зверей
Множество рыб






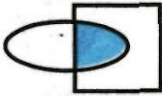

Множество животных,
обитающих в море
Множество зверей



4


Дорисуй в таблице фигуры, которыми обозначены множества.
Впиши названия множеств, элементы которых расположены в закрашенных частях фигур.





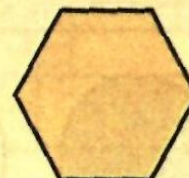


Множества:	
	– животных
	– насекомых
	– птиц
	– бабочек
	– животных, которые умеют плавать
	– птиц, которые умеют плавать
	– насекомых, которые умеют плавать

5


Найди обозначение каждого множества в таблице и закрась круги на рисунке.



Множества:	
	– прямоугольников
	– четырёхугольников
	– многоугольников
	– квадратов



Б В фигуры на рисунке вписаны первые буквы некоторых названий растений. Впиши в таблицу пропущенные названия множеств. Впиши в фигуры первые буквы ещё трёх названий растений.



Множества:	
	- растения
	- лесные
	- растения цветы
	- полевых цветов
	- лесные цветы



Ромашка
полевая



Колокольчик
лесной



Ель



Пшеница



Астра



Лотос