





ВИКТОРИНА ПО МАТЕМАТИКЕ





ВОСПИТАТЕЛЯ ШКОЛЫ –
ИНТЕРНАТА №49
МАХЛАТОВОЙ КСЕНИИ
НИКОЛАЕВНЫ

СОДЕРЖАНИЕ

- ✓ Четвертый лишний
 - ✓ Продолжи ряд
 - ✓ Подбери ответ
 - ✓ Найди ошибку
 - ✓ Реши задачу
 - ✓ Геометрическая загадка
- 

ЧЕТВЕРТЫЙ ЛИШНИЙ



[К содержанию](#)

ПРОДОЛЖИ РЯД

6 18 30 42 54

3
6

4
8

2
4

12

6
0

[К содержанию](#)

ПОДБЕРИ ОТВЕТ

$258 + 343 =$

$659 - 230 =$

$678 - 500 =$

$246 + 90 =$

$250 : 5 =$

$640 : 8 =$

$30 * 5 =$

150 178 60
 1 429 33
 80 5 6
 0

[К содержанию](#)

НАЙДИ ОШИБКУ
В КАКИХ ПРИМЕРАХ ОШИБКА?

$$250+360 = 500$$

$$300+ 205 = 505$$

$$(208 - 200) * 8 = 64$$

$$400 - (500 - 125) = 130$$

РЕШИ ЗАДАЧУ

В третьем классе 28 учеников. Готовясь к празднику, 8 из них разучивают танцы, 9 репетируют песни, а остальные учат стихи. Сколько учеников учат стихи? Выбери правильный ответ.

Решение 1:

1) $8+9 = 17$ (уч)

2) $28-17 = 11$ (уч)

Ответ: 11 учеников учат стихи

Решение 2:

1) $28 - 8 = 20$ (уч)

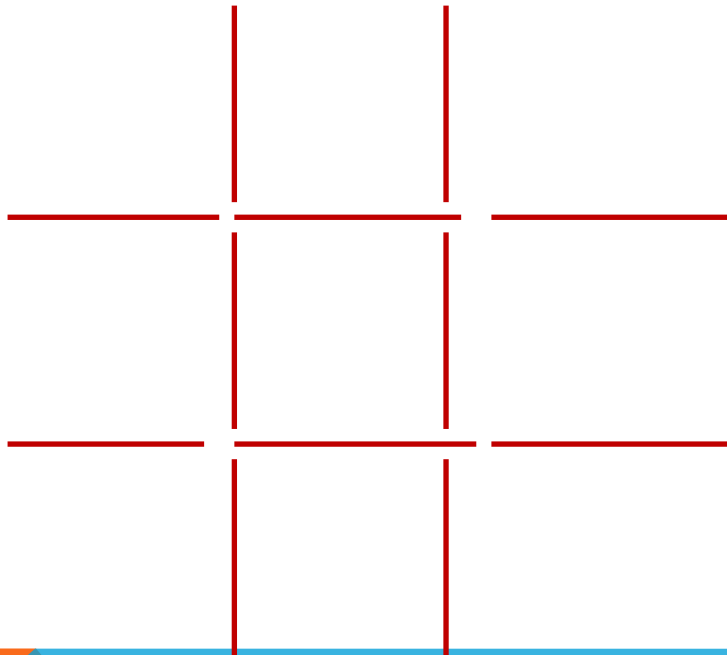
2) $20+9 = 29$ (уч)

Ответ: 29 учеников учат стихи

[К содержанию](#)

ГЕОМЕТРИЧЕСКАЯ ЗАГАДКА

**Переложите три линии так, чтобы получилось
ровно три квадрата**



[К содержанию](#)

СПАСИБО ЗА ВНИМАНИЕ



www.faccinefb.com

ИСПОЛЬЗУЕМАЯ ЛИТЕРАТУРА И САЙТЫ

