

ИНФОРМАТИКА

4

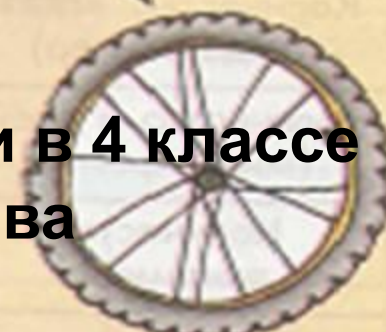
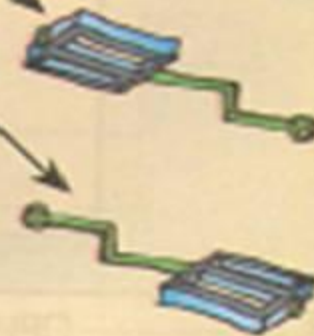
ИНФОРМАТИКА
В ИГРАХ И ЗАДАЧАХ

часть 1

Состав предметов и их действия

Разработала учитель информатики
МБОУ «СОШ № 10» г. Новомосковска
Тульской области
Поспеловой Галины Васильевны

РАЗДЕЛ 2



Презентация к уроку информатики в 4 классе
по программе А.В.Горячева
(II четверть)

Проведение контрольной работы

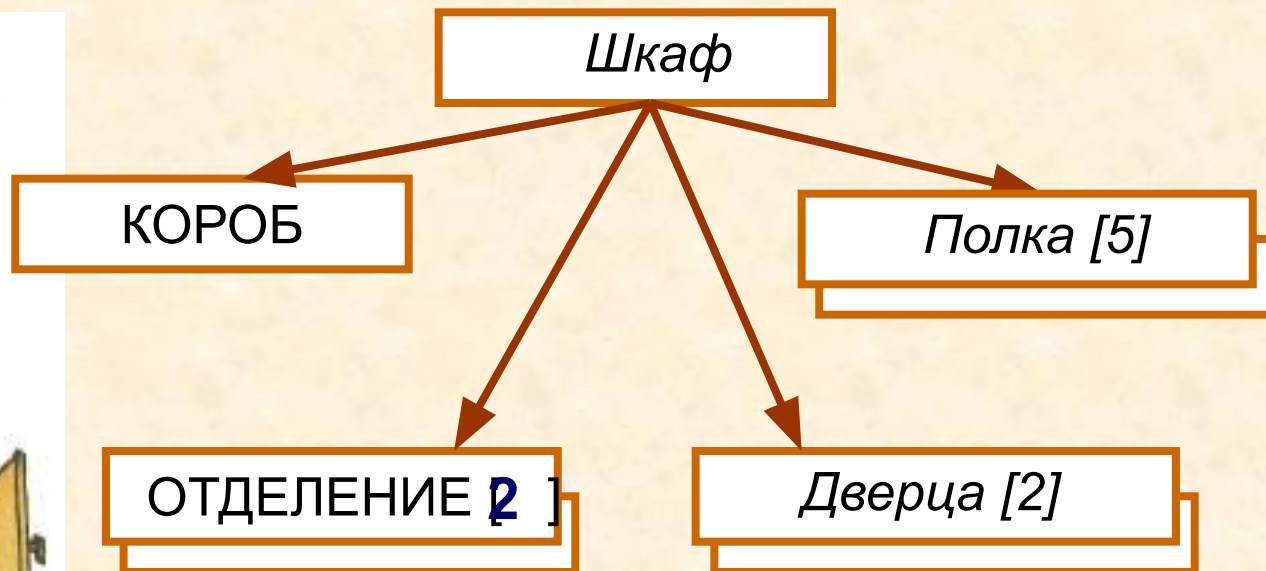
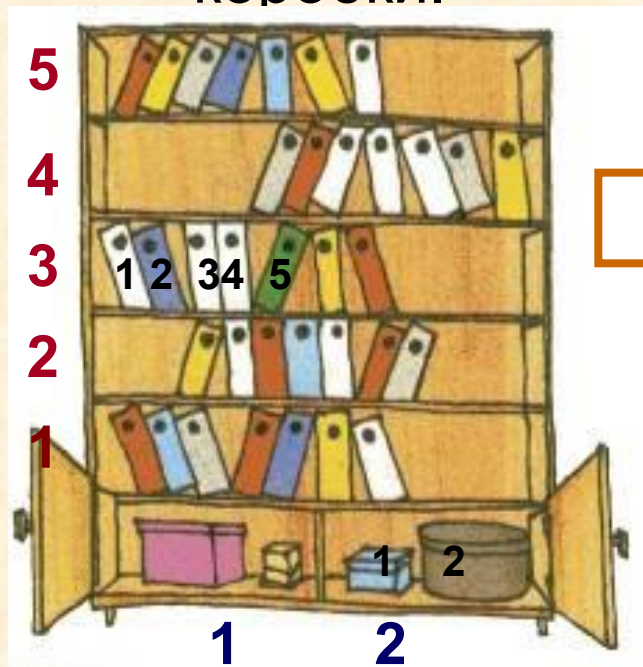
Цели урока:

- закрепить представление о многоуровневой схеме состава, о записи адреса составной части предмета, о массиве объектов;

Проверка домашнего задания

24

Проставь номера на рисунке, заполни схему состава шкафа. Запиши адреса зелёной папки и круглой коробки.



Адрес папки:

Шкаф, Полка (3), Папка (5)

Адрес коробки: *Шкаф, Отделение (2), Коробка (2)*

25

Дополни схему названиями составных частей и их признаками.



КОЛИЧЕСТВО ЛЕПЕСТКОВ
КОЛИЧЕСТВО ЛИСТЬЕВ

Стебель

ПРИЗНАКИ

Высота

Лепесток

ПРИЗНАКИ

Цвет
Форма

Лист

ПРИЗНАКИ

Форма

27

Заполни схемы состава рюкзаков.



Рюкзак Дана

Отделение

Карман

Рюкзак Дона

Отделение

Карман

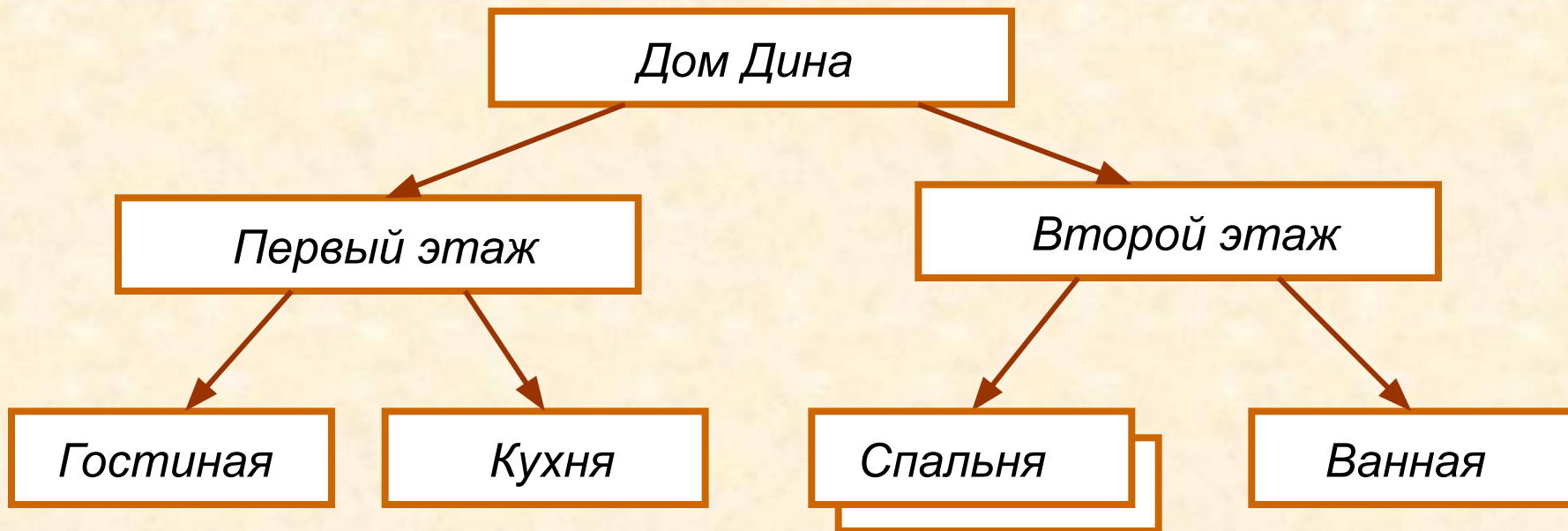
Рюкзак Дина

Отделение

Карман

29

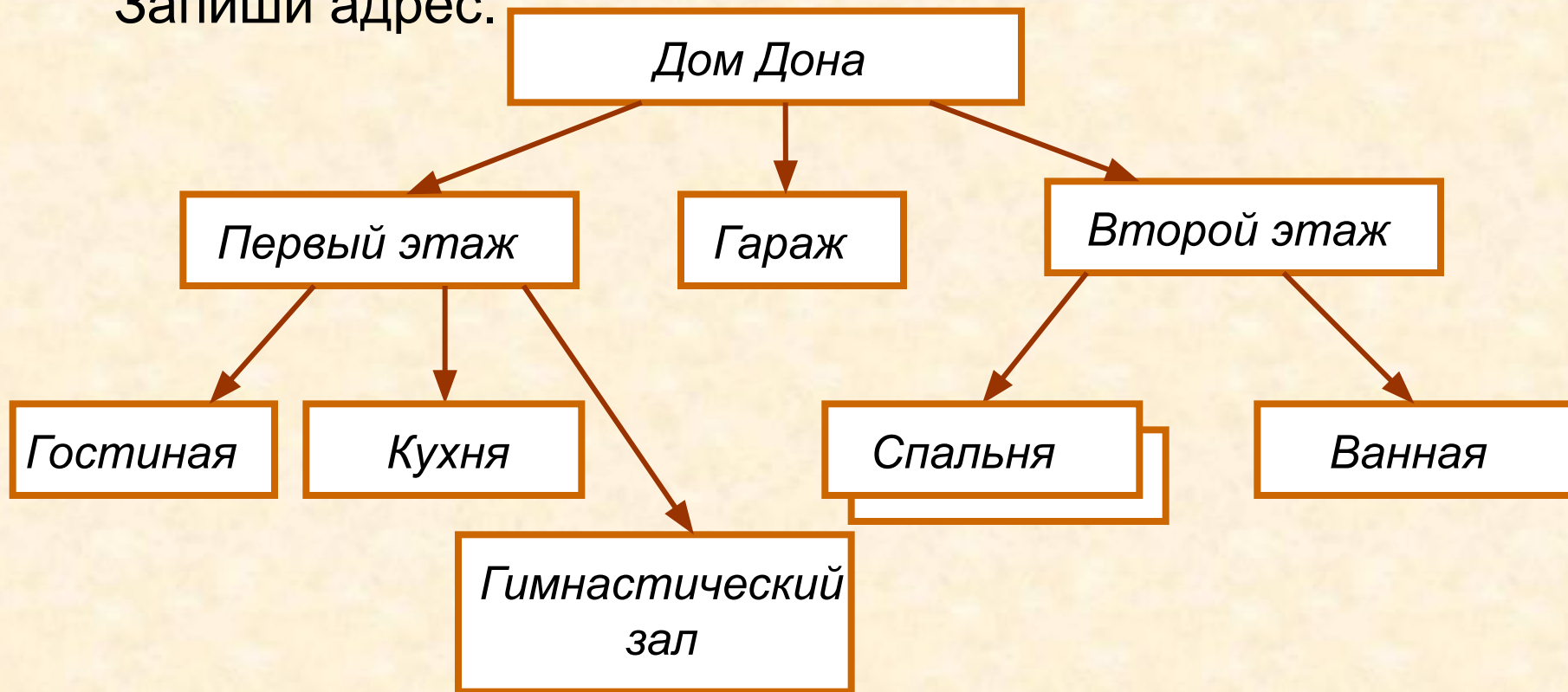
Дин живёт в двухэтажном доме. На первом этаже у него гостиная и кухня, а на втором – две спальни и ванная комната. Заполни схему состава. Запиши адрес.



Адрес холодильника Дина: Дом Дина, Первый этаж,
Кухня, Холодильник.

29

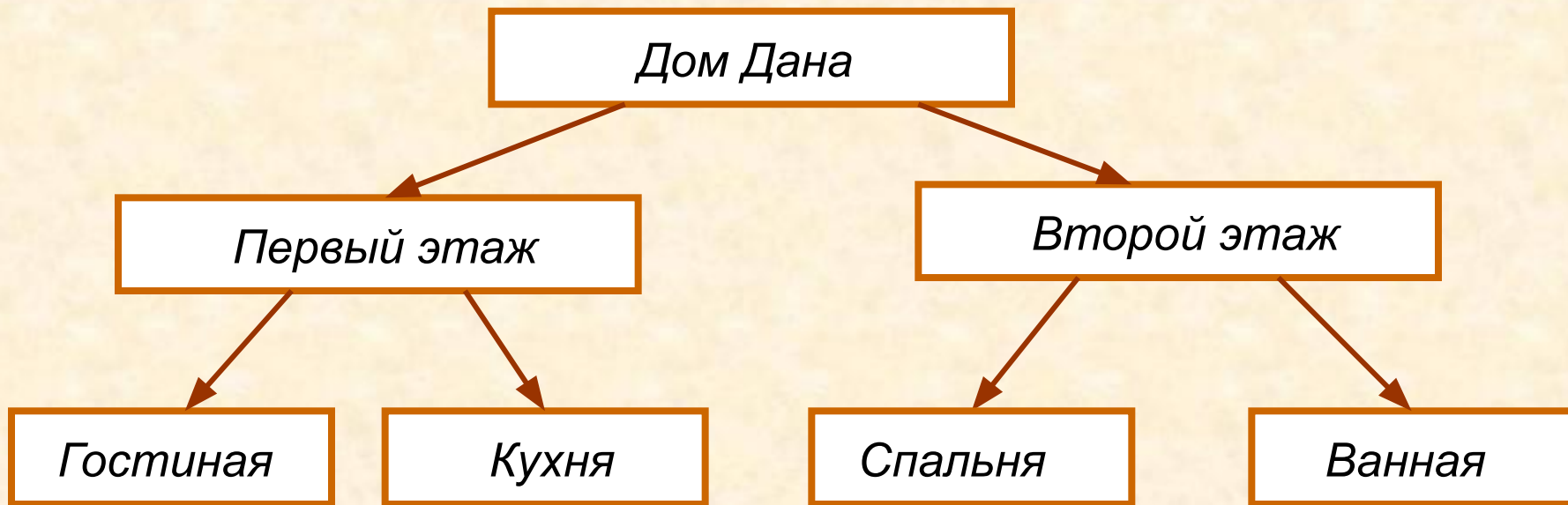
К двухэтажному дому Дона пристроен гараж. На первом этаже у него гостиная, кухня и гимнастический зал, а на втором три спальни и ванная. Заполни схему состава. Запиши адрес.



Адрес велотренажёра Дона: Дом Дона, Первый этаж,
Гимнастический зал, Велотренажёр.

29

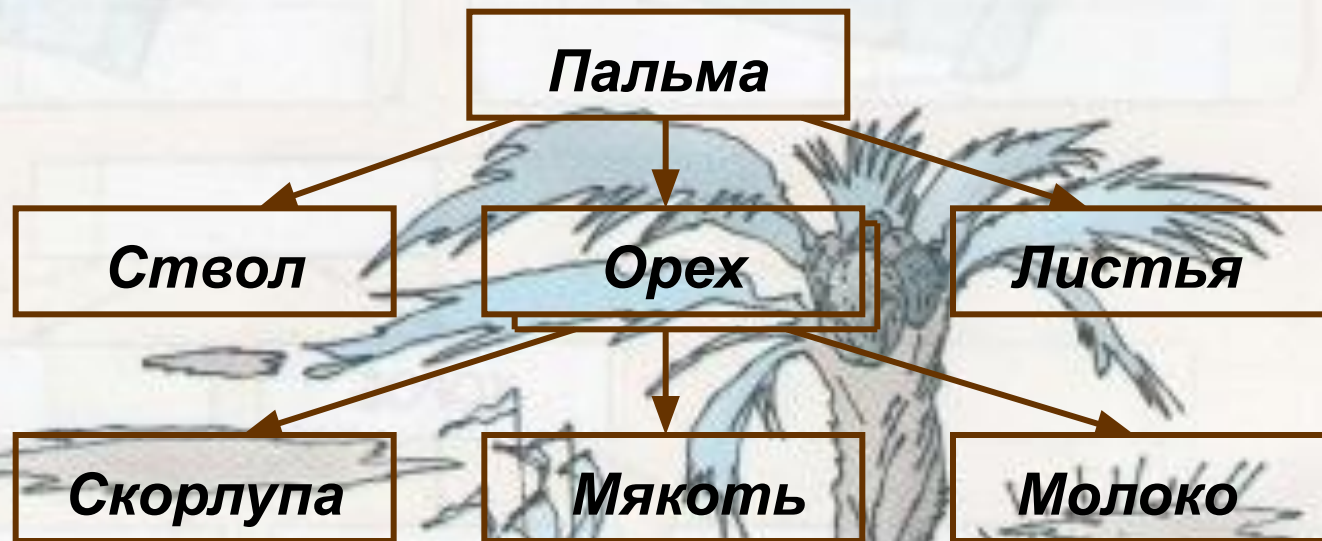
У Дана такой же дом, как у Дина, но в нём только одна спальня. Заполни схему состава. Запиши адрес.



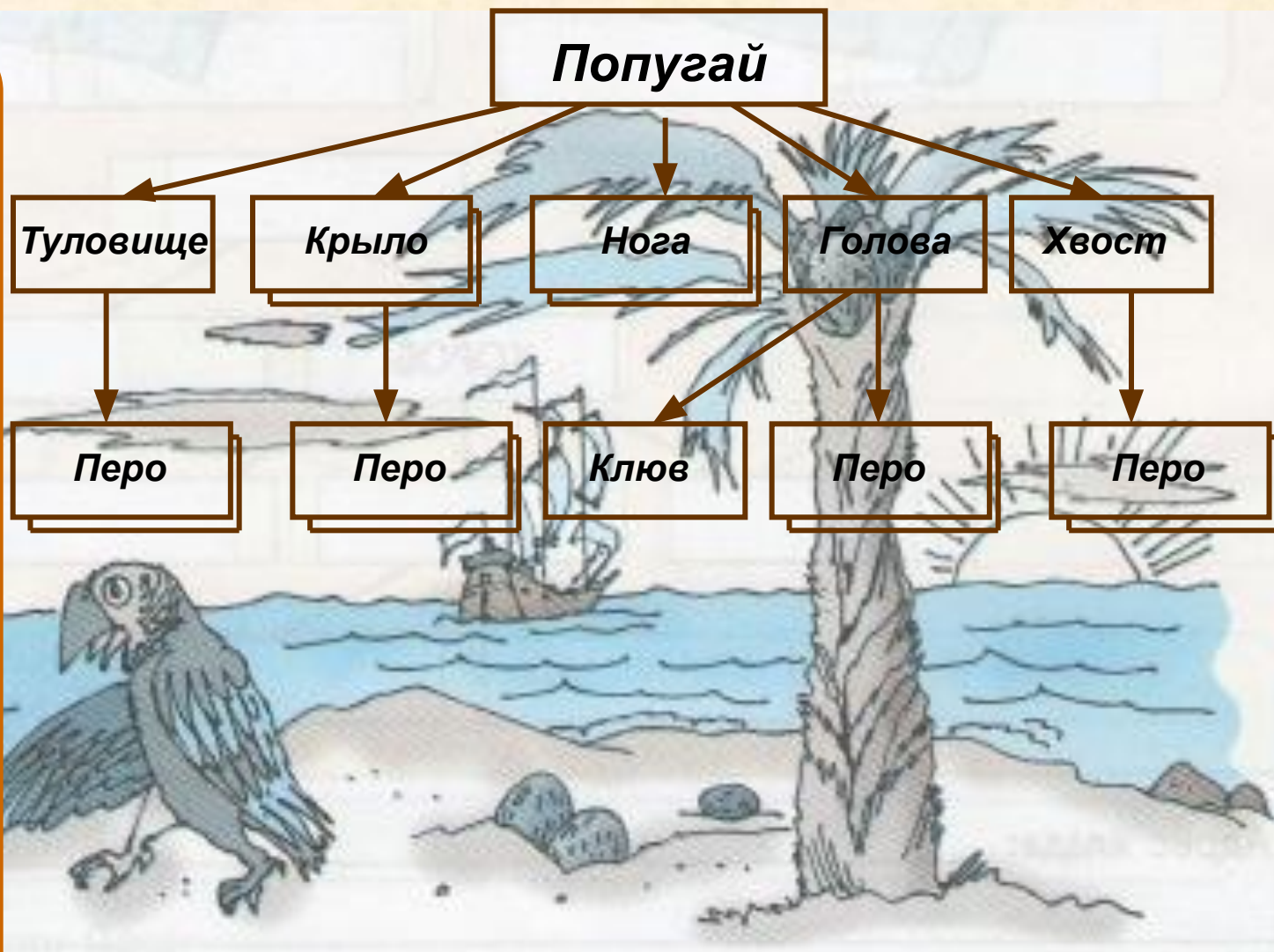
Адрес зубной щётки Дана: Дом Дана, Второй этаж,
Ванная, Зубная щётка.

Впиши на схеме состава слова из списка.

МЯКОТЬ
ГОЛОВА
ПАЛЬМА
ПЕРО
ОРЕХ
КЛЮВ
ПОПУГАЙ
СТВОЛ
НОГА
МОЛОКО
ТУЛОВИЩЕ
ЛИСТЬЯ
ХВОСТ
СКОРЛУПА
КРЫЛО



Впиши на схеме состава слова из списка.



МЯКОТЬ
ГОЛОВА
ПАЛЬМА
ПЕРО
ОРЕХ
КЛЮВ
ПОПУГАЙ
СТВОЛ
НОГА
МОЛОКО
ТУЛОВИЩЕ
ЛИСТЬЯ
ХВОСТ
СКОРЛУПА
КРЫЛО

34

Заполни схему Лесного города и запиши адрес Ужастика.



Лесной город

Площадь

Солнечная улица

Тенистая улица

Почта

Банк

Дом [12]

Дом [10]

Фонарь [8]

Адрес Ужастика: Лесной город, Тенистая улица, Фонарь [8]

Домашнее задание

№ 30, 32, 33 (стр. 49)

Источники

1. Информатика в играх и задачах. 4 класс: Методические рекомендации для учителя. – авт.- сост. А. В.. Горячев, К. И. Горина. - М.: Баласс, 2009. – 128 с.
2. Информатика в играх и задачах. 4-й класс. Учебник в 2-х частях, часть 1. - М.:Баласс, 2010, 64с.



Презентацию подготовила

Поспелова Г.В.

**Учитель информатики МОУ
«СОШ № 20»**

г. Новомосковск

Тульская область, 2011 г.

Желаю всем приятного просмотра!!!