

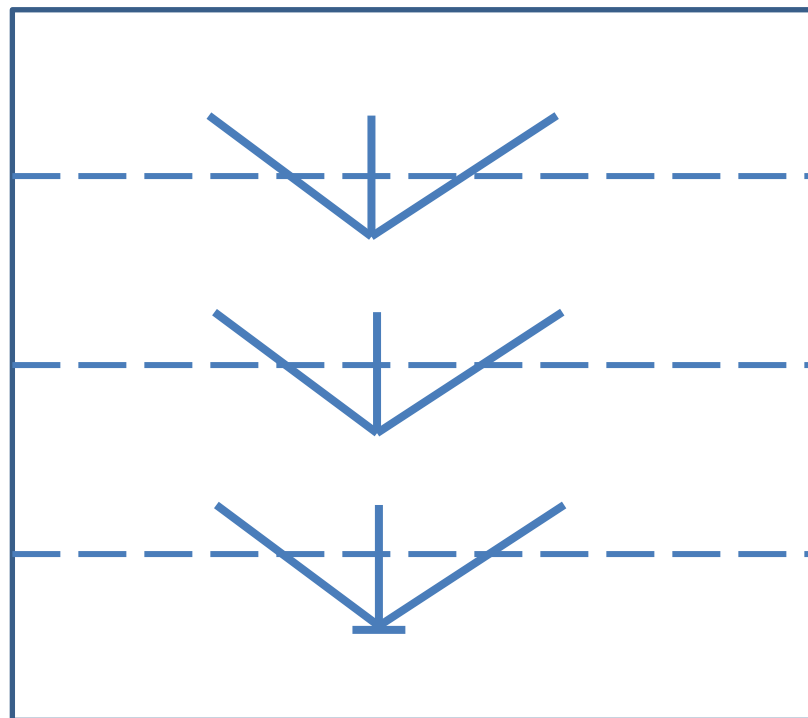
Решение задач

В этом дереве предыдущая бусина перед каждой круглой бусиной – треугольная.

В этом дереве предыдущая бусина перед каждой треугольной бусиной – квадратная.

На каждом уровне этого дерева ровно 2 листа.

Мешок А – это мешок всех бусин этого дерева.

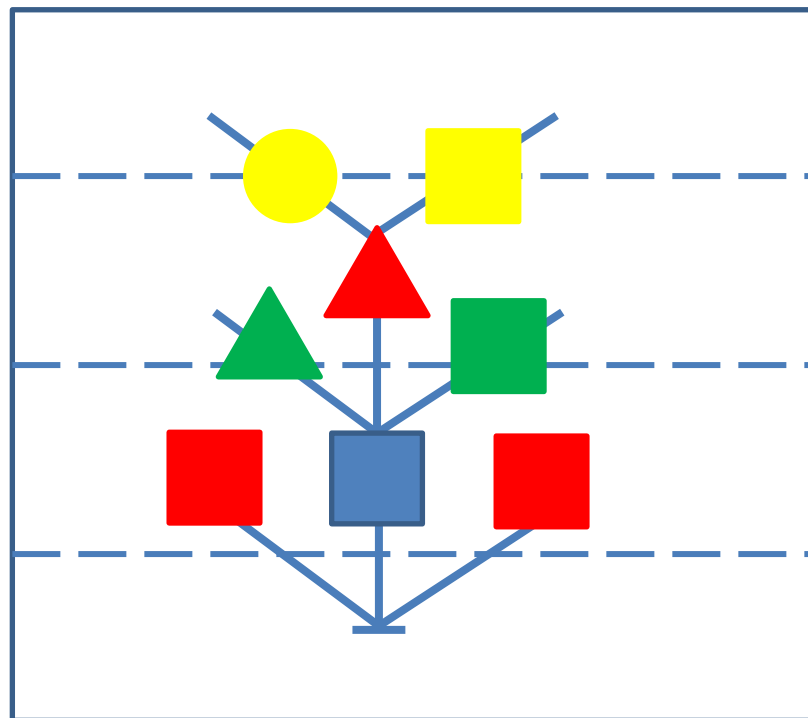


В этом дереве предыдущая бусина перед каждой круглой бусиной – треугольная.

В этом дереве предыдущая бусина перед каждой треугольной бусиной – квадратная.

На каждом уровне этого дерева ровно 2 листа.

Мешок А – это мешок всех бусин этого дерева.

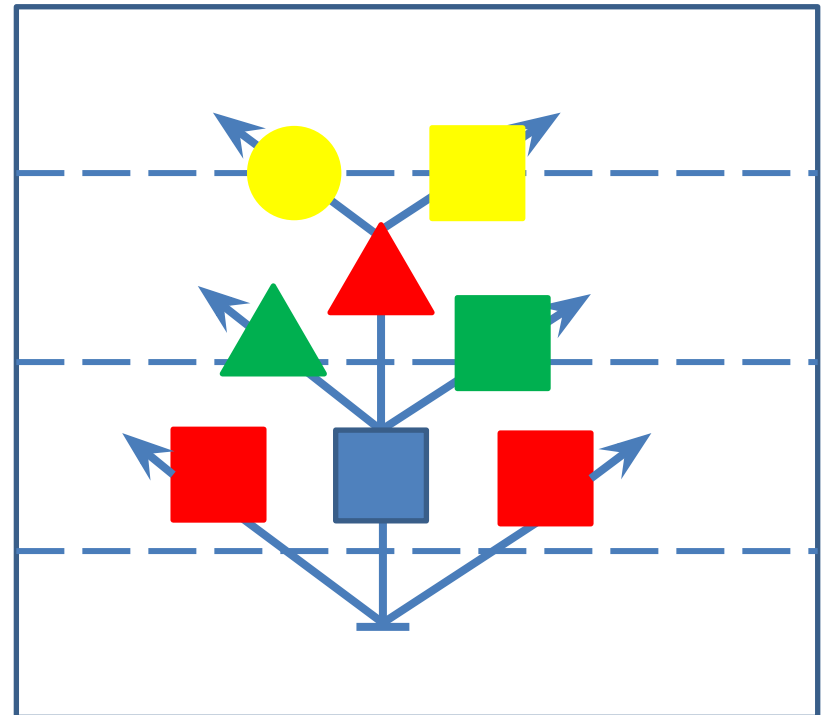


В этом дереве предыдущая бусина перед каждой круглой бусиной – треугольная.

В этом дереве предыдущая бусина перед каждой треугольной бусиной – квадратная.

На каждом уровне этого дерева ровно 2 листа.

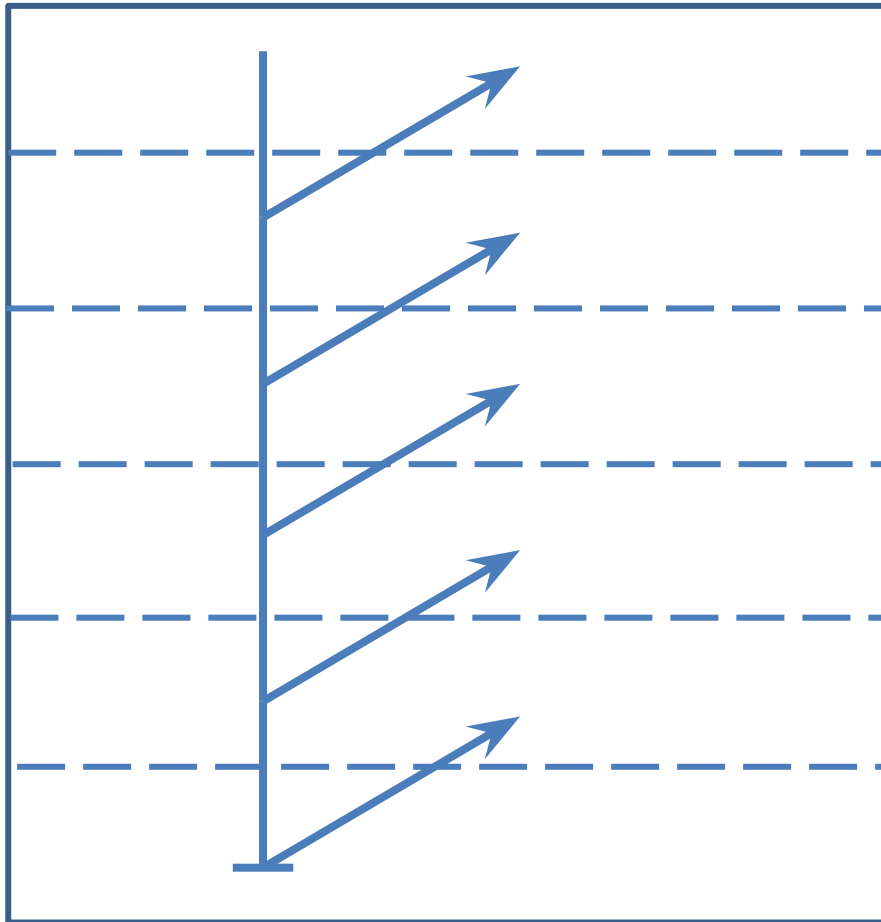
Мешок А – это мешок всех бусин этого дерева.



В этом дереве все цифры разные.

В этом дереве ровно 5 уровней.

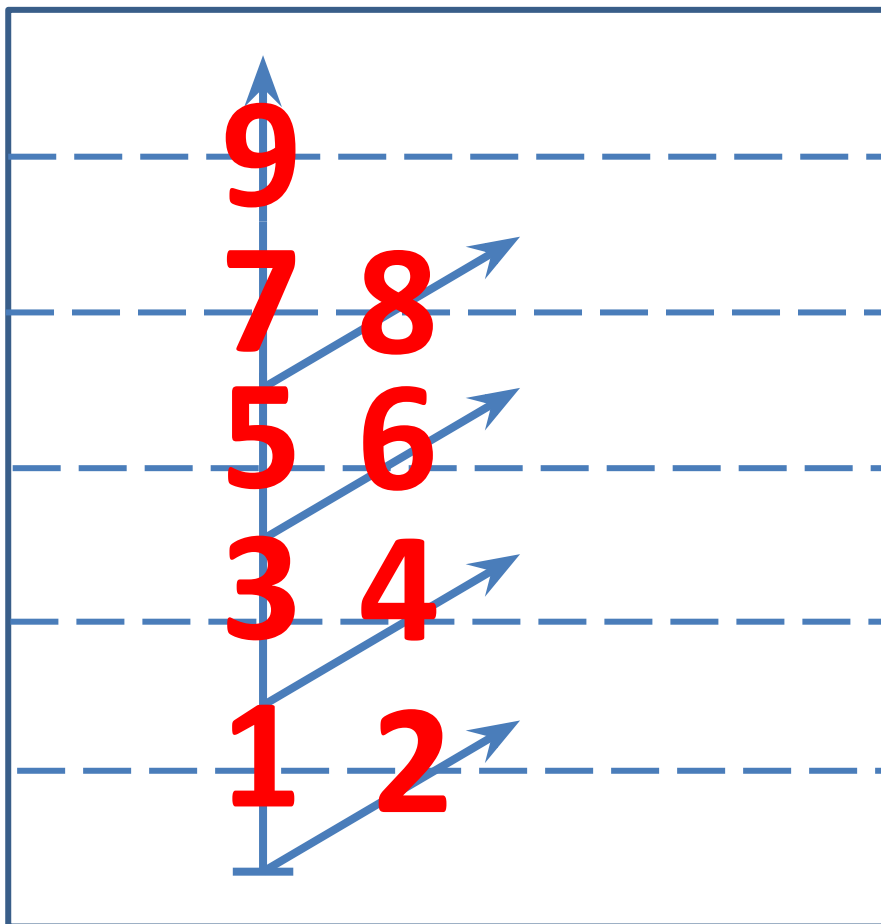
На каждом уровне дерева ровно один лист.



В этом дереве все цифры разные.

В этом дереве ровно 5 уровней.

На каждом уровне дерева ровно один лист.



Раскрась бусины дерева Д по таблице так, чтобы для каждого пути дерева оба утверждения были

ИСТИННЫМИ:

В этой цепочке предыдущая бусина перед каждой треугольной – зелёная.

В этой цепочке вторая бусина после каждой квадратной – красная.

СИНИЕ	3
КРАСНЫЕ	5
ЗЕЛЁНЫЕ	5
ЖЁЛТЫЕ	3

