

Цифры



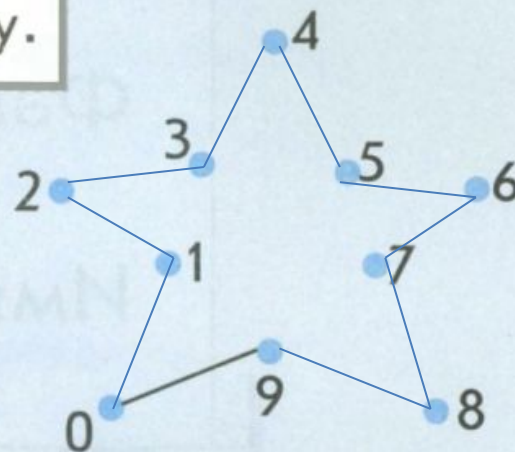
Королёва Ирина Николаевна
учитель начальных классов
МКОУ СОШ №2
г.Нефтекумск



1 Напиши ряд цифр от 0 до 9.

0 1 2 3 4 5 6 7 8 9

2 По точкам от 0 до 9 нарисуй фигуру.




Придумай пример из

1



ж 6 в Н



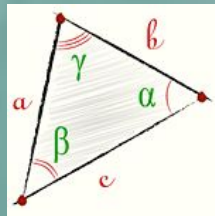
2



7



3



8



4



9



5




0



3 Паровозик из Ромашково.



1. Сосчитай, сколько всего вагонов.
2. Пронумеруй их.
3. Кто едет в первом, втором, пятом восьмом вагонах?
4. Какие вагоны пустые?
5. В какие вагоны билеты у Чебурашки, у Пятачка?
6. В каком вагоне едет Шапокляк?




4 Составь правильно сказку «Репка».
Расставь номера картинок по порядку.



Физминут

ка

















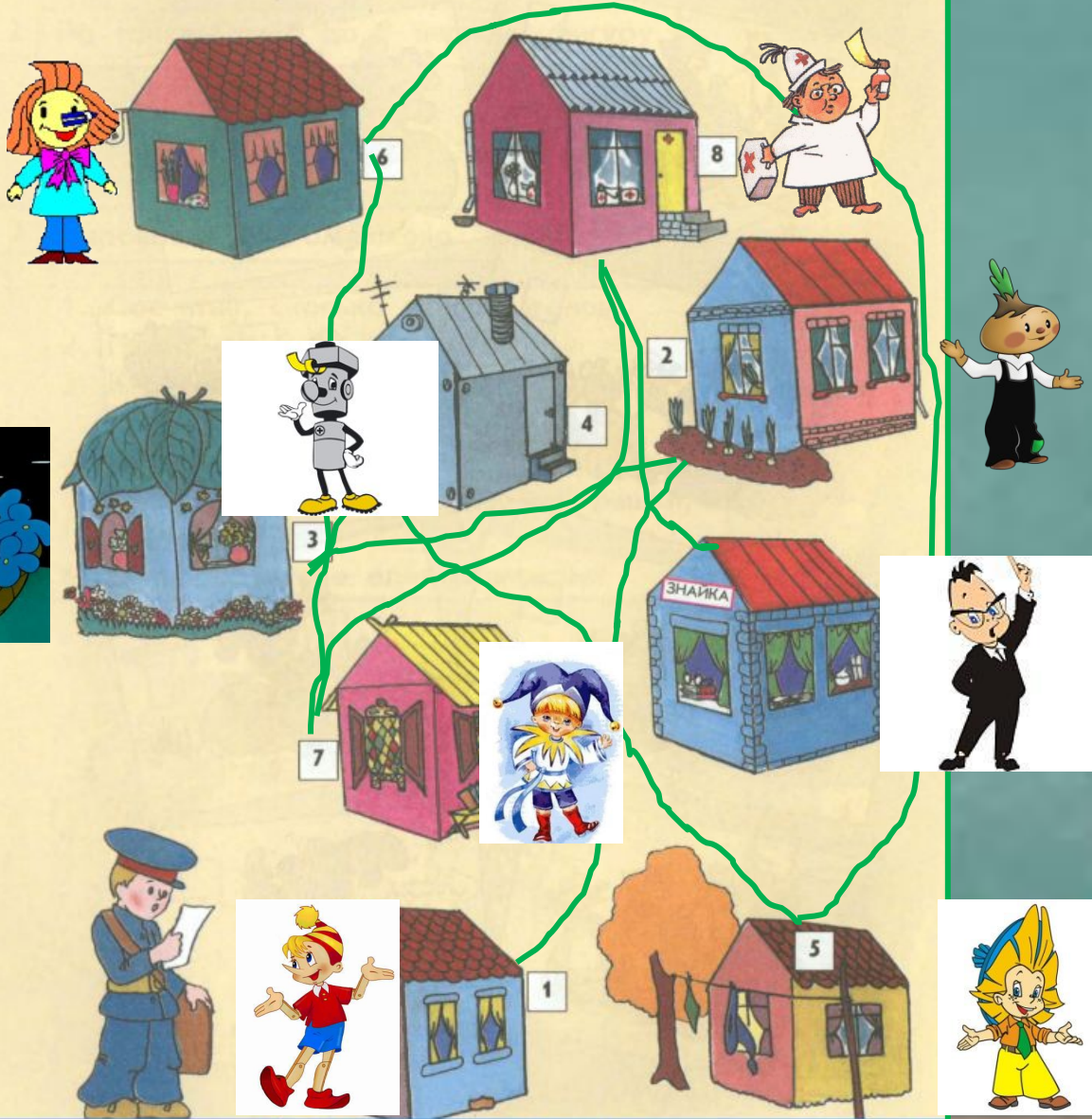




**ЗДОРОВ
О!**




5 Почтальон обошёл все дома в городе Весёлых Человечков по порядку от первого до девятого. Отметь линией его путь.





6

Дорисуй ромашки.



7

Укажи стрелочкой место веточки, которая расположена неправильно.



Отгадай-



ка

Какая цифра при переворачивании становится шестёркой?

Какие цифры при переворачивании не изменяются?


Какая цифра является лучшей оценкой в школе?

Какие цифры похожи на буквы?



8 Расставь по порядку цифры от 0 до 9, и ты узнаешь, как правильно раскрасить жар-птицу.

- 0 – зелёным
- 1 – жёлтым
- 2 – оранжевым
- 3 – коричневым
- 4 – фиолетовым
- 5 – голубым
- 6 – синим
- 7 – розовым
- 8 – красным
- 9 – салатным





ИСТОЧНИК

<http://www.proshkolu.ru/user/kornienko47/file/3031566/>

И

<http://img3.proshkolu.ru/content/media/pic/std/3000000/2354000/2353867-c49d8bf69bd64ce1.gif>

<http://www.proshkolu.ru/user/tcheckanova67/file/1637618/>

<http://animashki.kak2z.org/category.php?cat=5&pn=13>

<http://animashki.kak2z.org/category.php?cat=6&pn=3>

<http://animashki.kak2z.org/category.php?cat=6&pn=4>

<http://animashki.kak2z.org/category.php?cat=39&pn=1>

<http://animashki.kak2z.org/category.php?cat=39&pn=7>

