




Необходимо поставить карточки с числа в порядке возрастания



10 18 14 17 12 15 16  
1 19 13 20







1



Необходимо посчитать сколько синих и голубых кубиков.







Посчитай количество кубиков и нажми на нужное число.

	3
	5
	6
	1
	4
	2









Посчитай количество кубиков и нажми на нужное число.

	3
	2
	4
	1




Который по счету находится белый куб

	2
	1
	4
	5
	3



Помоги Симке собрать все батарейки и посчитай их количество.





Попробуй ещё раз