



Найди лишнее. Объясни почему?
Элементы какого множества
остались?



Найди лишнее. Объясни почему? Элементы какого множества остались?




Найди лишнее. Объясни почему?
Элементы какого множества
остались?



Нарисуйте забор между двумя группами животных.




Назови множество





Грибы



РЫБЫ





П
Т
И
Ц
Ы



Игрушк

и



ДЕРЕВЬЯ



Растения



ТРАВЫ



КУСТЫ



Обведите: красным маркером множество животных, синим маркером множество деревьев, зелёным маркером множество колючих предметов.

