

# ИНФОРМАТИКА

3

ИНФОРМАТИКА  
В ИГРАХ И ЗАДАЧАХ

часть 2



# ОСНОВЫ ЛОГИКИ

Издание для учителя информатики  
МБОУ «СШ № 20» г. Ново-Московского  
Тул. обл.  
Тол. Ново-Московский район

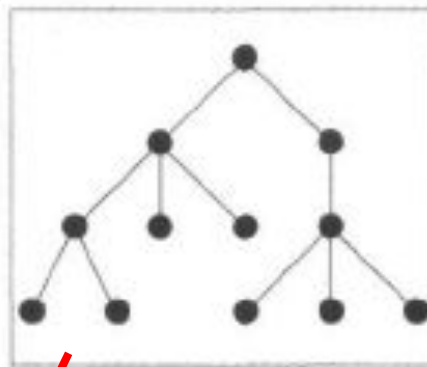
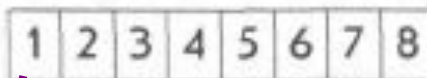


# *Закономерность.*

**Презентация к уроку информатики в 3 классе  
по программе А.В.Горячева**

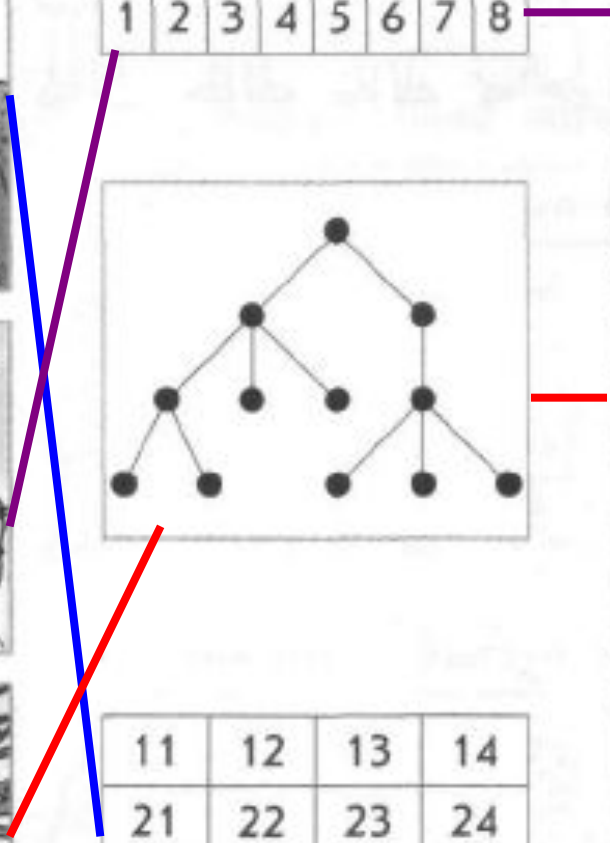

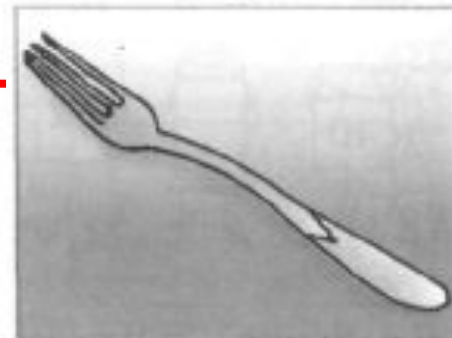

**(IV четверть 2 урок)**

# Проверка домашнего задания

4 Соедини линиями похожие рисунки.




11	12	13	14
21	22	23	24
31	32	33	34
41	42	43	44




# *По какому правилу*

**5** По какому правилу числа следуют друг за другом?  
Заполни пустые карточки.



















Каждое следующее число на **3** больше предыдущего.

**6** По какому правилу буквы следуют друг за другом?  
Заполни пустые карточки.

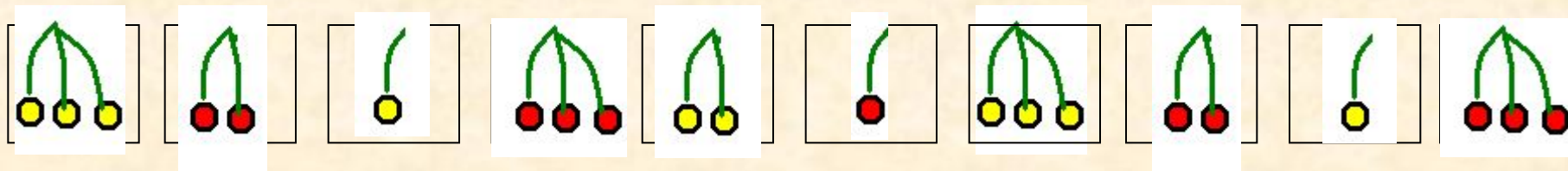


**Буквы следуют в алфавитном порядке, но между каждой парой букв в цепочке пропущено по две буквы.**

**9** По какому правилу нарисованы предметы в таблице?  
Заполни пустые клетки.

**11** По какому правилу рисунки следуют друг за другом?  
Нарисуй ягоды в пустых клетках. Впиши ответ на вопрос:  
«Сколько разных рисунков можно сделать по этому  
правилу?».



Два правила:

- чередуется число ягод слева направо: 3, 2, 1, 3, 2, 1 и т.д.
- чередуется цвет ягод слева направо: жёлтый, красный и т.д.

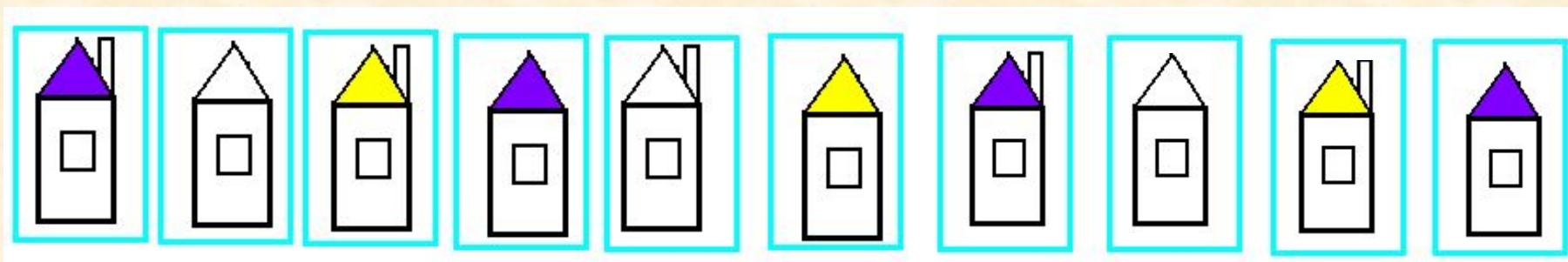
По этому правилу можно нарисовать **6** разных рисунков.

**12** Обведи цветным карандашом клетки, которые нужно поменять местами, чтобы соблюдалось правило.





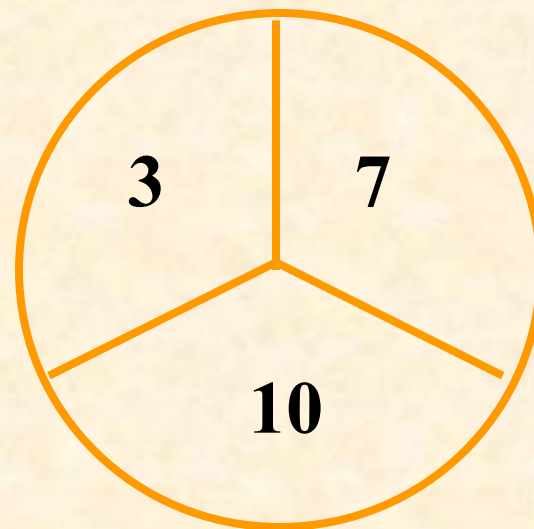
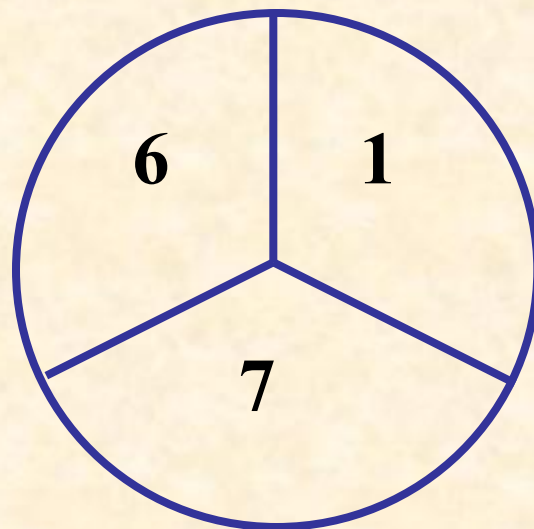
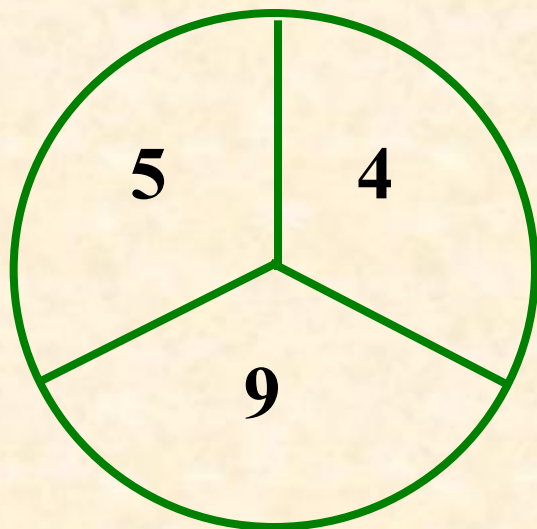
**13** По какому правилу рисунки следуют друг за другом?  
Нарисуй домики в пустых клетках. Впиши ответ на  
вопрос: «Сколько разных рисунков можно сделать по  
этому правилу?».



По этому правилу можно нарисовать **6** разных домиков.

14

По какому правилу рисунки записаны числа?  
Впиши пропущенное число.



16

По какому правилу следуют друг за другом слова?  
Придумай и впиши правильную рифму.

АПЕЛЬСИН  
ОГУРЕЦ  
МИМОЗА

АПЕЛЬСИН  
ПОМИДОР  
РОЗА

ОСЕНЬ  
СУББОТА  
ОКТЯБРЬ

ЗИМА  
ВОСКРЕСЕНЬЕ  
СЕНТЯБРЬ



# *Домашнее задание*

**№ 7, 8, 10, 15 (стр.34)**

# *Источники:*

1. Информатика в играх и задачах. 3 класс: Методические рекомендации для учителя. – авт.-сост. А. В.. Горячев, К. И. Горина. - М.: Баласс, 2009. – 128 с.
2. Информатика в играх и задачах. 3-й класс. Учебник в 2-х частях, часть 2 -56 с. М.:Баласс, 2010.



**Презентацию подготовила**

**Пospelова Г.В.**

**Учитель информатики МОУ  
«СОШ № 20»**

**г. Новомосковск**

**Тульская область, 2011 г.**

**Желаю всем приятного просмотра!!!**