

Греческая культура

Культура-достижения людей в различных сферах жизни общества

Политика: демократия (Солон, Клисфен, Перикл)

Экономика: расцвет и возвышение Афин (порт Пирей)
(Перикл)

Социум: отмена долгового рабства (Солон).

Культура:

архитектура и скульптура,

философия и наука,

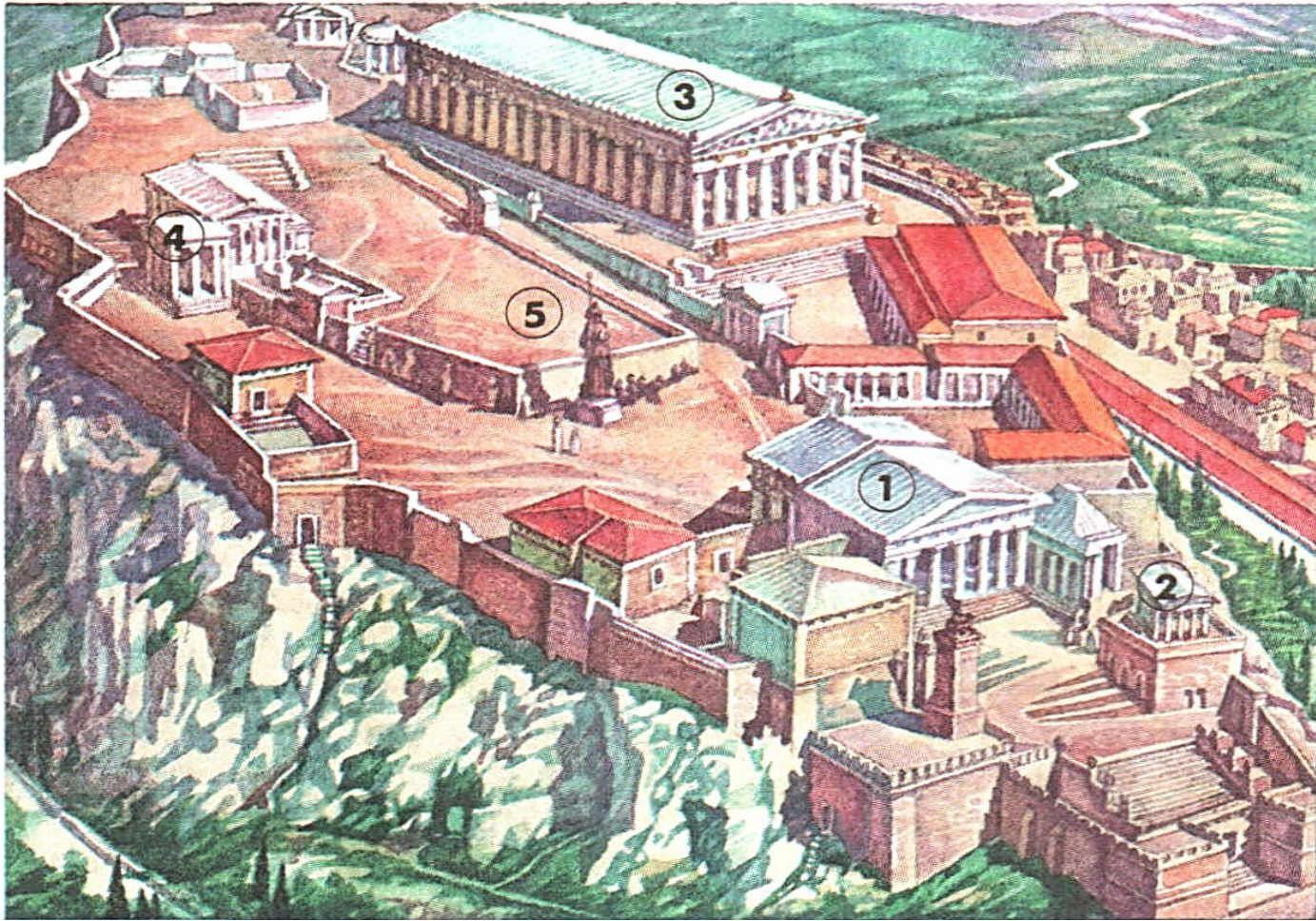
образование,

театр

АРХИТЕКТУРА



Афинский акрополь



АРХИТЕКТУРА

Задание 1: рассмотрите макет Афинского акрополя и назовите его основные части.

Задание 2: прочитайте текст и заполните пропуски.

Представьте себе, что вы совершаете прогулку по Древним Афинам.

Лишь одна дорога ведёт на холм с крутыми обрывистыми склонами. Холм называется _____ Здесь проложили мраморную лестницу. Она вела к парадному входу на акрополь –] _____ При

входе на холм справа на уступе скалы стоит небольшой храм боги _____ Обычно её изображали _____ Желая


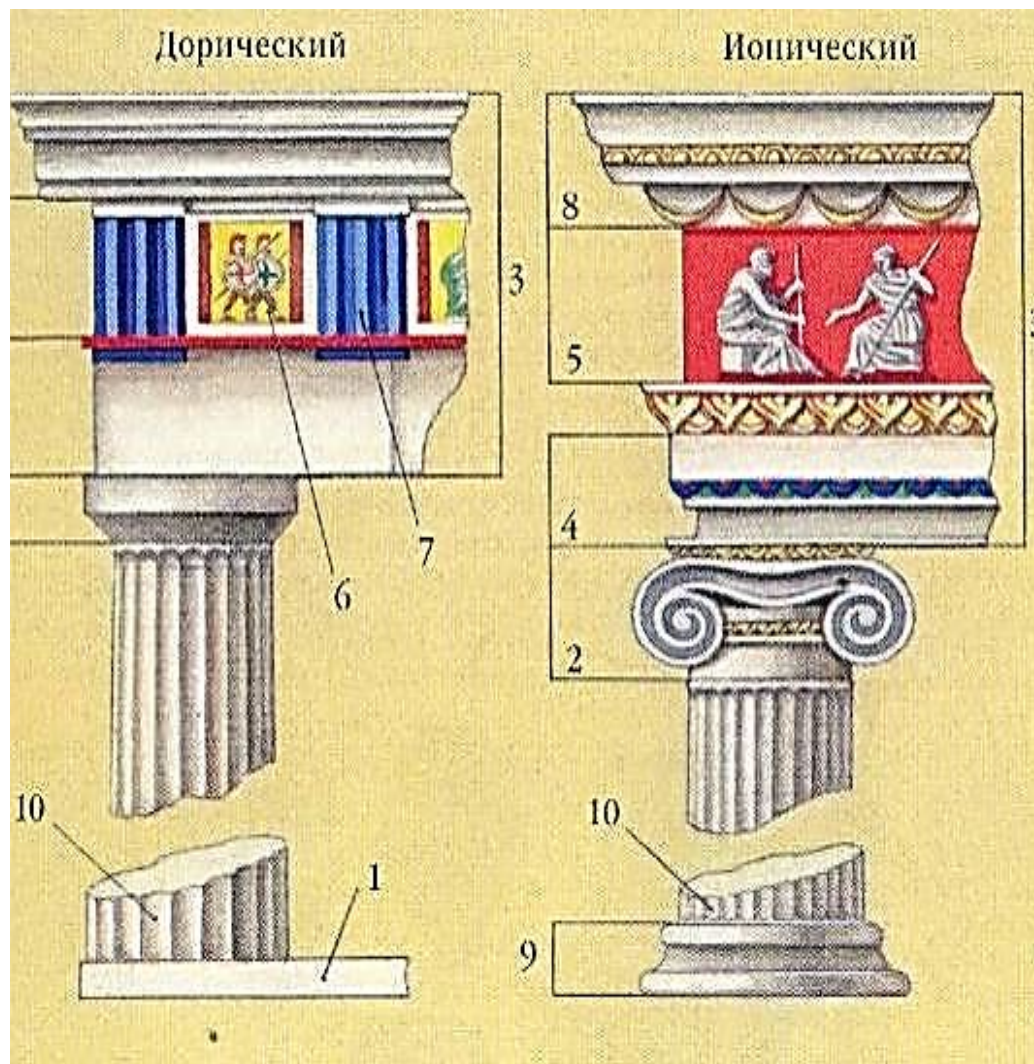
удержать богиню в своём городе, афиняне воздвигли храм в её честь. Центральное место на Акрополе занимает храм _____

Вершину холма украшает бронзовая _____ Статую создал скульптор _____ Моряки, подплывая к Афинам, могли заметить, как блестят на солнце _____

Самым прекрасным творением греческих строителей был _____ На том месте, где согласно мифу спорили между собой Афина и Посейдон, находится храм. В одном из его портиков вместо обычных колонн стоят _____

АРХИТЕКТУРА


2 СТИЛЯ



Слева храм в дорическом стиле, справа — в ионическом стиле

АРХИТЕКТУРА

1




Храм Ники Бескрылой

2



Парфенон, построенный архитекторами Иктином и Калликратом





Слева храм в дорическом стиле, справа — в ионическом стиле

Задание 3: рассмотрите храмы и определите их архитектурный стиль

СКУЛЬПТУРА

Задание 4: рассмотрите скульптуры, указав имя скульптора и название его произведения




ФИЛОСОФИЯ

Философия – «любовь к мудрости».
Родина философии – Иония.



Фалес Милетский
математик




Демокрит Абдерский
атомистика




Пифагор Самосский
математик




Протагор
философ



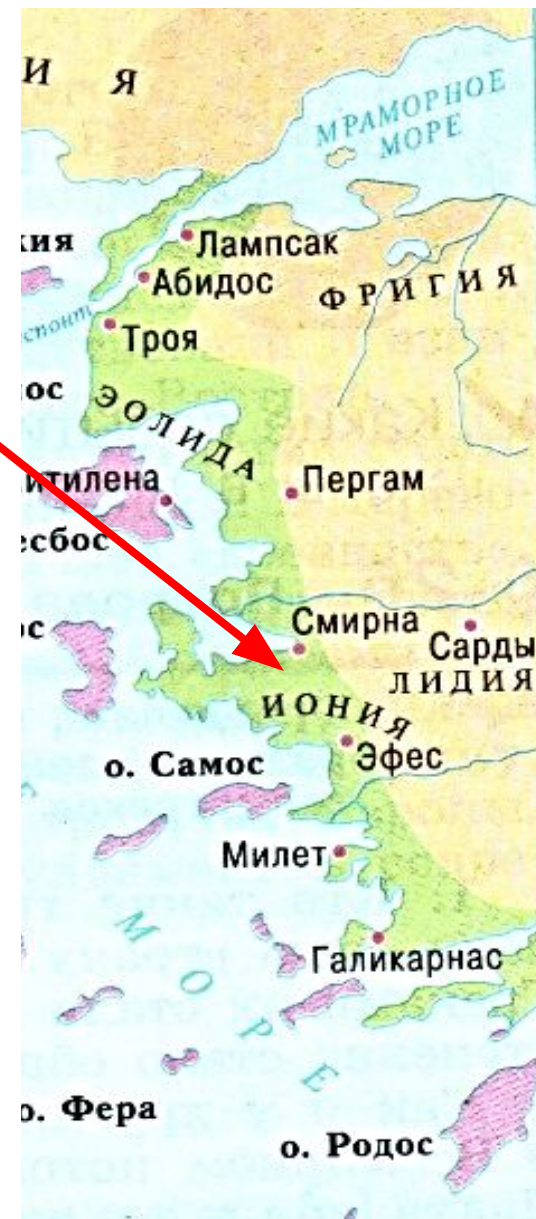
Сократ
философ



Аристотель
философ



Платон
философ




ФИЛОСОФИЯ


Задание 5: установите соответствие между философами и их научными идеями

философы	научные идеи
1) Фалес;	А) логика, этика, основал Ликей.
2) Демокрит;	Б) великолепный оратор;
3) Пифагор;	В) совершенное государство, основал Академию;
4) Протагор;	Г) первооснова всего-вода;
5) Сократ;	Д) религиозно-философское братство в Южной Италии;
6) Аристотель;	Е) «человек-мера всех вещей»;
7) Платон.	Ж) все в мире состоит из атомов;


НАУКА




**Теофраст
физика,
биология**



**Геродот
историк**



**Фукидид
историк**



**Гиппократ
медицина**

НАУКА


Задание 6: установите соответствие между учёными и их научной деятельностью

учёные	научная деятельность
1) Теофраст;	А) описание войны между Афинами и Спартой;
2) Геродот;	Б) научное описание минералов, растений, животных;
3) Фукидид;	В) методы лечения болезней;
4) Гиппократ;	Г) описание событий греко-персидских войн.
5) Платон.	

ОБРАЗОВАНИЕ




Задание 7: составьте схему «Образовательные учреждения Древней Греции», указав название учебных заведений, их название, возраст и занятия учащихся




ТЕАТР

Возник из праздника в честь бога Диониса

Задание 8: назовите основные части древнегреческого театра



Сатир-
спутник
Диониса




Древнегреческий театр. Реконструкция.




ТЕАТР

ТРАГЕДИЯ


КОМЕДИЯ




Эсхил




Софокл




Еврипид



Аристофан



маски



Жетоны — входные билеты в театр

Задание 9: прочитайте и заполните пропуски в тексте.

Театр возник из праздника в честь бога
Театральные представления длились _____ дня. Представление
происходило внизу, на круглой площадке-_____. Позади
неё ставили палатку для переодевания актёров-_____. В
представлении участвовали _____ Пьесы были двух
видов: