

Что изучает история?

Заболотнева С.В.

Учитель истории и обществознания МБОУ
СОШ №7 «Эдельвейс» г. Находка Приморского
края

Два чувства близки нам –
В них обретает сердце пищу:
Любовь к родному пепелищу,
Любовь к отеческим гробам.

А.С. Пушкин






История – это наука о жизни людей с древнейших времен до наших дней.

История – это действительность в ее движении.

История – это наука о развитии человеческого общества.

История – это прошлое, которое хранится в памяти человечества.



СЕВЕРНАЯ АМЕРИКА
24 млн 200 тыс. кв. км

ЗАПАДНОЕ ПОЛУШАРИЕ



СЕВЕРНЫЙ ЛЕДОВИТЫЙ ОКЕАН
14 млн 500 тыс. кв. км

ВОСТОЧНОЕ ПОЛУШАРИЕ

ЕВРАЗИЯ
54 млн кв. км



ТИХИЙ ОКЕАН
178 млн 700 тыс. кв. км



Озеро Титикака

ШКАЛА ВЫСОТ И ГЛУБИН



УСЛОВНЫЕ ЗНАКИ

- Рельеф, водораздел
- 47M
- 0м
- 41B
- 5000
- Волны
- 4
- 1:1
- Океан
- Смысловый уровень моря
- Смысловый уровень воды
- Смысловый глубин
- Вулканы
- Коралловые рифы

АТЛАНТИЧЕСКИЙ ОКЕАН
91 млн 700 тыс. кв. км

ЮЖНАЯ АМЕРИКА
17 млн 800 тыс. кв. км

АФРИКА
30 млн 300 тыс. кв. км

АНТАРКТИДА
13 млн 200 тыс. кв. км

ИНДИЙСКИЙ ОКЕАН
75 млн 200 тыс. кв. км


Южный океан объединяет части площадей трех океанов — Индийского, Атлантического и Тихого к югу от 60° ю.ш.



Исторические источники

- Источники – «следы» жизни древних людей (вещественные и письменные)

Вещественные	Письменные
Глиняные таблички, жилища, оружие, сборники законов	Древние книги, монеты, надписи на камне, посуда



Науки – помощницы истории

Археология

Сфрагистика

Антропонимика

Геральдика

Генеалогия

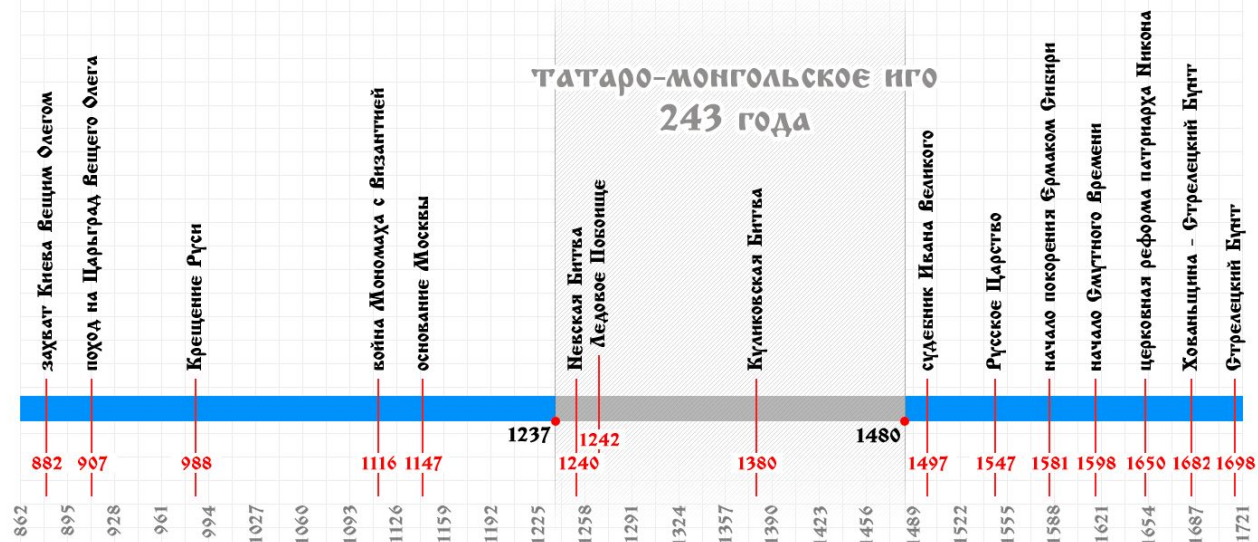
Метрология

Нумизматика

Хронология


Этнография

Хронология событий доимперской России

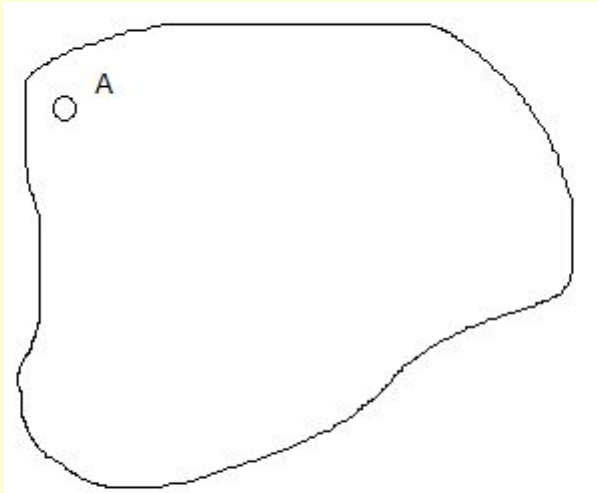


Чтение исторической карты.

Задание 1.



Подпишите стороны света
на розе ветров.

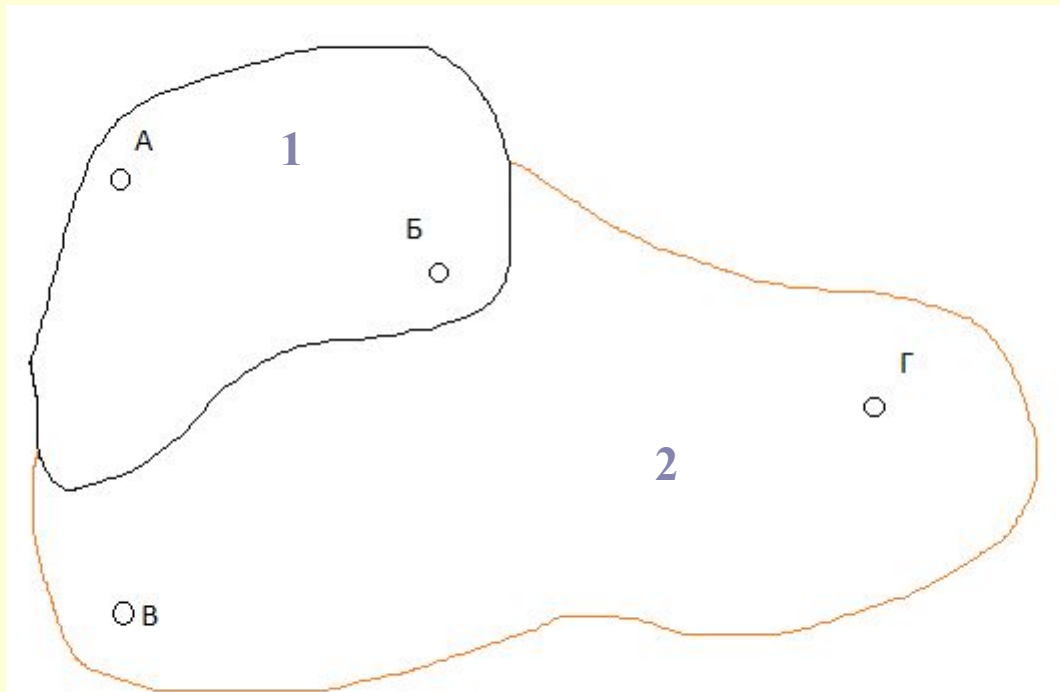


Укажите в какой
части страны
находится город А

Задание 2.

Изобразите на карте следующие события:

1. Владыка страны 1 совершил поход в страну 2 и завоевал город В с прилегающими территориями.
2. Основное сражение произошло у города В.
3. Между городами А и Б ведется интенсивная торговля.





Домашнее задание

- Стр.7-8

