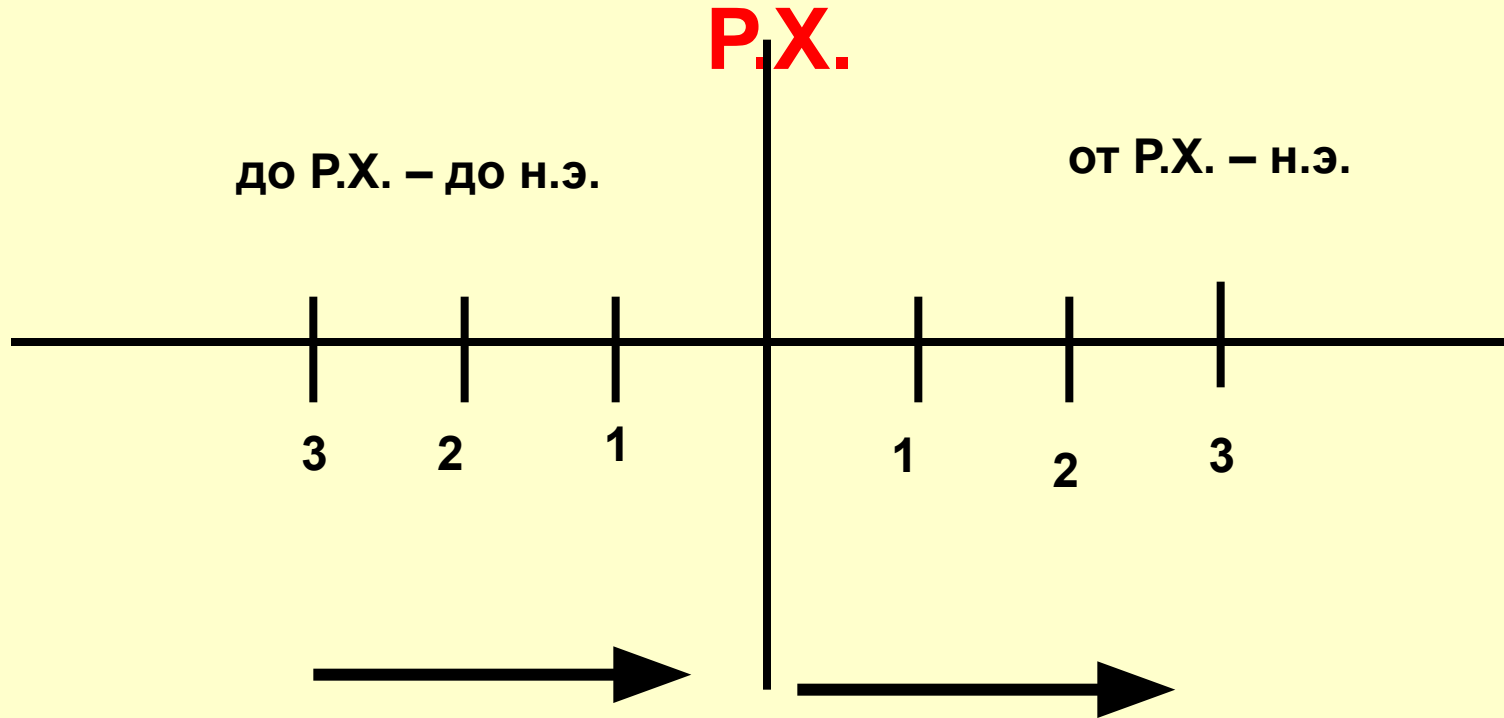


Летосчисление.

Время движется всегда по направлению к нашим дням!



Историческая карта.

Что такое карта?



- **Карта** – это уменьшенное обобщенное изображение поверхности Земли (или ее части) на плоскости

- **Атлас** – собрание карт, переплетенных вместе



Виды карт

- Карта мира
- Дорожные карты
- Морские карты
- Политические карты
- Физические карты
- Исторические карты
- Контурные карты

Политическая карта мира



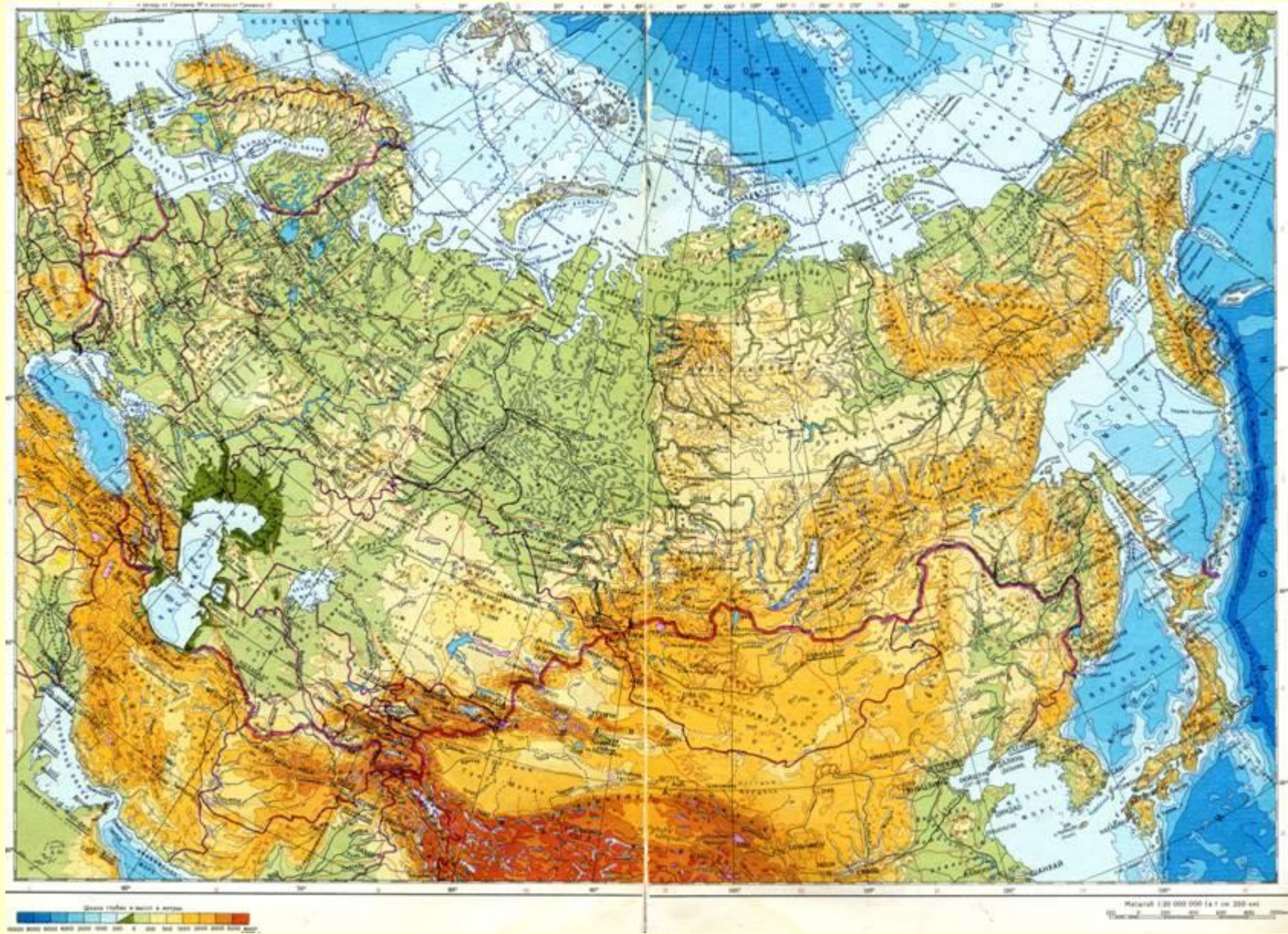
Дорожная карта (автомобильных дорог)

ЛЕНИНГРАДСКАЯ ОБЛАСТЬ



Масштаб 1:3 000 000

Физическая карта



Историческая карта – изображение Земли или большей части земной поверхности в различные времена истории человечества.

? карты

```
graph TD; A["? карты"] --> B["Где?"]; A --> C["Какие изменения произошли?"]
```

Где?

**Какие изменения
произошли?**

На
исторической
карте
обозначаются

Места сражений

Старинные крепости

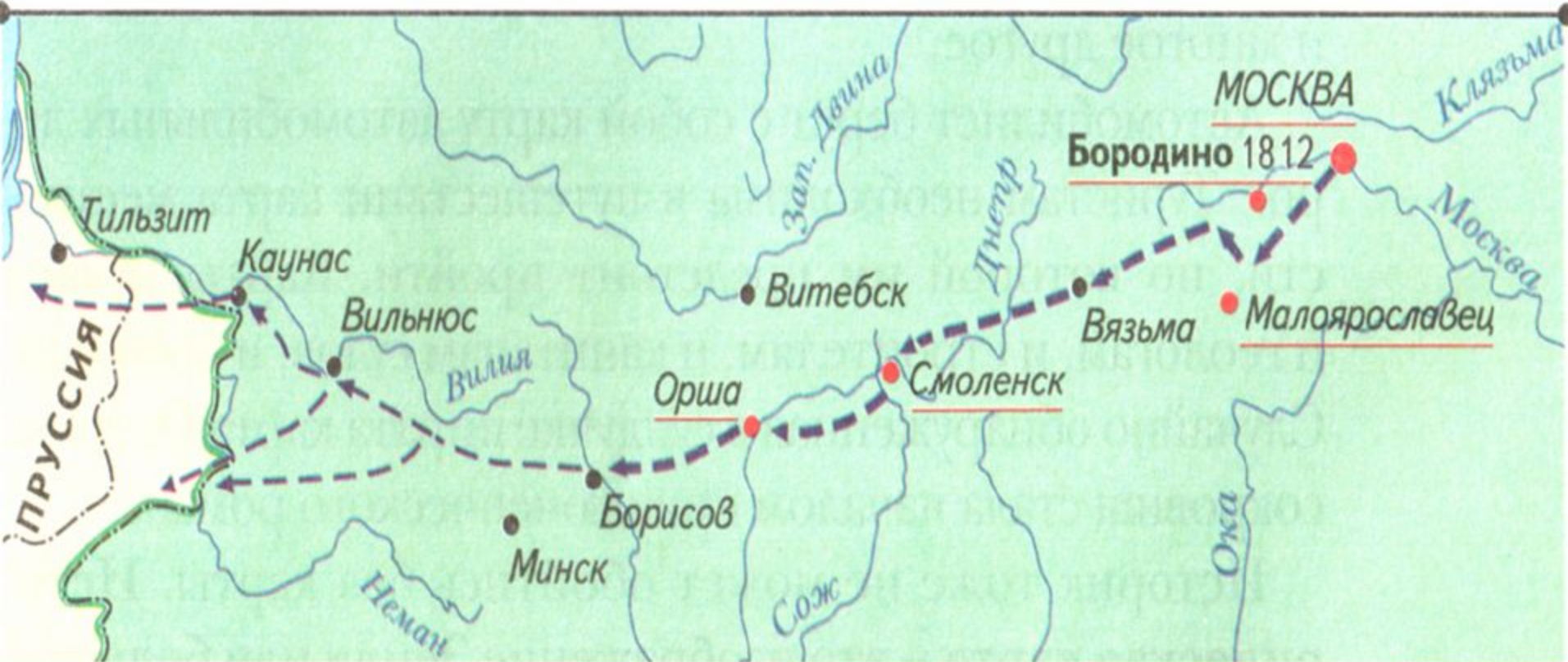
Линии фронтов

Торговые пути

Города

Памятники культуры

Отступление французской армии в 1812 году



← - - - Отступление французской армии ● Бородино 1812 Места и даты крупных сражений



- Как карта отвечает на три важных вопроса: «Что произошло?», «Где произошло?», «Когда произошло?»



Карта Шелкового пути

Караванный путь, по которому купцы перевозили шелк и другие товары из Китая в Западную Азию, пролегал через труднопроходимые горные территории и пустынные местности. Проникаешь с уважением к людям, осилившим этот путь. Они не только занимались торговлей, но и помогали народам разных стран знакомиться друг с другом.



- Территория Российского государства в начале XVII в.
- Земли, вошедшие в состав Российского государства в XVII в. (до 1689 г.)
- Населенные пункты, основанные в XVII в.
- 1670** Годы основания населенных пунктов

- Поход Лжедмитрия I на Москву (1604—1605 гг.)
- Поход Лжедмитрия II на Москву (1607—1610 гг.)
- Поход И. И. Болотникова к Москве и отход к Калуге и Туле (1606—1607 гг.)
- Поход Минина и Пожарского в 1612 г.
- Вторжение польских и шведских захватчиков (1604—1618 гг.)

- Восстание под предводительством Степана Разина
- Территория, охваченная крестьянскими и казацкими восстаниями
- Поход Степана Разина в 1670 г. и отступление на Дон
- Место пленения Степана Разина

- Путь Федота Попова и Семёна Дежнёва в 1648—1649 гг.
- Путь Ерофея Хабарова в 1649—1653 гг.
- Пути других русских землепроходцев в XVII в.

Легенда карты – список условных знаков (надписей, дат) и их объяснений.

Черный шрифт – города

Голубой шрифт – все водоемы

Кружочек – город

Границы государства определенным цветом

Штрихи или цвет определенный - завоеванные территории

Скрещенные мечи – места сражений

Стрелки – направления походов

Скопление точек – места восстаний

План карта – изображение на плоскости небольшой части территории.



По плану можно определить, какие исторические объекты находятся на данной территории.

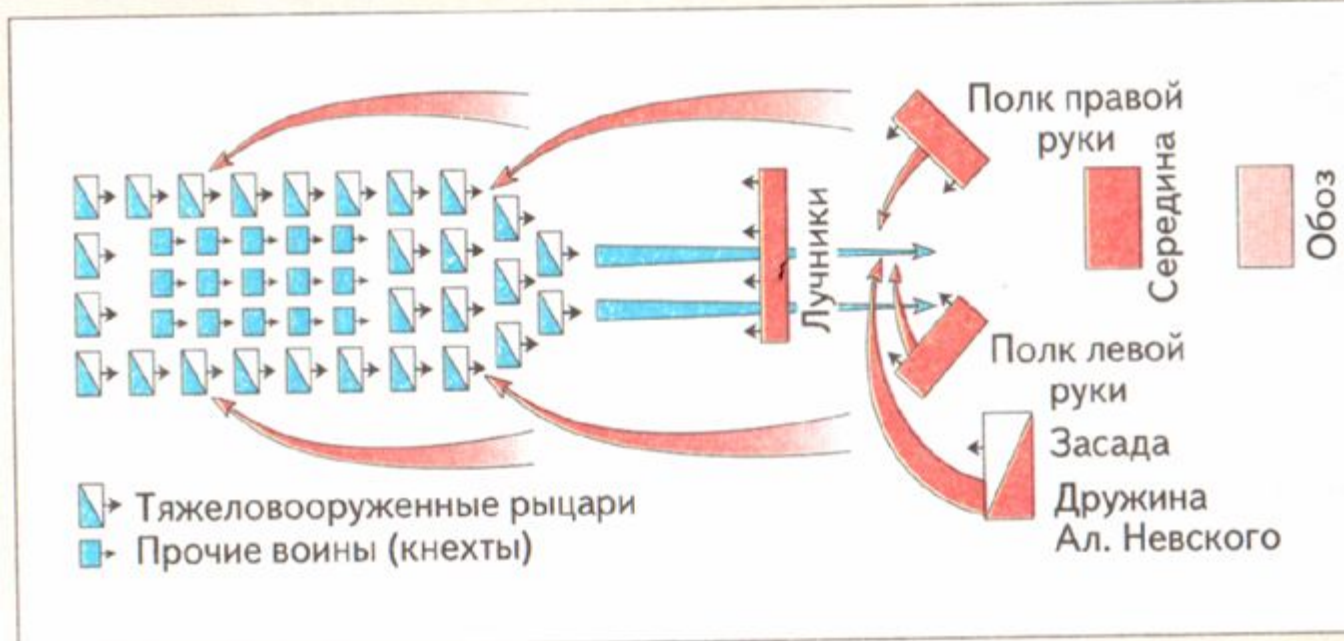


План города
Олонца.
XVII в.

На плане старинного города видны главные городские здания — собор, ратуша, где заседало городское управление, рыночная площадь, улицы. По старым планам города можно проследить, как разрастался он в разные времена.



План Марафонского сражения. 490 г. до н. э.



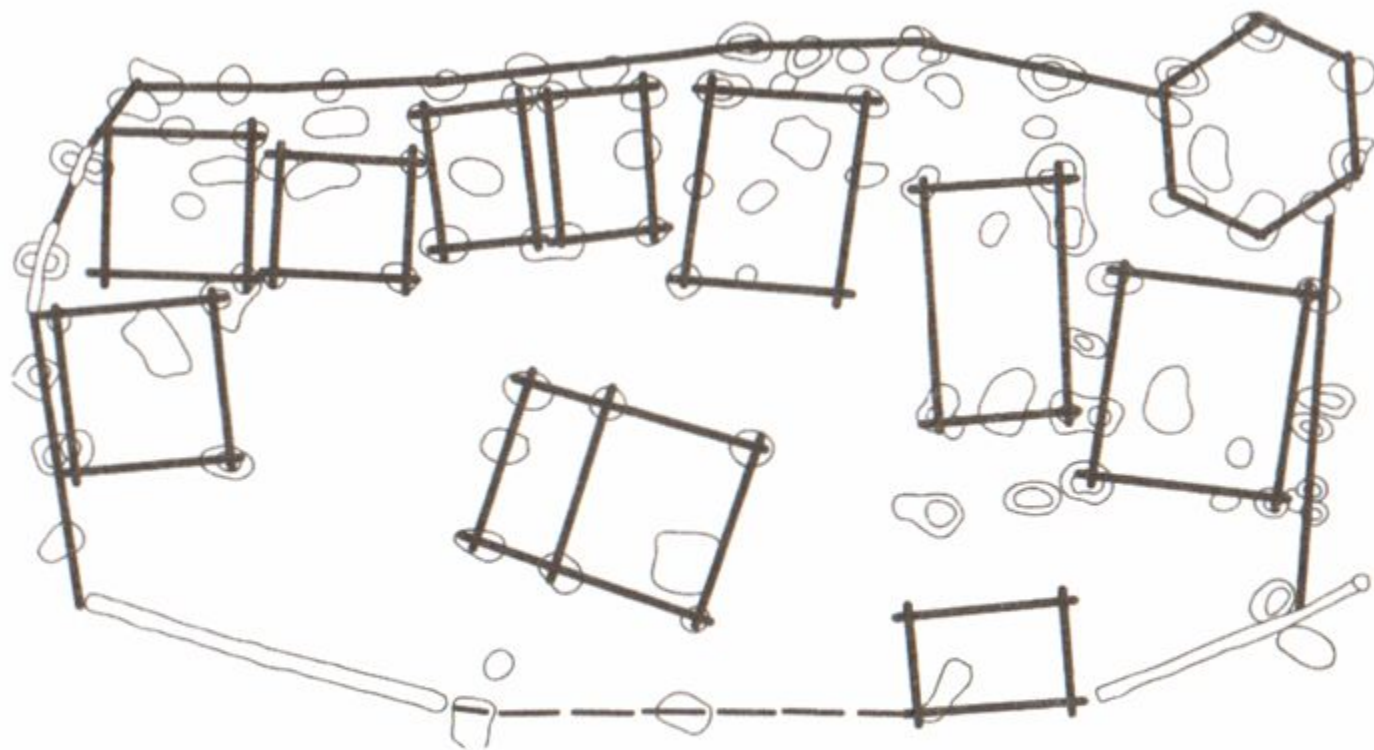
План Ледового побоища. 1242 г.

Рассмотрите
планы
Ледового
побоища и
Марафонского
сражения.

Как
расположились
войска
накануне
битвы?

Возможно ли
по планам
определить,
на чьей стороне
была победа
в ЭТИХ

План, составленный археологами
во время раскопок фундаментов зданий,
помогает воссоздать облик древнего города.



План раскопок древнерусского города Воищина (Смоленская область),
составленный по материалам раскопок

Что общего и каковы различия между картой и планом?

Рост территории России в XVII веке



Санкт-Петербург. План 1744 г.

КАРТА

Изображение большей части земной поверхности

Крупные объекты изображаются с условными обозначениями

ПЛАН

Изображение на плоскости небольшой части территории

Подробное изображение крупных объектов

Контурная карта



На контурные карты по истории нанесены только очертания территорий в то или иное время.

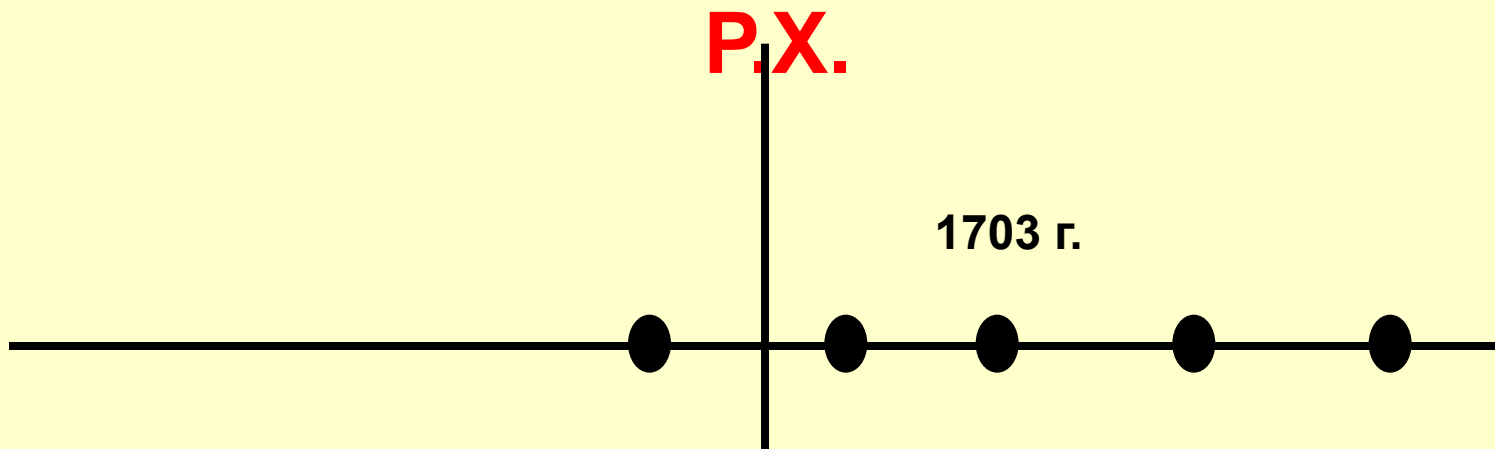
На них отмечены линии, обозначающие реки, моря, местоположение городов, отмеченных точками.

Это — основа. На нее нужно **наносить** названия объектов в процессе изучения исторических событий

Д.3.

- Начерти ленту времени и нанеси на нее 5 исторических дат.

Выпиши 5 исторических дат и событий.
Нанеси их на ленту времени



- 1.
- 2.
- 3.
- 4.
- 5.