

Счёт лет в истории



План урока:

1. Историческая хронология.
2. Календарь.
3. Наша эра и лента времени.

Вспомним



- что такое история?
- для чего ее изучают?
- с помощью чего мы изучаем свое прошлое?
- какая наука помогает истории в поисках исторического источника?

О чем идет речь?


Без крыльев, без рук оно.

Быстро летит, не догонишь его

Особенности исторического времени

- одно событие длится несколько дней
- другое событие длится годами
- некоторые события длятся веками

Как научиться правильно определять в каком году произошло то или иное событие?

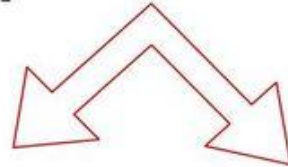


Запомни

- **Хронология** – наука о времени, последовательность исторических событий.



хронология



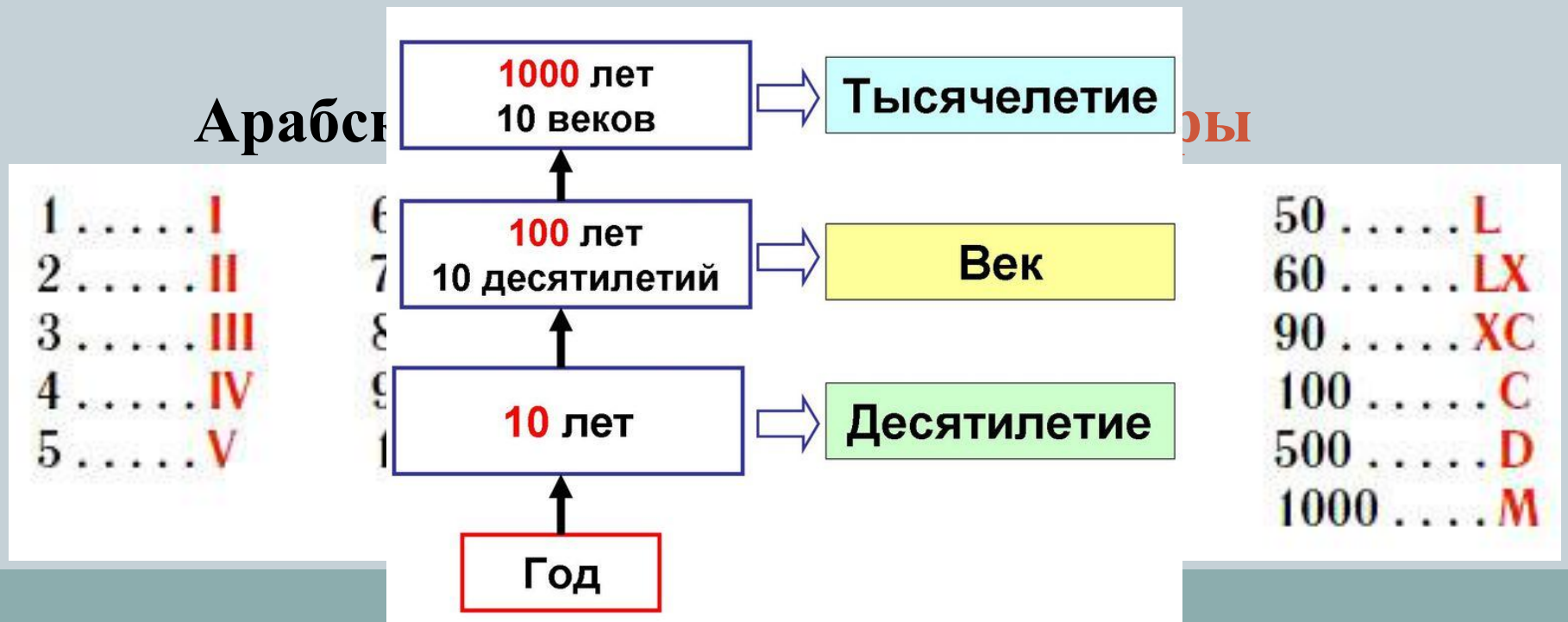
**Астрономическая
хронология**



**Историческая
хронология**



Историческая хронология

- Год = 365 дней
- Век = 100 лет
- Тысячелетие = 1000 лет



Измерение времени по годам

- Год = 365 дней
- Земледельцы первыми определили продолжительность года



весна



лето



осень



зима

Год

Историческая хронология



- ? Когда появились на земле древнейшие люди?
2,5 миллиона лет назад.
- ? Когда появился «человек разумный»?
40 тысяч лет назад.
- Какое из двух событий было раньше, какое позже и на сколько лет.

Счёт лет в Древнем Египте



В чём неудобство такого счёта лет?



Счёт лет в Древнем Риме



Если римлянин говорил, что он родился в 700 году, что это означало?

1 2 3 4

753 Год основания Рима



Лента времени



**ДАТА РОЖДЕНИЯ
ИИСУСА ХРИСТА**

**Период времени
до Рождества Христова**

до нашей эры (до н.э.)

**Период времени
от Рождества Христова**

**наша эра (н.
э.)**



ФИЗМИНУТКА



- первый месяц года – январь (да)
- первый месяц весны – апрель (нет)
- в году – 12 месяцев (да)
- в феврале – 30 дней (нет)
- новый год начинается 31 декабря (нет)
- четверть часа – это 15 минут (да)
- век – это срок в тысячу лет (нет)
- в сутках – 25 часов (нет)
- день больше, чем сутки (нет)
- часы - прибор для отсчета времени (да)

до нашей эры

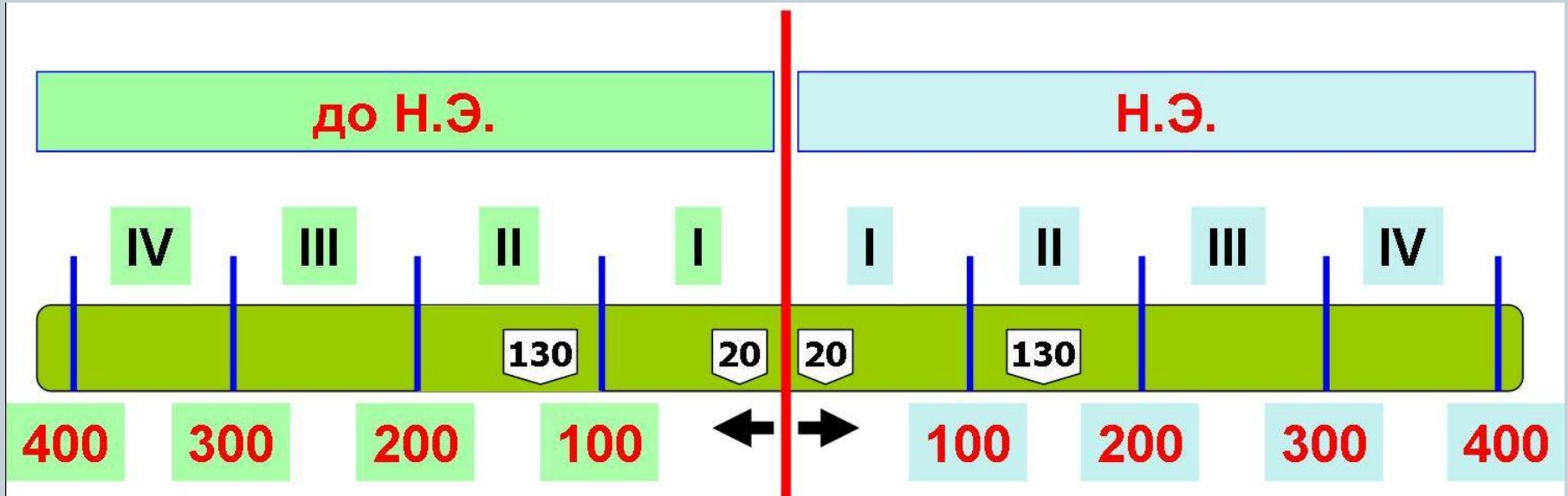
Р.Х.

наша эра

Лента времени – это дорога из
прошлого в будущее через настоящее.

Древний мир					Средние века										Новое время			Новейшее время					
3	2	1	1	2	3	4	5	6	7	8	9	10	11	12	13	14	15	16	17	18	19	20	21
До нашей эры		Наша эра																					

Лента времени



Историческая хронология

- 12  год. Это какой век?

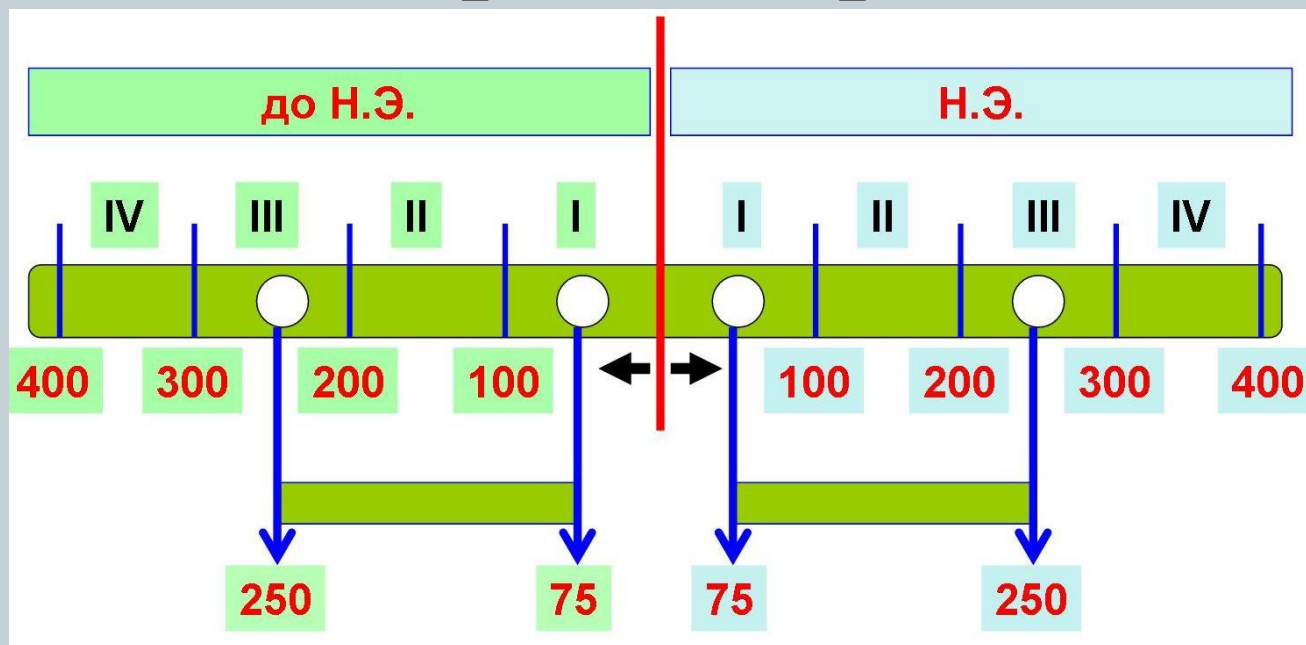
$$12 + 1 = 13 \text{ век}$$

- Если сейчас 2017 год, то какой сейчас век?
- 882 год. Это какой век?
- 1015 год. Это какой век?

Счёт лет



Как определить, сколько прошло лет, веков в пределах эры?



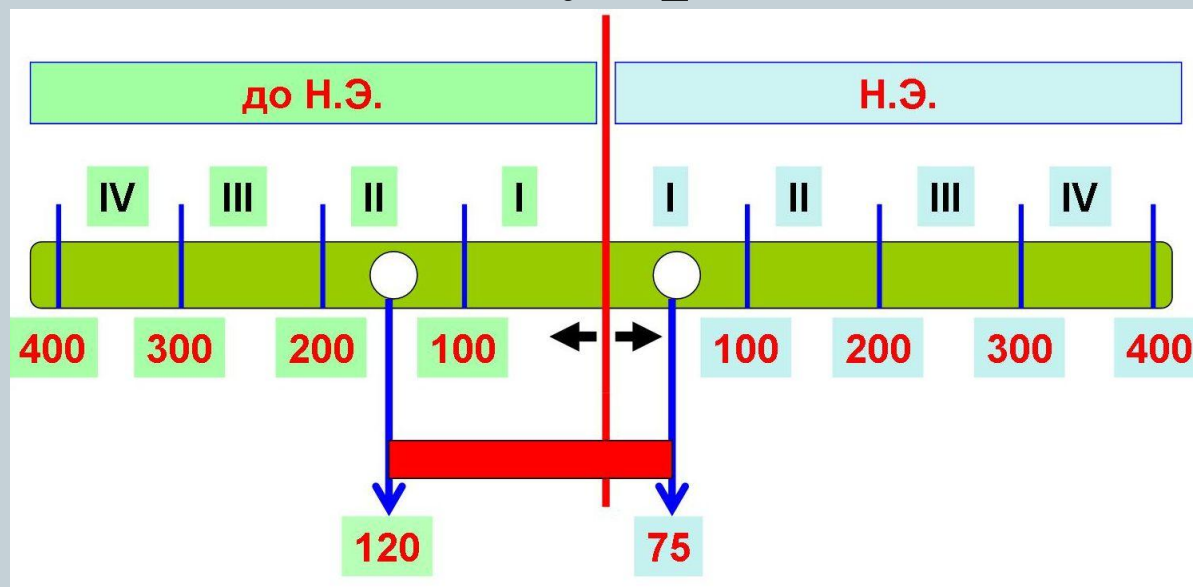
$250 \text{ г. до н.э.} - 75 \text{ г. до н.э.} = 175 \text{ лет}$

$250 \text{ г.} - 75 \text{ г.} = 175 \text{ лет}$

Счёт лет



Как определить, сколько прошло лет, веков между эрами?



$$120 \text{ г. до н.э.} + 75 \text{ г.} = 195 \text{ лет}$$

КАКОЕ СОБЫТИЕ ПРОИЗОШЛО **РАНЬШЕ?**

776 г. до н.э.



146 г. до н.э.




Основание
Олимпийских игр

Разрушение
римлянами
Карфагена

СКОЛЬКО ЛЕТ ПРОШЛО МЕЖДУ
СОБЫТИЯМИ?

$$776 - 146 = 630$$



Сколько лет назад произошло восстание Спартака?




74 г. до н.э.



Восстание
Спартака

2012 г. н.э.




$$74 + 2012 = 2086$$



Расположите года по порядку:



1. 372 г.
2. 74 г. до н.э.
3. 1374 г. до н.э.
4. 16 г.
5. 13 г. до н.э.
6. 1372 г.



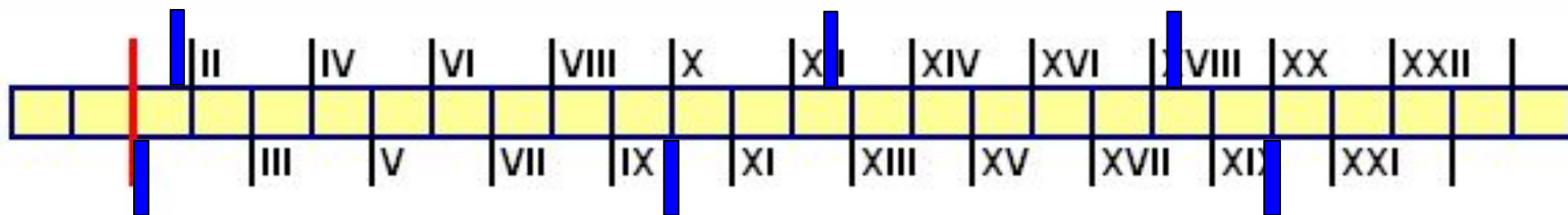
1. 1374 г. до н.э.
2. 74 г. до н.э.
3. 13 г. до н.э.
4. 16 г.
5. 372 г.
6. 1372 г.

Определите, к какому веку относятся эти даты, почему вы так решили?

99

1200

1751



5

894

1900



Домашнее задание:

- Глава 3, учить конспект
- На ленте времени отметить даты рождения членов семьи до н.э. и н.э.

