



Миллион кімге бұйырады?




МАҚСАТТАР

Білімділігі: Ежелгі Қазақстан тарихының дәуірлерінің ерекшеліктері, тарихи шеңбері, жетістіктері туралы алған білімдерін пысықтап қайталау, жинақтау, қорытындылау.

Дамытушылығы: Оқушының ой-өрісін, ойлау, сөйлеу қабілетін ашатын сұрақтар қою және сұрақ-жауап әдісі бойынша сабақтың тақырыбына сай білімін толықтыру, тез ойлау және жылдам шешім қабылдау қабілеттерін дамыту.

Тәрбиелілігі: Ежелгі тайпалардың тарихын, шаруашылығын, мәдениеті мен білімін пайдалана отырып, оқушылардың пәнге деген қызығушылығын арттыру.



Ойынның кезеңдері:

1 кезең. “Білгірлер”


2 кезең. “Сәйкестендір”

3 кезең. “Таңдау”

4 кезең. Тарихқа саяхат.

5 кезең. “Тобықтай түйін”

6 кезең. “Бәйге” “ия” “жоқ” арасындағы таңдау




I – кезең

“Білгірлер”





**I –ші ойыншының
сұрағы:**

**1 . Тарих не үшін
қажет?**



**I –ші ойыншының
сұрағы:**

**2 . Геродоттың
қандай еңбегі бар?**



**I –ші ойыншының
сұрағы:**

**3. Қазақтың қандай
тарихшысын
білесің?**



**I –ші ойыншының
сұрағы:**

**4. Қазақстанның қай
бөлігіне ең алғаш
адамдар келіп
қоныстанды?**



**I –ші ойыншының
сұрағы:**

**5. «Тарихи
жазбалар» еңбегінің
авторы?**




**I –ші ойыншының
сұрағы:**

**6. Тас дәуірі нешеге
бөлінеді және
оларды ата?**



II –ші ойыншының
сұрағы:

1. Тарих дегеніміз
не?




**II –ші ойыншының
сұрағы:**

**2. Тарих сөзін алғаш
рет кім қолданған?**




**II –ші ойыншының
сұрағы:**

**3. Геродот өз
еңбегінде Қазақстан
жерінде өмір сүрген
қандай тайпалар
жөнінде жазған?**




II –ші ойыншының
сұрағы:

4. Алғашқы адамның
бірі питекантроптың
қаңқасы алғаш рет қай
жерден табылған?



**II –ші ойыншының
сұрағы:**



**5. Б.з.б 40-35
мыңжылдықта өмір
сүрген, Франция
жерінен табылған
адам?**



**II –ші ойыншының
сұрағы:**



**6. Екі жағынан да
өңделген қарапайым
шапқыш құрал?**



**III –ші ойыншының
сұрағы:**



**1. Рашид ад-Дин ол
кім?**




**III –ші ойыншының
сұрағы:**



**2. Пергамент
дегеніміз не?**



**III –ші ойыншының
сұрағы:**



**3. Рашид ад-Диннің
қандай еңбегін
білесің?**




**ІІІ –ші ойыншының
сұрағы:**

**4. Мұхаммед Хайдар
Дулатидің еңбегі
қалай аталады және
ол қашан жарық
көрген?**




**III –ші ойыншының
сұрағы:**

**5. Бұдан неше мың жыл
бұрын ауа райы күрт
суып, жер бетін
қалыңдығы 2 шақырым
болатын мұз басты?**




**III –ші ойыншының
сұрағы:**



**6. Ұзындығы 1-2
сантиметр ұсақ жаңқа
тастардан жасалатын
құралдар қалай аталды?**



**IV –ші ойыншының
сұрағы:**



**1. Мезолит дәуірінің
уақытын ата:**



**IV –ші ойыншының
сұрағы:**

**2. Деректің қандай
түрлері бар және
әрбіреуіне сипаттама
беріңіз?**



**IV –ші ойыншының
сұрағы:**

**3. Ертедегі жазулардан
қандай жазуды білесің
және жазу үшін
қолданылған
материалдар түрлерін
ата?**



**IV –ші ойыншының
сұрағы:**



**4. Шежіре дегеніміз
не?**



IV –ші ойыншының
сұрағы:

**5. Ежелгі Қазақстан
тарихының үш үлкен
дәуірге бөлініп тас, қола,
темір дәуірі деп аталу
себебі қандай?**



**IV –ші ойыншының
сұрағы:**

**6. Анды алыстан атуға
мүмкіндік берген
мезолит заманының
басты жаңалығы?**



V –ші ойыншының
сұрағы:



1. Қазақта ру-тайпа, жүз
және отбасының тарихын
ауызша таратып,
ұрпақтан-ұрпаққа
жеткізетін адамды кім деп
атаған?




V –ші ойыншының
сұрағы:



**2. Халқымыздың
тарихынан сыр
шертетін шежірелерді
жазған қандай
қазақтың шежірешісін
білесің?**



**V –ші ойыншының
сұрағы:**



**3. Археология дегеніміз
не?**



**V –ші ойыншының
сұрағы:**



**4. Халықтар мен ұлттар
сыртқы түрінің ерекше
белгілеріне қарап неше
топқа бөлінеді?**



**V –ші ойыншының
сұрағы:**



**5. Мезолит дәуірінде
балалар тобынан
ересектер тобына өту
қандай ғұрыштар
арқылы өткізілді?**




**V –ші ойыншының
сұрағы:**

**6. Мезолит дәуіріне
жататын Қазақстан
жерінен табылған
тұрақтардың саны
қанша?**



**VI –ші ойыншының
сұрағы:**



**1. Археология нені
зерттейді?**




**VI –ші ойыншының
сұрағы:**



**2. Ғұн мемлекетінің
негізін кім қалады?**



**VI –ші ойыншының
сұрағы:**



**3. Парсы патшасы
Кирдің басын кім
алды?**




**VI –ші ойыншының
сұрағы:**



**4. Алтын киімді
адамның бас киіміндегі
алтын әшекейлер саны?**



**VI –ші ойыншының
сұрағы:**



**5. “Қыш құмырал
заманы” деп те
аталатын дәуір?**



**VI –ші ойыншының
сұрағы:**



**6. Неолит дәуірінің
уақыты?**



**VII –ші ойыншының
сұрағы:**




**1. Қазба жұмыстарын
жүргізетін, заттай
деректерді зерттейтін
ғалымды кім деп атайды?**



**VII –ші ойыншының
сұрағы:**

2. Ертеде өмір сүрген адамдардан қалған қираған қала орындары, түрлі әшекейлер, қыш ыдыстар сияқты тұрмыста пайдаланылған бұйымдар, тас мүсіндер, жартастағы бейнелер, обалар, молалардан табылған заттар қалай деп аталады?




**VII –ші ойыншының
сұрағы:**

**3. Қазақстандағы
археологтардың
арасындағы ең басты
археолог кім?**



**VII –ші ойыншының
сұрағы:**



**4. Әлемдік неше дін бар
және оларды ата?**




**VII –ші ойыншының
сұрағы:**



**5. Неолит
тұрақтарының ең
көнесі нешінші
мыңжылдыққа тән?**



**VII –ші ойыншының
сұрағы:**



**6. Мыс-тас
ғасырындағы екі ірі
өзгерісті ата?**




**VIII –ші ойыншының
сұрағы:**

**1. Қазақстан жерінен
табылған басты
археологиялық ескерткіш
болып табылатын, Есік
обасынан табылған,
дүниежүзілік мәдениеттегі
құнды жәдігер болып
саналатын ескерткішті ата?**



**VIII –ші ойыншының
сұрағы:**

2. Этнография дегеніміз не?



**VIII –ші ойыншының
сұрағы:**

**3. Қазақ күнтізбесі
бойынша әр үш айды
қалай деп атаған?**




**VIII –ші ойыншының
сұрағы:**

**4. Қазақстан жерінен
табылған неолит
ескерткіштерінің саны
қаншы?**




**VIII –ші ойыншының
сұрағы:**



**5. Мыс-тас ғасырына
жататын Қазақстанда
табылған екі
ескертікті ата:**



**VIII –ші ойыншының
сұрағы:**



**6. Энеолит кезеңінің
уақытын көрсет:**



II –кезең

“Сәйкестендір”



Сәйкестендір:



отан

Әр адамның туып-өскен жері, тұратын елі

Сына жазуы

Жер бетінің олардың жеке бөліктерінің кішірейтілген көрінісі

Энеолит

Уақыт туралы ғылым

Шебір

Энеолит кезеңіне жататын ескерткіш

шежіре

Сазбалшыққа сына тәрізді жазылған жазу

археолог

Атадан балаға ауызша жеткізіліп отыратын, халықтың шығу тегі мен таралуын баяндайтын тарихи шығарма.

хронология

Қазба жұмыстарын жүргізетін ғалым


карта

Мыс-тас ғасыры. 3000-2800 мың жылды қамтиды



III –кезең

“Таңдау”



I –ші ойыншының
сұрағы:

1. Ұлт деген сөзге анықтама бер?

A) шаруашылығы, тілі,
мекендеген жері,
мәдениеті
мен тұрмысы ортақ
адамдардың бірлігі.

B) тарих ғылымының
бір саласы.

C) ғылыми зерттеуге
негіз
болатын жазба
дүниелер
мен заттай
ескерткіштер.



I –ші ойыншының
сұрағы:

2 . Әр нәсіл бір-бірінен қалай
ажыратылады?

A) мәдениеті, даму
деңгейі
бойынша ажыратылады.

B) тілі бойынша бір-
бірінен ажыратылады.

C) Әр нәсіл бір-бірінен
Сыртқы тұрпаты (дене
бітімі,
шашы, терісінің түсі, көз
қиығы)
бойынша ажыратылады.



I –ші ойыншының
сұрағы:

3 . Есік қорғанынан табылған «Алтын
адамды» зерттеген археолог кім?

A) Ә.марғұлан

B) К.Ақышев

C) К.Таймағанбетов



**I –ші ойыншының
сұрағы:**

**4 Аймақ, өңір, атырап, дала деген сөздердің мағынасын
білдіретін мемлекет иелігіндегі жер қалай аталады?**

A) Отан

B) Өлке

C) Ауыл



**I –ші ойыншының
сұрағы:**

**5 Неолит дәуіріне жататын Солтүстік Қазақстан жерінен
табылған ескерткіш?**

A) Шебір

B) Пеньки

C) Зеленая Балка



II –ші ойыншының сұрағы:

1 . Хронология дегеніміз не?

А) шаруашылығы, тілі,
мекендеген жері,
мәдениеті
мен тұрмысы ортақ
адамдардың бірлігі.

В) Хронология –гректің
«хронос»- «уақыт» және
«логос»-«ғылым» деген
екі сөзінен тұрады.

С) ғылыми зерттеуге
негіз
болатын жазба
дүниелер
мен заттай
ескерткіштер.



II –ші ойыншының
сұрағы:

2. Адамдардың шығу тегін
жануарлармен байланыстыруы?

A) Анимизм

B) Тотемизм

C) Магия



II –ші ойыншының
сұрағы:

3 . Ежелгі Египетте қандай күнтізбе
болды?

A) Ай күнтізбесі.

B) Григориан күнтізбесі.

C) Юлиан күнтізбесі.



**II –ші ойыншының
сұрағы:**

4 Қазақ күнтізбесі бойынша қазақтар жылдың басы деп қай күнді есептеген?

A) 22 наурыз

B) 22 мамыр

C) 1 қаңтар




II –ші ойыншының
сұрағы:

5 Қола дегеніміз ол- ...

A) мыс пен қалайының
қосындысы

B) мыс пен алтынның
қосындысы

C) қалайы мен
мырыштың
қосындысы




III –ші ойыншының
сұрағы:

1 . Ботай тұрағынан табылған мал
сүйектері ...

A) ірі қара мал
сүйектері

B) қой сүйектері

C) жылқы сүйектері




III –ші ойыншының
сұрағы:

2 . Тұңғыш карта қай елде пайда
болды?

A) Қазақстанда.

B) Вавилонда.

C) Қытайда.



III –ші ойыншының сұрағы:

3 . Хижра дегеніміз не?

А) Хижра-ислам дінінің жыл санауы. «хижра» - араб сөзі, қазақ тіліне аударғанда «қоныс аудару» деген түсінік береді.

В) Ол тайпалар мен халық тардың шығу тегін, тұрмысын, кәсібін, әдет-ғұрпын, ерекшелігін зерттейді.

С) тарих ғылымының бір саласы.




III –ші ойыншының сұрағы:

4 Әр мемлекетте жыл санау әр түрлі болған. Мәселен, египеттіктер жыл санауды перғауынның таққа отыруынан бастаған. Ал Ежелгі Грекияда жыл санауды қай кезден бастаған?

A) Күн мен түннің тұтылған кезінен бастаған

B) Алғашқы олимпиадалық ойындар өткізуден бастаған.

C) Зевс құдайдың туған күнінен бастаған.




III –ші ойыншының
сұрағы:

5 Энеолит сөзінің ұғымы?

A) ерте палеолит

B) қола дәуірі

C) мыс-тас ғасыры



**IV –ші ойыншының
сұрағы:**

**1 . Жер бетінің немесе оның жекелеген бөліктерінің
кішірейтілген көрінісі қалай деп аталады?**

A) Карта

B) Өлке

C) Уақыт



IV –ші ойыншының
сұрағы:

2 . Тұңғыш рет қазақ жерін кім
картаға түсірген?

А) Тұңғыш рет қазақ жерін картаға XVII ғасырдың аяғында орыс ғалымы С.Ремезов енгізді.

В) Тұңғыш рет қазақ жерін картаға XVII ғасырдың аяғында орыс ғалымы С.Семенов енгізді.

С) Тұңғыш рет қазақ жерін картаға XVII ғасырдың аяғында қазақ ғалымы Ш.Уәлиханов енгізді.



IV –ші ойыншының
сұрағы:

3. Әлемдегі 189 елдің ішінде Қазақстан жер
аумағы жөнінен нешінші орында тұр?

A) 5

B) 9

C) 10




IV –ші ойыншының сұрағы:

4 Топонимика дегеніміз не?

А) ғылыми зерттеуге негіз болатын жазба дүниелер мен заттай ескерткіштер.

В) грекшеден аударғанда «мекен» немесе «жер атауы» деген түсінік береді.

С) малдың терісінен мұқият өңделген, жазуға ыңғайлы материалды айтады.




**IV –ші ойыншының
сұрағы:**

5 Қостанай облысы мен Ресейдің Челябинь облысының шекарасында табылған қола дәуірінң көне қаласын ата?

А) Пеньки.

В) Ачинск.

С) Арқайым.




V –ші ойыншының сұрағы:

1. Топонимика нені зерттейді?

А) халықтың шығу тегін,
таралуын баяндайды.

В) жер –су аттарының
шығуын, қазіргі
жағдайын,
мағынасын зерттейді.

С) адамзаттың өткен
Тарихын, тіршілігін
заттай
деректер арқылы
зерттейді.



**V –ші ойыншының
сұрағы:**

2. Отан дегеніміз не?

А) шаруашылығы, тілі,
мекендеген жері,
мәдениті
мен тұрмысы ортақ
адам-
дардың бірлігі.

В) әр адамның туып –
өскен
жері, атамекені, ел-
жұрты.

С) «мекен» немесе
«жер атауы» деген
түсінік береді.



**V –ші ойыншының
сұрағы:**

**3 . Отанға деген сүйіспеншілік қалай деп
аталады?**

A) Патриотизм

B) Ұлтшылдық

C) Ұлтжандылық




**V –ші ойыншының
сұрағы:**

**4 Қазақстанның жер көлемінің неше пайызын биік
таулар алып жатыр?**

А) Қазақстанның жер
көлемінің 10 пайызын
биік
таулар алып жатыр

В) Қазақстанның жер
Көлемінің 20 пайызын
биік
таулар алып жатыр

С) Қазақстанның жер
Көлемінің 30 пайызын биік
таулар алып жатыр




**V –ші ойыншының
сұрағы:**

5 Аталық ру үстемдігі орнаған кезең ?

A) Қола

B) Энеолит

C) Неолит




VI –ші ойыншының сұрағы:

1 . Қазақстан жеріндегі ірі өзендерді ата?

А) Еділ, Есіл, Жайық,
Іле,
Сырдария, Шу, Ертіс.

В) Еділ, Есіл, Жайық,
Іле,
Сырдария, Каспий, Шу,
Ертіс.

С) Еділ, Есіл, Жайық,
Іле,
Сырдария, Балқаш, Шу,
Ертіс.



**VI –ші ойыншының
сұрағы:**

**2 Қола дәуіріне жататын Орталық
Қазақстандағы ең ірі мәдениет?**

А) Ачинск

В) Беғазы-Дәндібай

С) Андрон



VI –ші ойыншының
сұрағы:

3 . Қазақстанда мемлекет құрушы негізгі
ұлт?


A) Орыс

B) Өзбек

C) Қазақ



**VI –ші ойыншының
сұрағы:**



4 Қазіргі кезде Қазақстандағы халық саны қанша?

A) 16 млн. 400 мың

B) 16 млн. 200 мың

C) 16 млн.




VI –ші ойыншының
сұрағы:

5 Сақ қоғамы неше топқа бөлінді?

A) 3

B) 2

C) 5




VI –ші ойыншының сұрағы:

6 Еңбек бөлінісі дегеніміз не?

A) шаруашылықтың мал шаруашылығы мен егін шаруашылығы болып бөлінуі

B) шаруашылықтың мал шаруашылығы мен бақташылық шаруашылық болып бөлінуі



C) шаруашылықтың қолөнер мен егін шаруашылығы болып бөлінуі



IV – кезең

“Тарихқа

саяхат”



I –ші ойыншының
сұрағы:

1 . Қазақстан қай
жағында қандай
мемлекеттермен
шектеседі? Карта
бойынша көрсет



**II –ші ойыншының
сұрағы:**

**2. Ботай және Шебір
ескерткіштеріне
сипаттама жаса**



III –ші ойыншының
сұрағы:

3. Энеолит
дәуіріндегі екі өзгеріс
туралы баянда




**IV –ші ойыншының
сұрағы:**

**4. Үш жүздің
тайпаларын ата?**



V – кезең

*“Тобықтай
түйін”*




**I –ші ойыншының
тапсырмасы:**

**1 . Төле би, ғұн,
арғын, Тұмар, Кібісе,
Ақышев, күнтізбе,
Ботай, бағыштау,
ТОТЕМИЗМ**



**II –ші ойыншының
тапсырмасы:**

**1 . Әйтеке би, сақтар,
хронология, Шырақ,
Хижра, Рашид ад-Дин,
топонимика, мезолит,
1530°С, фетишизм**



VI – кезең

“Бәйге”

“ИЯ” “ЖОҚ”

арасындағы таңдау



1

**I –ші ойыншының
тапсырмасы:**

**Ғұн әскерінің шабуылынан қорғану үшін б.з.б.
IV-III ғасырларда қытайлар «Ұлы Қытай
қорғанын салдырды**

Ия

Жок

2

I –ші ойыншының
тапсырмасы:

Ғұн мемлекетінің негізін Аттила (қалады)
қалады

Ия

Жок



3

I –ші ойыншының
тапсырмасы:

Ғұндар 24 тайпадан тұрған

Ия

Жок

4

I –ші ойыншының
тапсырмасы:

Сақтардан соң Қазақстан жерін қазақтар мекен
етті

Ия

Жок





5



I –ші ойыншының
тапсырмасы:



«Алтын киімді адам» бейнесі Астана қаласының
Республика алаңындағы Тәуелсіздік
монументінде бейнеленген



Ия



Жок



6

I –ші ойыншының
тапсырмасы:

«Алтын киімді адам» -Қазақстан
Республикасының азаттық символы болып
табылады

Ия

Жок

7

I –ші ойыншының
тапсырмасы:

1854 жылы Алматы қаласының орнына Алматы
бекінісі тұрғызылды

Ия

Жок



8



I –ші ойыншының
тапсырмасы:



Жеріміздің төрттен бір бөлігі жазық дала болып
келеді



Ия



Жок



9

I –ші ойыншының
тапсырмасы:

2,5 мың жылдық тарихы бар қала ол Павлодар

Ия

Жок

10

I –ші ойыншының
тапсырмасы:

Елімізде 30-дай мәдени орталықтар жұмыс
істейді.

Ия

Жок



11

I –ші ойыншының
тапсырмасы:

Тас дәуірі үшке бөлінеді

Ия

Жок



12

I –ші ойыншының
тапсырмасы:

Қола -ол мыс пен қалайының қосындысы

Ия

Жок



13

I –ші ойыншының
тапсырмасы:

Ботай тұрағынан қойдың сүйектері көп
табылған

Ия

Жок



14

**I –ші ойыншының
тапсырмасы:**

**Жаңа стратегия бойынша-2025 жылға қарай
хылықтың қазақ тілінде сөйлейтін үлес салмағы
95 пайызға жету көзделген**

Ия

Жоқ

15

I –ші ойыншының
тапсырмасы:

Әнұранымыздың авторы Н.Назарбаев, Ж.
Нәжімеденов


Ия

Жок





1



II –ші ойыншының
тапсырмасы:



Елбасының соңғы жолдауы “Қазақстан 2050”
қалыптасқан мемлекеттің жаңа саяси бағыты
деп аталады



Ия



Жок






2



**II –ші ойыншының
тапсырмасы:**



**Қазақстан Республикасында 16 облыс, 159 аудан
бар.**



Ия



Жок





3



II –ші ойыншының
тапсырмасы:



Алматы 1929 жылдан 1997 жылға дейін еліміздің
астанасы болды



Ия



Жок



4

II –ші ойыншының
тапсырмасы:

Орталық Қазақстандағы ірі өнеркәсіп орталығы,
жер көлемі жағынан ең үлкен қалалардың бірі
Алматы.

Ия

Жок



5

II –ші ойыншының
тапсырмасы:

Энеолитте аталық ру үстемдігі қалыптасты

Ия


Жок



6



II –ші ойыншының
тапсырмасы:



Алғашында Каспий теңізінің жағасында
орналасқан балықшылар қонысы болған қала -
Атырау



Ия



Жок





7



**II –ші ойыншының
тапсырмасы:**



**Абай, Шәкәрім, Мұхтар сияқты халқымыздың
үш кемеңгері білім алған, іргесі 1713 жылы
қаланған қала - Семей**



Ия



Жок





8



II –ші ойыншының
тапсырмасы:



«Алтын киімді адам» 1969 жылы Алматы қаласынан 50 шақырымдай жердегі Есік қаласының маңынан табылды



Ия



Жок





9



II –ші ойыншының
тапсырмасы:



Алтын киімді адамның киіміндегі әшекейлердің
саны 5 мыңға жуық



Ия



Жок





10



II –ші ойыншының
тапсырмасы:



Алтын киімді адамның ғалымдар берген жасы
17-18 жас



Ия



Жок



11

II –ші ойыншының
тапсырмасы:

Тас дәуірі екіге бөлінеді

Ия

Жок



12

II –ші ойыншының
тапсырмасы:

Жаңа стратегия бойынша 2050 жылы бәсекеге
қабілетті 10 мемлекеттің ішіне кіру көзделіп
отыр

Ия

Жок



13

II –ші ойыншының
тапсырмасы:

Жаңа стратегия бойынша- жаңа ғылым тілі
латын тілін енгізбекпіз

Ия

Жок



14

II –ші ойыншының
тапсырмасы:

Теңіз моллюскаларынан моншақ жасағандар ол -
Шебірліктер

Ия

Жок



15

II –ші ойыншының
тапсырмасы:

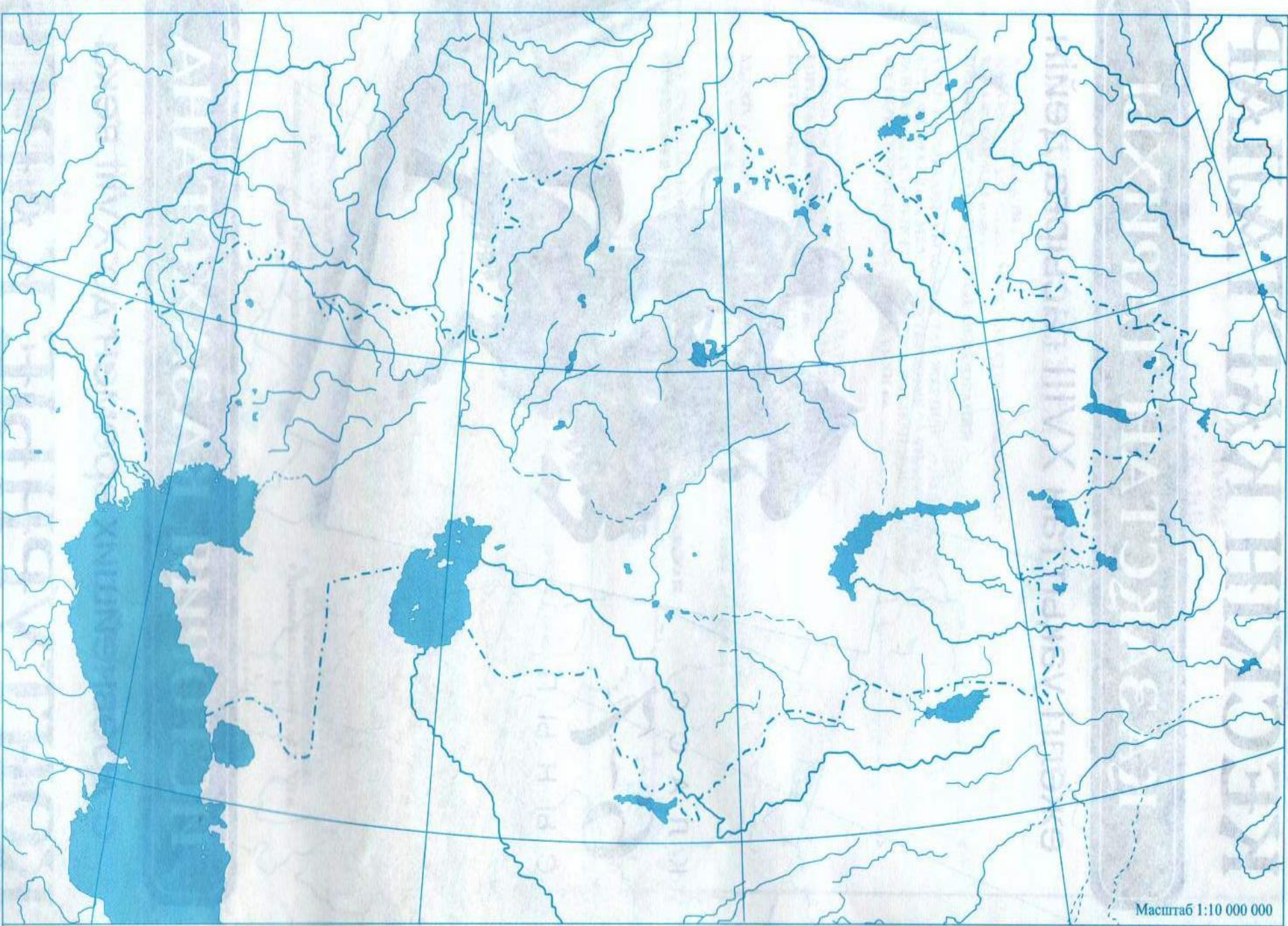
Темір дәуірі тас дәуірінен кейін басталады

Ия

Жок



ТАС ДӘУІРІ - КАМЕННЫЙ ВЕК



*Назарларыңызға
рахмет!!!*

