

На дом:

**§ 35 ПЕРЕСКАЗЫВАТЬ.
С. 221 ОТВЕТИТЬ НА
ВОПРОСЫ РУБРИКИ
«ВСПОМИНАЕМ ТО, ЧТО
ЗНАЕМ».**

ДРЕВНИЙ РИМ

ДРЕВНЕЙШИЙ РИМ



Капитолийская волчица. Статуя, 5 в. до н.э.


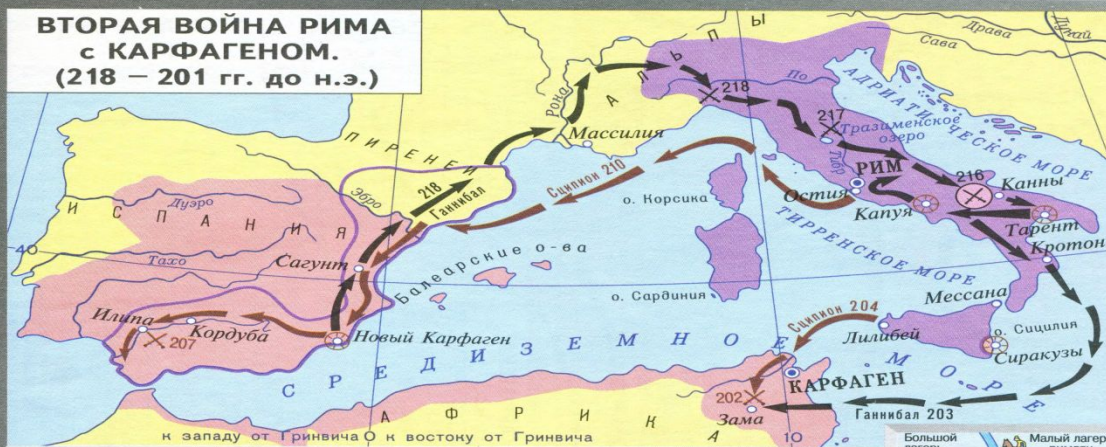
ВОЗНИКНОВЕНИЕ РИМА



Холмы, на которых строился Рим в 4 в. до н.э. Место возникновения города. Стена города Рима в 4 в. до н.э. Улицы и дороги.

- Горы и возвышенности
 - Низменности
 - Крупнейшие племена на территории Италии
 - Латины
 - Греческие колонии
 - Граница Римской республики в конце 6 в. до н.э.
 - Важнейшие дороги
 - Направление похода галлов против Рима
 - Территория, захваченная Римом к 264 г. до н.э.
 - Районы, в которых были основаны поселения римлян
 - Территория Карфагенской державы к 264 г. до н.э.
- Масштаб 1:9 000 000

ВТОРАЯ ВОЙНА РИМА с КАРФАГЕНОМ. (218 – 201 гг. до н.э.)



Ганнибал. Древнеримский бюст.

БИТВА при КАННАХ. 216 г. до н.э.

- Владения Карфагена к началу войны
- Места и годы других важнейших сражений, выигранных:



КАРТОЧКА

Подготовь развернутый ответ на вопрос:
«Как была организована армия римлян?»

Для этого вспомни:

1. Кто такие легионеры?
2. Кто служил в армии римлян?
3. Чем были вооружены воины?
4. Какую тактику ведения боя использовали легионеры?
5. Какие военные победы смогла одержать армия римлян?

Сделай вывод.



ВСПОМИНАЕМ ТО, ЧТО ЗНАЕМ



Впиши в рамку понятие по данным признакам.

Форма
правления
государством



Высшие
органы
власти
избираются
гражданами



...

Запиши название цивилизации, которой соответствует это понятие.



ВСПОМИНАЕМ ТО, ЧТО ЗНАЕМ



Вставь пропущенные слова.

Тесно сомкнутое построение пехоты в несколько линий называют _____
Основная единица римской армии, разделённая на центурии называется _____



Составь два предложения по изученным темам с теми словами, которые были вписаны в предыдущем задании.

1. _____


2. _____




ВСПОМИНАЕМ ТО, ЧТО ЗНАЕМ



Сформулируй и назови главные причины римских побед V-IV в.в. до н.э.







Откуда возникло выражение «пиррова победа»?
Сделай вывод о том, какие гражданские качества римлян обеспечивали им победу над врагами.

Позиция

Я считаю, что _____,


Аргумент(ы)

потому что _____





Вспоминаем то, что знаем



Отметь соответствующими цифрами на ленте времени следующие события: **1** — установление Римской республики, **2** — подчинение Риму его союзников — латинов.

I тысячелетие до н.э.										Наша эра	
X	IX	VIII	VII	VI	V	IV	III	II	I	I тыс.	II тыс.

В 290 г. до н.э. римляне объединили все покорённые народы Италии в Римско-Италийский союз. Сделай соответствующую отметку **3** на ленте времени.



Тема: «Хозяин Западного Средиземноморья» § 35.



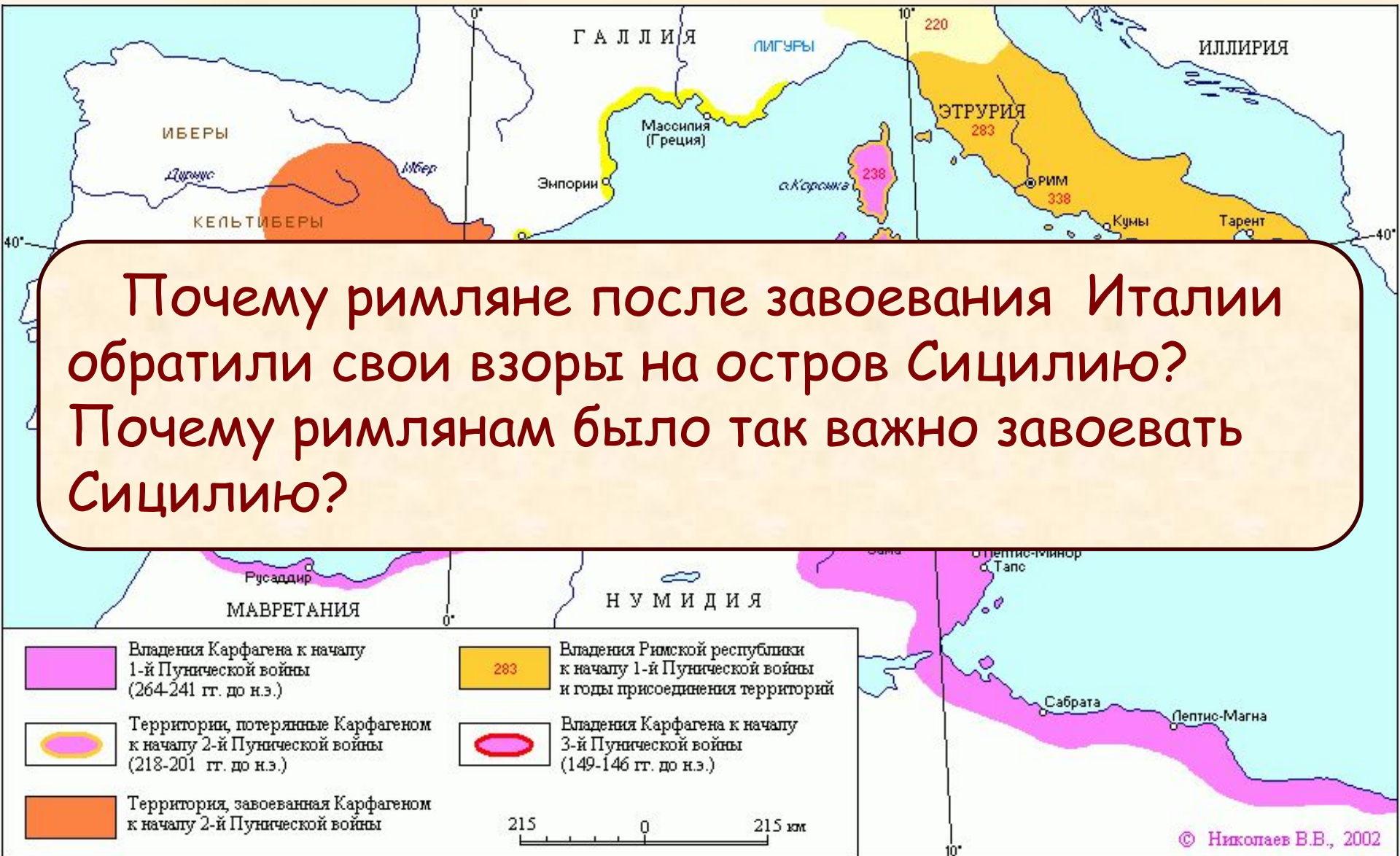

План

- 1. Карфаген и его владения.**
- 2. 1-я Пуническая война.**
- 3. 2-я Пуническая война.**

Я


- - узнаю...
- - научусь...

Карфаген и его владения





1-я Пуническая война




Запиши, что позволило римлянам победить
в 1-й
Пунической войне.





1-я Пуническая война




Сформулируй своими словами определение понятия «провинция» и проверь себя по словарю.





2-я Пуническая война



Используя текст учебника (§ 35, п.2), составь список причин победы римлян во 2-й Пунической войне и запиши в таблицу. Подтверди каждую причину аргументом и запиши их в таблицу.


Причины побед римл




Аргументы



2-я Пуническая война



Битва при Каннах



Начало битвы.
Действия конницы
Ганнибала


2. Окружение
римской конницы
Ганнибалом



Армия римлян		Армия Ганнибала	
	Тяжеловооруженные воины		
	Легковооруженные воины		
	Конница		



2-я Пуническая война



Какие качества римского характера представляются тебе, гражданину современной России, достойными подражания, а какие - нет?

Достойны подражания такие качества римского характера, как


потому что _____

Вызывают осуждение

потому что _____



Вывод




**ПОБЕДА ВО 2-Й ПУНИЧЕСКОЙ
ВОЙНЕ СДЕЛАЛА РИМСКУЮ
РЕСПУБЛИКУ СИЛЬНЕЙШЕЙ
ДЕРЖАВОЙ ЗАПАДНОГО
СРЕДИЗЕМНОМОРЬЯ**

Я

- -научился;
- -узнал



ПРИМЕНЯЕМ НОВЫЕ ЗНАНИЯ




Отметь на ленте времени годы 2-ой Пунической войны.

1 тысячелетие до н. э.										Наша эра	
X	IX	VIII	VII	VI	V	IV	III	II	I	1 тыс.	2 тыс.

В этом же столетии в Китае ...



ПРИМЕНЯЕМ НОВЫЕ ЗНАНИЯ



Отметь на карте цифрами

1. Рим

2. Карфаген


3. Канны

4. Зама





ПРИМЕНЯЕМ НОВЫЕ ЗНАНИЯ



Нарисуй на карте путь Ганнибала

