


Словарный тест «Первобытность»

М	А	Я	С	И	К	Ъ	Н	Н	С	Ф	Ц	У	К	Р	С
О	Н	Е	Б	С	Х	М	Т	Д	Ж	В	Ч	Р	О	И	О
Т	С	К	О	Т	О	В	О	Д	С	Т	В	О	П	У	С
Ы	Я	Й	В	О	Ж	Д	Ь	О	Н	М	Е	Д	Ь	А	Е
Г	Д	Ч	Н	Р	Е	М	Е	С	Л	О	Й	Ц	Ё	П	Д
А	Г	У	Я	И	Г	О	Л	О	Е	Х	Р	А	У	Ш	С
Ю	Ь	Я	Б	Я	Е	Н	Г	Ш	Щ	З	З	Е	Р	К	К
Ф	Ы	В	А	И	С	К	У	С	С	Т	В	О	О	Х	А
Ф	А	П	Р	Ц	Н	О	Л	Д	Ж	Е	Э	У	П	Е	Я
Ц	У	К	Е	Ю	Н	А	Г	Ш	Щ	Щ	Ь	Н	О	Г	О
В	З	Е	М	Л	Е	Д	Е	Л	И	Е	З	Я	Т	Щ	Б
Н	Г	Ш	Щ	О	Ч	М	Й	У	Л	Л	М	И	Т	Ь	Щ
Ч	Е	Л	О	В	Е	К	Р	А	З	У	М	Н	Ы	Й	И
Ф	Ы	В	А	Э	П	Р	О	Л	Д	К	Ж	Э	Я	Ч	Н
П	Е	Р	В	О	Б	Ы	Т	Н	О	С	Т	Ь	М	С	А



Проблемный вопрос

Почему при изучении истории важно знать, когда произошло то или иное событие?



The background of the slide is a light beige color with a faint, embossed map of Europe. The map shows the outlines of the continent, including major rivers and coastlines, in a slightly darker shade of beige. The text is centered on the page.

Тема урока

Счет лет в истории

Глава 3
































Смена сезонов



Временные периоды


- 1. Сутки – период обращения Земли вокруг своей оси; сутки делятся на 24 часа, час – на 60 минут, минута – на 60 секунд.**
- 2. Год – период обращения Земли вокруг Солнца, равный 365,2422 суткам (тропический год).**
- 3. Век – промежуток времени в 100 лет.**
- 4. Тысячелетие охватывает 10 веков – 1 000 лет.**

Лунный месяц

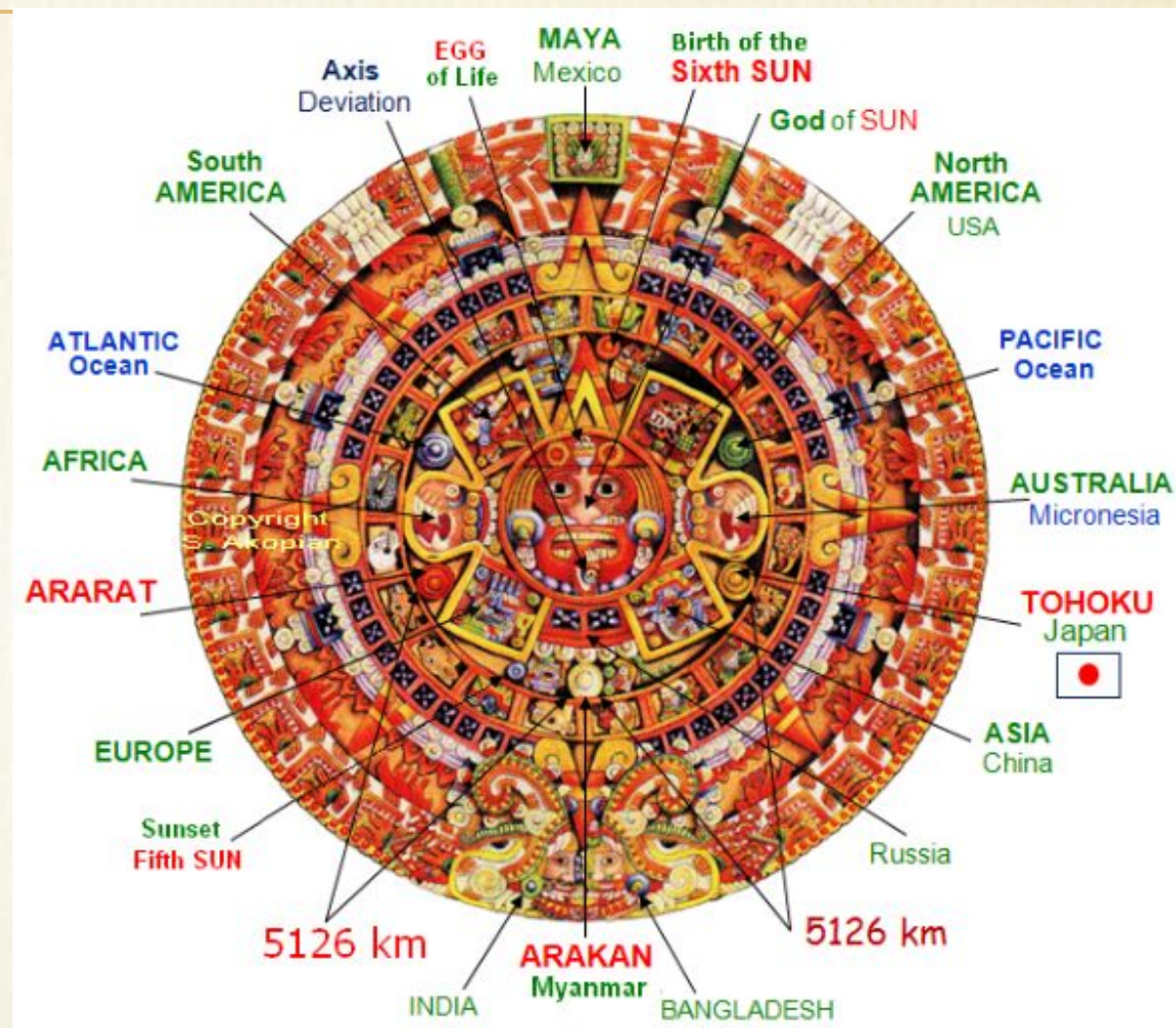
March 2013						
Sun	Mon	Tue	Wed	Thu	Fri	Sat
					1 	2 
3 	4 	5 	6 	7 	8 	9 
10 	11 	12 	13 	14 	15 	16 
17 	18 	19 	20 	21 	22 	23 
24 	25 	26 	27 	28 	29 	30 
31 						

Лунный месяц составляет
29,5 дней

Солнечный годовой календарь



Солнечный календарь
египтян



Календарь майя

Счет лет в Древнем Мире

У разных народов был различный счёт лет – летоисчисление.

Древний Египет



Начало
правления
нового
фараона

Древний Рим



Основание

Древняя Греция



Первая
Олимпиад
а

Счет лет в истории

Год и век

• Годы

• Век

• 1 – 100 → • I

• 101 – 200 → • II

• 1301 – 1400 → • XIV

• 1901 – 2000 → • XX

• 2001 – 2100 → • XXI

• Арабские цифры

• Римские цифры

Счет лет в истории

Наша эра

- За точку отсчета принята условная дата рождения Иисуса Христа.



Счет лет от Рождества Христова предложил более 13 веков назад бенедиктинский монах Беда Достопочтенный, живший в Англии.

Счет лет в истории

Наша эра

- За точку отсчета принята условная дата рождения Иисуса Христа.
- События, случившиеся после нее, считаются произошедшими в нашей эре.



Счет лет в истории

Наша эра

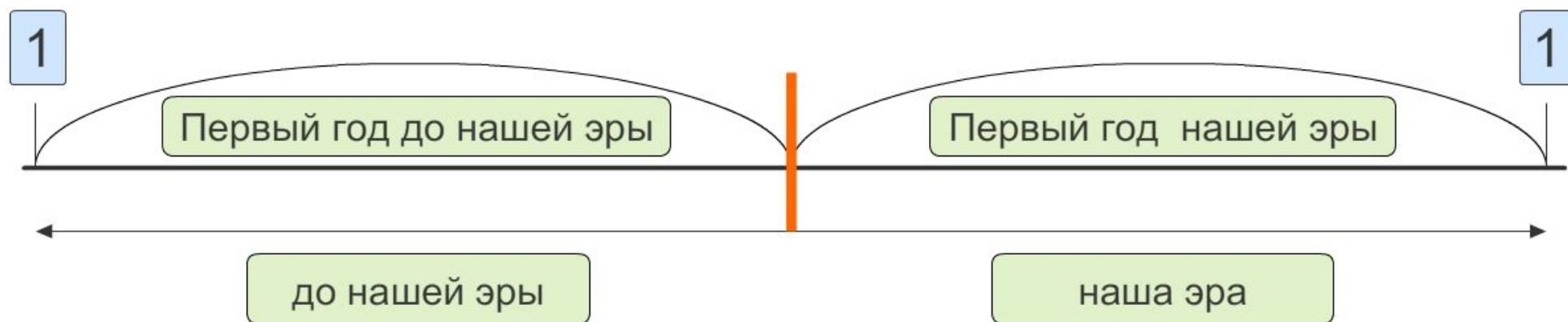
- За точку отсчета принята условная дата рождения Иисуса Христа.
- События, случившиеся после нее, считаются произошедшими в нашей эре.
- События, случившиеся ранее, считаются произошедшими до нашей эры.



Счет лет в истории

Наша эра

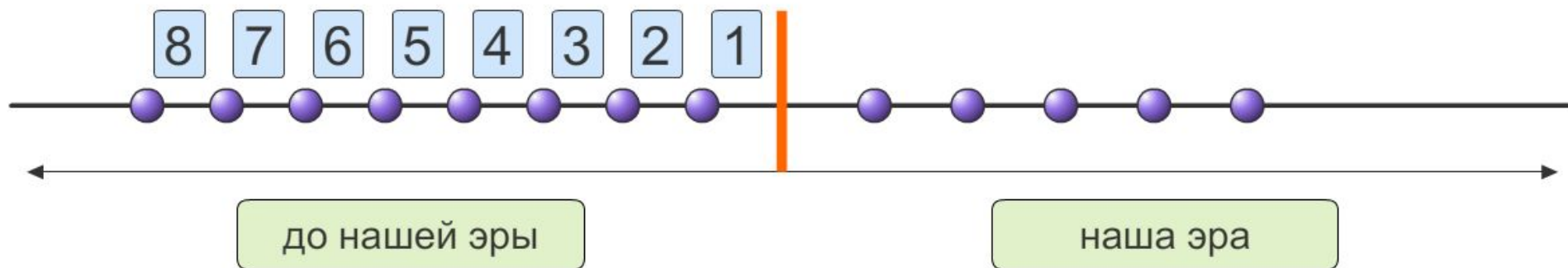
- Начальный год нашей эры называют первым годом нашей эры.
- Год, предшествующий ему, называют первым годом до нашей эры.



Наша эра начинается с первого года, нулевого года в истории не было!

Счет лет в истории

До нашей эры



Чем раньше до нашей эры произошло событие, тем выше порядковый номер года.

Счет лет в истории

Даты событий до нашей эры

- Если событие случилось до нашей эры, при записи используем «до н. э.»:
753 г. до н.э., 490 г. до н.э., 44 г. до н.э.
- Если событие продолжалось несколько лет, то запись выглядит так:
264 – 241 гг. до н.э.

Счет лет в истории

Год и век

Годы

- 100 – 1 до н.э.
- 200 – 101 до н.э.
- 300 – 201 до н.э.
- 400 – 301 до н.э.
- 1300 – 1201 до н.э.

Арабские цифры

Век

- I до н.э.
- II до н.э.
- III до н.э.
- IV до н.э.
- XIII до н.э.

Римские цифры

А знаешь ли ты?

□ Сколько дней в году?

□ Век – это сколько лет?

□ Тысячелетие – это сколько веков?


□ В каком веке мы живем? Какой век будет следующим?

□ Какой год был последним в XX веке? В каком году начался XXI век?

□ К какому веку относятся: 998 г., 1941 г., 1242 г., 356 г.?

□ К какому веку относятся: 42 г. до н. э., 535 г. до н. э., 2467 г. до н. э.?

Практикум



- Отметь на ленте времени и сосчитай, сколько лет разделяет дату основания Рима (753 г. до н.э.) и год вашего рождения.
- Отметь на ленте времени и сосчитай, сколько лет прошло от постройки пирамиды Хеопса (2600 г. до н. э.) до принятия Конституции РФ (1993 г.).
- Какой год был раньше и на сколько раньше – 65 г. до н. э. или 40 г. н. э. Докажите.

Практикум

Задание № 18. Заполните «линию времени».



Первое упоминание в летописи о Москве относится к 1147 году. Отметьте на «линии времени» этот год. Подсчитайте, сколько лет исполнилось Москве в нынешнем году (вычисления делайте письменно).

Домашнее задание

Читать Главу 3 (с. 29-32), вопросы, с. 34 -
сформулировать определение «государства»
(письменно в тетради),
рабочая тетрадь - задания № 18-19 (с. 16-17)