



**Мухамбедиярова
Алтынгүл Жолымбетқызы**

Еңбек өтілі: 15 жыл (3)


**Атырау облысы, Жылыой ауданы №3 жалпы
орта білім беретін мектептің тарих пәні мұғалімі**

1-топ . Массagetтер

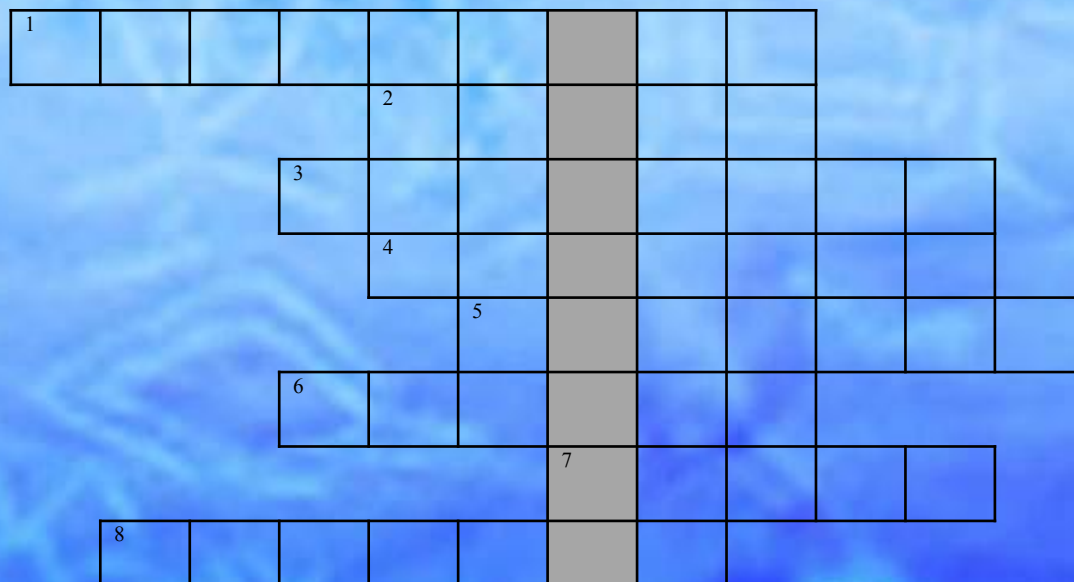
«Тарих шашуы»

<i>Кир</i>	<i>Қазақстанның орталық бөлігін алып жатқан аймақ</i>
<i>Томирис</i>	<i>Ежелгі Грек тарихшысы</i>
<i>Солтүстік Қазақстан</i>	<i>«Тарихтың атасы»</i>
<i>Сарыарқа</i>	<i>Сақ тайпаларының патшайымы</i>
<i>Дарий</i>	<i>Рим тарихшысы</i>
<i>Александр Македонский</i>	<i>Ақмола, Қостанай</i>
<i>Помпей Трог</i>	
<i>Геродот</i>	<i>Парсы патшасы</i>
<i>Спитамен</i>	<i>Македония патшасы</i>
<i>Арриан</i>	<i>Грек-македон басқыншыларына қарсы күрес жүргізген</i>

3-топ “Аргиппейлер” Сөзжұмбақ



4-топ “Аримаспылар” Сөзжұмбақ. Крассвордты дұрыс шешсең, тігінен берілген торкөздерден ... Қазақстанда өмір сүрген тайпаның атын оқисыз.




Дұрыс жауап

<i>Кир, Дарий</i>	<i>Парсы патшасы</i>
<i>Томирис</i>	<i>Сақ тайпаларының патшайымы</i>
<i>Солтүстік Қазақстан</i>	<i>Ақмола, Қостанай</i>
<i>Сарыарқа</i>	<i>Қазақстанның орталық бөлігін алып жатқан аймақ</i>
<i>Александр Македонский</i>	<i>Македония патшасы</i>
<i>Помпей Трог</i>	<i>Рим тарихшысы</i>
<i>Геродот</i>	<i>«Тарихтың атасы»</i>
<i>Спитамен</i>	<i>Грек-македон басқыншыларына қарсы күрес жүргізген</i>
<i>Арриан</i>	<i>Ежелгі Грек тарихшысы</i>

3-4 – топтың жауабы

			м	ұ	р	т	т	ы	
		м	ә	й	і	т			
и	с	с	е	д	о	н			
		т	е	б	і	н	д	і	
с	т	р	а	б	о	н	н		
		с	к	и	ф				
		ж	і	б	е	к			
		а	ң	с	т	и	л	і	

Т	ө	л	е	у	б	а	е	в	
					Б	е	р	е	л
					п	о	л	и	х
					р	о	м		
					С	а	м	а	ш
					е	в			
					Л	а	з	у	р
					и	т			
					З	а	й	с	а
					н				
					П	а	т	ш	а
					қ	ұ	б	ы	ж
					ы	қ			



Ерте темір дәуіріндегі Шығыс Қазақстан

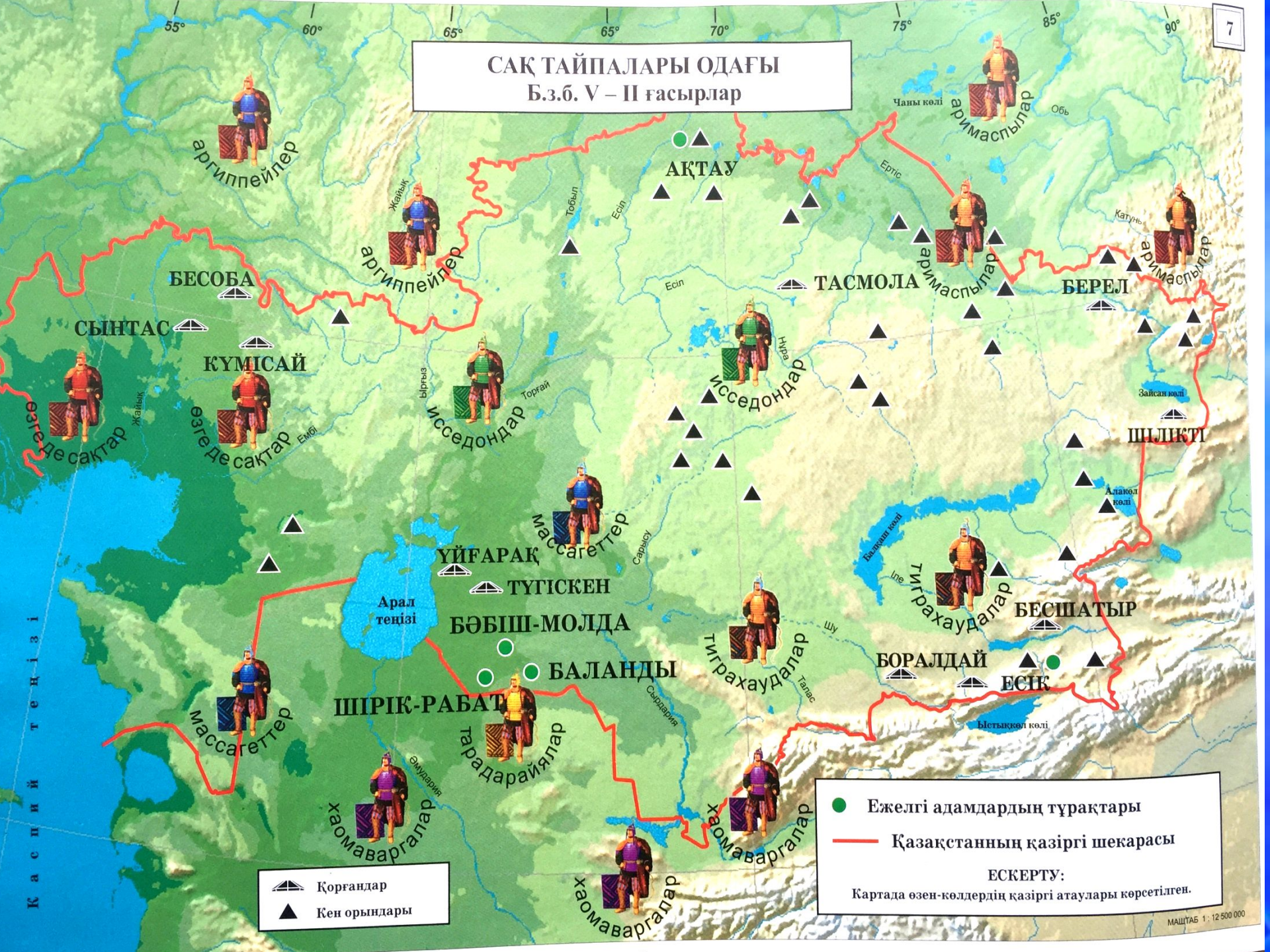
1. Табиғат жағдайы және халқы
2. Шілікті патша қорғаны
3. Берел қорымдары

Топтық жұмыс

- 1-топ. “Массагеттер”
- 2-топ. “Исседондар”
- 3-топ. “Аргиппейлер”
- 4-топ. “Аримаспылар”



САҚ ТАЙПАЛАРЫ ОДАҒЫ Б.з.б. V – II ғасырлар



Қорғандар
 Кен орындары

Ежелгі адамдардың тұрақтары
 Қазақстанның қазіргі шекарасы
 ЕСКЕРТУ:
 Картада өзен-көлдердің қазіргі атаулары көрсетілген.

«Қазымыр оқушы» оқытып үйрету ойыны Тақырып бойынша тапсырмалар

- 1, 2 -топ. Тақырып бойынша оқып, сұрақтар құрастыру
- 3, 4-топ. тақырып бойынша хронологиямен жұмыс



Хронологиялық кестемен жұмыс

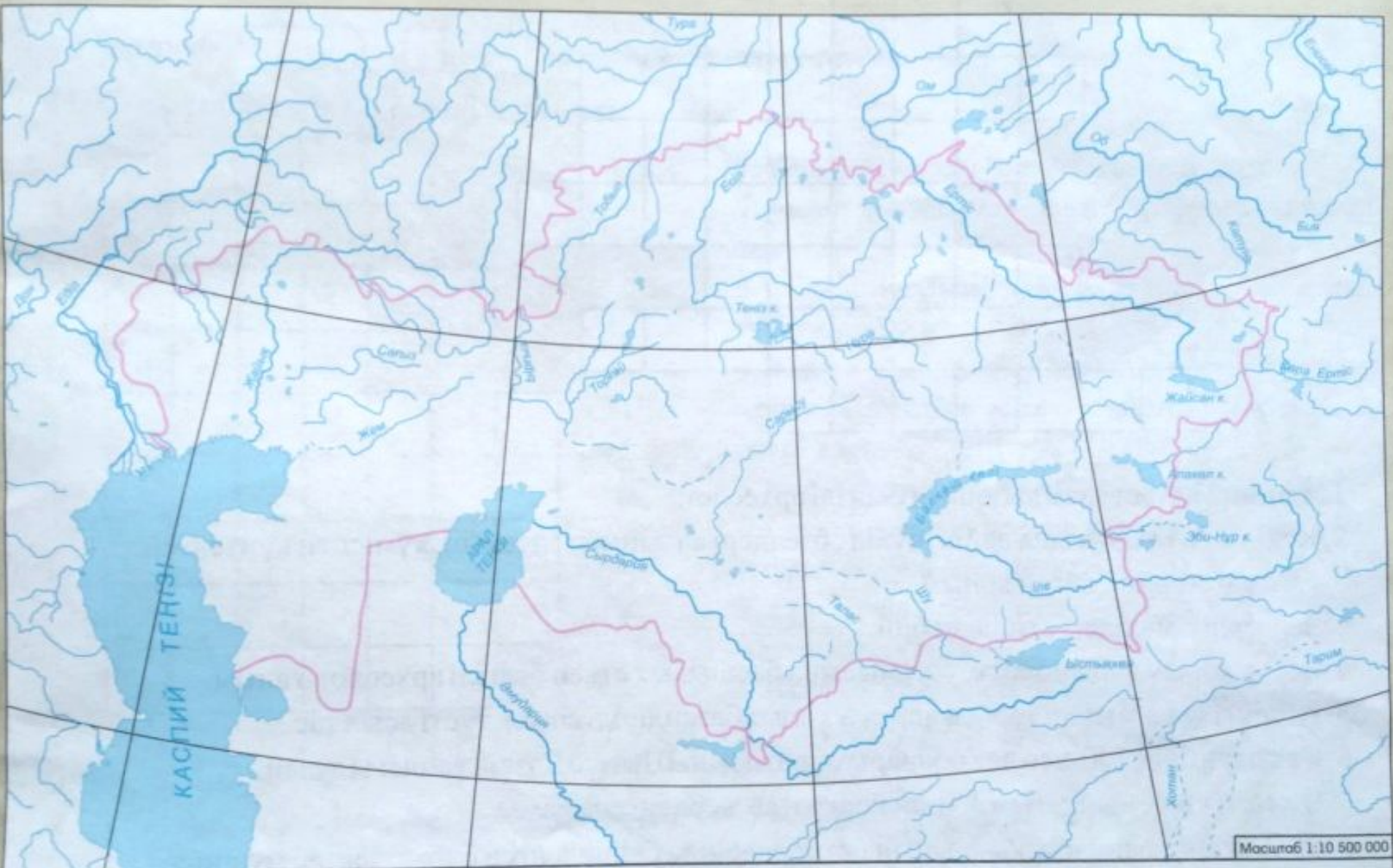
Шілікті

- 200-дей ескерткіш
- 50-ден астам ірі, алып обалар
- 100 м алып қорғандарың диаметрі
- 8-10м биіктігі
- 3-4 қабат үйдің биіктігіндей
- 1960ж-профессор Черников зерттеген
- 40-50жас шамасы ер адам
- 50-60 жас әйел
- 13 – қола жебе
- 4303- алтын қаптсырма

Берел

- 40-тан астам обалар
- 9м биіктігі
- 16- аттың қаңқасы табылды
- 1998-1999жж З.Самашевтің қазба жұмыстары
- 45 ж ас тағы ер адам , әйел жерленген
- б, з.б. 294ж- мәйіт радиологиялық әдіспен жерленген

1. Картаға Шығыс Қазақстан аймағында өмір сүрген тайпалардың мекендеген жерлерін белгілеп, олардың аттарын жаз.



Масштаб 1:10 500 000

ШАРТТЫ БЕЛГІЛЕР:

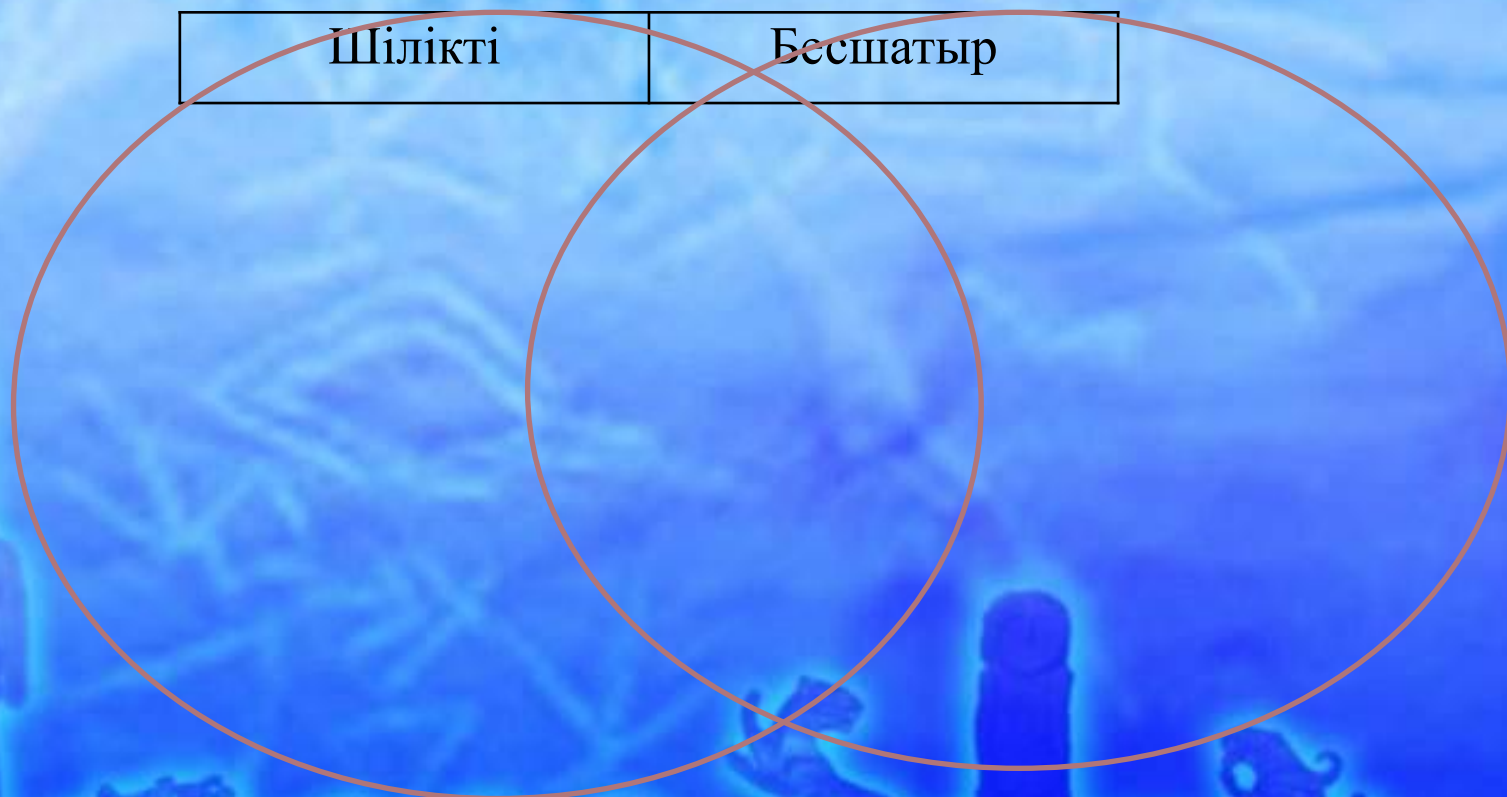
Тақтамен жұмыс 1, 2-топ. (Исседондар , Массagetтер)

1-тапсырма. Шығыс Қазақстанның табиғат жағдайын сипаттаңдар.
Шығыс Қазақстанның табиғат жағдайын Солтүстік Қазақстанның табиғаты, ауа райымен салыстырыңдар.

2-топ (Аримаспы, Аргиппейлер)

2-тапсырма Венн диаграммасы (тақтаға орындау)

Шілікті обасы мен Бесшатыр обасының құрылысын салыстырыңдар.



Үйге тапсырмасы: Ерте темір дәуіріндегі Шығыс Қазақстан, жұмыс дәптері «Жас зерттеушінің күнделігі». Археологиялық ескерткіштердің салыстырмалы кестесін толтырады.



“Аримаспылар”

Бағалау бетшесі

Аты-жөні	Үй тапсырмасы	Жаңа тақырып	Сұрақ құрастыру	Картамен жұмыс	Салыстыру

