

**Тренажер по теме
«Образование
Российского
государства»**

XIV – начало XVI в.

(внешняя политика)

*Серова Вера Владимировна, учитель
истории МАОУ «Гимназия города
Юрги»*

Прочтите отрывок из исторического источника и укажите событие, о котором идет речь

«И начал тогда князь великий наступать. Гремят мечи булатные о шлемы хиновские, поганые прикрыли головы свои руками своими. И вот поганые бросились вспять. Ветер рвет в стягах великого князя Дмитрия Ивановича, поганые спасаются бегством, а русские сыновья широкие поля кликом огородили и золочеными доспехами осветили. Уже встал тур на бой!

Тогда князь великий Дмитрий Иванович и брат его, князь Владимир Андреевич, полки поганых вспять повернули и начали их бить и сечь беспощадно, тоску на них наводя.

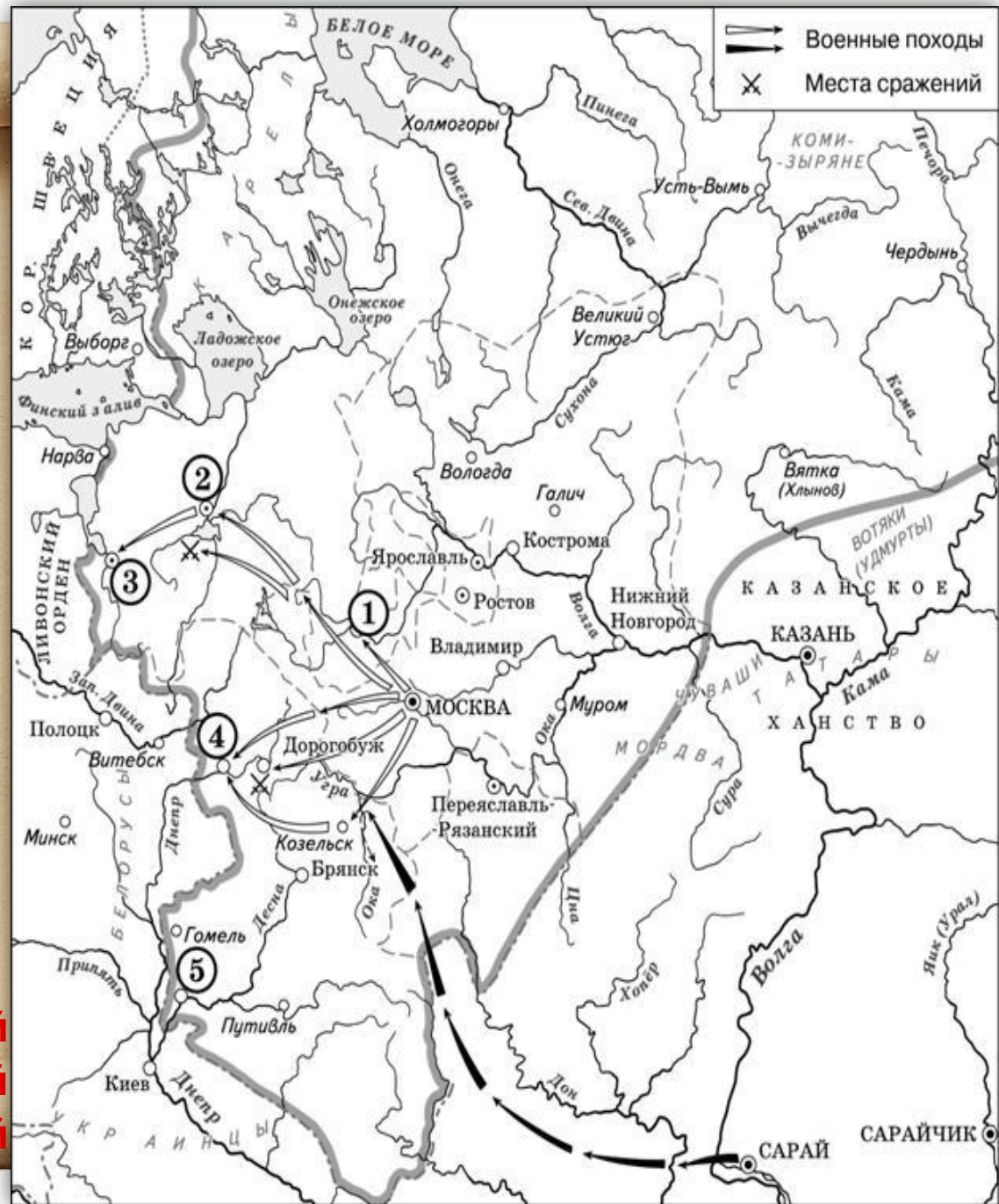
- 1. Ледовое побоище**
- 2. Битва на реке Калка**
- 3. Битва на реке Воже**
- 4. Куликовская битва**

1. Назовите князя, в годы правления которого в состав единого Русского государства вошли города, обозначенные на схеме цифрами «1» и «2».

2. Укажите век, когда в состав единого Русского государства вошли города, обозначенные на схеме цифрами «3», «4» и «5» (ответ напишите словом).

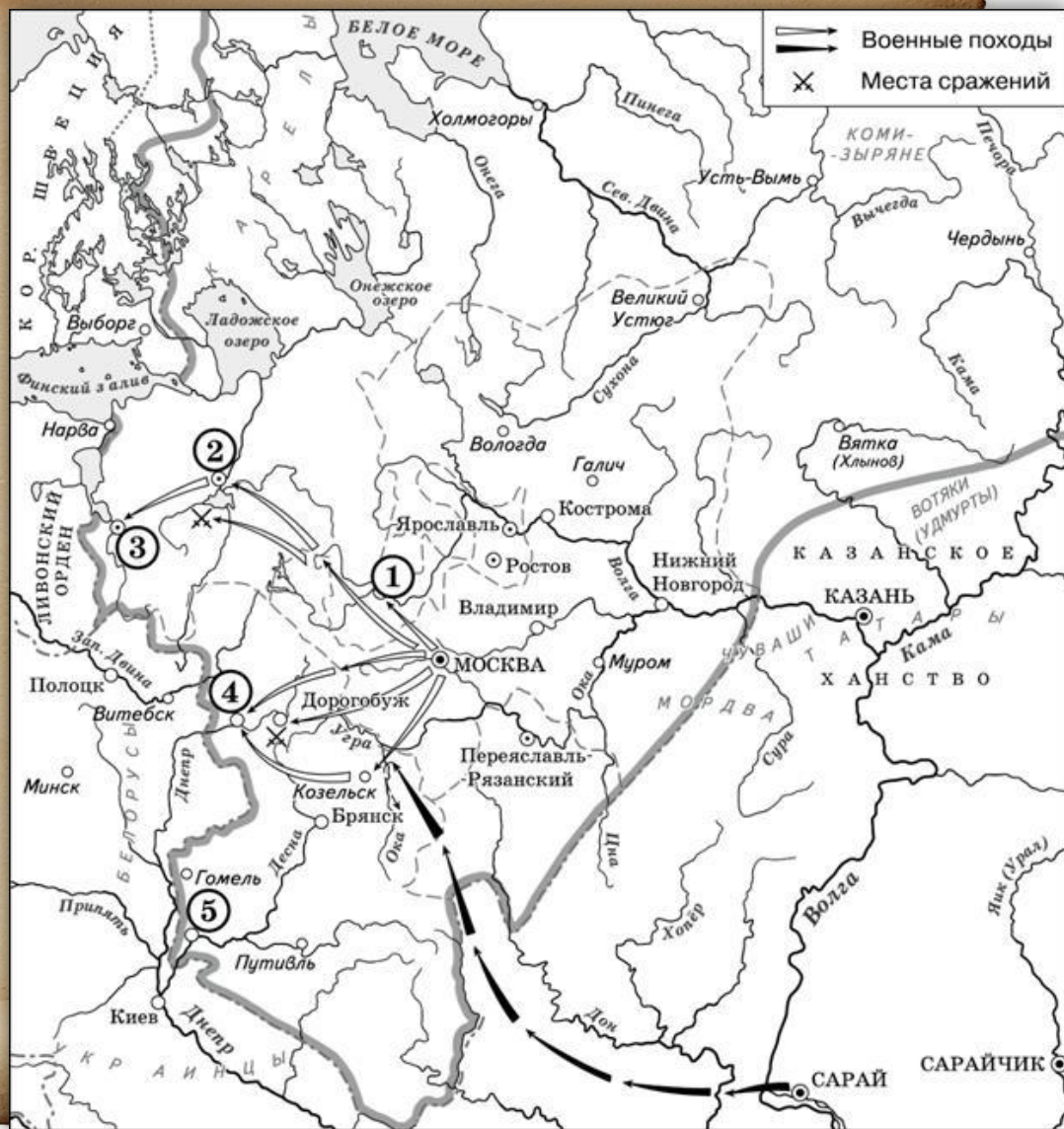
3. Назовите князя, при котором Русское государство достигло границ, обозначенных на схеме жирной чертой.

Иван Третий
Шестнадцатый
Василий Третий



какие суждения, относящиеся к данной схеме, являются верными? Выберите три суждения из шести предложенных. Запишите цифры, под которыми они указаны.

1. Города, обозначенные цифрами «4» и «5», были отвоёваны Русским государством у Великого княжества Литовского.
2. Следствием провала похода, обозначенного чёрными стрелками, стало освобождение Русского государства от ордынского ига.
3. Город, обозначенный цифрой «1», вошёл в состав единого Русского государства в 1478 г.
4. В городах, обозначенных цифрами «2» и «3», до вхождения в состав единого Русского государства существовала республиканская форма правления.
5. Ордынское войско в походе, обозначенном чёрными стрелками, возглавлял Мамай.
6. Город, обозначенный цифрой «2», вошёл в состав единого Русского государства в 1485 г.



Какие суждения о данном изображении являются верными? Выберите **два** суждения из пяти предложенных. Запишите **цифры**, под которыми они указаны.



1. События, изображённые на картине, произошли в XIII в.
2. В битве, изображённой на данной картине, русское войско сражалось с немецкими рыцарями.
3. Битва, событие которой изображено на картине, закончилась победой русского войска.
4. Русский воин изображён на картине слева от зрителя.
5. В поединке, изображённом на картине, русский воин остался жив.

На какой из картин А.М. Васнецова изображена Москва в последний период правления князя, при котором состоялась данная битва? В ответе запишите цифру, под которой эта картина указана.



1



2



3



4

Заполните пустые ячейки таблицы, используя приведённый ниже список пропущенных элементов: для каждого пропуска, обозначенного буквой, выберите номер нужного элемента.

Век	Событие истории России	Событие истории зарубежных стран
_____ (А)	Любечский съезд князей	_____ (Б)
XV в.	_____ (В)	_____ (Г)
XIII в.	_____ (Д)	Захват Константинополя крестоносцами
_____ (Е)	Куликовская битва	Битва на Косовом поле

**Пропущенные
элементы:**

1. XI в.
2. взятие русскими войсками Казани
3. разделение христианской церкви на Восточную и Западную
4. кругосветное плавание экспедиции Ф. Магеллана
5. открытие Америки Х. Колумбом
6. Невская битва
7. XIV в.
8. присоединение Новгорода к Московскому государству
9. XVI в.

138567

Расположите в хронологической последовательности исторические события. Запишите **цифры**, которыми обозначены исторические события, в правильной последовательности

1. битва на реке Воже
2. первое летописное упоминание о Москве
3. «стояние» на реке Угре
4. Ледовое побоище
5. битва на реке Калке

25413

1. Заполните пропуск в предложении: «Битва, представленная на схеме, состоялась в тысяча триста _____ году» (ответ напишите словом или словосочетанием).

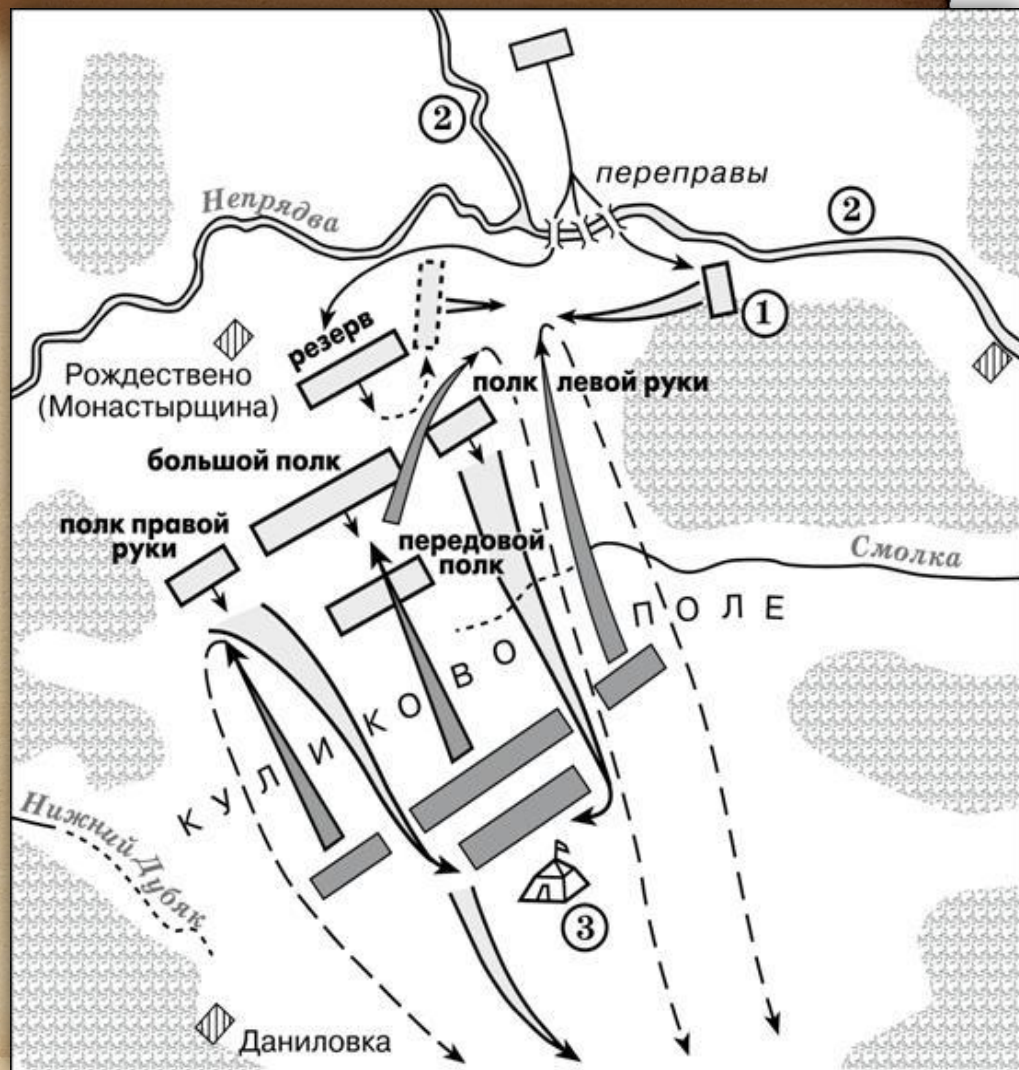
2. Напишите название полка, обозначенного на схеме цифрой «1».

3. Назовите командующего русскими войсками в битве, представленной на схеме.

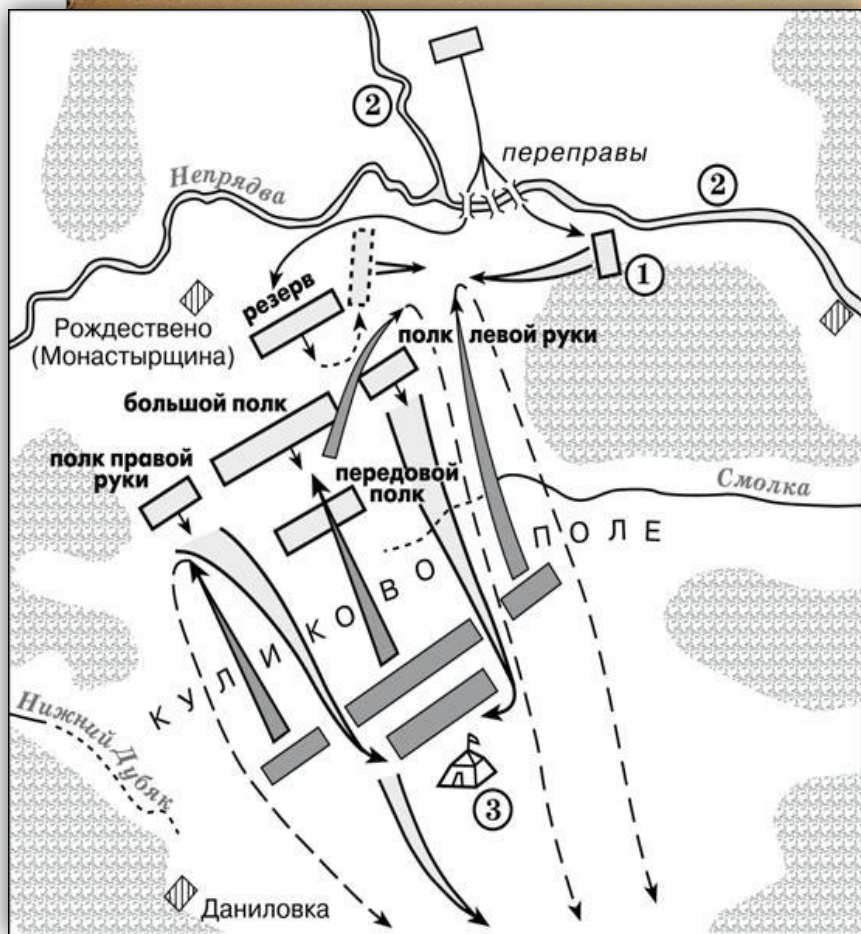
1. **Восьмидесятом**

2. **Засадный**

3. **Дмитрий Иванович (Донской)**



Какие суждения, относящиеся к битве, представленной на схеме, являются верными? Выберите три суждения из шести предложенных. Запишите цифры, под которыми они указаны.



1. Готовясь к этой битве, русские войска переправились через реку, обозначенную на схеме цифрой «2».
2. По преданию, на эту битву русского князя благословил Сергей Радонежский.
3. Цифрой «3» на схеме обозначен стан хана Ахмата.
4. Основной удар ордынцы направили на русский полк правой руки и потеснили его к реке Нижний Дубяк.
5. После победы в этой битве князь получил в народе прозвание (почётное имя), образованное от названия реки, которая обозначена на схеме цифрой «2».
6. После этой битвы Русь никогда не платила дани Золотой Орде.

ИСТОЧНИКИ

- <http://fipi.ru/>
http://85.142.162.119/os11/xmodules/qprint/index.php?theme_guid=aa61729c7341e311a91f001fc68344c9&proj_guid=068A227D253BA6C04D0C832387FD0D89
- Артасов, Игорь Анатольевич ЕГЭ – 2016: 30 вариантов экз. работ для подготовки к егэ/И.А. Артасов, О.Н. Мельникова. – Москва: АСТ:Астрель, 2016.