

“Их главное достоинство – мужество. После военной доблести самой большой заслугой считается иметь как можно больше сыновей. Тому, у кого больше всех сыновей, царь каждый год посылает подарки. Мальчиков в возрасте от 5 до 20 лет они обучают только трем вещам: скакать на коне, стрелять из лука и всегда говорить правду”.


Древнегреческий историк Геродот

Что бы вы могли сказать о стране, населенной такими людьми?

Проблема урока:

В чем секрет прочности империи персов?





Тема урока:
Древняя Персия –
«страна стран».

Потапова Анжелика Андреевна
Учитель истории
МОУ СШ №7

План:

1. Возвышение Персии.
2. Система управления Персидской империей.
3. Религия древних персов.



1. Возвышение Персии.



Сарды

Лидия

Вавилония

Вавилон

Экбатана

Мидия

Персидский залив

Лидия

Богат, как
Крез.



Лидийская золотая
монета. 7 в. до н.э.



Вавилон



Племена персов жили в землях, находившихся рядом с Персидским заливом.

Сарды

Лидия

Вавилония

Вавилон

Экбатана

Мидия

Племена персов

Персидский залив



«Царь! Ты собираешься в поход на людей, которые носят кожаные штаны и другую одежду из кожи; едят же они не столько, сколько пожелают, а сколько у них есть пищи, так как обитают в земле суровой.

Кроме того, они не пьют вина, довольствуясь лишь водой. Нет у них ни смокв и никаких полезных плодов».


Древнегреческий историк Геродот



«О войны-персы, если



Армия персов



**«Бессмертные»
– отборная
гвардия Кира.**



Перед битвой с лидийцами Кир всех вьючных и нагруженных верблюдов, следовавших за войском, велел согнать, разгрузить и посадить на них воинов в одежде всадников. Затем он поставил верблюдов впереди войска против конницы Креза, а пехоте велел следовать за верблюдами, а позади пехотинцев расположил остальное войско. А верблюдов он поставил потому, что кони боятся верблюдов и не выносят их вида и запаха.

Задание: *Нарисуйте план расположения войск перед битвой.*





Сарды

Экбатана

Вавилон

Персеполь



**Заслужил ли
Кир
прозвище
Великий ?**

Кир Великий



2. Система управления Персидской империей.



Персеполь –
столица империи



Дарий I

522–486
гг. до н. э.



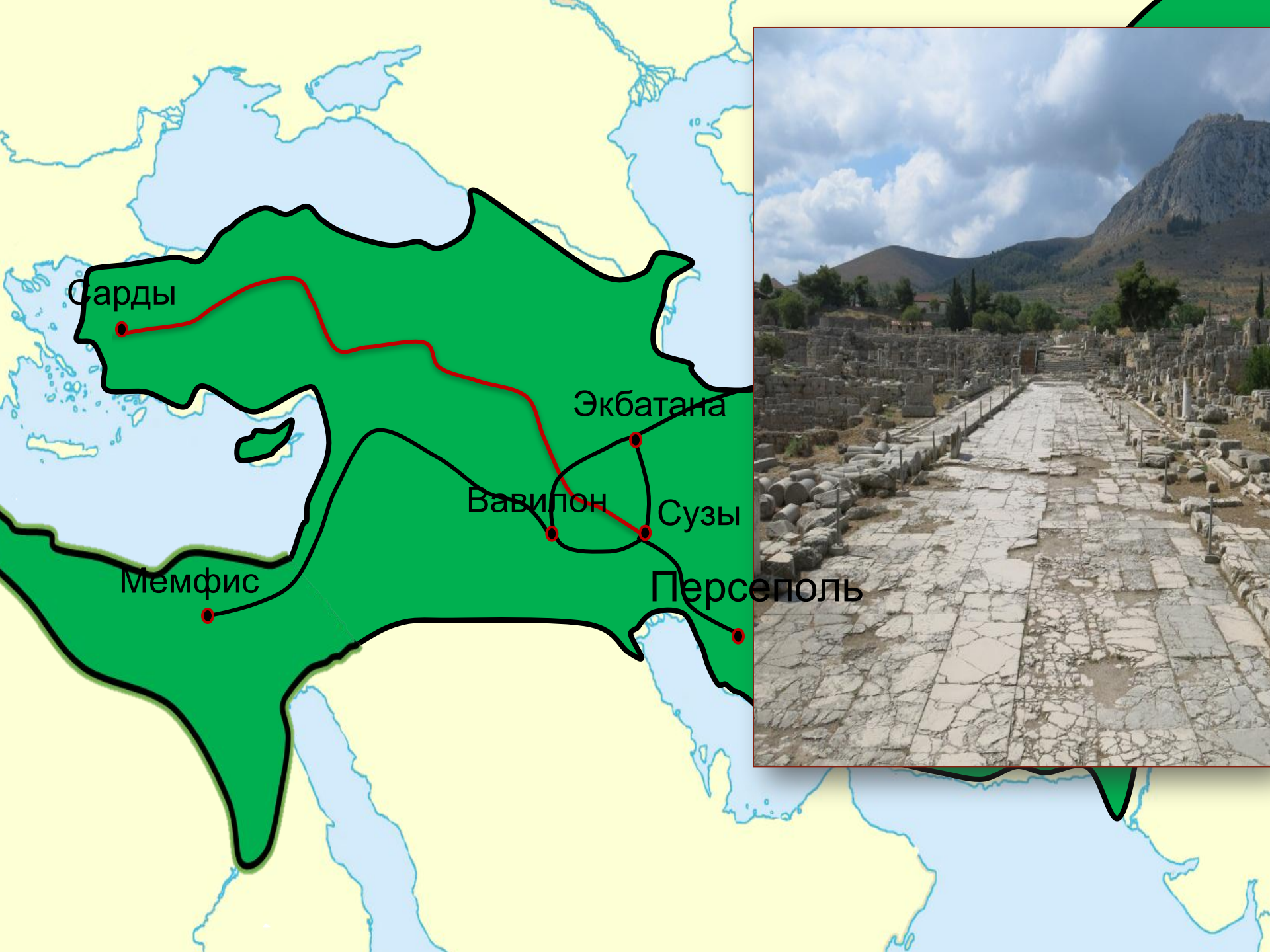
Правление Дария I

Реформы

**Прочитайте текст параграфа:
пункт 2 на стр.56-57.**

***Как было устроено
управление Персидской
империей при Дарии I?***





Сарды

Экбатана

Вавилон

Сузы

Мемфис

Персеполь





Дарий ввёл единую для всей империи монету.

Называлась она дарик - от имени царя.





Почему Персию называли «Страна стран», её властителя - «Царь царей»?



3. Религия древних персов.

Задание: прочитайте последний пункт параграфа 21, стр. 57.

Определите, чем религия персов отличалась от известных вам религий других народов Древнего Востока?



Заратустра



Ахурамазда



РАБОТА

1. После гибели Ассирийской державы:

- A. Вся Западная Азия подчинилась власти Вавилона;
- B. В Западной Азии сложились три великих царства - Вавилон, Лидия, Мидия;
- C. В Двуречье сложились три царства - Вавилон, Лидия, Мидия;

2. Восстановите последовательность событий:

- A. Победа персов над Вавилоном;
- B. Победа персов над Лидийским царством;
- C. Победа персов над Мидией;
- D. Победа персов над Египтом;



3. Вставьте вместо пропусков:

- Самым могущественным правителем Персии был _____. Многочисленные народы, попавшие под власть персов, платили ему дань. Единственным народом освобожденным от уплаты дани, были _____.

4. Найдите лишнее:

В составе Персидской державы в период ее расцвета были города:

- Персеполь
- Сарды
- Вавилон
- Мемфис
- Афины



5. Первым царством которое завоевал Кир, было:

- A. Вавилонское
- B. Мидийское
- C. Лидийское

6. Восстановите последовательность событий:

- A. Победа персов над Египтом;
- B. Победа персов над Вавилоном;
- C. Гибель Ассирийской военной державы;
- D. Правление царя Дария I;

7. Решение задачи: Персидский царь Дарий I пользовался неограниченной властью. Только он один носил одежды выкрашенные пурпуром. Перед ним падали ниц даже вельможи. Не было царя богаче Дария I.

В чем сходство власти персидских царей и фараонов в Египте? Какие сходные цели они преследовали?

Домашнее задание:

§ 21, стр.56-57 читать и пересказывать.

Заполните таблицу «Сравнение империи Ближнего Востока»

