

**Игра по  
истории  
для 8 класса**

Команда

Какие российские правители изображены на картинках и годы их

Команда

В



я



1) Александр  
2) 1801-1825 гг.

1) Николай  
2) 1825-1855 гг.

Команда

А

Какое событие изображено на

Команда

В

ар



Создание  
Негласного



Убийств  
о

Команда

А

Кто изображён на

ти-

Команда

В



Строгано

В



Кочубе

й

Команда

Какое событие изображено на картинке и в

Команда

год, когда



1) Заключение  
Тильзитского

2118097

год



1) Заключение  
Гюлистанского

211813

год

Команда

А

Кто изображён на

картине?

Команда

В



Новосильце



Чарторыйски

Команда

А Поймите по двум картинкам о каком законе идёт



Указ «О  
вольных  
хлебопашцах»

Команда

В



Проект «Введение к  
уложению  
государственных

Команда  
А

Кто изображён на

Команда  
В



Сперански

й



Аракчеев

в



Команда


А Кто и в каком году подготовил «Введение к уложению государственных законов»(А)



1)  
Сперанский  
2, 1809  
ГОД

Команда

В



1)  
Сперанский  
2, 1832  
ГОД

Команда  
А

Кто изображён на  
картинке?

Команда  
В



Багратио



Барклай де  
Толли

Команда  
Какой мирный договор и в каком году был заключён в России с этими странами при правлении Александра I?



1)

Фридрихсгамский  
1793  
год

Команда  
Какой мирный договор и в каком году был заключён в России с этими странами при правлении Александра I?



1)

Бухарестский  
1812  
год

Команда  
А

Кто изображён на  
картине

Команда  
В



Милорадови

Ч



Кутузо

В

Команда

Какое событие 1812 года изображено на картинке и дата этого события



1) Переправа  
через  
Березину  
2) 14-19  
ноября

Команда



1) Бородинское  
сражение 2) 26  
августа

Команда  
А

Кто изображён на

Команда  
В



Давыдо

В



Сеслави

Н

Команда

Какого числа 1812 года была битва под Смоленском (А), а какого – под



4-6  
августа

Команда

В(А), а какого – под



12  
октября

Команда  
А

Кто изображён на этих  
картинах?

Команда  
В



Тормасо

В



Витгенштейн

Н



Команда

А Какое событие изображено на картинке и дата этого события?



- 1) Военный совет в Филлах
- 2) 1 сентября 1812 года

Команда

В



- 1) Вступление русских войск в Париж
- 2) 18 марта 1814 года

Команда  
А

Кто изображён на

Команда  
В



Фигне

р



Дорохо

в

Команда

А

Поймите по двум картинкам, какое понятие в них зашифровано

Команда

В



«Битва  
народов»

«Бистро  
»

Команда

А

Кто изображён на  
картинке?

Команда

В



Павел  
Пестель



Никита  
Муравьёв

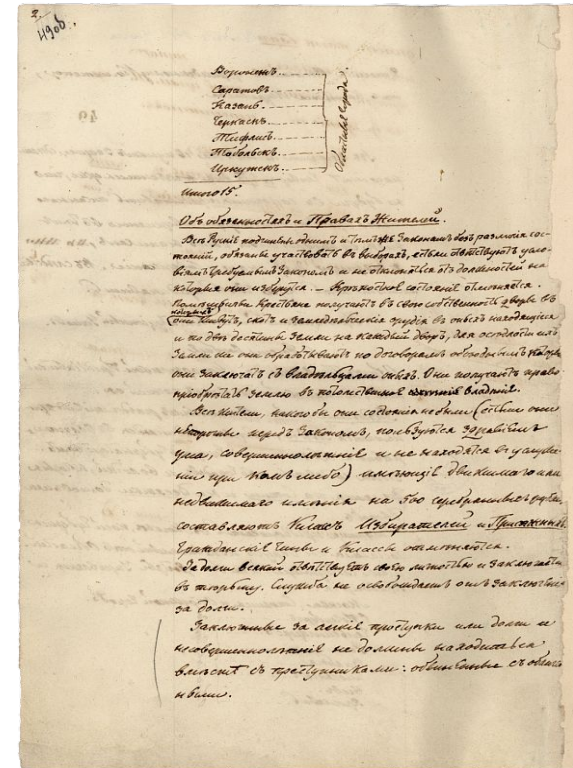
Команда

Команда

Какой документ был разработан Павлом Пестелем(А), а какой Никитой Муравьевым(В)?



Русская  
правда



Конституци  
я

Команда

А Какое событие показано на картинке и дата этого события?



1) Восстание декабристов  
2) 14 декабря 1825 года

Команда

В

Какие события показаны на картинке и дата этого события?



1) Убийство Каховским  
2) 14 декабря 1825 года

Команда  
А

Кто изображён на  
картинке

Команда  
В



Бенкендорф



Уваров

Команда

А

Поймите по двум картинкам, какое понятие 19 века в них зашифровано




«Люди  
сороковых»

Команда

В

ЛЕДНИКОВЫЙ  
ПЕРИОД  
ГИГАНТСКИЙ ПОГРОМ



«Кружковый  
период»



Команда А Кто эти люди, какие преобразования они провели и в каких годах? Команда В



1) Киселев.  
2) Реформа гос. деревни  
3) 1837-1841 гг.



1) Канарин  
2) Финансовая реформа  
3) 1839-1843 гг.

Команда  
А



Герце  
н

Кто эти  
люди?

Команда  
В



Белински  
й

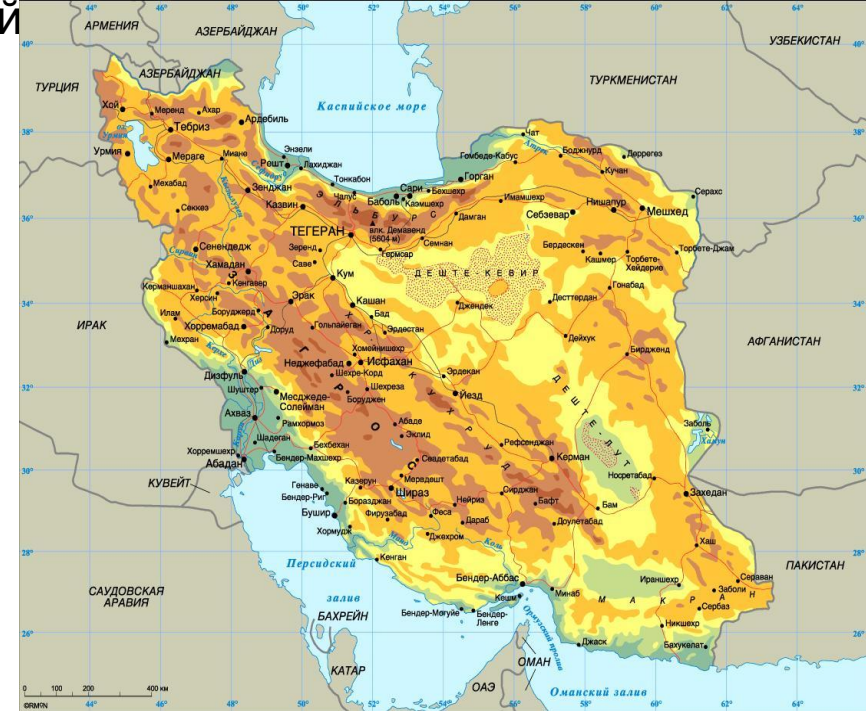
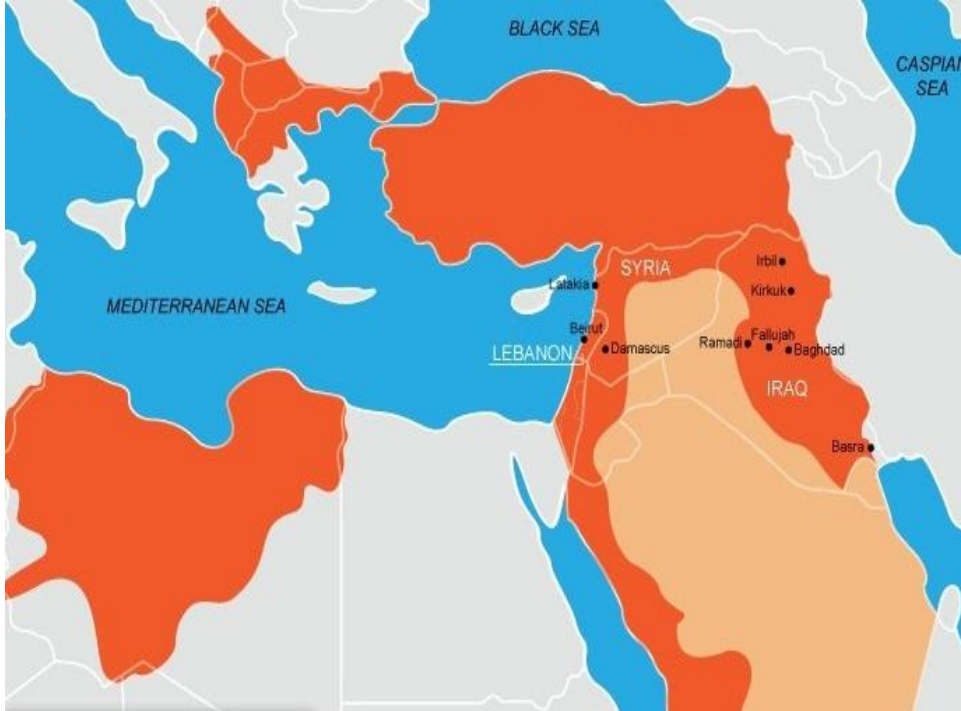
Команда

Какие мирные договоры и в каком году были заключены с этими странами при Николае I

Команда

С этими странами при

Николае I



1) Адрианопольский

2) 1829

ГОД

1) Туркманчайский

2) 1828

ГОД

Команда

Команда

А В  
Какие теории создали эти люди и к какому политическому направлению они

осиг



1) Теория  
«официальной  
2) народности»

1) Теория  
«общинного  
2) социализма»

Команда  
А

Кто изображён на

Команда  
В



ТИНН



Ермоло

Шамил

В

Ъ

Команда

А О каких событиях Крымской войны говорят данные

Команда

В

рт



Синопское  
сражение



Оборона  
Севастополя

Команда  
А

Кто изображён на  
картине



Нахимо

В

Команда  
В



Корнило

В


Команда

А

Что за сооружение изображено на

Команда

В



Храм  
Христа

Спасителя



Триумфальная  
арка

в Москве



Команда

А

Кто изображён на  
инке?



Пётр  
Кошка

Команда

В



Эдуард  
Тотлебен

Команда

А


Что за сооружение изображено на

Команда

В



Исаакиевский  
Собор  
В Петербурге



Казанский  
Собор  
в Петербурге

**Игра окончена!**  
**Спасибо за**  
**участие** 😊