



Маратфонская

битва

План урока


1. Угроза порабощения
2. Марафонская битва



Повод к войне

- Прочитайте пункт 1 и определите, что послужило поводом для войны Персии против Афин?
- **500 г. до н.э. – восстание в Милете**
- **Помощь Афин и Эретрии восставшему Милету**
- Найдите на карте Милет, о. Эвбею. Как вы думаете, почему жители Эретрии и Афин согласились помочь восставшему Милету?





Триера - военный корабль с тремя рядами весел

Греко-персидские войны 500–479 гг. до н. э.



- Когда персы выступили в поход? Чем он завершился?

- **492 г. до н.э. - 1-й поход персов против Греции**

- Что потребовал Дарий I от греческих городов? Как они отнеслись к его требованию
- Как персы готовились к войне? Каково было соотношение сил?

1. Угроза порабощения




Дарий I создал огромное государство и мечтал захватить весь мир. Персидские послы прибывали в греческие полисы и требовали подчинения своему царю («земли и воды»).



1. Угроза порабощения

Многие греческие полисы подчинились персидской власти. Но афиняне сбросили персидских послов со скалы, а спартанцы бросили персидских послов в колодец, сказав: «На дне много земли и воды, возьмите сколько хотите сами».






10 тыс.
ВОИНОВ



1000 лошадей и 40 тыс. воинов




2. Марафонская битва



Летом 490 года до н.э. гонец принес в Афины весть о высадке персидской армии около селения Марафон.

- Царь Дарий отправил военный флот для покорения Эллады.



2. Марафонская битва



Мильтиад


На должность **СТРАТЕГА** Народное собрание избрало **Мильтиада**. Афиняне послали за помощью в другие греческие полисы. Спартанцы обещали помочь позже, остальные полисы в помощи отказали (прислал помощь только город Платеи).



Полководец Мильтиад

- Кто такой Мильтиад?
- Какую тактику он выбрал?
Чем можно объяснить его действия?
- В чём состояло преимущество персидского войска над греческим?

2. Марафонская битва



Персидский
всадник


Дойдя до Марафона, Мильтиад занял холмы, преградив путь персам на Афины. Главная сила персидской армии – конница – не могла сражаться на неровной местности. Прошло несколько дней.

Марафонская битва.

- Летом **490** года до н.э. в Марафонской бухте показали корабли персов.



Марафонская битва

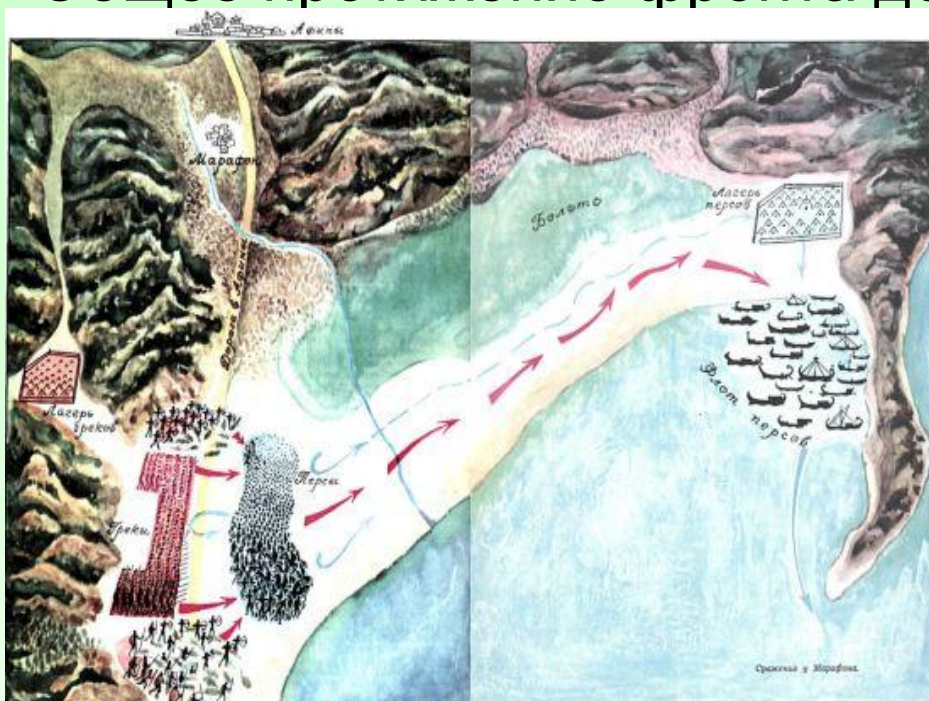


Часть персидского войска ночью , включая конницу была посажена на корабли, чтобы обогнув Аттику ворваться в беззащитные Афины.


Другая часть войска осталась в Марафонской равнине. Узнав об этом Мильтиад отважился на сражение.



Вследствие численного превосходства персов и значительной ширины долины Мильтиад не мог дать своей фаланге необходимой глубины. Кроме того, он учитывал возможность охвата своих флангов персидской конницей. Поэтому он уменьшил количество шеренг в центре и соответственно увеличил число шеренг на флангах. Общее протяжение фронта достигало примерно 1 км.



2. Марафонская битва




Построение
войск -
фаланга

Персы посадили часть войск на корабли и планировали напасть на Афины, оставшиеся без защиты своих войск. Тогда Мильтиад вывел афинян на равнину и построил для боя. Греки построились **фалангой** – ровными рядами, сомкнув щиты и выставив вперед длинные копья.

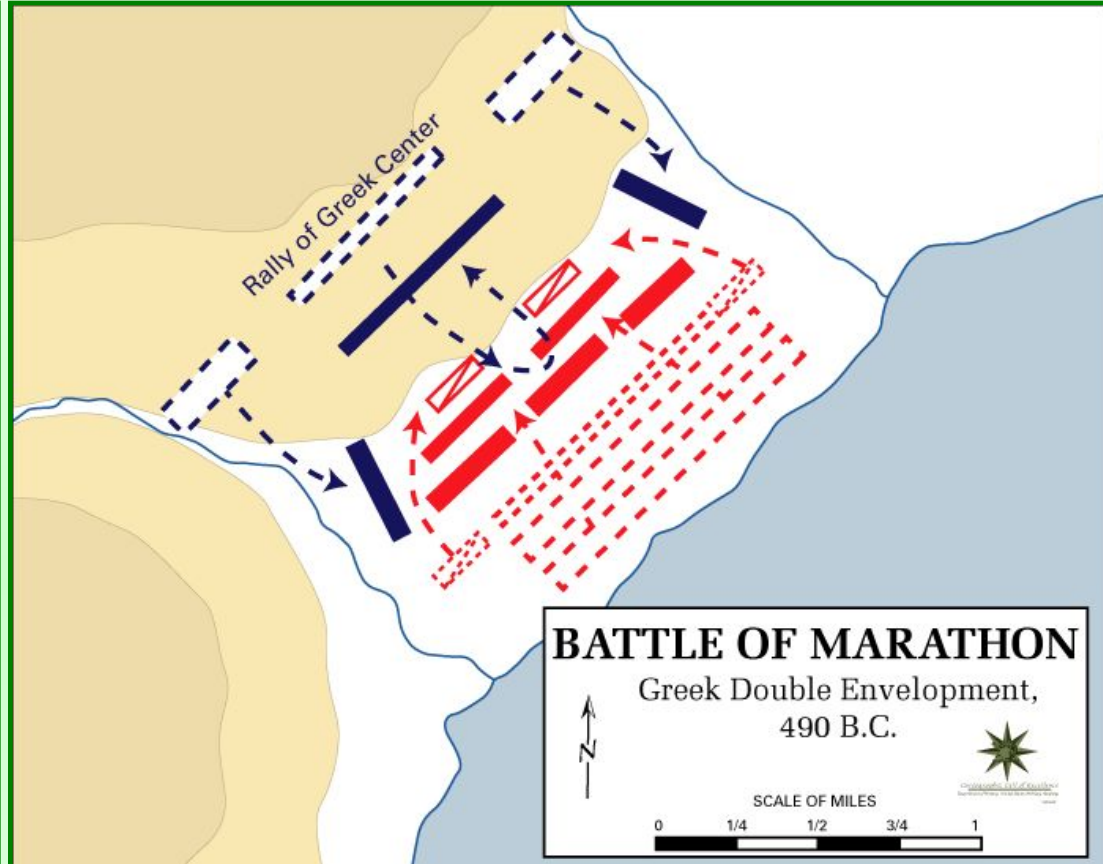
Чтобы не дать персидской коннице времени атаковать греков на равнине и чтобы вслед за стрельбой из луков непосредственно перейти к рукопашному бою, Мильтиад двинулся с высот на неприятеля "беглым маршем". "Беглый марш" позволял быстро преодолевать поражаемое стрелами пространство и морально действовал на противника.



Персам удалось прорвать боевую линию греков в центре, но края устояли. Когда же персы бросились вглубь к греческому лагерю греки напали на персов сзади. Персы обратились в бегство.




2. Марафонская битва



Выдержав первый удар персидских войск, афиняне ударили им во фланги. Персы обратились в бегство и начали спешно садиться на корабли. Они планировали успеть доплыть до Афин и захватить их, но опоздали. Афиняне успели вернуться на защиту родного города.

Афиняне завладели семью кораблями. На остальных кораблях персы отплыли в море, стремясь достичь Афин раньше, чем это сделает греческое войско. Афиняне также устремились в город и, опередив противника, достигли его раньше, чем персидское войско. Мильтиад расположил свое войско на восточной стороне Афин. Персы, подойдя на своих кораблях к Фалеру (Фалер был тогда гаванью афинян) и увидев, что афинское войско стоит у города и готово к битве, не отважились высадиться. Персидский флот повернул назад и поплыл обратно в Азию.

2. Марафонская битва




Колесница персов

Персидские войска не рискнули высадиться на берег и корабли отплыли назад в Персию.

Афиняне первыми одержали победу над персами, показав, что персы не являются непобедимыми.

2. Марафонская битва



**Гонец из
Марафона в
Афины**

После победы над персами в Марафонской битве Мильтиад отправил в Афины гонца с радостной вестью. Расстояние 42 километра 195 метров (от Марафона до Афин) – марафонская дистанция.

В бою греки
потеряли 192
человека, персы —
6 400 человек.



МАРАФОНСКАЯ БИТВА 13 сентября 490 г. до н. э.

- | | |
|---|--|
| <p>Передвижение войск</p> <p>→ греческих</p> <p>← персидских</p> <p>Положение войск сторон перед битвой</p> <p>■ греческих</p> <p>● персидских</p> <p>Х Х Засеки и завалы</p> <p>▶ Атаки греческими войсками персидских войск</p> | <p>←← Контратака персидских войск</p> <p>▶ Прорыв персидскими лучниками центра греческой фаланги</p> <p>◀ Отход греческих войск</p> <p>▶ Атака греческими войсками персидских лучников и разгром их</p> <p>--- Отступление персидских войск и преследование их греческими войсками</p> |
|---|--|

В чем значение победы афинян в Марафонской битве?



- ◆ персы перестали считаться непобедимыми
- ◆ победа в Марафонской битве воодушевила греков на борьбу

В Марафонской битве греки дали первый отпор персам. На месте сражения на Марафонском поле, рядом с братской могилой воинов, павших за родину, был воздвигнут памятник в честь вождя греков Мильтиада. Сцены из марафонской битвы были изображены в одном из портиков, находившихся на главной площади Афин.



Домашнее задание

1. Изучить параграф 28
2. Ответить на вопросы в конце параграфа (устно)

