

Русско – японская война 1904 – 1905 гг.



Развертывание армий и общий ход войны

8 февраля 1904 г., не объявляя войны, Япония неожиданно напала на русский флот на рейде Порт-Артура и Чемульпо.

Так началась русско-японская война, закончившаяся поражением царской России. Но „...не русский народ, а самодержавие пришло к позорному поражению“ (Ленин).

5 сентября 1905 г. в Портсмуте был подписан мирный договор, по которому царское правительство обязалось признать японский протекторат над Кореей, уступить Японии арендные права на южную часть Ляодунского п-ова с Порт-Артуром, очистить южную Маньчжурию, отдать Японии ЮМЖД, южную часть Сахалина и выдать большую контрибуцию.

„...поражение русских войск в 1904 г. в период русско-японской войны оставило в сознании народа тяжёлые воспоминания. Оно легло на нашу страну чёрным пятном. Наш народ верил и ждал, что наступит день, когда Япония будет разбита и пятно будет ликвидировано“.

(Обращение тов. И. В. Сталина к народу 2 сентября 1945 г.)

Граница территории, арендованной Россией у Китая в 1898 г.
Линии передвижения японских войск и флота
Силы и положение русских войск и флота к началу войны
Направления и даты высадки японских армий и ударов японского флота
Силы японских армий к началу войны
Место героической гибели русского крейсера
Место, где 13 4 1904 г. затонул броненосец „Петропавловск“ и погиб адмирал Манроу
Отступление русских
База японского флота во время осады Порт-Артура

а) Сухопутные и морские коммуникации России в русско-японской войне 1904—1905 гг.

Путь эскадры Рожественского
Путь части судов эскадры, шедших Суэцким каналом
Путь отряда Небогатова

Эскадра Рожественского:
 7 броненосцев
 1 броненосный крейсер
 9 крейсеров
 9 миноносцев
 28 торпедных судов

Эскадра Небогатова:
 3 адмиралских броненосца
 1 отряд броненосцев
 1 старый крейсер

Масштаб 1:250 000 000 (1 см = 2500 км)

Японский флот:
 6 броненосцев
 20 крейсеров
 47 эсминцев

Корейский флот:
 2-я эскадра
 3-я эскадра

Сухопутные силы:
 1-я армия Куроки
 2-я армия Нодзу
 3-я армия Ногги

Ключевые события:
 8.2.1904 г. - Атака на Порт-Артур
 9.2.1904 г. - Атака на Чемульпо
 15.6.1904 г. - Осада Порт-Артура
 19.8.1904 г. - Осада Порт-Артура
 27.5.1905 г. - Мирный договор в Портсмуте

Масштаб 1:7 000 000 (1 см = 70 км)



ПРИЧИНЫ ВОЙНЫ

1. Противостояние России и Японии на Дальнем Востоке, борьба за сферы влияния.
2. Война, как средство отвлечения населения страны от революционного движения

Война носит имперский, захватнический характер.

Ход событий

26 января 1904 г	Начало войны.
27 января 1904 г	Атака порт-артурской эскадры японскими миноносцами; гибель "Варяга".
апрель 1904 г	Японцы высадились в Корее и вступили в Маньчжурию.
май 1904 г	Осада Порт - Артура.
август 1904 г	Сражение под Ляояном
сентябрь-октябрь 1904 г	Битва на р. Шахэ. Из Балтийского моря вышла II-я Тихоокеанская эскадра и направилась на Дальний Восток (адм. Рождественский)
ноябрь-декабрь 1904г	Героическая оборона Порт - Артура.
19 декабря 1904 г	Генерал Стессель сдал крепость японцам
февраль 1905 г	Сражение под Мукденом,.
май 1905 г	Морское сражение около острова Цусима; гибель эскадры генерала Рождественского.
23 августа 1905 г	Портсмутская конференция.

26.01.1904г. → «Варяг» → Ляоян → Шахэ → Порт-
Артур → Мукден → Цусима → → Портсмут

Порт-

(23.08.1905г.)

Личности



КОНДРАТЕНКО РОМАН ИСИДОРОВИЧ (1857-1904) – Генерал-майор, руководил обороной крепости Порт-Артура. Погиб в декабре 1905 г, защищая крепость.

КУРОПАТКИН АЛЕКСЕЙ НИКОЛАЕВИЧ(1848-1925) – Генерал. Один из виновников неподготовленности России к войне с Японией. Показал себя безвольным и бездарным военачальником.



МАКАРОВ СТЕПАН ОСИПОВИЧ (1848/49-1904) – Флотоводец, океанограф, Руководитель двух кругосветных плаваний. Погиб на броненосце «Петропавловск», подорвавшемся на mine 31 марта 1904 г.





АЛЕКСЕЕВ ЕВГЕНИЙ ИВАНОВИЧ (1843-1918) –

Адмирал. В русско-японскую войну главнокомандующий сухопутными и морскими силами (по октябрь 1904).

ВЕРЕЩАГИН ВАСИЛИЙ ВАСИЛЬЕВИЧ (1842-1904) –

Русский живописец. Был близок к передвижникам. Погиб при взрыве броненосца «Петропавловск» в Порт-Артуре.



СТЕССЕЛЬ АНАТОЛИЙ МИХАЙЛОВИЧ (1848-1915) -

Российский военачальник. В русско-японскую войну проявил бездарность и трусость, сдал Порт-Артур противнику. Приговорен военным судом к смертной казни, но был помилован царем.



РОЖЕСТВЕНСКИЙ ЗИНОВИЙ ПЕТРОВИЧ (1848-1909) - Вице-адмирал . Командовал 2-й Тихоокеанской эскадрой, совершившей переход из Балтийского моря на Дальний Восток и разгромленной в Цусимском сражении.

ВИТТЕ СЕРГЕЙ ЮЛЬЕВИЧ (1849-1915) – граф (1905), российский государственный деятель, Подписал Портсмутский мир (1905).



РУДНЕВ ВСЕВОЛОД ФЕДОРОВИЧ (1855-1913)-
Контр-адмирал. Командир крейсера «Варяг».

Причины поражения России в русско - японской войне:

- Экономическая и военно-техническая отсталость России.
- Бездарность командования.
- Помощь Японии со стороны Англии и США.
- Нестабильность в стране в связи с революцией.

Последствия поражения России в войне с Японией:

- Общественное недовольство самодержавием, позорно проигравшем войну с Японией;
- Ослабление позиций России на Дальнем Востоке;
- Дестабилизация внутриполитической обстановки в России - рост революционной борьбы.



I. Работа с хронологией

1. Какое из названных событий произошло раньше всех других?

1) Портсмутский договор

Август 1905

2) Сражение под Мукденом

Февраль
1905

3) Осада Порт-Артура

Май 1904

4) Гибель «Варяга»

Январь
1904



I. Работа с хронологией

2. Важнейшие события Русско-японской войны:

- 1) 27 января 1904 г.
- 2) 28 января 1904 г.
- 3) 29 января 1905 г.
- 4) 30 января 1905 г.

Атака порт-артурской эскадры японскими миноносцами; гибель "Варяга"



I. Работа с хронологией

3. Из Балтийского моря вышла II-я Тихоокеанская эскадра и направилась на Дальний Восток :

Правильный ответ

- 1) Февраль – март 1904 г.
- 2) Сентябрь – октябрь 1904 г.
- 3) Ноябрь – декабрь 1904 г.
- 4) Январь – февраль 1905 г.



I. Работа с хронологией

4. Расположите в хронологической последовательности события революции 1905-1907 гг.:

А) Цусимское сражение

Май 1905 г.

Б) Нападение на бухту Чемульпо

Январь 1904 г.

В) Сражение под Мукденом

Февраль 1905 г.

Г) Сражение на р. Шахе

Сентябрь 1904 г.

БГВА



II. Работа с фактами

1. В сражениях русско-японской войны русскими войсками командовали:

- 1) В.В. Шульгин и С.Ю. Витте министры
- 2) А.А. Брусилов и А.В. Самсонов генералы Первой мировой
- 3) С.О. Макаров и З.П. Рожественский Правильный ответ
- 4) Н.Е. Жуковский и С.А. Чаплыгин учены
е



II. Работа с фактами

2. Какое из названных сражений произошло в ходе русско-японской войны 1904 – 1905 гг.?

1) Гангутское

Северная война 1700-1721

2) Чесменское

Русско-турецкая война 1787 -
1791

3) Цусимское

Правильный ответ

4) Синопское

Крымская война 1853 -
1856



II. Работа с фактами

3. Кто из перечисленных ниже лиц прославился в годы русско-японской войны 1904 -1905 гг.?

- 1) А.В. Суворов
- 2) П.С. Нахимов
- 3) С.О. Макаров
- 4) А.П. Брусилов

Правильный ответ



II. Работа с фактами

4. Летом 1905 г. произошло восстание военных моряков на корабле:

1) «Варяг»

Утонул в 1904 г.

2) «Аврора»

Знаменитый выстрел
был произведен в 1917 г.

3) «Петропавловск»

Подорвался на мине
в 1904 г.; там еще
С.О. Макаров был

4) «Князь Потемкин-Таврический»

Восстание на броненосце «Потемкин»...



II. Работа с фактами

5. Характерной чертой внешней политики России на Дальнем Востоке в начале XX в. было стремление:

Правильный ответ

- 1) усилить свое влияние в Маньчжурии
- 2) заключить военный союз с Японией против Китая
- 3) установить границы между Россией и Китаем по реке Амуру
- 4) присоединить территорию Кореи к России



II. Работа с фактами

6. Что из перечисленного произошло в первое десятилетие XX в.?

А) русско-японская война

1904-1905

Б) вступление на престол Николая II

1894

В) продажа Россией Аляски США

1867

Г) образование первой российского Государственной Думы

1906

Д) вступление России в Первую мировую войну

1914

Е) создание Антанты (тройственного союза)

1907

АГЕ

I и II. Работа с хронологией и фактами

Исторический персонаж	Деятельность	Время деятельности
А.М. СтессельАБ
З.П.РожественскийВ	Май 1905 г.
.....Г	Командование Тихоокеанской эскадройД
С.Ю.ВиттеЕ	Август 1905 г.

Пропущенные элементы:

1. Верещагин В.В.
2. Сдача Порт-Артур противнику
3. Подписание Портсмутского мира
4. С.О. Макаров
5. Декабрь 1904 г.
6. Командование русской эскадрой в Цусимском сражении
7. Сентябрь 1905 г.
8. А.Н. Куропаткин
9. Январь 1904 г.

А	Б	В	Г	Д	Е
5	2	6	4	9	3



1. Территория, которую проигравшая войну страна отдаёт победителю:

- 1) Репарация
- 2) Аннексия
- 3) Конtribusiция
- 4) Индальгенция

Правильный ответ



2. Государственный деятель, утверждающий, что Россию спасёт «маленькая победоносная война»?

- 1) С.Ю. Витте
- 2) П.А. Столыпин
- 3) В.К. Плеве
- 4) С.П. Зубатов

Верный ответ



IV. Задания для работы с источниками

1. Прочтите отрывок из статьи историка и напишите название войны, о которой в нем говорится:

«Война... Ляоян, Порт-Артур, Мукден, Цусима и тысячи убитых и раненых русских солдат и матросов, не понимавших, во имя чего они проливают здесь свою кровь.

Известия о поражении русской армии и флота производили впечатление в России, вызывали запросы общественности о причинах бедствия...».

Русско-японская война 1904-1905 гг.



IV. Задания для работы с источниками

2. Прочтите отрывок из донесения царю Николаю II и напишите название крейсера, о котором идет речь.

«Крейсер... и канонерская лодка "Кореец" выдержали сильный бой с эскадрой из 6 больших крейсеров и 8 миноносцев. Крейсер..., лишенный возможности продолжать бой, вернулся соединенно с "Корейцем" на рейд Чемульпо, где, свезя команды на иностранные крейсера, пустили свои ко дну, чтобы не дать японцам».

«Варяг»

V. Задания для работы с источниками

3. Прочтите отрывки из международного договора и напишите пропущенное слово в названии года, когда был подписан этот договор:

«Е[го] в[еличество] император всероссийский, с одной стороны, и Е[го] в[еличество] император Японии, с другой, будучи одушевлены желанием восстановить пользование благами мира для их стран и народов, решили заключить мирный договор...

Настоящий договор будет подписан в двух экземплярах на французском и английском языках...

В удостоверение чего обоюдные уполномоченные подписали настоящий мирный договор и приложили к нему свои печати.

Учинено в Портсмуте (Ньюгэмпшир) двадцать третьего августа (пятого сентября) тысяча девятьсот _____ года, что соответствует пятому дню девятого месяца восьмого года Мейджи.

Подписали: Ютаро Комура

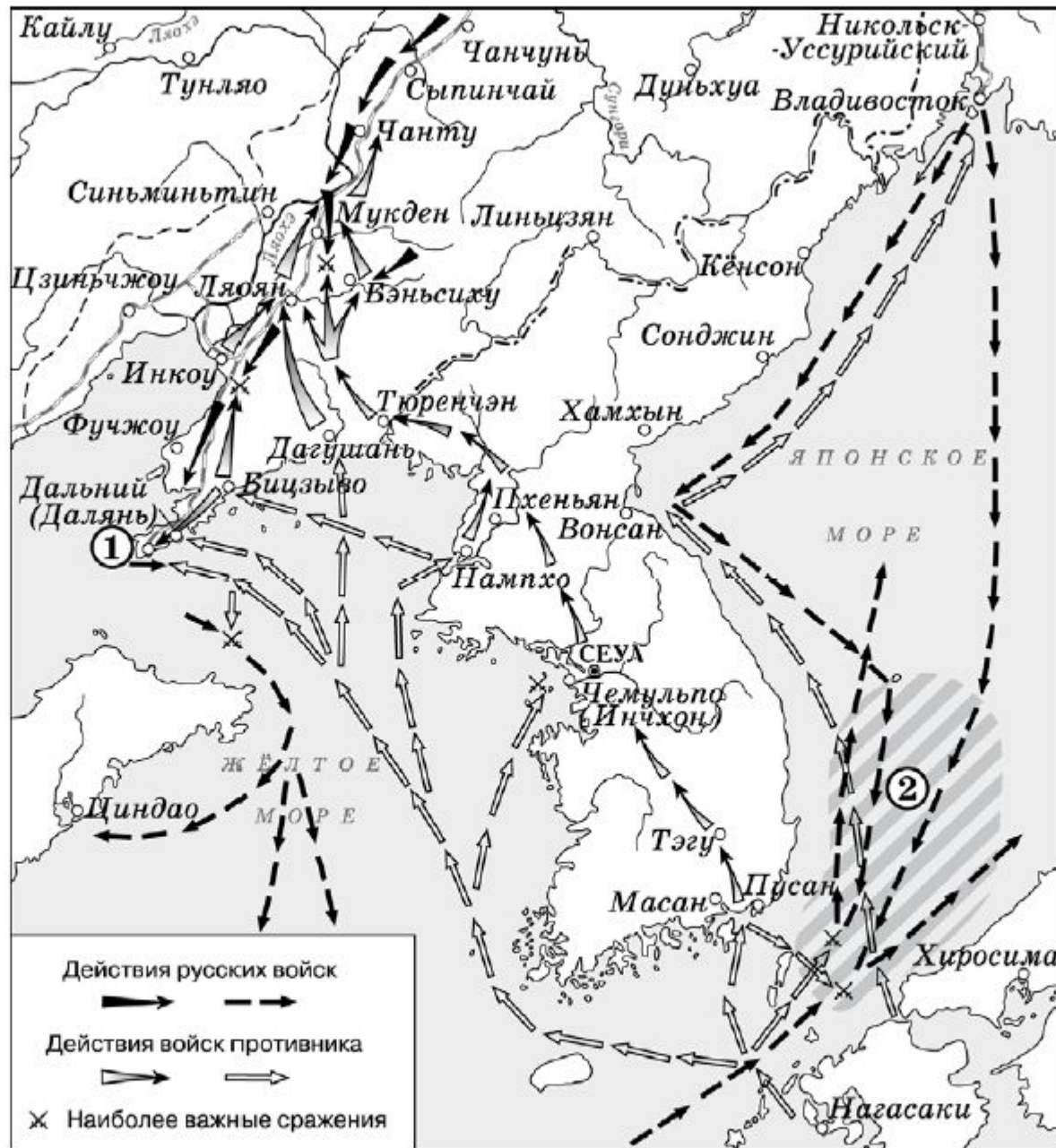
К. Такахара

Сергей Витте

Розен».

пятого (Портсмутский мир 1905 г.)

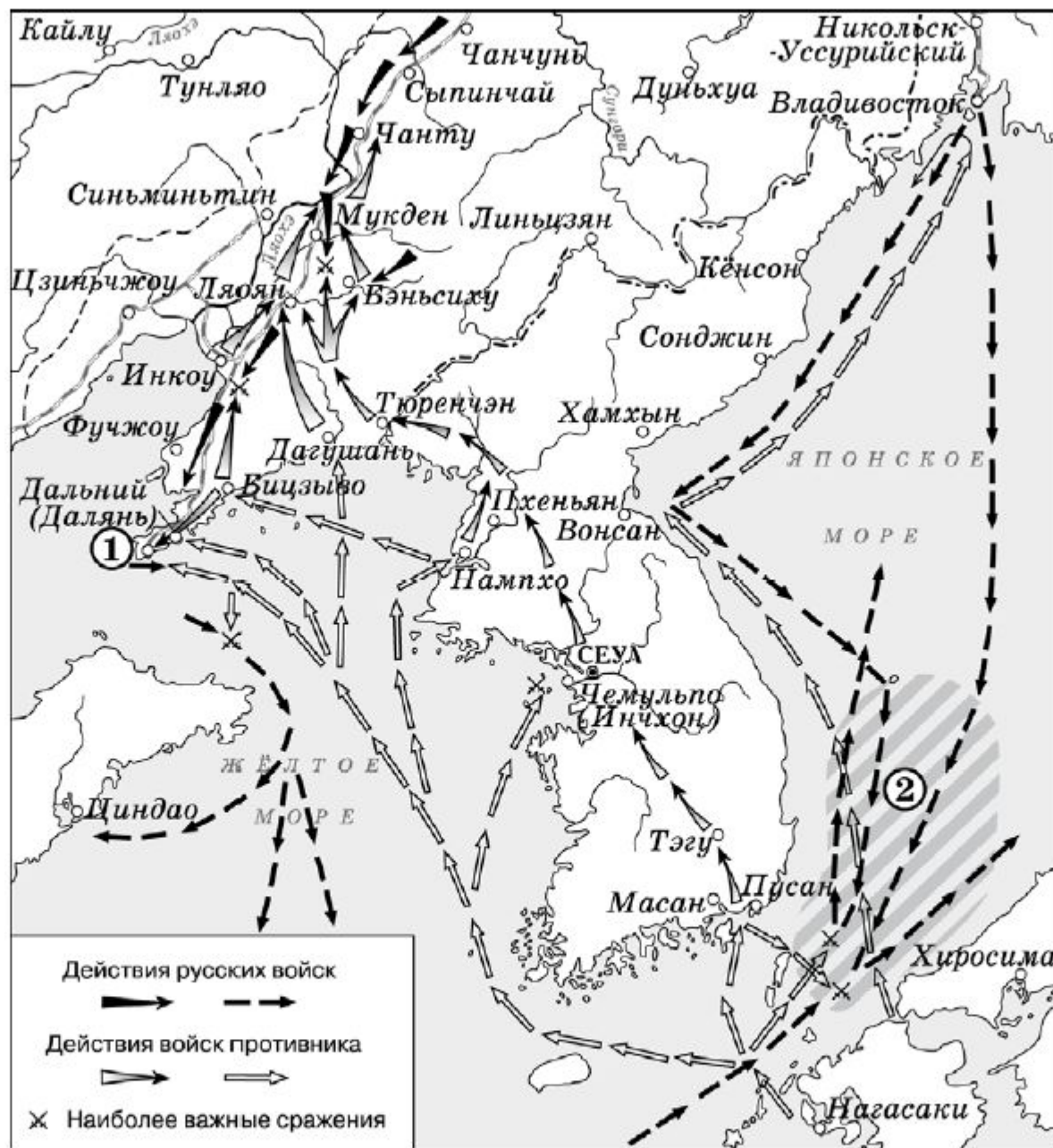
VI. Задания для работы с исторической картой



30.
Укажите название города, обозначенного на схеме цифрой «1».

Порт-Артур

VI. Задания для работы с исторической картой

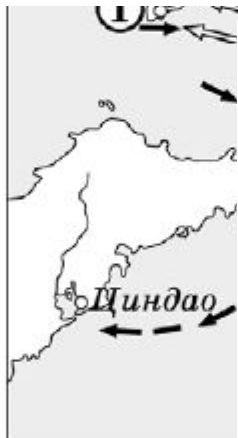
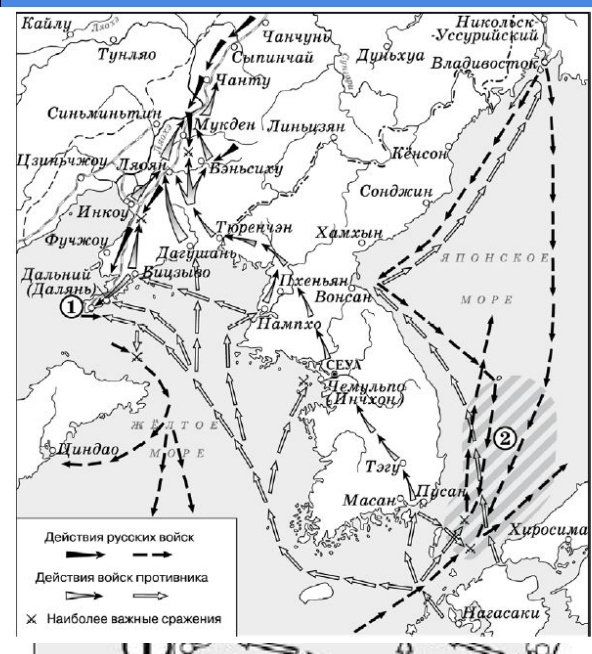


31.
Укажите название сражения, район которого заштрихован и обозначен цифрой «2».

Цусимское

VI. Задания для работы с исторической картой

32. Какие суждения, относящиеся к событиям, обозначенным на схеме, являются верными? Выберите три суждения из шести предложенных.



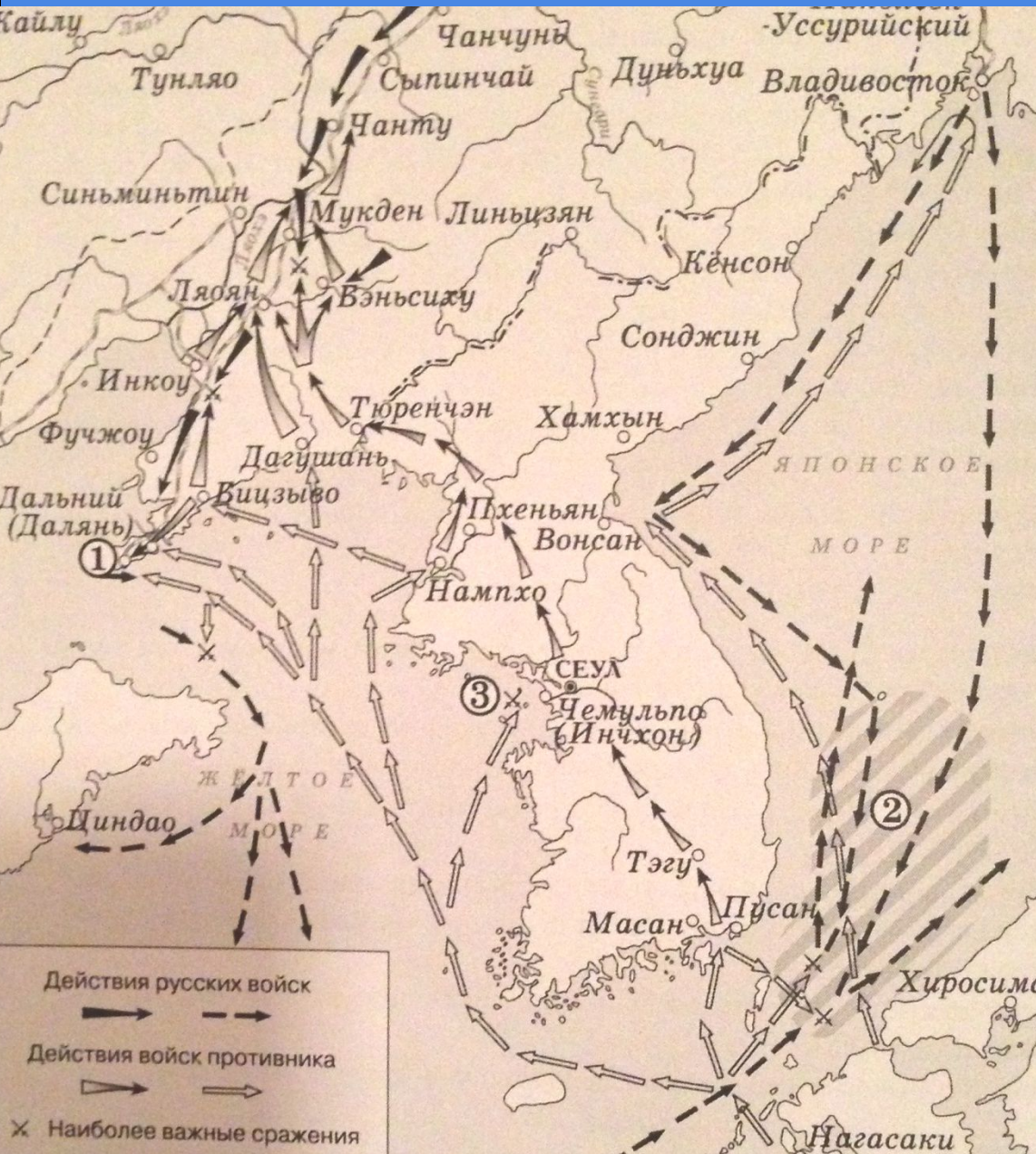
Действия рус
 Действия войск
 X Наиболее важные сражения

V11. Какие суждения, относящиеся к событиям, обозначенным на схеме, являются верными? Выберите три суждения из шести предложенных. Запишите в таблицу цифры, под которыми они указаны.

- 1) Одним из участников событий, изображенных на схеме, был адмирал С.О. Макаров.
- 2) В событиях, обозначенных на схеме, участвовали корабли Балтийского флота России.
- 3) Мирный договор по итогам войны, события которой обозначены на схеме, был подписан в Ништадте.
- 4) Боеприпасы и пополнение для русской армии в ходе войны, события которой обозначены на схеме, поставлялись по железной дороге.
- 5) В результате войны, события которой обозначены на схеме, Россия получила новые территории.
- 6) В ходе войны, события которой обозначены на схеме, союзницей России была Англия.



VI. Задания для работы с исторической картой

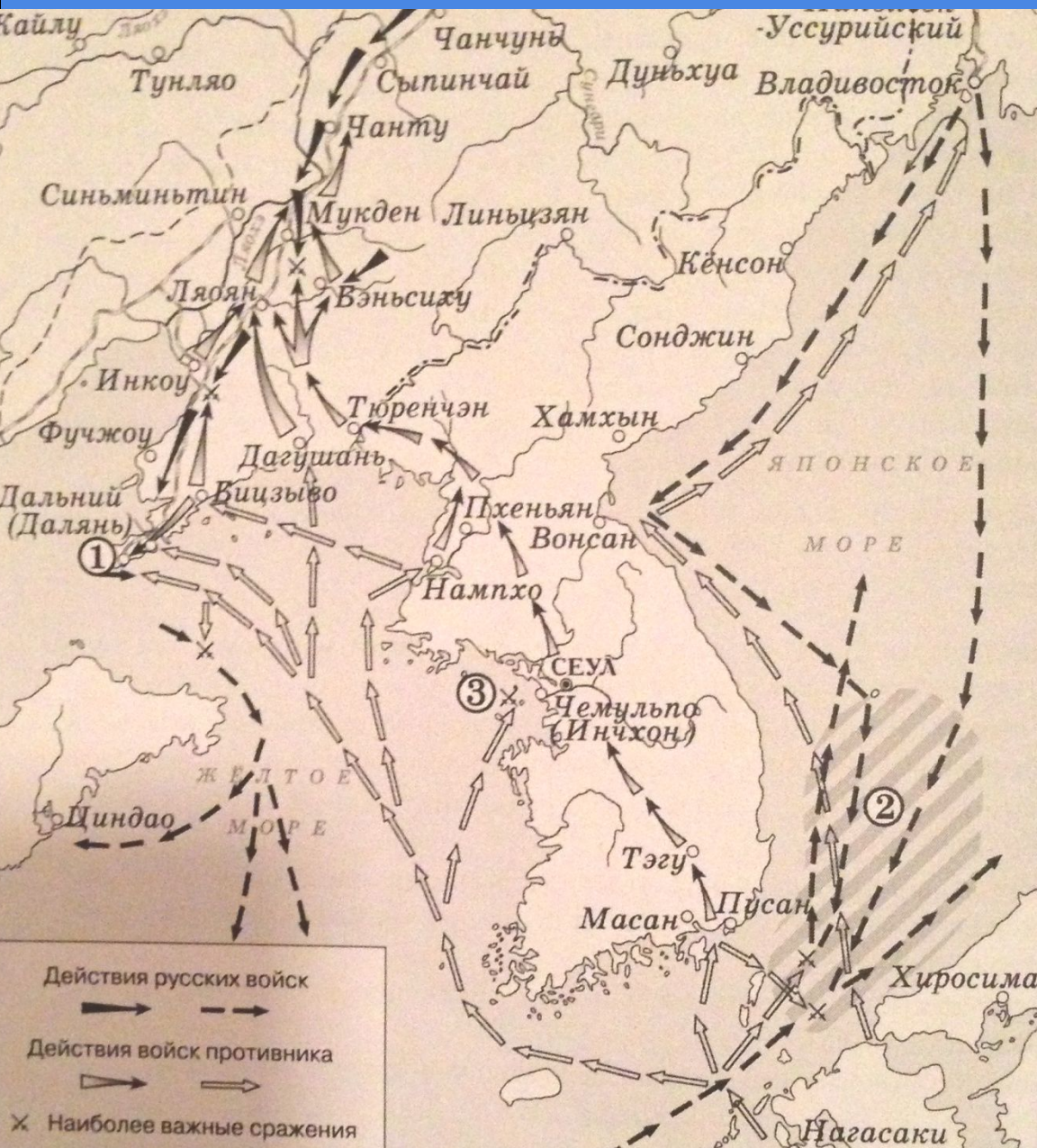


29.

Укажите название страны – противницы России в войне, боевые действия которой обозначены на схеме

Япония

VI. Задания для работы с исторической картой

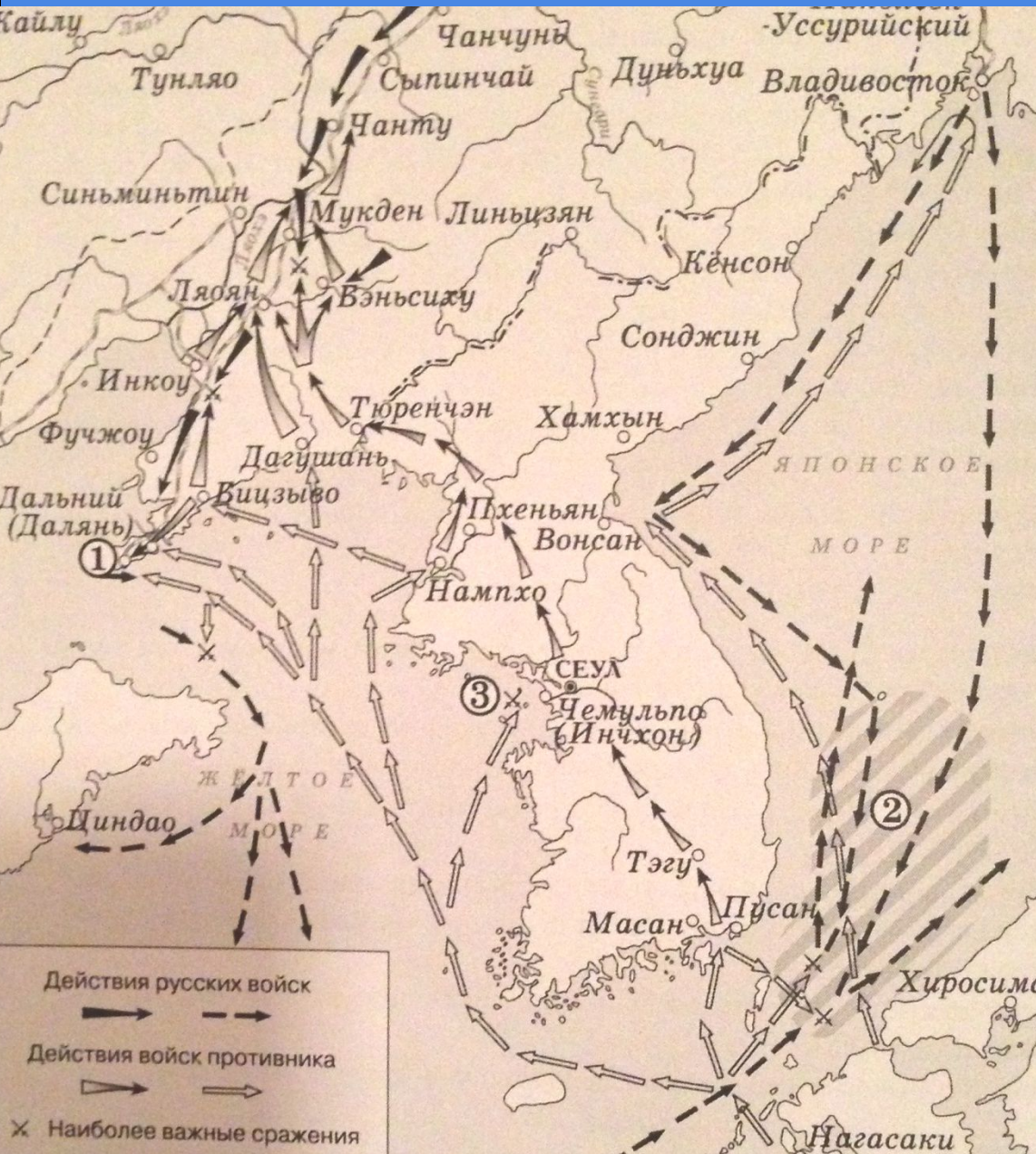


30.

Укажите название русского крейсера, вступившего в бой с превосходившими силами противника. Место сражения обозначено на схеме цифрой «3».

«Варяг»

VI. Задания для работы с исторической картой



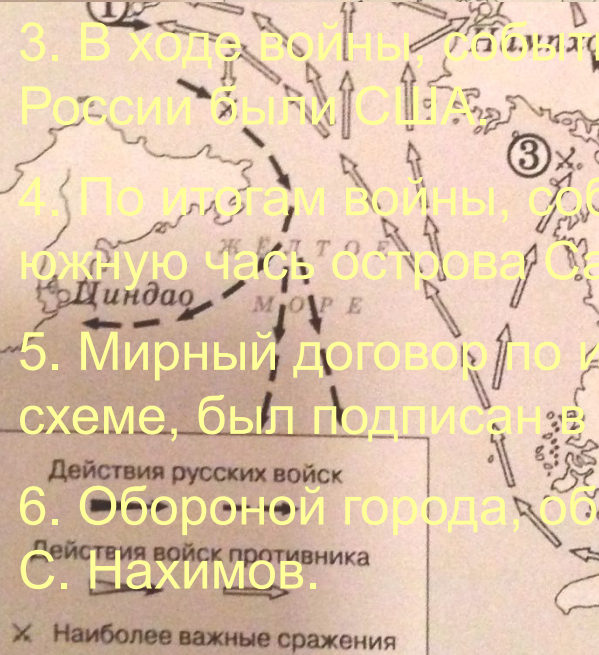
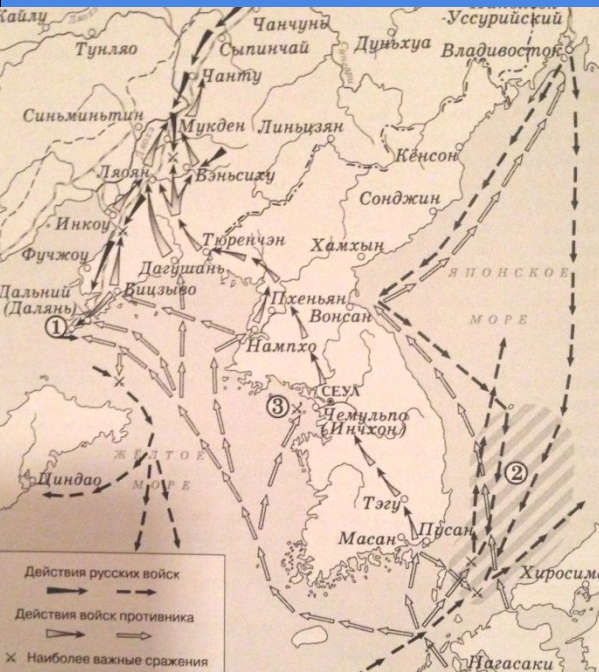
31.

Укажите название сражения, район которого заштрихован и обозначен цифрой «2».

Цусимское

VI. Задания для работы с исторической картой

32.



1. Город, обозначенный на карте цифрой «1», был отдан врагу в ходе войны.

2. По итогам войны, события которой обозначены на схеме, России пришлось выплатить контрибуцию.

3. В ходе войны, события которой обозначены на схеме, союзником России были США.

4. По итогам войны, события которой обозначены на схеме Россия потеряла южную часть острова Сахалин.

5. Мирный договор по итогам войны, события которой обозначены на схеме, был подписан в американском городе Портсмуте.

6. Обороной города, обозначенного на схеме цифрой «1», командовал П. С. Нахимов.





Какие суждения, связанные с изображением, которое Вы видите, являются верными? Выберите два суждения из пяти предложенных. Запишите в таблицу цифры, под которыми они указаны.


- 1) Война, в память о которой установлен изображённый обелиск, способствовала стабилизации внутривнутриполитической обстановки в России.
- 2) Следствием войны, в память о которой установлен изображённый обелиск, была утрата Россией всего острова Сахалин.
- 3) Сторонником развязывания данной войны был С.Ю. Витте.
- 4) В начале войны, в память о которой установлен изображённый обелиск, вражеские корабли попытались захватить русский крейсер и канонерскую лодку в корейском порту Чемульпо.
- 5) Участниками войны, в память о которой установлен изображённый обелиск, были Р.И. Кондратенко и С.О. Макаров.

Ответ:

Кто из представленных ниже русских поэтов был современником войны, в память о которой установлен изображённый обелиск? В ответе запишите цифру, под которой он указан.



Ответ: _____.



1. Какие страны изображены на данной карикатуре?
2. Какая страна была предметом раздела сфер влияния?
3. Чем эта страна была привлекательна для высокоразвитых стран?



Медаль учреждена 21 января 1906 г. Ею награждали всех лиц, находившихся постоянно или временно в Порт-Артуре с 12 мая 1904 г. до 20 декабря 1904 г.

Надпись «Да вознесет вас Господь в свое время» была начертана лично Императором Николаем II и является цитатой из библейского 1-го Соборного послания св. апостола Петра. В переводе на русский язык: «Итак смиритесь под крепкую руку Божию, да вознесет вас в свое время» (1 Пет 5, 6).