

A photograph of a medieval town with a large church tower and stone buildings. The church tower is prominent on the left side, featuring a tall, narrow structure with a pointed roof and several arched windows. The town is built on a hillside, with various stone buildings and walls visible. The sky is a clear, light blue. The overall scene depicts a well-preserved historical site.


Повторительно-
обобщающий урок-игра

*«Путешествие в
средневековый
город».*

Название каких ГОРОДОВ ВЫ ПОМНИТЕ?



Возникновение средневековых городов



**Перечислите
причины
возникновения
городов в
средневековой
Европе.**

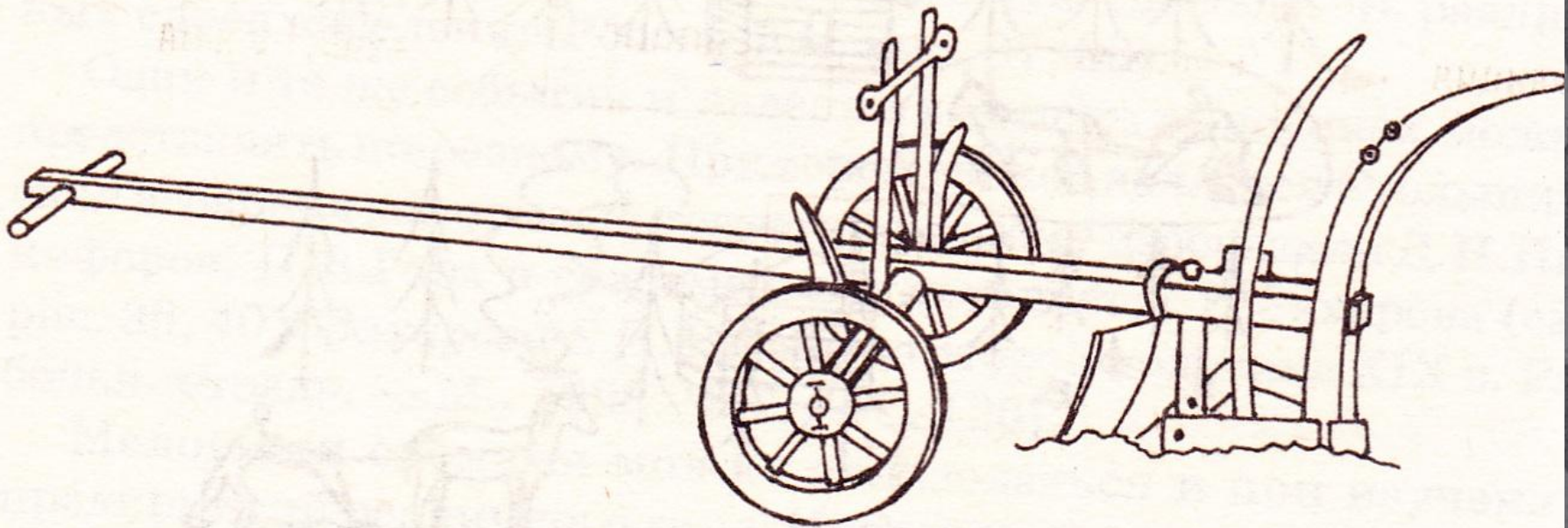
Причины возникновения городов:

1. Успехи в развитии хозяйства в 10 веке.

Назовите изобретения, которые стали использовать в хозяйстве.



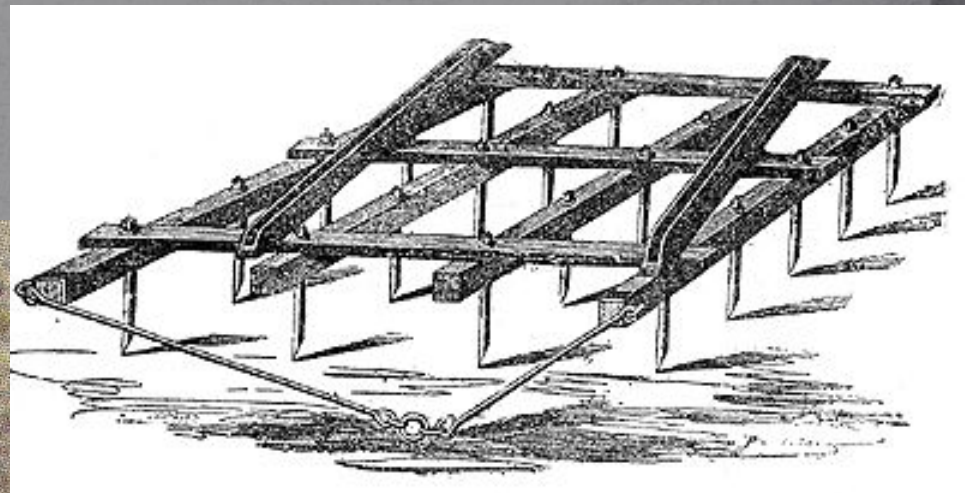

Новые изобретения: Тяжелый колесный плуг



✓ Ткацкий станок.




✓ Деревянная борона с железными зубьями.




✓ Хомут и подковы для лошадей.



Ветряные и водяные мельницы.



✓ Плавильная печь.



Причины

возникновения городов:

1. Успехи в развитии хозяйства в 10 веке.

2. Отделение ремесла от сельского хозяйства.





Где возникали новые города?

- У стен монастырей и замков феодалов;
- У речных переправ;
- У крепостей;
- На перекрестках дорог;
- Вблизи удобных морских гаваней.

УСЛОВНЫЕ ЗНАКИ



Новгород

Таллин

Псков

Москва

Висбю

3

2

Любек

Гамбург

Росток

Гданьск

Щецин

Лондон

Бремен

Брюгге

Брюссель

Магдебург

Прага

Краков

Киев

Париж

Франкфурт

Женева

Вена

Белгород

Кафа

Лион

Милан

5 Венеция

6 Генуя

4 Константинополь

Дубровник

Салоники

Лиссабон

Тоledo

Сарагоса

Севилья

1

Мессина

Задание 1

Выберите правильный ответ:

1. Если в названии средневекового города присутствует частица - бург, то скорее всего он вырос:

- А) из укрепленного места, крепости
- Б) близ монастыря
- В) близ переправы через реку

2. Если в названии средневекового города присутствует частица – сен или – сент, то скорее всего он вырос:

- А) близ монастыря
- Б) близ крепости
- В) близ переправы

3. Найдите лишнее.

Первые горожане стремились в города, чтобы найти в них:

- А) безопасность
- Б) условия для торговли
- В) суд сеньора

4. Представьте, что вы путешественник, прибывший в средневековый город. Рассмотрите рисунок - схему средневекового города. Что вы увидели в городе? Какие сооружения обозначены цифрами?



Задание .

2. Побывав в средневековом городе, вы заметили, что на зданиях в то время не было номеров. Как можно было найти нужный дом?



Города в борьбе за свободу.

Перечислите причины борьбы городов против сеньоров.

- Сеньоры брали большие налоги с горожан.
- Иногда сеньоры забирали у ремесленников понравившуюся продукцию.
- У купцов феодалы требовали заплатить различные пошлины.
- Сеньоры брали у купцов деньги «взаймы».



Задание 2. 1. Оцените утверждение:

«В борьбе с сеньорами города завоевали свободу. Свобода формировала людей, привыкших с уважением относиться к своим поступкам и обещаниям, нести ответственность за решения, которые им приходилось принимать.»

- А) утверждение верно;
- Б) утверждение неверно.

2. Установите связь между словами «ратуша», «бургомистр»:

- А) это разные названия городского совета;
- Б) городской совет, главой которого был бургомистр, заседал в ратуше;
- В) ратуша – это городской совет, который избирал бургомистра.

3. Выделите важнейшие признаки города – коммуны:

- А) были полностью свободны от власти сеньора;
- Б) имели собственные органы управления;
- В) признавали власть сеньора в судебных вопросах;
- Г) имели собственные законы;
- Д) чеканили собственную монету.

4. Выберите правильный ответ.

Человек, проживший в городе один год и один день:


- А) становился свободным;
- Б) подчинялся правилам, установленным городской хартией;
- В) выбирал себе сеньора.

Ремесло и торговля в средневековом городе.

1. Что такое ремесленная мастерская?
2. Кто работал в ремесленной мастерской?



3. Какие гербы были в ремесленных мастерских: оружейника, булочника, ювелирного мастера, сапожника, мастера по изготовлению замков, гончара, ткача?



Объясните выражение:

1. «Вечный подмастерье».

Если подмастерье, изучивший ремесло, не мог накопить денег и сделать шедевр, который давал ему право стать мастером, он продолжал работать за заработную плату у ремесленника.

2. «Мешок с перцем».

Европейцы торговали со странами Востока. Особенно прибыльной была торговля пряностями – перцем и другими приправами. Пряности продавались небольшими порциями, их ценили на вес золота. Очень богатого человека в насмешку называли «мешком с перцем».

3. «Городской воздух делает свободным».

Если лично зависимому крестьянину, убежавшему от своего господина, удавалось прожить в городе один год и один день, он становился свободным человеком.



Задание 3. Объясните смысл выражения:

«Что с возу упало – то пропало»:

А) Так говорили о хрупком товаре, который нужно было перевозить с особой осторожностью;

Б) Товар, упавший с купеческой подводы, считался собственностью владельца земли.



Задание 4.

1. Приведите в соответствие термины и определения:

Термины:

1. Мастер;
2. Шедевр;
3. Меняла;
4. Банк.

Определения:

- А) Учреждение, занимавшееся в средние века хранением, предоставлением в долг денег;
- Б) Полноправный член цеха;
- В) Образцовое изделие, которое подмастерье выполнял для того, чтобы стать мастером;
- Г) Человек, занимавшийся определением подлинности и размена монет.

2. Дать объяснение словам: *мастер, рынок, цех, ярмарка, пошлина, гильдия.*



**Цехи
способствовали
развитию ремесла.**

-

-

-

-

-

**Цехи задерживали
рост
промышленного
производства в
городах.**

-

-

-

-

-